

2017

الوحدة 1 : الطاقة والتغيرات الكيميائية

كيمياء 12م

أولاً : اكتب المصطلح العلمي بين القوسين :

- 1- (الطاقة) القدرة على بذل شغل أو إنتاج حرارة .
- 2- (قانون حفظ الطاقة) ينص على ((أنه في أي تفاعل كيميائي أو عملية فيزيائية يمكن أن تتحول الطاقة من شكل إلى آخر لكنها لا تستحدث أو تفتنى .
- 3- (طاقة الوضع الكيميائية) الطاقة المخزونة في الروابط الكيميائية للمادة .
- 4- (الحرارة) طاقة تنتقل من الجسم الساخن إلى الجسم الأبرد .
- 5- (السعير) كمية الحرارة اللازمة لرفع درجة حرارة 1 g من الماء 1°C .
- 6- (درجة الحرارة) قياس لمعدل الطاقة الحركية لجسيمات المادة .
- 7- (الجول) وحدة قياس الطاقة الحرارية حسب النظام الدولي SI .
- 8- (الحرارة النوعية) كمية الحرارة اللازمة لرفع درجة حرارة جرام واحد من المادة درجة سليزية واحدة 1°C .
- 9- (المسعر أو الكالوريمتر) جهاز معزول حرارياً يستخدم لقياس كمية الحرارة المنطلقة أو الممتصة خلال عملية كيميائية أو فيزيائية
- 10- (مسعر الاحتراق) نوع من المسعرات يستخدمه كيميائيو التغذية .
- 11- (الكيمياء الحرارية) علم يدرس تغيرات الحرارة التي ترافق التفاعلات الكيميائية وتغيرات الحالة الفيزيائية.
- 12- (النظام) جزء معين من الكون يحتوي على التفاعل أو العملية المراد دراستها .
- 13- (الكون) يتكون من النظام والمحيط معاً .
- 14- (المحتوى الحراري) مقدار الطاقة المخزنة في مول واحد من المادة تحت ضغط ثابت .
- 15- (التغير في المحتوى الحراري أو حرارة التفاعل) كمية الحرارة المنطلقة أو الممتصة في التفاعل الكيميائي .
- 16- (المعادلة الكيميائية الحرارية) معادلة كيميائية موزونة تتضمن الحالات الفيزيائية للمواد المتفاعلة والنتيجة والتغير في الطاقة .
- 17- (حرارة الاحتراق) المحتوى الحراري الناتج عن حرق 1 mol من المادة احتراقاً كاملاً .
- 18- (الحرارة المولية للتبخير) الحرارة اللازمة لتبخير 1mol من سائل .
- 19- (الحرارة المولية للانصهار) الحرارة اللازمة لصهر 1mol من مادة صلبة .
- 20- (قانون هس) ينص على أن : ((حرارة التفاعل أو التغير في المحتوى الحراري تتوقف على طبيعة المواد المتفاعلة والنتيجة وليس على الخطوات أو المسار الذي يتم فيه التفاعل .
- 21- (التآصل) ظاهرة شكل أو أكثر لعنصر بتراكيب وخصائص مختلفة عند الحالة الفيزيائية نفسها .
- 22- (حرارة التكوين القياسية) التغير في المحتوى الحراري الذي يرافق تكوين مول واحد من المركب في الظروف القياسية من عناصره في حالاتها القياسية .
- 23- (العملية التلقائية) أي تغيير فيزيائي أو كيميائي يبدأ في أي لحظة ويحدث دون أي تدخل خارجي .
- 24- (الإنتروبي S) قياس عدد الطرق التي يمكن أن يتم بها توزيع الطاقة عبر نظام ما . (أو هي مقياس الاضطراب أو العشوائية في نظام ما)
- 25- (القانون الثاني للديناميكا الحرارية) ينص على أن : ((العمليات التلقائية دائماً ما تستمر بالطريقة التي يزداد بها إنتروبي الكون)) .
- 26- (الطاقة الحرة G) الطاقة المتاحة للقيام بشغل . وهي دالة تربط بين التغير في المحتوى الحراري والتغير في الإنتروبي
- 27- (التغير في الطاقة الحرة) الفرق بين التغير في المحتوى الحراري للنظام ونتاج حاصل ضرب درجة الحرارة بالكلفن في التغير في الإنتروبي .

ثانياً : اختر الإجابة الصحيحة :

- *1- أي مما يلي يقيس معدل الطاقة الحركية لجسيمات عينة من مادة :
الكيمياء الحركية الكيمياء الحرارية سرعة التفاعلات درجة الحرارة
- *2- أي مما يلي يعبر عن حرارة احتراق مادة :
- تعرف بدلالة مول واحد من الناتج
- جميع المواد تكون في حالتها القياسية
- تعرف بدلالة مول واحد من المتفاعل
- تعبر عن الطاقة الممتصة

*3- أي مما يلي يعبر عن حرارة تكوين مادة :

- تعرف بدلالة مول واحد من المتفاعل
- تعبر عن الطاقة الممتصة

- تعرف بدلالة مول واحد من الناتج
- جميع المواد تكون في حالتها القياسية

4- تزداد الطاقة الحركية لجسيمات عينة مادة عند :

رفع درجة الحرارة تثبيت درجة الحرارة

5- باي وحدات يعبر عن الحرارة ؟

kJ / mol* kJ* °C* K*

6- التفاعل الماص للحرارة :

* له تغير محتوى حراري موجب * ليس له تغير محتوى حراري * له تغير محتوى حراري سالب * له تغير محتوى حراري موجب وسالب

*7- كمية الحرارة اللازمة لرفع درجة حرارة (1g) من مادة (1°C) تسمى :

الحرارة النوعية - الطاقة الحرارية - السعة الحرارية - حرارة التكوين

*8- أي المعادلات التالية تمثل تكون مول واحد من $B_5H_9(g)$ من عناصره في حالتها القياسية عند درجة حرارة 298K وضغط 1.0atm :

*9- أي مما يلي يقلل الطاقة الحركية لجسيمات عينة مادة ما ؟

* خفض درجة الحرارة * رفع درجة الحرارة * تثبيت درجة الحرارة * اكتساب العينة طاقة على شكل حرارة

10^N- معتمداً على التفاعل : $2H_2(g) + O_2(g) \longrightarrow 2H_2O(g) + 483.6 \text{ kJ}$ ما قيمة الطاقة (kJ) المنطلقة من تكون 0.25 mol من بخار الماء ؟

60.45 * 120.9 * 241.8 * 483.6 *

11^N- أي من العبارات التالية تنطبق على التفاعل : $\Delta H = -722 \text{ kJ}$ ، $2S(g) + 3O_2(g) \longrightarrow 2SO_3(g)$ ،

* التفاعل ماص للحرارة * حرارة تكوين SO_3 = حرارة التفاعل

* حرارة تكوين SO_3 = حرارة احتراق S * حرارة احتراق S = حرارة التفاعل

12^o- ما الطاقة (J) التي يمتصها 20 g من الذهب على صورة حرارة إذا سخنت من درجة حرارة 25°C إلى 35°C (علماً أن الحرارة النوعية للذهب = 0.43 J/g. °C) ؟

215- * 301 * 215 * 86 *

13^o- عينة من الجليد كتلتها (2.5 g) سخنت بحيث ارتفعت درجة حرارتها بمقدار (10 K) فإذا كانت كمية الحرارة المكتسبة (50 J) فما الحرارة النوعية (J / g . K) للجليد ؟

2.0 * 1.75 * 1.5 * 1.0 *

14- تعتمد كمية الطاقة المنتقلة على شكل حرارة أثناء تغير درجة الحرارة ما بين مادة وأخرى على :

* كتلة المادتين المعنيتين * نوع المادتين المعنيتين * مقدار تغير درجة الحرارة * جميع ماسبق

15- المركبات التي لها حرارة تكوين ذات قيمة سالبة عالية :

* لا توجد * تتحل بسهولة * غير مستقرة جداً * عالية الاستقرار

16- المركب الذي يكون غير مستقر ويتفكك بشدة يكون له حرارة تكوين :

* صغيرة وسالبة * كبيرة وسالبة * صغيرة و موجبة * كبيرة وموجبة

17- أي مما يلي غير قابل للقياس بشكل مباشر :

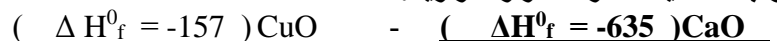
* حرارة التكوين * المحتوى الحراري * حرارة الاحتراق * تغير المحتوى الحراري

18- أي العبارات التالية صحيحة فيما يتعلق بالشكل المقابل :

* التفاعل ماص للحرارة * قيمة ΔH للتفاعل العكسي سالبة

* التفاعل الأمامي يمثل حرارة تكوين CO_2 * المحتوى الحراري للنواتج أكبر من المتفاعلات

19- أي المركبات التالية الأكثر استقراراً حرارياً :



20- أي مما يلي يصف حرارة تكوين المركب الأقل استقراراً ويتفكك بسهولة ؟

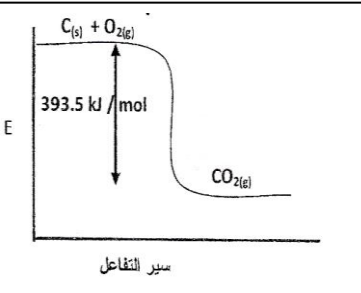
* صغيرة وسالبة * كبيرة وموجبة * صغيرة وموجبة * كبيرة وسالبة

21- أي الغازات الآتية الأكثر استقراراً اعتماداً على قيم حرارة التكوين المعطاة (بـ kJ/mol) ؟



22-# أي مما يلي غير قابل للقياس بشكل مباشر ؟

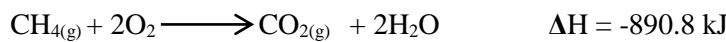
* حرارة التكوين * المحتوى الحراري * حرارة الاحتراق * تغير المحتوى الحراري



- 23-# اعتماداً على حرارة التكوين (kJ/mol) أي المركبات التالية الأقل استقراراً ؟
 $C_6H_6(l) (+49.1) *$ $NO_2(g) (+33.2) *$ $Ag_2S_3(s) (-32.6) *$ $CuSO_4(aq) (+90.29) *$
- 24- إذا علمت أن حرارة تكوين المركب X هي 612 kJ/mol - وحرارة تكوين الناتج الوحيد من احتراقه هي 671 kJ/mol - فما حرارة احتراق المركب X ؟
 -59 * -1283 * +1283 * +59 *
- 25- إذا علمت أن المحتوى الحراري لنواتج تفاعل يساوي 458 kJ/mol ، والمحتوى الحراري للمتفاعلات 658 kJ/mol فأي العبارات التالية صحيحة :
 * النواتج أكثر استقراراً والتفاعل طارد للحرارة
 * المتفاعلات أكثر استقراراً والتفاعل طارد للحرارة
 * النواتج أكثر استقراراً والتفاعل ماص للحرارة
 * المتفاعلات أكثر استقراراً والتفاعل ماص للحرارة
- 26- ماذا يسمى معدل الطاقة الحركية لجسيمات عينة من المادة ؟
 * درجة الحرارة * الحرارة
- 27 - إذا علمت أن حرارة تكوين المركب X هي 110.5 kJ/mol - وحرارة تكوين الناتج الوحيد من احتراقه هي 393.5 kJ/mol - فما حرارة احتراق المركب X (kJ/mol) ؟
 -504.0 * -283.0 * +283.0 * +504.0 *
- 28- N افتراض أن تفاعل كيميائي يتكون من مجموع تفاعلين آخرين ، فإذا كانت قيمتا ΔH للتفاعلين 658 kJ و 458 kJ فما قيمة ΔH (kJ) للتفاعل الناتج عن جمعهما ؟
 -1116 * -200 * +1116 * +200 *
- 29- ما اسم الطاقة المنطلقة أو الممتصة على صورة حرارة عندما ينتج مول واحد من مركب باتحاد عناصره ؟
 * الطاقة الحرارية * طاقة التنشيط * حرارة التكوين * حرارة الاحتراق
- 30- n- ماذا يطلق على كمية الطاقة المنطلقة أو الممتصة على صورة حرارة خلال التفاعل الكيميائي ؟
 * حرارة التفاعل * حرارة التكوين * طاقة التنشيط * طاقة المعقد المُنشط

ثالثاً: علل ما يلي :

- 1- في التفاعل : $C(s) + O_2(g) \longrightarrow CO_2(g)$ ، حرارة تكوين $CO_2(g)$ تساوي حرارة احتراق $C(s)$ لأنه يحترق مول واحد من C احتراقاً كاملاً ويكون مول واحد من CO_2 من عناصره في حالتها القياسية
- 2- في التفاعلات الطاردة تكون قيم ΔH سالبة . لأن المحتوى الحراري للمتفاعلات أكبر من المحتوى الحراري للنواتج ويظهر الفرق على صورة طاقة منطلقة .
- 3- في التفاعل : $KOH(aq) + HNO_3(aq) \longrightarrow KNO_3(aq) + H_2O(l)$ ، لا تمثل حرارة التفاعل حرارة التكوين المولية للماء . لأن الماء لم يتكون من عناصره الأساسية
- 4- لا تعتبر حرارة التفاعل : $2H_2(g) + O_2(g) \longrightarrow 2H_2O(g) + 483.6 \text{ kJ}$ ، حرارة تكوين الماء . لأن المتكون من الماء 2mol ويجب أن يكون 1 mol
- 5- في التفاعل : $CO_2(g) + 283 \text{ kJ} \longrightarrow CO(g) + 1/2 O_2(g)$ لا تعتبر الحرارة الناتجة حرارة تكوين CO_2 لأن CO_2 لم يتكون من عناصره الأساسية
- 6- كمية الطاقة الممتصة من جزيئات الماء لتكوين الهيدروجين والأكسجين تساوي كمية الطاقة المنطلقة لدى اتحاد الهيدروجين والأكسجين لتكوين الماء . لأن التغير في المحتوى الحراري ثابت ولم يتغير .
- 7- ثاني أكسيد الكربون أكثر استقراراً من العناصر المكونة له . لأن حرارة تكوين ثاني أكسيد الكربون أقل من حرارة تكوين عناصره
- 8- اختلاف الحرارة النوعية باختلاف حالات الماء الثلاث . لاختلاف القوى البينية بين جزيئات الماء في كل حالة من حالاته الثلاث .
- 9- موظفاً المعادلتين التاليتين :



تتساوى قيمة حرارة تكوين CO_2 وحرارة احتراق الكربون في حين لا ينطق ذلك على حرارة احتراق الميثان . لأن التفاعل الأول يوضح احتراق مول واحد من C وتكوين مول واحد من CO_2 من عناصره في حالتها القياسية ، بينما في التفاعل الثاني لا يبين تكوين CO_2 من عناصره الأساسية

رابعاً : أجب عما يلي :

- 1- قارن بين المحتوى الحراري للنواتج والمتفاعلات في حالة التفاعلات الماصة والطاردة للحرارة . في الطارد يكون المحتوى الحراري للمتفاعلات أكبر من النواتج ، في الماص يكون المحتوى الحراري للنواتج أكبر من المتفاعلات
- 2- ما الفرق بين درجة الحرارة والحرارة . درجة الحرارة : هي قياس لمعدل الطاقة الحركية لجسيمات المادة . الحرارة : هي صورة للطاقة تنتقل من الجسم الساخن إلى الجسم البارد

1- المواد التالية تبعاً لاستقرارها اعتماداً على قيم ΔH_f^0 (KJ / mol) :
 ($\Delta H_f^0 = -361.8$) $\text{NaBr}_{(s)}$ ، ($\Delta H_f^0 = -36.29$) $\text{HBr}_{(g)}$ ، ($\Delta H_f^0 = +82.88$) $\text{C}_6\text{H}_6_{(g)}$ ، ($\Delta H_f^0 = +49.08$) $\text{C}_6\text{H}_6_{(l)}$
 الترتيب : $\text{NaBr}_{(s)}$ ثم $\text{HBr}_{(g)}$ ثم $\text{C}_6\text{H}_6_{(l)}$ ثم $\text{C}_6\text{H}_6_{(g)}$

2- المواد التالية تبعاً لاستقرارها اعتماداً على قيم ΔH_f^0 (KJ / mol) :
 ($\Delta H_f^0 = +90.29$) NO ، ($\Delta H_f^0 = -110.5$) CO ، ($\Delta H_f^0 = -45.9$) NH_3 ، ($\Delta H_f^0 = +33.2$) NO_2
 الترتيب : CO ثم NH_3 ثم NO_2 ثم NO

3- الصيغ التالية حسب استقرارها وثباتها مستعينا بقيم حرارة التكوين القياسية بـ (kJ/mol) :
 $\text{NO}_{2(g)}$ - $\text{CH}_{4(g)}$ - $\text{CO}_{2(g)}$ - $\text{O}_{3(g)}$
 +33.2 -74.3 -393.5 +192.7
 الترتيب : $\text{CO}_{2(g)}$ ثم $\text{CH}_{4(g)}$ ثم $\text{NO}_{2(g)}$ ثم $\text{O}_{3(g)}$

4- المركبات التالية حسب استقرارها حرارياً مستعينا بقيم حرارة التكوين القياسية بـ (kJ/mol) :
 $\text{NO}_{2(g)}$ - $\text{HCOOH}_{(aq)}$ - $\text{H}_2\text{SO}_{4(aq)}$ - $\text{C}_6\text{H}_6_{(g)}$
 +33.2 -410 -907 +82.9
 الترتيب : $\text{H}_2\text{SO}_{4(aq)}$ ثم $\text{HCOOH}_{(aq)}$ ثم $\text{NO}_{2(g)}$ ثم $\text{C}_6\text{H}_6_{(g)}$

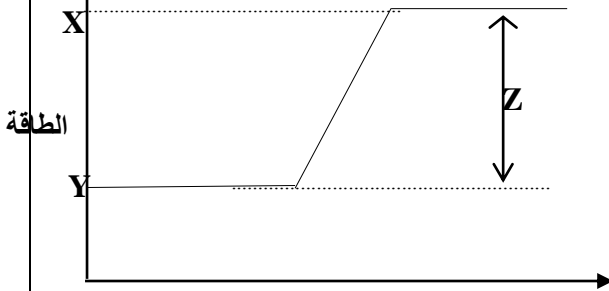
5- المركبات التالية تبعاً لاستقرارها اعتماداً على قيم ΔH_f^0 (KJ / mol) :
 $\text{CaO}_{(s)}$ - $\text{C}_2\text{H}_2_{(g)}$ - $\text{NO}_{2(g)}$ - $\text{CuO}_{(s)}$
 -635 +228 +82 -175
 الترتيب : $\text{CaO}_{(s)}$ ثم $\text{CuO}_{(s)}$ ثم $\text{NO}_{2(g)}$ ثم $\text{C}_2\text{H}_2_{(g)}$

6- المركبات التالية تبعاً لاستقرارها اعتماداً على قيم ΔH_f^0 (KJ / mol) :
 $\text{C}_2\text{H}_2_{(g)}$ - CO_2 - HF - H_2O
 +226.7 -393.5 +26.6 -285.8
 الترتيب : CO_2 ثم H_2O ثم HF ثم $\text{C}_2\text{H}_2_{(g)}$

7- رتب تصاعدياً المواد التالية تبعاً لاستقرارها اعتماداً على قيم ΔH_f^0 (kJ/mol) :
 NaBr - C_6H_6 - HBr - NO_2
 -360.8 82.88 -36.29 33.2
 الترتيب : NaBr ثم HBr ثم NO_2 ثم C_6H_6

سادساً :

1- فيما يلي رسم منحنى تفاعل كيميائي حراري وعليه النقاط الثلاث X , Y , Z ادرسه وأجب عما يليه :
 - ماذا تمثل النقاط :



X : المحتوى الحراري للنواتج

Y : المحتوى الحراري للمتفاعلات

Z : التغير في المحتوى الحراري

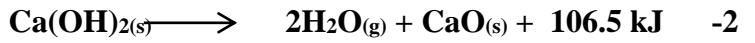
- توقع نوع التفاعل طارد / ماص ؟ برر إجابتك .
 ماص ، لأن المحتوى الحراري للنواتج أعلى من المحتوى
 الحراري للمتفاعلات

2- أكمل الجدول التالي بوضع إشارة (√) لمعادلة التي تمثل ΔH حرارة تكوين أو حرارة احتراق أو حرارة التفاعل

التفاعل	حرارة تكوين	حرارة احتراق	لا تمثل أي منها
$\text{CH}_4_{(g)} + 2\text{O}_2_{(g)} \longrightarrow \text{CO}_2_{(g)} + 2\text{H}_2\text{O}_{(l)}$, $\Delta H^\circ = -890.8 \text{ kJ}$		√	
$\text{C}_{(s)} + \text{O}_2_{(g)} \longrightarrow \text{CO}_2_{(g)}$, $\Delta H^\circ = -393.5 \text{ kJ}$	√	√	
$2\text{H}_2_{(g)} + \text{O}_2_{(g)} \longrightarrow 2\text{H}_2\text{O}_{(g)}$, $\Delta H^\circ = -571.6 \text{ kJ}$			√
$2\text{S}_{(s)} + \text{C}_{(s)} \longrightarrow \text{CS}_2_{(g)}$, $\Delta H^\circ = -88 \text{ kJ}$	√		
$\text{CO}_{(g)} + 1/2\text{O}_2_{(g)} \longrightarrow \text{CO}_2_{(g)}$, $\Delta H^\circ = -283 \text{ kJ}$		√	
$2\text{Fe}_{(s)} + 3/2\text{O}_2_{(g)} \longrightarrow \text{Fe}_2\text{O}_3_{(s)}$, $\Delta H^\circ = -850 \text{ kJ}$	√		

الأسئلة التي تليها :

3- تأمل كلاً من الشكلين والتفاعلين التاليين وأجب عن

- أي الشكلين يمثل المعادلة رقم (2) ؟ A- لا تمثل ΔH في التفاعل الأول حرارة تكوين بخار الماء ، فسر ذلك .
لأن المتكون من الماء ليس مول واحد- في التفاعل الثاني إذا تكون الماء السائل بدلاً من بخار الماء .
ماذا تتوقع لقيمة ΔH مع التفسير ؟تزداد ، لأن تكون بخار الماء يحتاج لطاقة يستمدّها من حرارة التفاعل- في الشكل A تكون المواد الناتجة أكثر استقراراً من المواد المتفاعلة . فسر ذلك .
لأن المحتوى الحراري لها أقل .مسائل على تحويل وحدات الطاقة :1- إذا كانت وجبة إفطار مكونة من الحبوب وعصير البرتقال والحليب ، تحتوي على 230 Cal من الطاقة ،
عبّر عن هذه الطاقة بوحدة الجول J .

2- احتراق 1 mol من الإيثانول يطلق 326.7 Cal من الطاقة . ما مقدار هذه الكمية بوحدة kJ .

3- يطلق تفاعل طارد للطاقة 86.5 kJ من الحرارة . ما مقدار الحرارة التي أطلقت بوحدة Cal .

4- كم جولاً من الطاقة يتم امتصاصه في عملية يمتص خلالها 0.5720 kcal من الطاقة .

مسائل على الحرارة النوعية :1- الحرارة النوعية للفضة (0.234 J/(g.°C) . احسب كمية الطاقة اللازمة لرفع درجة حرارة 175 g من الفضة من درجة حرارة 22.5°
C إلى 40.0 °C .
(الجواب : 717 J)

2- ما كتلة عينة تمتص طاقة 32 J عندما تسخن من 1 °C إلى 41 °C ، ولها حرارة نوعية تساوي (0.20 J/(g. °C) ؟
(الجواب : 4.0 g)

3- سخنت عينة من الحديد ، كتلتها 4.0 g ، من درجة حرارة 0°C إلى 20°C ، وامتصت 35.2 J من الطاقة على صورة حرارة .
ما الحرارة النوعية لهذه القطعة من الحديد ؟
(الجواب : 0.44 J/(g.°C)

*4- احسب الطاقة اللازمة لرفع درجة حرارة (180.0 g) من الماء (10.0 °C) إلى (40.0 °C) ، علماً بأن الحرارة النوعية للماء (4.18 J/g . °C) .
(الجواب: 22572 J)

#5- احسب الحرارة النوعية لعينة من مادة كتلتها (70 g) تمتص كمية (69 J) من الطاقة عند تسخينها من 293 K إلى 313 K
(الجواب: 0.05 J/g . K)

www.almanahj.com

6- احسب C_p لمعدن الإندسيوم In علماً بأن $1.0 mol$ منه يمتص $53 J$ عندما ترتفع درجة حرارته من $297.5 K$ إلى $299.5 K$
(الجواب: $26.5 J/mol . K$)

7- إذا أضيف $3.5 kJ$ من الطاقة إلى عينة من حديد كتلتها $28.2 g$ عند درجة حرارة $20.0 °C$ ، فما الحرارة النهائية للحديد بالكلفن.
علماً بأن الحرارة النوعية للحديد = $0.449 J/(g.K)$
(الجواب: $570 K$)

8- إذا أضيف $980 kJ$ من الطاقة إلى $6.2 L$ من الماء عند درجة حرارة $291 K$ ، فما درجة الحرارة النهائية للماء
(علماً بأن : الحرارة النوعية للماء = $4.18 J/g .K$ ، وكثافة الماء = $1 g/cm^3$)
(الجواب: $329 K$)

9* - إذا أُضيف 340 kJ من الطاقة إلى 1.7 L من الزيت عند درجة حرارة 293 K ، فما درجة الحرارة النهائية للزيت ؟
(علماً بأن : الحرارة النوعية للزيت = 0.140 J/g .K ، وكثافة الزيت السائل = 13.60 g/cm³)

(الجواب: 398 K)

10- إذا ارتفعت درجة حرارة 34.4 g من الإيثانول من 25°C إلى 78.8 °C ، فما كمية الحرارة التي امتصها الإيثانول ؟ (الحرارة النوعية للإيثانول = 2.44 J/g.°C)

(الجواب : 4.52×10^3 J)

11- سخنت عينة من مادة مجهولة كتلتها 155 g فارتفعت درجة حرارتها من 25°C إلى 40 °C فامتصت 5696 J من الطاقة . ما الحرارة النوعية للمادة ؟
(الجواب : 2.45 J/g.°C)

12- قطعة من الذهب النقي تحتوي على 0.023mol ، امتصت 276 J من الحرارة ، وكانت درجة حرارتها الأولية 25°C . ما درجة حرارتها النهائية ؟ (الحرارة النوعية للذهب = 0.129 J/g.°C ، Au = 197 g/mol)
(الجواب: 500 °C)

www.almanhaj.com

13- إذا أُضيف 340 kJ من الطاقة إلى 1.7 L من الزيت عند درجة حرارة 25°C ، فما درجة الحرارة النهائية للزيت ؟

(علماً بأن : الحرارة النوعية للزيت = 0.140 J/g .°C ، وكثافة الزيت السائل = 13.60 g/cm³)

(الجواب: 130 °C)

14- تم ملء حوض سباحة 12.5 m × 20 m بالماء إلى عمق 3.75 m فإذا كانت درجة حرارة ماء الحوض الابتدائية 18.40 °C فما كمية الحرارة اللازمة لرفع درجة حرارته إلى 29.0 °C ؟
(كثافة الماء = 1 g/ml و الحرارة النوعية للماء = 4.184 J/g .°C) (الجواب: 4.16×10^{10} J)

أجب عما يلي : ، 1301.1 kJ/mol

1- إذا كانت حرارة احتراق غاز الأستيلين C_2H_2 تساوي -


أ - اكتب المعادلة الكيميائية الموزونة للاحتراق التام لـ C_2H_2 .

ب - إذا تفاعل 0.25 mol من C_2H_2 بحسب المعادلة في (أ) فما الطاقة المنطلقة من هذا التفاعل ؟ (الجواب : 325 kJ)

ج - كم جراماً من C_2H_2 يلزم التفاعل ، بحسب المعادلة في (أ) لإطلاق طاقة 3900 kJ ؟ (الجواب : 78.1 g)

2- احسب التغير في المحتوى الحراري خلال عملية إنتاج الحديد من خلال توظيف قيم ΔH_f^0

لأكسيد الحديد (III) وثاني أكسيد الكربون وكانت على الترتيب -824.2 kJ/mol ، -393.5 kJ/mol +



(الجواب : 467.9 kJ)

3- احسب ΔH للتفاعل التالي : $2\text{Al} + \text{Fe}_2\text{O}_3 \longrightarrow 2\text{Fe} + \text{Al}_2\text{O}_3$

علماً بأن حرارة التكوين (بـ kJ/mol) تساوي $\text{Al}_2\text{O}_3 = -1676$ و $\text{Fe}_2\text{O}_3 = -826$

(الجواب : -850 kJ)

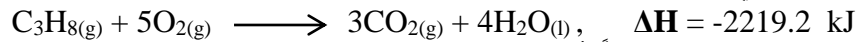
www.almanahj.com

4- احسب حرارة التفاعل التالي إذا علمت أن قيم ΔH_f^0

$\text{CaCO}_3(\text{s}) = -1207.6 \text{ kJ/mol} = \Delta H_f^0$ و $\text{CO}_2(\text{g}) = -393.5 \text{ kJ/mol} = \Delta H_f^0$ و $\text{CaO}(\text{s}) = -634.9 \text{ kJ/mol} = \Delta H_f^0$

والتفاعل التالي : $\text{CaCO}_3(\text{s}) \longrightarrow \text{CaO}(\text{s}) + \text{CO}_2(\text{g})$ (الجواب : 179.2 kJ)

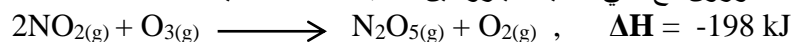
*5- التفاعل التالي يمثل عملية احتراق غاز البروبان :



احسب ΔH_f للبروبان علماً بأن $\text{H}_2\text{O}(\text{l}) = -285.8 \text{ kJ/mol} = \Delta H_f^0$ و $\text{CO}_2(\text{g}) = -393.5 \text{ kJ/mol} = \Delta H_f^0$

(الجواب : -104.5 kJ)

*6- يتفاعل الأوزون مع ثاني أكسيد النيتروجين حسب المعادلة التالية :



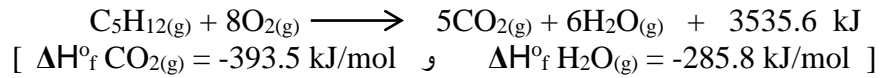
[$\Delta H_f^0 = +11 \text{ kJ/mol}$ لـ N_2O_5 ، $\Delta H_f^0 = 143 \text{ kJ/mol}$ لـ O_3]

(الجواب : $+33 \text{ kJ/mol}$)

- احسب ΔH_f لثاني أكسيد النيتروجين

7- احسب حرارة تكوين الهكسان C_6H_{14} إذا علمت أن حرارة احتراقه $= -4163.2 \text{ kJ/mol}$:
 وأن : [$\Delta H_f^0 H_2O(l) = -285.8 \text{ kJ/mol}$ و $\Delta H_f^0 CO_2(g) = -393.5 \text{ kJ/mol}$] (الجواب : -198.4 kJ/mol)

8- بالاعتماد على التفاعل التالي :

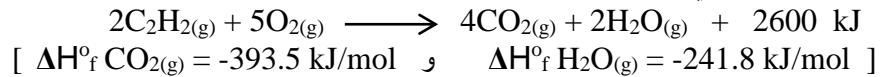


(الجواب : -146.7 kJ/mol)

- احسب حرارة تكوين البنتن ($C_5H_{12}(g)$)

- في ضوء البيانات التي لديك ، برر استخدام البنتن كوقود .

9- بالاعتماد على التفاعل التالي :




(الجواب : 271.2 kJ/mol)

- احسب حرارة تكوين غاز الأسيتيلين .

www.almanahj.com

- إذا تكون من حرق الأسيتيلين ماء سائل بدلاً من بخار الماء ، ما تأثير ذلك على قيمة الطاقة المنطلقة ؟ برر إجابتك .

3- احسب ΔH_{rxn}^0 لتفاعل احتراق الميثان :



وكانت قيم حرارات التكوين القياسية : $CH_4 = -75 \text{ kJ}$ ، $H_2O = -286 \text{ kJ}$ ، $CO_2 = -394 \text{ kJ}$

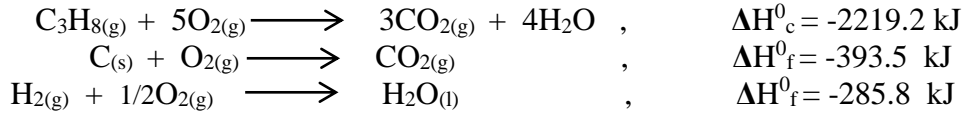
(الجواب : -891 kJ)

4- احسب ΔH_{comb}^0 لحمض البيوتانويك : $C_3H_7COOH(l) + 5O_2(g) \longrightarrow 4CO_2(g) + 4H_2O(l)$

استخدم المعادلة التالية : $4C(s) + 4H_2(g) + O_2(g) \longrightarrow C_3H_7COOH(l)$ ، $\Delta H = -534 \text{ kJ}$ ،

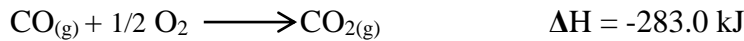
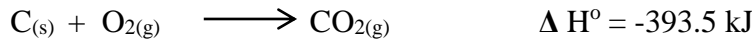
(حرارات التكوين القياسية : $CO_2 = -394 \text{ kJ/mol}$ ، $H_2O = -286 \text{ kJ/mol}$) (الجواب : -2186 kJ)

*5- وظف المعادلات التالية لحساب حرارة تكوين غاز البروبان (C_3H_8) مبتدئاً بعنصريه غاز الهيدروجين والكربون الصلب :



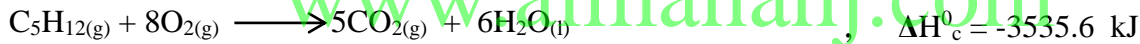
(الجواب : -104.5 kJ/mol)

*6 - احسب حرارة تكوين غاز أول أكسيد الكربون CO موظفاً المعادلات الكيميائية الحرارية التالية :



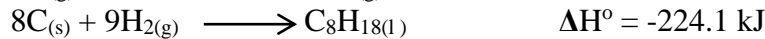
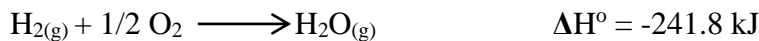
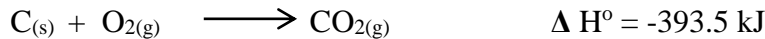
(الجواب : -110.5 kJ)

*7 - احسب حرارة تكوين البنتن C_5H_{12} موظفاً المعادلات الكيميائية الحرارية التالية :

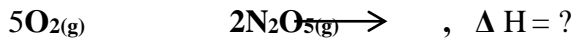


(الجواب : -146.7 kJ/mol)

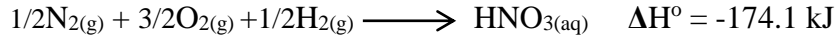
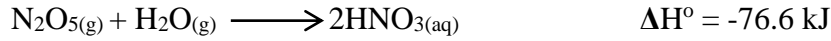
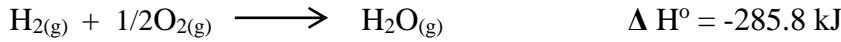
*8 - احسب حرارة احتراق الأوكتان : $\Delta H = ?$, $C_8H_{18(l)} + 25/2 O_{2(g)} \longrightarrow 8CO_{2(g)} + 9H_2O_{(g)}$, مستخدماً المعادلات الكيميائية الحرارية التالية :



(الجواب : -5100.1 kJ)

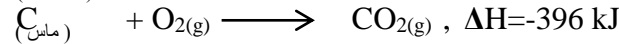



9# - احسب التغير في المحتوى الحراري للفاعل : $2\text{N}_2(\text{g}) +$
مستخدماً المعادلات الكيميائية الحرارية التالية :



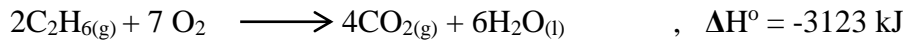
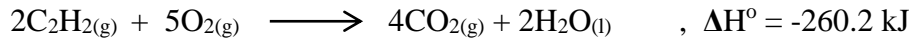
(الجواب : 28.4 kJ)

10M- احسب ΔH لعملية تحويل الجرافيت إلى ماس في التفاعل التالي :



(الجواب : 2 kJ)

11# - احسب حرارة التفاعل : $\text{C}_2\text{H}_2(\text{g}) + 2\text{H}_2(\text{g}) \longrightarrow \text{C}_2\text{H}_6(\text{g}) , \Delta H = ?$
مستخدماً المعادلات الكيميائية الحرارية التالية :



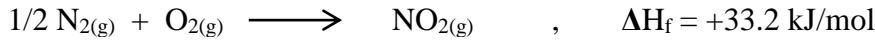
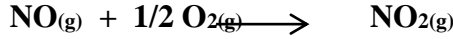
(الجواب : +859.4 kJ)

12- احسب حرارة التفاعل : $4\text{NH}_3(\text{g}) + 7\text{O}_2(\text{g}) \longrightarrow 4\text{NO}_2(\text{g}) + 6\text{H}_2\text{O}(\text{g})$

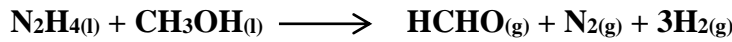


(الجواب : - 1134.4 kJ)

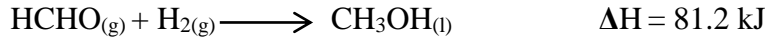
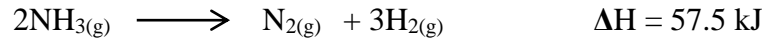
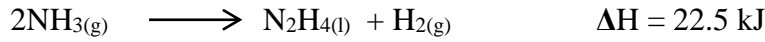
13 - احسب حرارة لاحتراق غاز أول أكسيد النيتروجين NO لتكوين غاز ثاني أكسيد النيتروجين NO₂ كما في المعادلة الكيميائية الحرارية التالية :
مستعينا بالمعادلات التالية :



(الجواب : -57.09 kJ/mol)



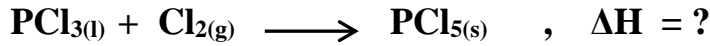
14 - احسب حرارة التفاعل التالي :
مستعينا بالمعادلات التالية :



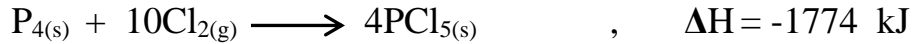
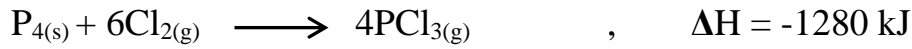
(الجواب : -46.2 kJ)

www.almanahj.com

15 - استخدم قانون هس لحساب ΔH للتفاعل التالي :

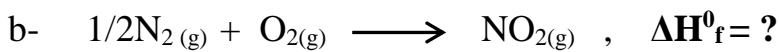
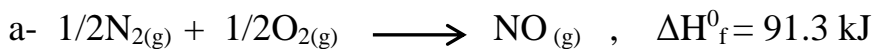


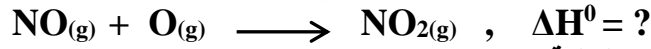
مستخدماً التفاعلات التالية :



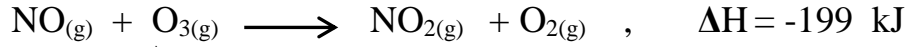
(الجواب : -123.5 kJ/mol)

16 - ينتج عن جمع معادلتى التكوين a , b معادلة تفاعل أكسيد النيتروجين والأكسجين، ويكون ناتج التفاعل هو ثاني أكسيد النيتروجين . ما قيمة ΔH_f^0 للمعادلة b ؟

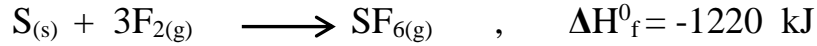


17- استخدم قانون هس لحساب ΔH للتفاعل التالي :

مستخدماً التفاعلات التالية :



(الجواب : -233 kJ)


18- استخدم قانون هس لحساب ΔH_{rxn} للتفاعل التالي :مستخدماً معادلات تكوين المركبات H_2S و 2HF و SF_6 التالية :

(الجواب : -1745 kJ)

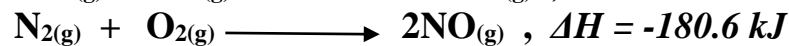
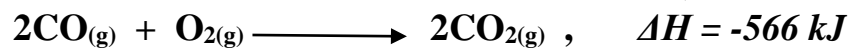
www.almanahj.com

19 - للتفاعل التالي -1789 kJ ، استخدم ذلك مع المعادلة a لحساب ΔH للمعادلة b :


(الجواب : -521 kJ)

12- استخدم قانون هس لحساب التغير في الطاقة للتفاعل التالي :

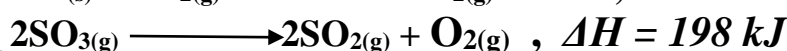
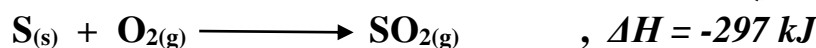
مستخدماً المعادلات التالية :



(الجواب : -385.4 kJ)

13- استخدم قانون هس لحساب التغير في الطاقة للتفاعل التالي :

مستخدماً المعادلات التالية :

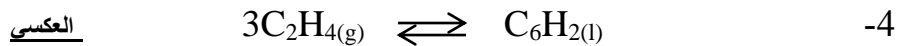
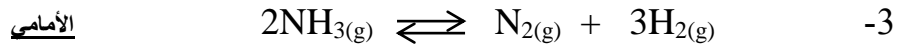
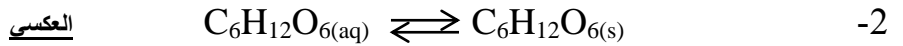
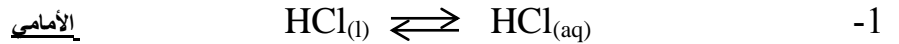


أسئلة على تلقائية حدوث التفاعلات

1- اختر الإجابة الصحيحة وضع تحتها خطأ :

- 1- كل خليط من غازات ، إذا جرت مقارنته بالغازات منفردة يكون :
أكثر عشوائية - أقل عشوائية - بالعشوائية نفسها - أكثر ترتيباً
- 2- النظام الذي يتغير تلقائياً دون تغير المحتوى الحراري :
يمتص حرارة - يصبح أكثر عشوائية - يصبح أكثر تنظيمياً - يطلق حرارة
- 3- ما الذي يجعل التفاعلات تلقائية ؟
تخفيض ΔH وتخفيض ΔS - زيادة ΔH وتخفيض ΔS - تخفيض ΔH وزيادة ΔS - زيادة ΔH وزيادة ΔS
- 4- أي من المواد التالية لها الإنتروبي الأعلى :
بخار - ماء سائل - ماء متجمد - ثلج مجروش
- 5- تنخفض الإنتروبي عندما :
ينخفض الضغط - يحرك النظام - تنخفض درجة الحرارة - ترتفع درجة الحرارة
- 6- أي مما يلي له الإنتروبي الأعلى عندما ينتج في تفاعل ؟
مادة صلبة - غاز - سائل - محلول مائي
- 7- يعتمد تغير الطاقة الحرة على :
تغير الإنتروبي فقط - تغير المحتوى الحراري - درجة الحرارة فقط - درجة الحرارة وتغير الإنتروبي والتغير في المحتوى الحراري
- 8- أي علاقة تُعرف التغير في الطاقة الحرة :
 $\Delta H + T \Delta S$ - $\Delta H + T \Delta G$ - $\Delta S - T \Delta H$ - $\Delta H - T \Delta S$

2- حدد أيهما المرجح الأمامي أم العكسي اعتماداً على الإنتروبي في كل مما يلي :



(ملاحظة : التفاعل المرجح يكون في اتجاه زيادة الإنتروبي)

3- لديك المعادلة التالية:



- اعتماداً على تغير المحتوى الحراري ، أي الاتجاهين ممكن الحدوث (الأمامي أم العكسي) ؟ الأمامي


- اعتماداً على عامل الإنتروبي ، أي الاتجاهين ممكن الحدوث (الأمامي أم العكسي) ؟ العكسي

4- لديك المعادلة التالية:



علل : تكون ΔG للتفاعل السابق سالبة .

لأن ΔH سالبة (طارد) و ΔS تكون موجبة (لأن عدد مولات النواتج الغازية أعلى من عدد مولات النواتج الغازية)

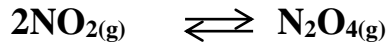


$$[\Delta G^\circ = -5.4 \text{ kJ/mol} \quad \text{و} \quad \Delta H_f^\circ \text{ICl}_{(g)} = +18 \text{ kJ/mol}]$$

- أي التفاعلين هو المرجح الأمامي أم العكسي تبعاً لعامل ΔH ؟ العكسي (لأن التفاعل ماص للحرارة)
 - هل يحدث التفاعل الأمامي أم العكسي تلقائياً تحت الشروط القياسية ؟ تلقائياً (لأن ΔG° سالبة)
 - هل يفضل التفاعل الأمامي أم العكسي تبعاً لعامل الإنتروبي ؟ الأمامي (لأن عدد مولات النواتج الغازية أكبر من عدد مولات المتفاعلات الغازية)
 - احسب قيمة ΔS لهذا النظام عند درجة حرارة 25°C ؟

.....

6- لديك التفاعل والبيانات التالية :



$$[T=298\text{K} \quad \text{و} \quad \Delta G^\circ = -4.7 \text{ kJ/mol} \quad \text{و} \quad \Delta H_f^\circ \text{N}_2\text{O}_4 = +33.2 \text{ kJ/mol} \quad \text{و} \quad \Delta H_f^\circ \text{N}_2\text{O}_4 = +9.2 \text{ kJ/mol}]$$

- موظفاً قانون هس احسب ΔH لهذا التفاعل .

www.almanahj.com

.....

- احسب التغير في الإنتروبي ΔS° لهذا التفاعل .

.....

- هل هذا التفاعل تلقائي ؟

برر جوابك :

.....

مسائل على الإنتروبي :

1- حدد ما إذا كان كل تفاعل مما يلي تلقائياً أم غير تلقائي :

أ- $T = 273 \text{ K}$ ، $\Delta S_{\text{النظام}} = 138 \text{ J/K}$ و $\Delta H_{\text{النظام}} = -75.9 \text{ kJ}$

ب- $T = 535 \text{ K}$ ، $\Delta S_{\text{النظام}} = -55.2 \text{ J/K}$ و $\Delta H_{\text{النظام}} = -27.6 \text{ kJ}$

الوحدات : 1 و 2 و 3
 2 - ما قيمة ΔG عند 120K لتفاعل يكون فيه $\Delta H = +35\text{kJ/mol}$ و $\Delta S = -1.50\text{KJ/(mol.K)}$ ؟
 الإجابة (215KJ/mol)


3- لتبخير $\text{Br}_2(l) \longrightarrow \text{Br}_2(g)$ ، $\Delta H = 31.0\text{KJ/mol}$ و $\Delta S = 93.0\text{J/(mol.K)}$.
 عند أي درجات حرارة تكون هذه العملية تلقائية؟
 الإجابة (عند درجة أكبر 333K)

4 - عندما يتفاعل الجرافيت مع الهيدروجين عند درجة حرارة 300.K تكون قيمة $\Delta H = 74.8\text{kJ/mol}$ وقيمة $\Delta S = -0.809\text{kJ/(mol.K)}$ ، هل يحدث هذا التفاعل تلقائياً ،
 (الجواب : نعم ، $\Delta G = -50.5\text{kJ/mol}$)

www.almanahj.com

5- إذا علمت أن $\Delta S = -36.8\text{J/K}$ النظام و $\Delta H = -144\text{kJ}$ النظام لتفاعل ما ،
 حدد أقل درجة حرارة بالكلفن يكون عندها التفاعل تلقائياً .
 (الجواب : يكون تلقائياً عند درجة حرارة أقل من 3913 K)

6- كيف تؤثر التغيرات في المحتوى الحراري والإنتروبي على التغير في الطاقة الحرة وتلقائية التفاعل
 التالي :



$$\Delta S^\circ = -197\text{J/K} \quad \text{و} \quad \Delta H^\circ = -91.8\text{kJ}$$

الجواب :

$$\Delta G^\circ = -33.1\text{kJ} \quad \text{و} \quad \text{التفاعل تلقائياً}$$

انتهت الأسئلة

Khalid Esmail

انتهت الأسئلة مع خالص تمنياتي للجميع بالتفوق ،،،،،