

تم تحميل هذا الملف من موقع المناهج السعودية



موقع المناهج المنهاج السعودي

*للحصول على أوراق عمل لجميع الصفوف وجميع المواد اضغط هنا

<https://www.almanahj.com/sa>

* للحصول على أوراق عمل لجميع مواد الصف الثالث اضغط هنا

<https://almanahj.com/sa/3>

* للحصول على جميع أوراق الصف الثالث في مادة علوم ولجميع الفصول, اضغط هنا

<https://almanahj.com/sa/3science>

* للحصول على أوراق عمل لجميع مواد الصف الثالث في مادة علوم الخاصة بـ الفصل الأول اضغط هنا

<https://www.almanahj.com/sa/3science1>


* لتحميل كتب جميع المواد في جميع الفصول للـ الصف الثالث اضغط هنا

<https://www.almanahj.com/sa/grade3>

للحصول على جميع روابط الصفوف على تلغرام وفيسبوك من قنوات وصفحات: اضغط هنا

<https://t.me/sacourse>

اختبار مادة العلوم للصف الثالث ابتدائي الفصل الدراسي الأول الدور (الأول) لعام ١٤٤٠-١٤٤١ هـ



عزيزتي الطالبة إليك بعض التعليمات :

- ١- بعد النسخة أقرني الأسئلة بتأني..٢- تأكد من الفقرات وعدد الصفحات.
- ٣- عدم ترك أي فقرة بدون حل.٤- ابدئي بحل الأسئلة تدريجياً...



السؤال الأول:

أختاري الإجابة الصحيحة فيما يلي:

١- يحتاج المخلوق الحي لكي يعيش وينمو الى
(أ- الماء ب- التنوير ج- الشوارع د- المصانع)

٢- من الطرائق العلمية التي يستخدمها العلماء في دراسة العلوم
(أ- النظر ب- الرسم ج- الملاحظة د- المكان)


٣- يحمل الأوراق والأزهار والثمار
(أ- الأملاح ب- الساق ج- الشمس د- الخلية)

٤- من أمثلة المخلوقات الحية
(أ- الشمس ب- الصخور ج- التربة د- الحيوانات)

٥- من أمثلة المحلات
(أ- النمر ب- البكتيريا ج- الذئب د- التفاح)

٦- من تكيفات التي تساعد الجمل على البقاء والعيش
(أ- اللون ب- الوزن ج- الذيل د- الشفة المشقوقة)

ب- اكتبي أجزاء النبتة عند كل سهم بما يناسبة



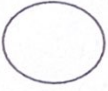
السؤال الثاني:

١- أكمل الفراغات التالية بما يناسبها من الكلمات التي أمامك:

(المخلية- التكاثر- الهجرة- البناء الضوئي- التعرية- الزلزال- التكيف- دورة الحياة)



- ١- مراحل حياة المخلوق الحي.
- ٢- انتقال المخلوق الحي من بيئة الى بيئة أخرى بحثاً عن الغذاء.
- ٣- النبات يصنع غذاءه بعملية تسمى.
- ٤- تفتت الصخور إلى قطع صغيرة جداً.
- ٥- من خصائص المخلوقات الحية.
- ٦- هو حركة فجائية لصخور القشرة الأرضية.
- ٧- هو التركيب أو السلوك الذي يساعد المخلوق الحي على البقاء حياً.
- ٨- تسمى الوحدة البنائية التي تكون أجسام المخلوقات الحية.



ب- عددي بعض طرق حماية الإنسان لبيئته:

- ١-
- ٢-
- ٣-
- ٤-



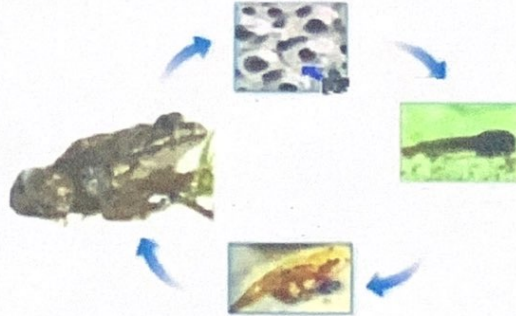
ج- مثلي لسلسلة غذائية من عندك:

.....

السؤال الثالث: أ- تعرفي على دورة الحياة التي أمامك، ثم اكمل بياناتها:



دورة حياة.....





دورة حياة



ب- اكتبی الرقم المناسب من العمود (أ) امام العبارات المناسبة في العمود (ب)

الرقم	أ	ب
١-	لها تراكيب هوائية تمكنها من الطفو فوق سطح البحر	الثعبان
٢-	له مخالب حادة تمكنه من الصيد	التعرية
٣-	من صور التكيف التخفي مثل	النباتات المائية
٤-	انحباس الامطار فترة طويلة	الترسيب
٥-	الحيوان الذي لا يبقى من نوعه أي فرد يسمى	التلوث
٦-	من التغيرات البطيئة التي تحدث على سطح الأرض	الاسد
٧-	نقل فتات الصخور بالمياه الجارية والرياح	الجفاف
٨-	اشياء ضارة في الهواء والماء والتربة	منقرضاً
٩-	فتحة في القشرة الأرضية تندفع منها الصهارة	البركان

انتهت الأسئلة
تمنيتي للجميع بالتوفيق والنجاح