

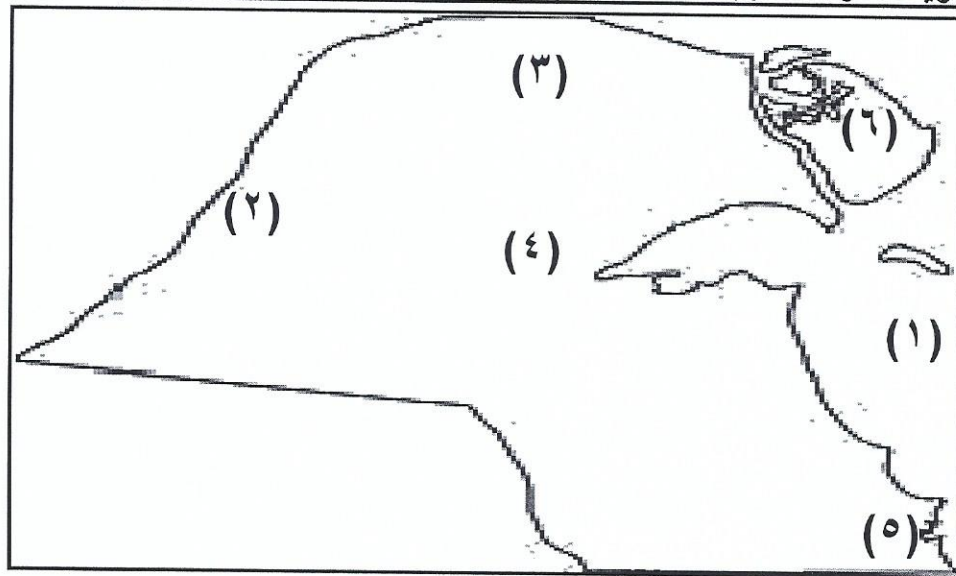
العام الدراسي: ٢٠١٨/٢٠١٩ الزمن : ساعة وربع عدد الأوراق : ٤	امتحان نهاية الفترة الدارسيه الاولى الصف : الخامس المادة : اجتماعيات نموذج اجابة	وزارة التربية الإدارة العامة للتعليم الخاص التوجيه الفني للاجتماعيات
--	---	--

السؤال الأول ويتكون من (أ- ب) :-

(أ) : صوب ماتحته خط في العبارات التالية :-

- ١ - قسم العالم الى مناطق مناخية حسب قربها أو بعدها عن خط جرينتش (الاستواء) ص ٣٤
- ٢ - الحيوان الذي يطلق عليه سفينة الصحراء هو الحصان (الجمل) ص ٤٥
- ٣ - الحاكم الذي تم في عهده توقيع اتفاقية التنقيب عن النفط اسمه عبدالله السالم (أحمد الجابر) ص ٥١
- ٤ - الموسم الذي يتصف بشدة البرد ويستمر لمدة ٤٠ يوم يسمى سهيل (المربعانية) ص ٣٦
- ٥ - اكتشف أول بئر نفطي في دولة الكويت عام ١٩٣٦م في منطقة برقان (بحر) ص ٥٠
- ٦ - افتتحت المدرسة الأحمدية عام ١٩٤١م (١٩٢١م) ص ٥٠

(ب) لاحظ خريطة دولة الكويت الصماء ثم اكتب مدلولات الأرقام التالية :-



- الرقم (١) مسطح مائي يسمى الخليج العربي ص ٤٦
- الرقم (٢) يمثل وادي يسمى وادي الباطن ص ٢٦
- الرقم (٣) يمثل منطقة رعوية تسمى العبدلي ص ٤٦
- الرقم (٤) يمثل تلال يسمى كراع المرو ص ٢٦
- الرقم (٥) يمثل سبخات ملحية تسمى الخيران ص ٢٦
- الرقم (٦) يمثل جزيرة اسمها بوبيان ص ٤٦

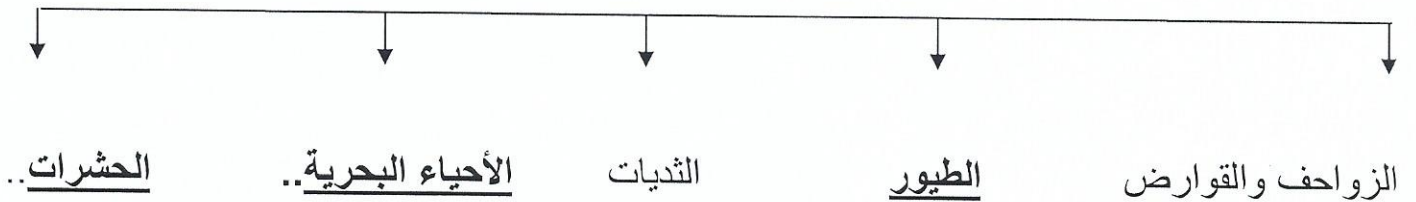
السؤال الثاني ويتكون من (أ - ب)

(أ) أكمل العبارات التالية بما يناسبها فيما يلي مما درست:-

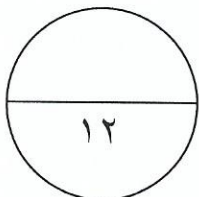
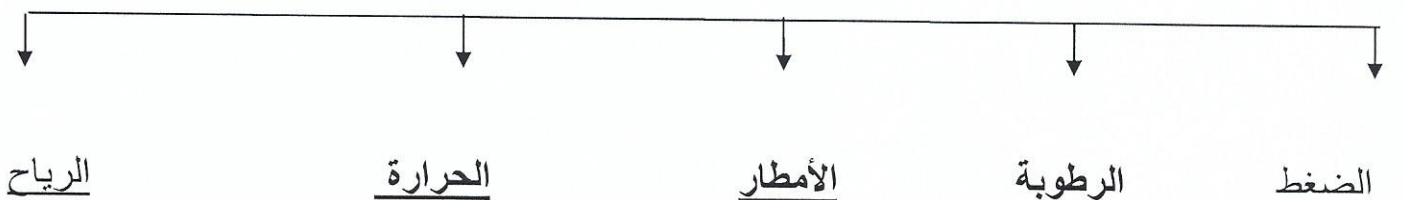
- ١ - اختلاف تنوع النباتات يرتبط باختلاف طبيعة التربة والبعد عن ... البحر .. ص ٤٢
- ٢ - الموسم المناخي الذي يعد بداية الأمطار ويبشر بالفقح والحضرة في الكويت يسمى الموسم ص ٣٦
- ٣ - حاكم دولة الكويت الذي تم في عهده الحصول على الاستقلال اسمه عبدالله السالم ص ٥٣
- ٤ - العام الميلادي الذي تم فيه إجراء أول انتخابات نيابية في دولة الكويت .. ١٩٦٣م .. ص ٥٢
- ٥ - وكالة علوم الفضاء التي أشادت بجهود العرب في هذا المجال تسمى ٠٠ ناسا ٠٠ ص ٣٦
- ٦ - الأمطار الرعدية التي تسقط في مارس وإبريل ومايو تعرف باسم السرايات ص ٣٣ ..

(ب) إملأ الفراغ في المخططات السهمية فيما يلي مما درست:

١- أنواع الحياة الحيوانية في دولة الكويت ص ٤٤



٢- عناصر المناخ ص ٣٢



السؤال الثالث :- يتكون من (أ - ب) :-

(أ) :- علل ما يلي :-

١- النبات في دولة الكويت يعيش في بيئة صحراوية صعبة . ص ٤٠ (يكتفي بنقطتين) درجتان
...ارتفاع نسبة سطوع الشمس - قلة المياه الأمطار - كثرة العواصف - التفاوت في درجة الحرارة -
ارتفاع نسبة التبخر

٢- تميز سكان شبه الجزيرة العربية بعلوم الفلك . ص ٣٦ (درجة)

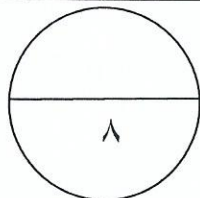
.....لصفاء جوها

٣- تحتفل دولة الكويت بالعيد الوطني في تاريخ ٢٥ فبراير بدلا من ٦/١٩ ص ٥٣(درجة)

٠٠ لجلوس الشيخ عبدالله السالم على كرسي الحكم وذلك تكريما له

(ب) فرق بين مفهوم كلا من :-

- النباتات المعمرة أو الدائم	- النباتات الحولية أو الموسمية
هي ذات جذور عميقة تمتاز بأنها تتحمل قلة المياه وتزدهر بالربيع ص ٤٠	تتكاثر بعد سقوط الامطار وتكمل دورة حياتها في فترة زمنية قصيرة ص ٤٠
الدستور ص ٥٢	الاستقلال ص ٥٣
عبارة عن وثيقة مكتوبة تتكون من مجموعة من المواد التي تنظم العلاقة بين الحاكم والمحكوم وتحدد حقوق وواجبات المواطنين نحو وطنهم .	هو عبارته عن مسؤولية الدولة بصورة مباشرة عن ادارة شؤونها الداخلية والخارجية .



السؤال الرابع :- يتكون من (أ - ب) :-

(أ) اكتب اثنين فيما يلي :- (٤ درجات)

١-العوامل المؤثرة في المناخ ص٠٣٤ (يكتفي بنقطتين)

-الموقع بالنسبة لدوائر العرض

-توزيع اليابس والماء - الارتفاع عن مستوى سطح البحر.....

٢ - الانجازات الداخلية لحاكم دولة الكويت الشيخ عبد الله السالم الصباح ص٠٥٢ (يكتفي بنقطتين)

- صدور عملة جديدة هي الدينار الكويتي ... - انشاء المجلس التأسيسي ١٩٦٢م

- اجراء أول انتخابات نيابية وافتتاح مجلس الأمة عام ١٩٦٣م..... - رفع العلم الجديد

(ب) عرف كلا مما يلي مما درست :-

١-امتياز التنقيب ص٠٥٠

- اعطاء الدولة حق البحث والتنقيب عن النفط وبيعه لشركة أجنبية متخصصه تشارك الدولة في

قسط من العائدات المالية لمدة معينة

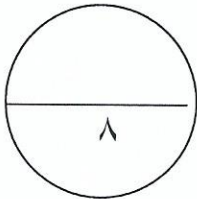
٢- الرعي الجائر : الافراط في الرعي ص٠٤٧

٣- التصحر ص٤٧

.....هو امتداد تأثير الصحراء على المناطق الرعوية والزراعية

٤-السيخات ص٢٧

.....هي أرض منخفضة قليلة المياه تنمو فيها النباتات الملحية



انتهت الأسئلة مع تمنياتنا بالنجاح والتوفيق