

كل ما يحتاجه الطالب في جميع الصفوف من أوراق عمل واختبارات ومذكرات، يجده هنا في الروابط التالية لأفضل مواقع تعليمي كويتي 100 % ، للدخول إلى المجموعة أو القناة ما عليك سوى الضغط على اسمها

[تطبيق المناهج الكويتية](#)

[القناة الرسمية على تلغرام](#)

[الصفحة الرسمية على الفيسبوك](#)

[قناة روابط تعليمية شاملة لجميع الصفوف](#)

مجموعات التلغرام	قنوات التلغرام	صفحات الفيسبوك	مجموعات الفيسبوك
<a href="#">الصف الأول</a>	<a href="#">الصف الأول</a>	<a href="#">الصف الأول</a>	<a href="#">الصف الأول</a>
<a href="#">الصف الثاني</a>	<a href="#">الصف الثاني</a>	<a href="#">الصف الثاني</a>	<a href="#">الصف الثاني</a>
<a href="#">الصف الثالث</a>	<a href="#">الصف الثالث</a>	<a href="#">الصف الثالث</a>	<a href="#">الصف الثالث</a>
<a href="#">الصف الرابع</a>	<a href="#">الصف الرابع</a>	<a href="#">الصف الرابع</a>	<a href="#">الصف الرابع</a>
<a href="#">الصف الخامس</a>	<a href="#">الصف الخامس</a>	<a href="#">الصف الخامس</a>	<a href="#">الصف الخامس</a>
<a href="#">الصف السادس</a>	<a href="#">الصف السادس</a>	<a href="#">الصف السادس</a>	<a href="#">الصف السادس</a>
<a href="#">الصف السابع</a>	<a href="#">الصف السابع</a>	<a href="#">الصف السابع</a>	<a href="#">الصف السابع</a>
<a href="#">الصف الثامن</a>	<a href="#">الصف الثامن</a>	<a href="#">الصف الثامن</a>	<a href="#">الصف الثامن</a>
<a href="#">الصف التاسع</a>	<a href="#">الصف التاسع</a>	<a href="#">الصف التاسع</a>	<a href="#">الصف التاسع</a>
<a href="#">الصف العاشر</a>	<a href="#">الصف العاشر</a>	<a href="#">الصف العاشر</a>	<a href="#">الصف العاشر</a>
<a href="#">صف 11 أدبي</a>	<a href="#">صف 11 أدبي</a>	<a href="#">صف 11 أدبي</a>	<a href="#">صف 11 أدبي</a>
<a href="#">صف 11 علمي</a>	<a href="#">صف 11 علمي</a>	<a href="#">صف 11 علمي</a>	<a href="#">صف 11 علمي</a>
<a href="#">صف 12 أدبي</a>	<a href="#">صف 12 أدبي</a>	<a href="#">صف 12 أدبي</a>	<a href="#">صف 12 أدبي</a>
<a href="#">صف 12 علمي</a>	<a href="#">صف 12 علمي</a>	<a href="#">صف 12 علمي</a>	<a href="#">صف 12 علمي</a>

[حساب تويتر](#)

[حساب الانستغرام](#)

[روابط واتساب](#)

[مدرسون في الكويت](#)

تكلم مع البوت التعليمي الأول من نوعه والذي يسمح للطلبة باختيار الصف والفصل والمادة ويرد له البوت الملفات المناسبة

# بلادي الكويت

٥

حل كتاب بلادي الكويت للصف الخامس  
الوحدة الاولى

تقويم الوحدة الاولى

+ مجهود شخصي / الخطأ وارد فا ارجو عدم  
+ الاعتماد عليه كمرجع رئيسي للحصول على  
الإجابة النموذجية

[www.kwedufiles.com](http://www.kwedufiles.com)

فجر الحساوي

الطبعة الأولى

المرحلة الابتدائية

## النشاط الأول

اقرأ ... لاحظ ثم استنتج

### لغز عالم الطبيعة

أحمد عالم طبيعة يقوم بالعديد من الرحلات حول العالم لاستكشاف الغابات ودراسة النباتات في رحلته الأخيرة وصل إلى منطقة يوجد فيها نوع جديد من النبات يستخدم في صناعة الأدوية الطبية.

#### السفينة

١- ما وسيلة النقل التي استخدمها عالم الطبيعة أحمد في رحلته الأخيرة؟ .....

٢- وأين تستخدم هذه الوسيلة؟ .....

٣- ما دلالة الألوان على الخريطة؟



www.kwedufiles.com

...الماء (المسطحات المائية)

.....اليابسة.....


### اقرأ وتعلم

تتكون الكرة الأرضية من يابسة وماء ، وتغطي المياه حوالي ٧٠٪ من سطح الكرة الأرضية وتوجد على شكل مسطحات مائية، وتمثل اليابسة حوالي ٣٠٪ من مساحة الكرة الأرضية، وتوجد على شكل قارات.

## فجر الحساوي

## النشاط الثاني

- ١ - دوّن نسبة المياه ونسبة اليابسة على سطح الكرة الأرضية في الشكل التالي.
- ٢ - لون ما يمثل مساحة اليابسة باللون الأصفر، وما يمثل مساحة الماء باللون الأزرق.



٣- الاستنتاج : مساحة ..... الماء ..... على سطح الكرة الأرضية أكبر من مساحة اليابسة .....

## النشاط الثالث

١ - شارك زملائك في المجموعة بعمل مشروع مجسم الكرة الأرضية باستخدام المواد التالية :

- بالون باللون الأزرق.
- صمغ (غراء).
- أوراق قص لصق باللون الأصفر.
- مقص
- صور (حيوانات برية - حيوانات بحرية - سفن - سيارات - خيام - منازل)

٢ - ماذا نلاحظ على شكل مجسم الكرة الأرضية؟

..... مساحة الماء اكبر من مساحة اليابسة على سطح الكرة الأرضية .....



# فجر الحساوي





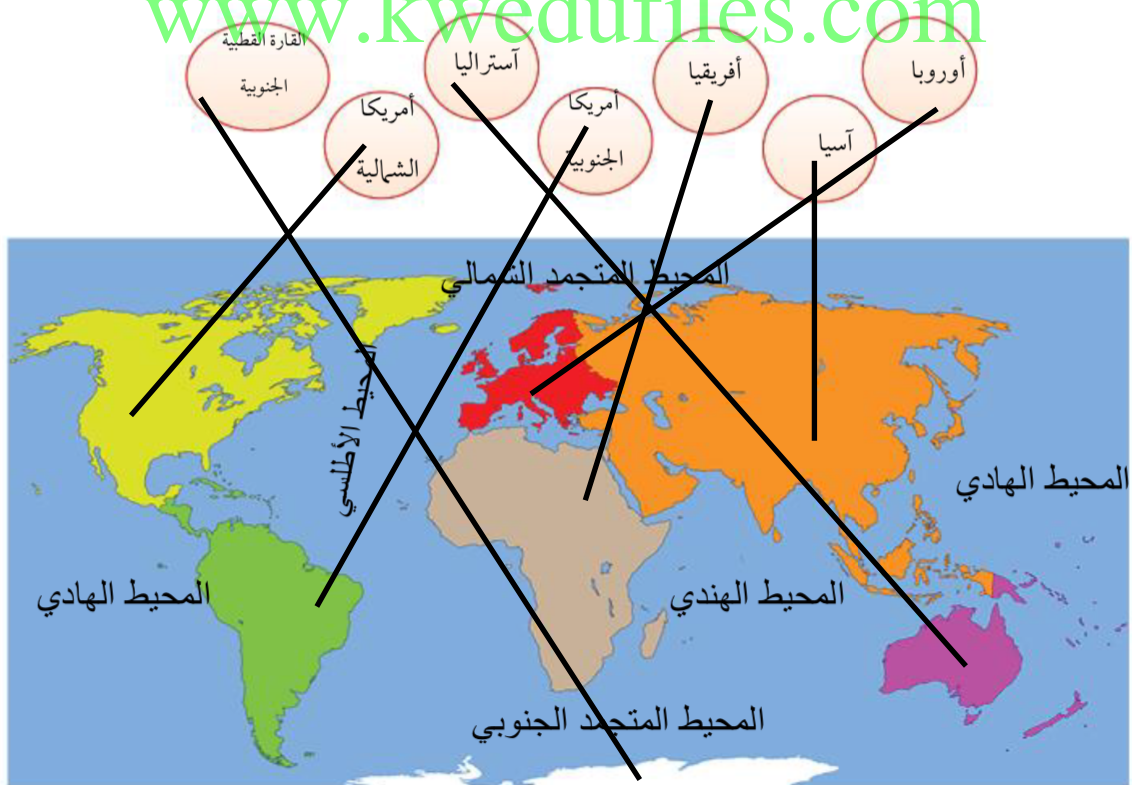
## النشاط الأول

تتبع النقاط بالقلم في الأشكال التالية ثم أكمل الجدول الذي يليها:

		
قارة اسيا	قارة استراليا	اسم القارة
.....	.....	
اكبر القارات مساحة	اصغر القارات مساحة	مميزاتها
.....	.....	

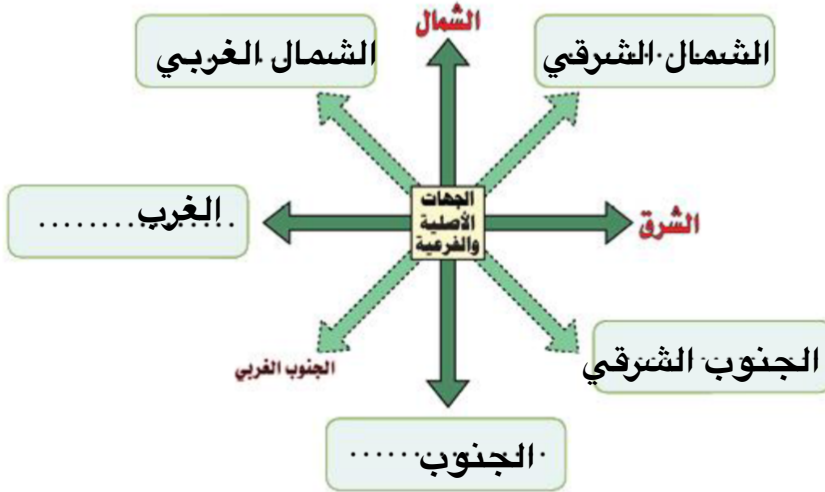
## النشاط الثاني

اكتب أسماء القارات حسب موقعها على خريطة العالم التالية.



فجر الحساوي

بلاد الكويت ودول الخليج العربية



اقرأ وتعلم



www.kwedufiles.com

**عثمان** : ماذا تفعل يا أبي؟

**الأب** : ارسم خريطة لدول الخليج العربية.

**عثمان** : ولماذا سميت بدول الخليج العربية يا أبي؟

**الأب** : لأنها تطل على مسطح مائي يسمى "الخليج العربي".

**عثمان** : وماهي دول الخليج العربية؟

**الأب** : هي ست دول «دولة الكويت، المملكة العربية السعودية، مملكة البحرين، دولة قطر، دولة الإمارات العربية المتحدة،

وسلطنة عُمان» وتقع جميعها على الساحل الغربي للخليج العربي.

**عثمان** : وأين تقع بلاد الكويت بالنسبة لشبه الجزيرة العربية؟

**الأب** : تقع في الشمال الشرقي لشبه الجزيرة العربية.

**عثمان** : شكراً يا أبي على هذه المعلومات.

**الأب** : عفواً يا بني.

فجر الحساوي

## النشاط الأول

من خلال قراءة الحوار السابق أكمل الجدول التالي:

سلطنة	دولة	دولة	مملكة	المملكة العربية	بلادي
عمان	الإمارات العربية المتحدة	قطر	البحرين	السعودية	الكويت

## النشاط الثاني

لاحظ خريطة شبه الجزيرة العربية ونفذ ما يليها:



فجرا الحساوي



١- ارسم على الشكل في الخريطة اتجاه موقع بلادك الكويت بالنسبة لشبه الجزيرة العربية.

٢- اكتب أسماء دول الخليج العربية حسب الجدول التالي:

دول تطل على مسطح مائي واحد	دول تطل على أكثر من مسطح مائي
الكويت. البحرين. قطر	المملكة العربية السعودية
	الإمارات العربية المتحدة
	سلطنة عمان

الخليج العربي

٣- استنتج اسم المسطح المائي الذي تطل عليه جميع دول الخليج العربية.

٤- تعاون مع زملائك وسجل على الأشكال في الخريطة خط سير رحلتكم البحرية من دولة الكويت إلى سلطنة عُمان ثم

قم بإرسالها عبر وسائل التواصل الاجتماعي إلى افراد أسرتك.



فجر الحساوي

لاحظ خريطة العالم ثم أجب عما يليها:



www.kwedufiles.com

١- ماذا يمثل اللون الأصفر على الخريطة؟

الوطن العربي

٢- اكتب أسماء القارات التي يمتد فيها الوطن العربي على الخريطة. اسيا و أفريقيا

٣- استنتج أهمية موقع الوطن العربي من الخريطة.

يقع في وسط العالم

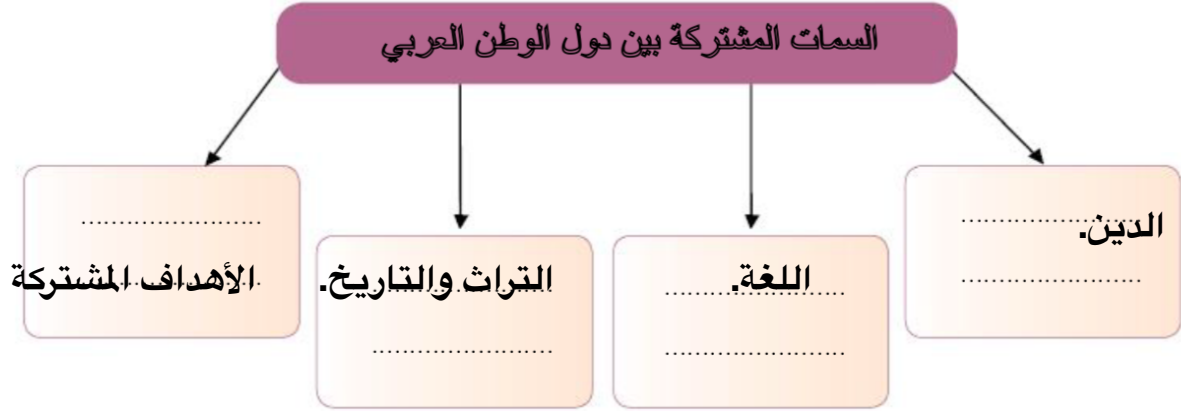
يطل على العديد من المسطحات المائية

يشرف على العديد من المسطحات المائية

فجر الحساوي

## النشاط الثاني

من خلال قراءة الحوار السابق اكتب:



## النشاط الثالث

لاحظ خريطة الوطن العربي التالية ثم نفذ ما يليها:



الخريطة للقراءة والتحليل فقط غير مطالب المتعلم بتحديد المضائق ومواقع الدول العربية

فجر الحساوي

١ عدد المضائق المائية التي يطل عليها الوطن العربي.

جبل طارق

قناة السويس

باب المندب

هرمز

٢ عدد أسماء المسطحات المائية التي تطل عليها دول الوطن العربي.

المحيط الهندي. بحر العرب. خليج عدن. البحر الأحمر. خليج عمان.  
الخليج العربي. البحر المتوسط. المحيط الأطلسي

٣ حدد بالرمز ♥ موقع بلادك الكويت على الخريطة.

٤ تعاون مع زملائك في تصنيف الدول حسب الجدول التالي واكتب في الشكل اسم البحر الذي يفصل بينهما:

دول الوطن العربي في قارة أفريقيا	دول الوطن العربي في قارة آسيا
مصر السودان. ليبيا.	سوريا. لبنان فلسطين.
الجزائر تونس. المغرب.	الأردن. العراق. السعودية.
موريتانيا. جيبوتي.	الإمارات. عمان. اليمن.
الصومال. جزر القمر.	الكويت. البحرين. قطر.

فجر الحساوي

• المتعلم غير مطالب بحفظ أسماء الدول.



بلادي الكويت ودول العالم الإسلامي

اقرأ وتعلم

يحتل العالم الإسلامي موقعاً وسطاً بالنسبة إلى العالم و يشغل مساحة واسعة شبه متصلة من اليابسة، تمتد في أربعة قارات هي آسيا، أفريقيا، أوروبا، أمريكا الجنوبية مما، أكسبه العديد من المزايا.



.....  
آسيا  
.....

النشاط الأول

اقرأ - لاحظ - ثم نفذ

أمريكا الجنوبية  
.....

١ - القارات التي يمتد


فيها العالم  
الإسلامي

.....  
أفريقيا  
.....

.....  
أوروبا  
.....

فجر الحساوي

٢- العالم الإسلامي مجموعة من الدول التي يكون فيها عدد المسلمين .....٥٠..... % فأكثر من مجموع السكان.

٣- حدد بالرمز  موقع بلادك الكويت على الخريطة.

٤ - أين تقع بلادي الكويت بالنسبة للعالم الإسلامي .

..... في وسط العالم الإسلامي / قارة اسيا

٥- سجل على الخريطة المسطحات المائية التالية ( المحيط الأطلسي ، المحيط الهادي ، المحيط الهندي، البحر المتوسط ) .

٦- استنتج من الخريطة أهمية موقع العالم الإسلامي .

يحتل موقعا وسطا بالنسبة للعالم


## فجر الحساوي

النشاط الثاني

[www.kwedufiles.com](http://www.kwedufiles.com)

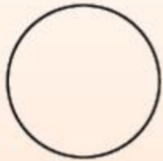
اقرأ وتعلم

• للعالم الإسلامي مميزات عديدة منها:



مثلا في الدائرة البيانية وظللها

١- عدد المسلمين في العالم الإسلامي ربع سكان العالم .



مثلا في الدائرة البيانية وظللها

٢- مساحة العالم الإسلامي ربع مساحة الكرة الأرضية.

٣- كثرة الموارد الطبيعية.

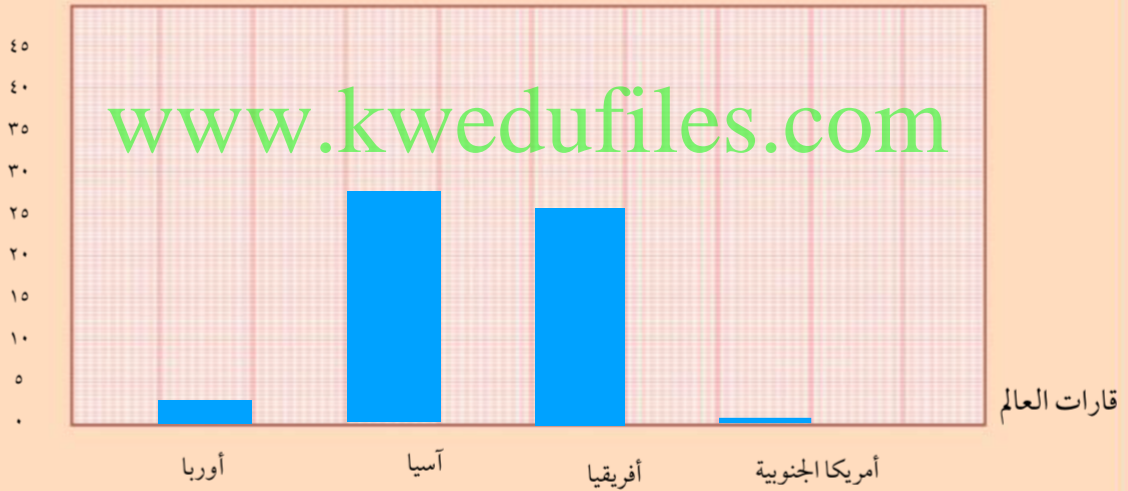
٤- يطل العالم الإسلامي على ١٨ بحراً، ويشرف على ٣ محيطات و على العديد من المضائق المائية

تعاون مع زملائك في قراءة الجدول ونفذ كل ما يليه:

عدد الدول الإسلامية في قارات العالم	
٢	أوروبا
٢٧	آسيا
٢٦	أفريقيا
١	أمريكا الجنوبية

١- حوّل البيانات في الجدول إلى أعمدة بيانية.

عدد الدول الإسلامية



٢- استنتج حقائق من الرسم البياني.

- معظم الدول الإسلامية تقع في قارة آسيا.....
- اقل قاره تضم الدول الإسلامية هي أمريكا الجنوبية.....

فجر الحساوي





## ٢ أقرأ الآيات الكريمة وأكتب دلالتها في الفراغات التي تليها .

قال تعالى (إِنَّ هَذِهِ أُمَّتُكُمْ أُمَّةً وَاحِدَةً وَأَنَا رَبُّكُمْ فَاعْبُدُونِ) سورة الأنبياء الآية ٩٢ .

(يَا أَيُّهَا النَّاسُ إِنَّا خَلَقْنَاكُمْ مِنْ ذَكَرٍ وَأُنْثَىٰ وَجَعَلْنَاكُمْ شُعُوبًا وَقَبَائِلَ لِتَعَارَفُوا ۗ إِنَّ أَكْرَمَكُمْ عِنْدَ اللَّهِ

أَتْقَاكُمْ ۗ إِنَّ اللَّهَ عَلِيمٌ خَبِيرٌ) سورة الحجرات الآية ١٣ .

يرتكز الإسلام على مبادئ المساواة ويحافظ على حقوق الناس

جميعا بغض النظر عن دينهم وجنسهم ولونهم

### النشاط الثاني



استعن بوسائل التواصل الإلكترونية مع زملائك للتعرف على جنسية

العاملين المسلمين في المرافق العامة في منطقتك وسجلها في الجدول .

وظيفة العامل	البلد	القارة
المعلم.	مصر.	أفريقيا
الدكتور.	بريطانيا.	أوروبا
عامل النظافة.	الهند.	اسيا.
مربية المنزل.	الفلين.	اسيا

الدرس للقراءة فقط

فجر الحساوي

## تقويم الوحدة الأولى

### أولاً: الأسئلة الموضوعية

١ ضع الرمز (✓) أمام العبارة الصحيحة والرمز (X) أمام العبارة غير الصحيحة

- ١- تبلغ نسبة اليابسة من سطح الكرة الأرضية ٧٠٪. (X)
- ٢- تعد قارة أوروبا أكبر القارات مساحة. (X)
- ٣- تقع بلادي الكويت في وسط العالم الإسلامي. (✓)
- ٤- تقع بلادي الكويت في الشمال الشرقي لشبه الجزيرة العربية (✓)

أكمل العبارات التالية بما يناسبها مما درست:

- ١- تمثل نسبة الماء من سطح الكرة الأرضية ..... ٧٠٪.....
- ٢- المسطح المائي الذي تطل عليه جميع دول الخليج العربية يسمى ..الخليج العربي
- ٣- القارة غير المأهولة بالسكان تسمى **القارة القطبية الجنوبية**
- ٤- يبلغ عدد دول الوطن العربي **أمريكا الجنوبية** دولة ..

٥- القارة التي يوجد فيها دولة إسلامية واحدة تسمى ..

اكتب المفهوم أو المصطلح الدال على العبارات التالية:

- ١- **الضيق** (.....) منفذ أو ممر ضيق من الماء يفصل بين مسطحين مائين.
- ٢- **العالم الإسلامي** (.....) مجموعة من الدول تجمعها سمات مشتركة مثل الدين واللغة والتراث وتمتد بين قارتي آسيا وأفريقيا .
- ٣- **القارة** (.....) مساحة كبيرة من اليابسة تحيط بها المياه .

### ثانياً: الأسئلة المقالية

فرّق بين كلٍّ من:

المحيط	الخليج
مسطح كبير جداً من الماء المالح .....	بحر ضيق يمتد طولياً بين .....
	اليابسة .....

# فجر الحساوي

## تقويم الوحدة الأولى

ب علل لما يلي (اذكر السبب) :

- تسمية دول الخليج العربية بهذا الاسم.
- لأنها تطل جميعها على مسطح مائي يسمى الخليج العربي ..
- أهمية موقع الوطن العربي.
- يظل على العديد من المنسظحات المائية .....
- يشرف على العديد من المضائق المائية .....

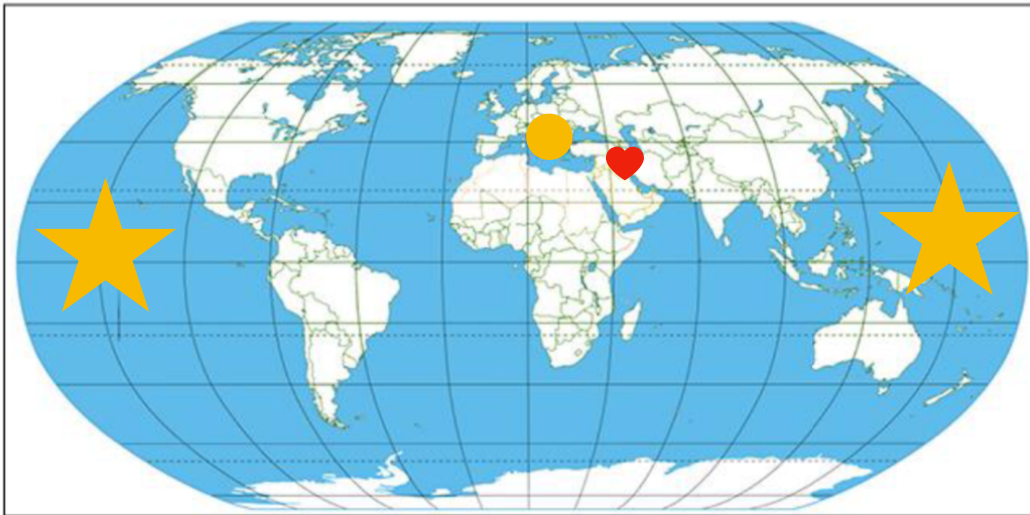
ج اجب عن الأسئلة التالية :

- عدد القارات التي يمتد فيها العالم الإسلامي.
- ٤ قارات .....
- عدد مميزات العالم الإسلامي.
- يحتل موقعا وسط العالم .....
- يمتد في اربع قارات .....

د على خريطة العالم الصماء حدد كُلاً ما يلي :

[www.kwedufiles.com](http://www.kwedufiles.com)

- المحيط الهادي بالرمز.
- القارة التي يوجد فيها دولتان إسلاميتان فقط بالرمز •
- دولة الكويت. ♥
- ظلل الوطن العربي.



فجر الحساوي

[www.kwedufiles.com](http://www.kwedufiles.com)