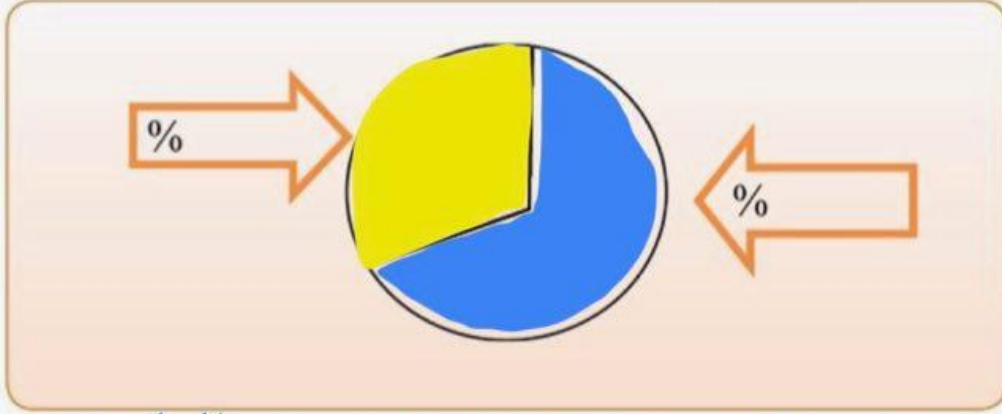



- ١- دوّن نسبة المياه ونسبة اليابسة على سطح الكرة الأرضية في الشكل التالي.
- ٢- لون ما يمثل مساحة اليابسة باللون الأصفر، وما يمثل مساحة الماء باللون الأزرق.



٣- الاستنتاج : مساحة الماء..... على سطح الكرة الأرضية أكبر من مساحة..... اليابس



ما هي أشكال المسطحات
المائية التي على الكرة
الأرضية ؟



خليج



محيط بحر



مضيق

بحيرة



نهر



١- استنتج أسماء المسطحات المائية من الخريطة ثم صنفها في الجدول التالي:

الخلجان	البحار	المحيطات
الخليج العربي	بحر العرب	الهندي
خليج عمان	البحر المتوسط	الهادي
خليج عدن	البحر الأحمر	الأطلسي
		المتجمد الشمالي

المحيط الهادي

٢- اكتشف اسم محيط تكرر أكثر من مرة.

لأنه كبير المساحة و الأرض كروية

٣- هل تعلم لماذا تكرر؟

النشاط الثاني

أكمل العبارات التالية بما يناسبها مما درست:

١- تطل بلادي الكويت على مسطح مائي يسمى **الخليج العربي**.

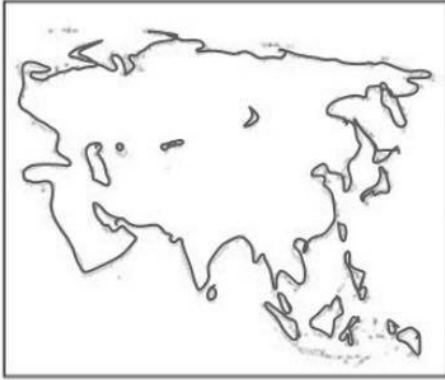
٢- مسطح مائي أصغر من المحيط يفصل بين القارات يسمى **البحر**.

٣- يبلغ عدد المحيطات في العالم **٥** محيطات.



النشاط الأول

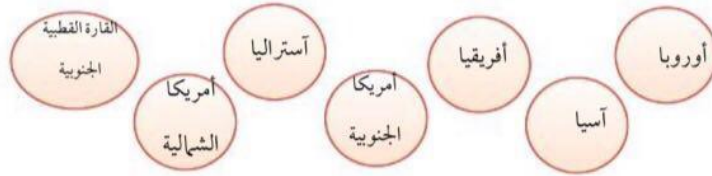
تتبع النقاط بالقلم في الأشكال التالية ثم أكمل الجدول الذي يليها:



..... أسيا أستراليا	اسم القارة
..... أكبر قارة مساحة أصغر قارة مساحة	مميزاتها

النشاط الثاني

اكتب أسماء القارات حسب موقعها على خريطة العالم التالية.



الجهات الأصلية

الجهات الفرعية

٢٣

الدرس الثاني

التاريخ / /

بلادي الكويت ودول الخليج العربية



صلي اسم الدولة الى العلم المناسب لها

البحرين

الكويت

السعودية

قطر

الامارات

عمان



٢٤

النشاط الأول

من خلال قراءة الحوار السابق أكمل الجدول التالي:

سلطنة	دولة	دولة	مملكة	المملكة العربية	بلادي
.....عمان.....	الإمارات..... العربية المتحدة	قطر.....	البحرين.....	السعودية.....	الكويت.....

ما اسم المسطح المائي الذي تطل

لماذا سميت دول الخليج العربية

عليه هذه الدول ؟

بهذا الاسم ؟



أين تقع دول الخليج العربية بالنسبة للخليج العربي ؟



تقع دول الخليج

العربية في جهة

.....

لساحل الخليج

العربي

ما هو موقع دولة الكويت بالنسبة لشبه الجزيرة العربية ؟

٢٤

النشاط الثاني

لاحظ خريطة شبه الجزيرة العربية ونفذ ما يليها:



٢٥

١- ارسم على الشكل في الخريطة اتجاه موقع بلادك الكويت بالنسبة لشبه الجزيرة العربية. الشمال

٢- اكتب أسماء دول الخليج العربية حسب الجدول التالي: الغربي

دول تطل على مسطح مائي واحد	دول تطل على أكثر من مسطح مائي
..... الكويتالسعودية.....
.....البحرين.....الإمارات.....
.....قطر.....عمان.....

.....الخليج العربي.....

٣- استنتج اسم المسطح المائي الذي تطل عليه جميع دول الخليج العربية.

ما هو المضيق؟

النشاط الثاني

لاحظ خريطة شبه الجزيرة العربية ونفذ ما يليها:

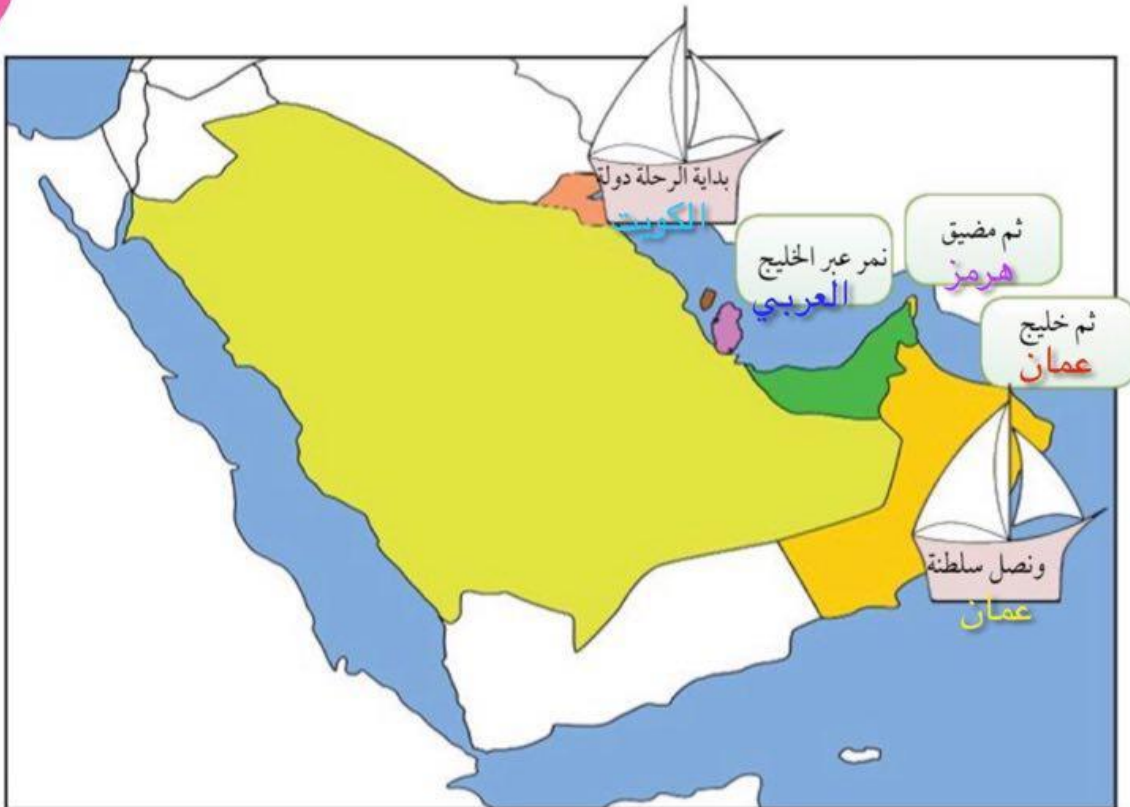
٢٤



٤- تعاون مع زملائك وسجل على الأشكال في الخريطة خط سير رحلتكم البحرية من دولة الكويت إلى سلطنة عُمان ثم

قم بإرسالها عبر وسائل التواصل الاجتماعي إلى أفراد أسرته.

٢٥



باستخدام الكود الذي على كتابك المدرسي

عدد دول الخليج العربية ...

A : ٥ دول

B : ٦ دول



باستخدام الكود الذي على كتابك المدرسي

سميت دول الخليج العربية لأنها تطل على
مسطح مائي اسمه ...

A : خليج عمان

B : البحر الأحمر

C : الخليج العربي



باستخدام الكود الذي على كتابك المدرسي

سميت دول الخليج العربية لأنها تطل على
مسطح مائي اسمه ...

A : خليج عمان

B : البحر الأحمر

C : الخليج العربي



باستخدام الكود الذي على كتابك المدرسي

منفذ أو ممر ضيق من الماء يفصل بين مسطحين
مائيين يسمى ...

A : المحيط

B : الخليج

C : البحر

D : المضيق

