



أولاً: الأسئلة الموضوعية وتتكون من ( أ ، ب ، ج ، د ، هـ ) :

أ) ضع الرمز ( √ ) للعبارة الصحيحة والرمز ( × ) للعبارة الغير صحيحة : \* أربع درجات

- (١) نبات كحيل من النباتات الطبيعية المعمرة . ( × ) ص ٤٠  
 (٢) تم تصدير أول شحنة من النفط الكويتي عام ١٩٤٦ م . ( √ ) ص ٥٠  
 (٣) ينكسر الحر وتنخفض درجات الحرارة في موسم المزم . ( × ) ص ٣٦  
 (٤) حيوانات المراعي أكثر الحيوانات استجابة للظروف المناخية المحلية . ( √ ) ص ٤٦

ب) ضع خطا تحت الخيار المناسب من بين الخيارات التي تلي كل عبارة : \* خمس درجات

- (١) الحيوان الذي يطلق عليه سفينة الصحراء :  
 \* الماعز      \* الجمل      \* البقره      \* الخروف      ص ٤٥

(٢) العام الذي تم فيه افتتاح مجلس الأمة :

- \* ١٩٦١ م      \* ١٩٦٢ م      \* ١٩٦٣ م      \* ١٩٦٤ م      ص ٥٢

(٣) العلم الذي تميز فيه سكان شبة الجزيرة العربية :

- \* الطب      \* الرياضيات      \* الفلك      \* الاجتماع      ص ٣٦

(٤) الرياح المغبرة التي تهب في فصل الصيف :

- \* البوارح      \* الكوس      \* السموم      \* الرياح الشمالية      ص ٣٧

(٥) المنطقة المناخية التي تقع ضمنها دولة الكويت :

- \* المتجمدة      \* الحارة      \* المعتدلة      \* الباردة      ص ٣٤

ج) صنف أعمال حكام دولة الكويت حسب الجدول التالي :

\* خمس درجات  
صدور عملة جديدة الدينار الكويتي - جعل الكويت دولة بدلا من اماره - منح امتياز التنقيب عن النفط للشركات الأجنبية - الغاء معاهدة الحماية ١٨٩٩م - اجراء اول انتخابات نيابية

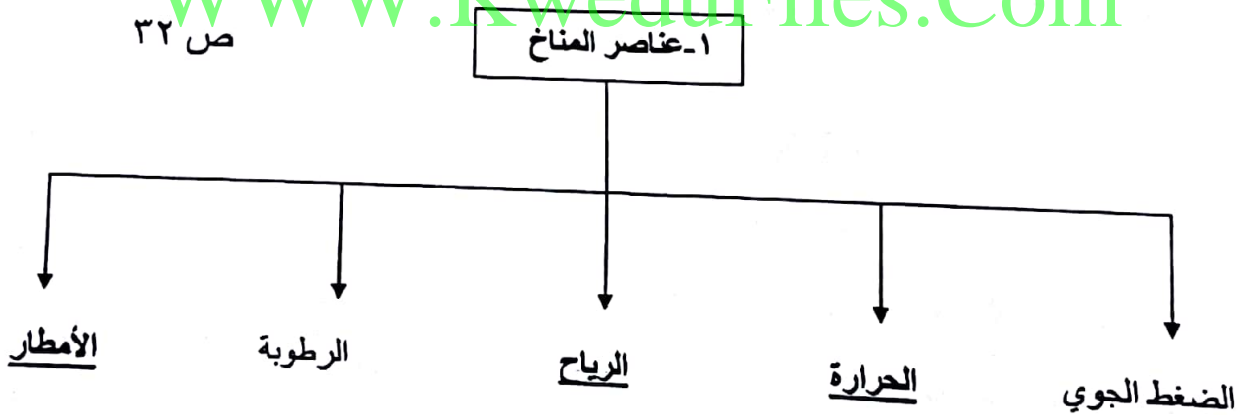
الحاكم أحمد الجابر ص ٥٠	الحاكم عبدالله السالم ص ٥٢
جعل الكويت دولة بدلا من اماره منح امتياز التنقيب عن النفط للشركات الأجنبية	صدور عملة جديدة الدينار الكويتي الغاء معاهدة الحماية ١٨٩٩م اجراء اول انتخابات نيابية

\* ست درجات:

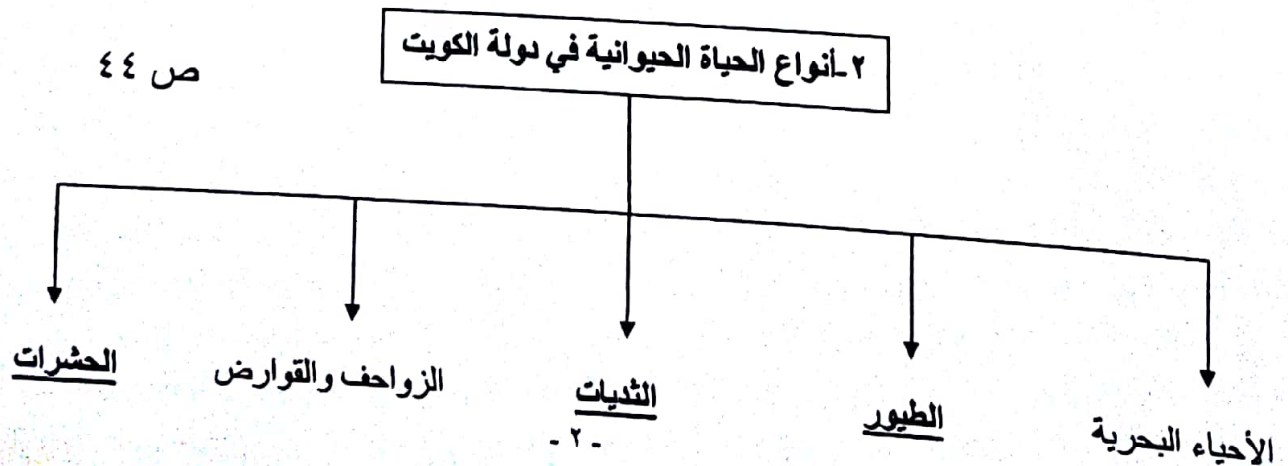
د) أكمل المخططات السهمية التالية :

WWW.KweduFiles.Com

ص ٣٢

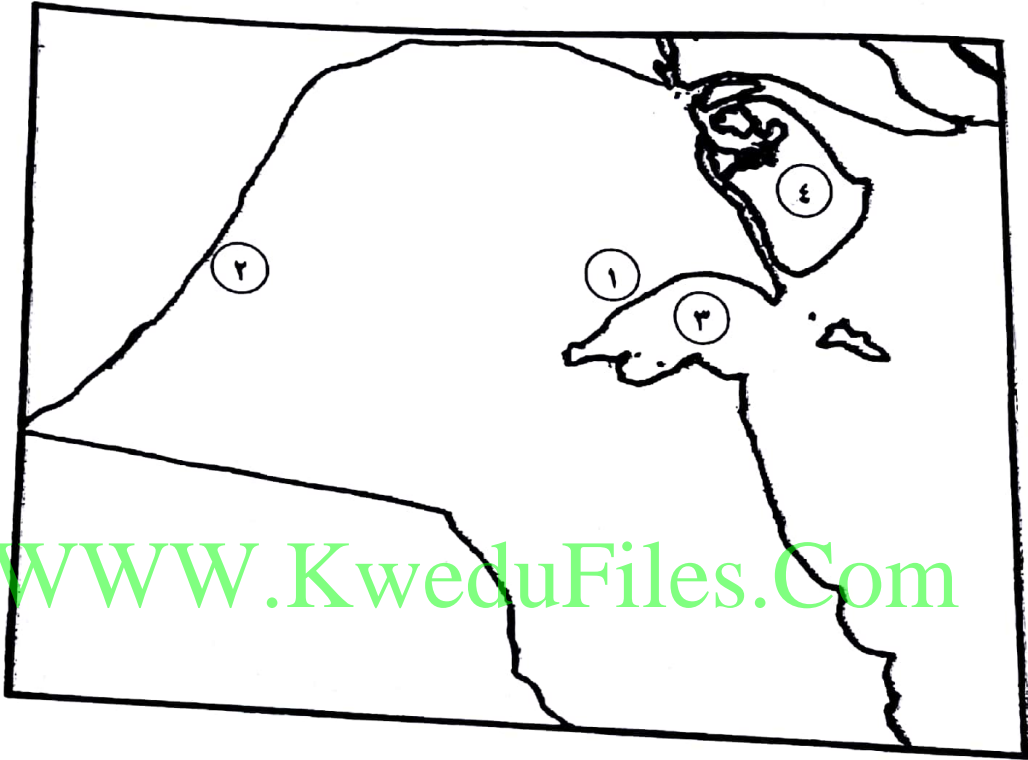


ص ٤٤



\* أربع درجات

هـ) امامك خريطة دولة الكويت نفذ المطلوب مما يليها :



ص٢٦

ص٢٦

ص٢٧

ص٢٦

- الرقم (١) يمثل تلال تسمى جال الزور

- الرقم (٢) يمثل وادي جاف يسمى وادي الباطن

- الرقم (٣) يمثل خليج صغير يسمى جون الكويت

- الرقم (٤) يمثل أحد الجزر الكويتية تسمى بوبيان



تابع نموذج اجابه امتحان الاجتماعيات - الصف الخامس - نهاية الفصل الدراسي الأول - ٢٠١٧ - ٢٠١٨ م

ثانيا : الأسئلة المقالية تتكون من ( أ ، ب ، ج ، د ، هـ ) :

(أ) عرف المفاهيم التالية :

\* ثلاث درجات

ص ٣٣

ص ٤٧

ص ٥٣

(١) سرايات : هي الامطار الرعديه التي تسقط في مارس وابريل ومايو.  
(٢) رعي جانر: هو الإفراط في الرعي  
(٣) استقلال : هو عبارة عن مسؤولية الدولة بصورة مباشرة عن إدارة شؤونها الداخلية والخارجية

(ب) علل لما يأتي :

\* خمس درجات

ص ٣٦

ص ٥٣

ص ٣٤

ص ٣٧

(١) تسمية موسم المربعانية بهذا الاسم .

\* بسبب استمرار شدة البرد وانخفاض الحرارة لمدة ٤٠ يوم

(٢) احتفال دولة الكويت باستقلالها كل عام في تاريخ ٢٥ فبراير بدلا من ٦/١٩ .

\* بسبب تاريخ جلوس الشيخ عبدالله السالم على كرسي الحكم وذلك تكريما له

(٣) اختلاف المناخ بين مناطق العالم ( يكتفى بنقطتين )

\* الموقع بالنسبة لدوائر العرض \* الارتفاع عن مستوى سطح الأرض  
\* توزيع اليابس والماء

(٤) تسمية رياح السموم بهذا الاسم .

\* تكون الرياح شديدة الحرارة

\* أربع درجات

(ج) اكتب نقطتين فقط حول كل من :

ص ٤٠

(١) الظروف المناخية المؤثرة على نمو الغطاء النباتي في دولة الكويت .

\* ارتفاع نسبة سطوع الشمس  
\* ارتفاع نسبة التبخر وقلة مياه الأمطار وعدم انتظامها

\* التفاوت في درجة الحرارة  
\* كثرة حدوث العواصف الترابية

ص ٣٦

(٢) فائدة معرفة أهل الكويت مواقع النجوم .

\* معرفة الاتجاهات الأصلية

\* معرفة أحوال المناخ

تابع نموذج اجابة امتحان الاجتماعيات - الصف الخامس - نهاية الفصل الدراسي الأول - ٢٠١٧ - ٢٠١٨ م

(د) قارن بين كل من حسب الجدول التالي :

\* درجتان ص ١٨

وجه المقارنة	خطوط الطول	دوائر العرض
الأهمية	تحديد التوقيت الزمني لأي دولة في العالم	تحديد نوع المناخ لأي دولة في العالم

WWW.KweduFiles.Com

\* درجتان ص ٤٠

(هـ) فرق بين كل من :

النباتات المعمرة او الدائمة	النباتات الحولية او الموسمية
هي ذات جذور عميقه تمتاز بصفات تعينها على الاستفادة من المياه القليله وتزدهر في فصل الربيع .	هي التي تتكاثر بعد سقوط المطر وتكمل دورة حياتها في فترة زمنية قصيره .