

نموذج إجابة  
إمتحان نهاية الفترة الدراسية الأولى  
للمادة الاجتماعيات ( بلادي الكويت )  
للفصل الخامس العام الدراسي ٢٠١٨/٢٠١٩ م

السؤال الأول : (موضوعي) : يتكون من (أ- ب - ج) :  
درجة لكل نقطة

(أ) أكمل العبارات التالية بما يناسبها :

- ١- خط طول وهمي يقسم الكرة الأرضية إلى نصفين شرقي وغربي تسمى جرينتش ص : ١٨
- ٢- الأمطار الرعدية في دولة الكويت يسمى السرايات ص : ٣٣ .
- ٣- أكبر الجزر الكويتية هي جزيرة بوبيان ص : ٢٦

(ب). استخراج الإجابة التي ( لا تنتمي ) للمجموعة وضع تحتها خط:

١- من أنواع الحيوانات الزواحف الموجودة في بلادي . ص ٤٤

أ- الحية      ب- العقرب      ج- الجمل      د- الجربوع

٢- أهم الظواهر المناخية الخاصة بالبيئة الكويتية . ص : ٣٦-ج

أ- الوسم      ب- الكتبان الرملية      ج- الثريا      د- المربعانية

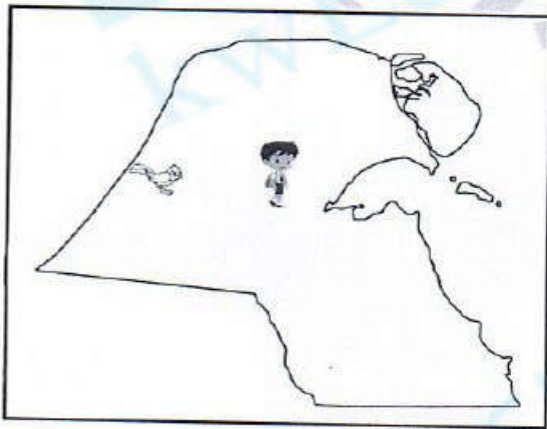
٣- من أهم قارات العالم : ص ٢٠

أ- آسيا      ب- الصين      ج- أوروبا      د- إفريقيا

(ج) لاحظ خريطة الكويت ، ثم أجب عن الأسئلة التالية :-

١. حمد يقف على تل يسمى كراع المرو ص : ٣٦

٢. الطائر يقف عند وادي يسمى الباطن ص : ٢٦



درجة لكل نقطة

السؤال الثاني (موضوعي) يتكون من (أ- ب - ج):

(أ) - أكتب المصطلح الدال على العبارات التالية ..

١. ( سبخات ) هي أرض منخفضة قليلة المياه تنمو فيها النباتات الملحية . ص ٢٧
٢. ( الموقع الفلكي ) هو موقع القارة أو الدولة بالنسبة لخطوط الطول ودوائر العرض ص ١٨
٣. ( النباتات الحولية ) هي التي تتكاثر بعد سقوط المطر وتكمل دورة حياتها في فترة زمنية قصيرة ص ٤٠

(ب) اختر الإجابة المناسبة للعبارات التالية مستعينا بما بين الأقواس :

( منطقة حارة - العرفج - الصحراوية - أم نقا - منطقة باردة )

١. المنطقة المناخية التي تقع فيها دولة الكويت تسمى منطقة حارة ص : ٣٤
٢. أحد أنواع النباتات الصحراوية المعمرة الموجودة في دولة الكويت يسمى العرفج . ص : ٤٠
٣. الكثبان الرملية موجود في شمال شرق دولة الكويت تسمى أم نقا ص : ٢٧

( ج ) صنف إنجازات حكام دولة الكويت حسب الجدول التالي :

١. رفع العلم الجديد لدولة الكويت
٢. حرب تحرير الكويت .
٣. قيام أول مجلس للشورى في الكويت

الشيخ عبد الله السالم الصباح	الشيخ أحمد الجابر الصباح
رفع العلم الجديد ص : ٥٢	قيام أول مجلس شورى ص : ٥٠



درجة لكل نقطة

السؤال الثالث : (موضوعي) : يتكون من (أ- ب- ج):

(أ)- لاحظ الصور ثم أجب على ما يلي .



(٣)



(٢)



(١)

١- الشخصية التي تحمل الرقم (١) تسمى الشيخ أحمد الجابر الصباح ص ٥٠

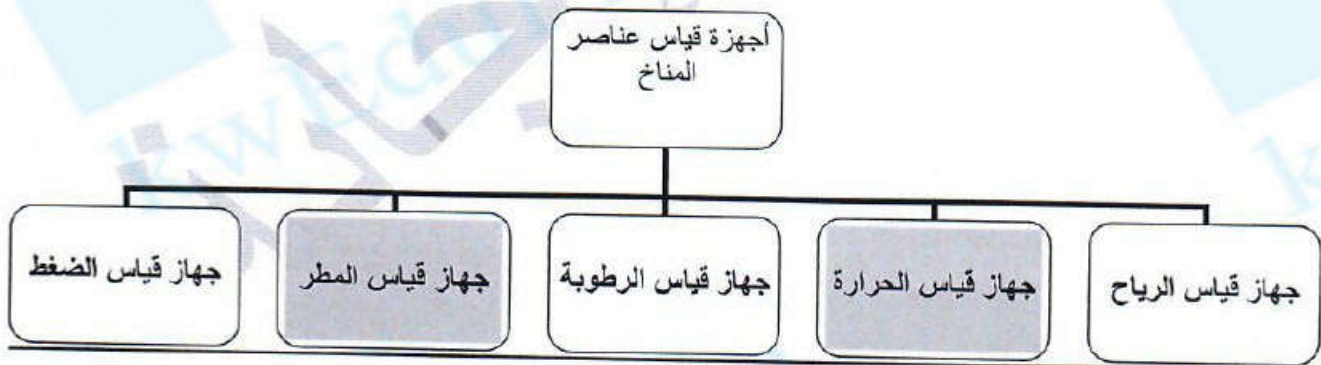
٢- الشخصية التي تحمل الرقم (٢) تسمى السيد الدكتور صالح العجيري ص ٣٦

٣- الشخصية التي تحمل الرقم (٣) تسمى الشيخ عبدالله السالم الصباح ص ٥٢

(ب) ظلل (أ) إذا كانت العبارة الصحيحة وظلل (ب) إذا كانت العبارة خاطئة :

(ب)	(أ)	العبارة
ب	أ	١- الموسم الذي يبدأ فيه سقوط المطر وظهور الفقع الوسم ص : ٣٧
ب	أ	٢- افتتاح المدرسة الأحمدية في سنة ١٩٢٢ ص ٥٠
ب	أ	٣- خط الاستواء يعتبر أحد خطوط الطول ص ١٧

(ج)- أكل المخطط التالي بما يناسب : ص ٣٣



درجة لكل نقطة

السؤال الرابع ( مقال ) ويتكون من ( أ - ب - ج ) :

( أ ) عرف المفاهيم التالية :

- ١- امتياز النفط : يعني إعطاء الدولة حق البحث والتنقيب عن النفط وبيعه لشركة أجنبية متخصصة تشارك الدولة في قسط من العائدات المالية لمدة معينة ص : ٥٠
- ٢- الدستور : وثيقة تتكون من مجموعة من المواد التي تنظم العلاقة بين الحاكم والمحكوم وتحدد حقوق وواجبات المواطنين نحو وطنهم ٥٢

( ب ) لاحظ الصورة ثم أجب عن الأسئلة التالية :



١- ما هو نوع الرعي الموجود في الصورة .

\* الرعي الجائر ص : ٤٧

٢- ما المشكلة التي تنتج عن هذا النوع من الرعي؟

\* التصحر

٣- اقتراح حلا للمشكلة السابقة :

\* إقامة محميات

\* وضع قوانين

\* وما يراه المعلم والمتعلم صحيح

( ج ) علل ما يلي :

١. تميز العرب بعلوم الفلك .

\* بسبب صفاء جوها . ص : ٣٧

٢. تحتفل دولة الكويت بالعيد الوطني في تاريخ ٢٥ فبراير من كل عام .

\* بسبب جلوس الشيخ عبد الله السالم الصباح على كرسي الحكم وذلك تكريما له ص : ٥٣

٣. أهمية خطوط الطول :

\* تحدد موقع الدول على الخريطة

\* تساعد على تحديد التوقيت الزمني لأي دولة في العالم ص : ١٨



درجة لكل نقطة

السؤال الخامس (مقالى) يتكون من (أ- ب- ج):

(أ) أكتب فيما يلى :

١- مجالات الإستفادة من مواقع النجوم للكويبتيين قديما. ص : ٣٦ (يكتفى بنقطة واحدة)

\* معرفة الاتجاهات الأصلية .

\* معرفة أحوال المناخ .

٢- العوامل المناخية التي أثرت على النبات الطبيعي في دولة الكويت . ص : ٤٠

\* التفاوت في درجة الحرارة \* العواصف الترابية

\* ارتفاع نسبة البخر\* ارتفاع نسبة سطوع الشمس

\* قلة مياه و الأمطار

(ب) ما النتائج المترتبة على كل من :

١- الاستماع لنشرة الأرصاد الجوية. ص : ٣٢

\* أخذ الحيطه و الحذر \* معرفة أحوال البحر

\* التعرف على نوع الملابس التي سوف نرتديها

\* أو ما يراه المتعلم والمعلم صحيح

٢. كلما ارتفعنا عن سطح البحر ١٥٠ درجة .

\*تقل درجة الحرارة بدرجة واحدة ص : ص ٣٤

(ج)قارن بين كلا مما يلى:

وجه المقارنة	النبات المعمر	النبات الحولي
التعريف	نبات ذو جذور طويلة وعميقة وتزهو في فصل الربيع ص ٤٠	تتكاثر بعد سقوط المطر وتكمل دورتها في فترة زمنية قصيرة ص ٤٠
أنواع	الثدييات الجمال الخروف الماعز أو غيرها ص ٤٤	الطيور العوسق - الصقر - الحمام أو غيرها ص ٤٤

تم الإجابة

عدد الأوراق: ٥ زمن الامتحان: ساعة وربع	امتحان الفترة الدراسية الأولى ( المتغيبون ) لمادة بلادي الكويت للصف الخامس للعام الدراسي: ٢٠١٨/٢٠١٩ م	وزارة التربية الادارة العامة لمنطقة الأحمدى التعليمية التوجيه الفني للاجتماعيات
---	---	---

كل نقطة بدرجة

السؤال الأول: موضوعي يتكون من (أ، ب)

أ. ضع علامة (√) أمام العبارة الصحيحة وعلامة (×) أمام العبارة الخاطئة:

- ١ . عدم وجود تضاريس مختلفة كالمرتفعات العالية والوديان يجعل الغطاء النباتي ضعيفا في الكويت ( √ ) ص ٤٢
- ٢ . يبلغ عدد المحيطات التي تشملها الكرة الأرضية ٦ محيطات. ( × ) ص ١٦
- ٣ . الكويت دولة كبيرة المساحة. ( × ) ص ٢٠
- ٤ . دوارة الرياح تقيس اتجاه وسرعه الرياح. ( √ ) ص ٣٣

ب. اختر الاجابة الصحيحة من بين الخيارات التي تلي كل عبارة:

١ . أكبر المحيطات مساحة : ص ١٦

د-الهادي

ج-الأطلسي

ب-القطبي الشمالي

أ-الهندي

٢ . الحيوان الذي يطلق عليه سفينة الصحراء: ص ٤٤



د



ج



ب



أ

٣ . الحاكم العاشر لدولة الكويت الشيخ : ص ٥٠

د-صباح الأحمد

ج- أحمد الجابر

ب-عبد الله السالم

أ- جابر الأحمد

٤ . حصلت دولة الكويت على استقلالها في عام : ص ٥٣

د-١٩٦٤م

ج-١٩٦٣م

ب-١٩٦٢م

أ-١٩٦١م



كل نقطة بدرجة

السؤال الثاني: موضوعي يتكون من (أ، ب)

أ. أكمل العبارات التالية بما يناسبها:

١ يبلغ عدد قارات العالم .....٧ قارات..... ص ١٧

٢ تبلغ مساحة دولة الكويت .....١٧,٨١٨.....كم ص ٢٠

٣ -القارة التي تقع بها دولة الكويت تسمى.....آسيا..... ص ٢٢

٤ -يطلق على الأمطار الرعدية التي تسقط في دولة الكويت في مارس وأبريل ومايو اسم .....السرايات..... ص ٣٣

ب . أكمل المخطط السهمي التالي :

عناصر المناخ ص ٣٢



كل نقطة بدرجة

السؤال الثالث: موضوعي يتكون من (أ، ب)

أ. اكتب المصطلح العلمي الدال على العبارات التالية:

١. (.....الموقع الفلكي.....) موقع الدولة بالنسبة لخطوط الطول ودوائر العرض. ص ١٩

٢. (.....الدولة البحرية.....) الدولة التي لها منفذ بحري. ص ٢٣


٣. (.....السيخات.....) أراضي منخفضة قليلة المياه تنمو فيها النباتات الملحية. ص ٢٧

٤. (.....البوارح.....) رياح مغبرة تهب في فصل الصيف. ص ٣٧


ب. اكتب تعليقا مناسباً أسفل الصورة:



٢- .....وادي..... ص ٢٨



١- .....الكثبان الرملية ..... ص ٢٧



٤- .....العرفج..... ص ٤٠



٣- .....الحمسة / سلحفاة..... ص ٤٥



كل نقطة بدرجة

السؤال الرابع: مقالتي يتكون (من أ، ب)


أ. قارن بين خطوط الطول ودوائر العرض:

وجه المقارنه	خطوط الطول	دوائر العرض
العدد	٣٦٠	١٨٠
الأهمية	تحديد التوقيت الزمني / تحديد موقع الدول	تحديد مواقع الدول / تحديد نوع المناخ

ب. اكتب مدلولات الصور التالية:



٢- جزيرة ص ٢٨



١- جون ص ٢٨



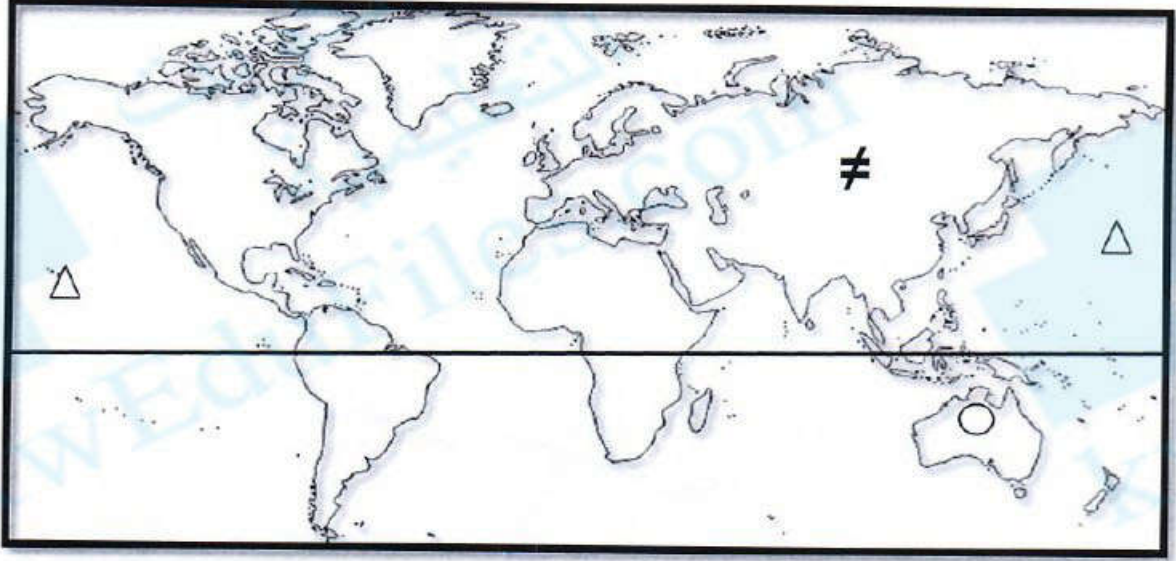
٤- د. صالح العجيري ص ٣٦



٣- جهاز قياس الرطوبة ص ٣٣

كل نقطة بدرجة

السؤال الخامس: مقالتي يتكون من (أ، ب)  
أ. لاحظ خريطة العالم ثم نفذ المطلوب:



\* حدد بالرمز (≠) قارة آسيا

\* حدد بالرمز (△) المحيط الهادي

\* حدد بالرمز (○) قارة استراليا

\* ارسم خط الاستواء (-----)

ب- اكتب ما تعرفه عن :-

١- الإنجازات الخارجية للشيخ عبد الله السالم الصباح. ص ٥٢

\* ---الغاء معاهدة الحماية ١٨٩٩م واستبدالها بمعاهدة تعاون وصداقة ١٩٦١ مع بريطانيا ---

\* ---الانضمام للجامعة العربية ١٩٦١م- \* --الانضمام لهيئة الأمم المتحدة ١٩٦٣م

٢- أسباب التي أدت الى اختلاف المناخ بين مناطق العالم. ص ٣٤

\* الموقع بالنسبة لليابس والماء

\* توزيع اليابس والماء

\* الارتفاع عن مستوى سطح البحر