

تم تحميل هذا الملف من موقع ملفات الكويت التعليمية



[com.kwedufiles.www//:https](https://www.kwedufiles.com)

*للحصول على أوراق عمل لجميع الصفوف وجميع المواد اضغط هنا

* للحصول على أوراق عمل لجميع مواد الصف الخامس اضغط هنا

<https://kwedufiles.com/5>

* للحصول على جميع أوراق الصف الخامس في مادة اجتماعيات وجميع الفصول, اضغط هنا

<https://kwedufiles.com/5social>

* للحصول على أوراق عمل لجميع مواد الصف الخامس في مادة اجتماعيات الخاصة بـ الفصل الأول اضغط هنا

<https://www.kwedufiles.com/5social1>

* لتحميل كتب جميع المواد في جميع الفصول للـ الصف الخامس اضغط هنا

<https://www.kwedufiles.com/grade5>

* لتحميل جميع ملفات المدرس التوجيه الفني للإجتماعيات اضغط هنا

[bot_kwlinks/me.t//:https](https://t.me/bot_kwlinks)

* للحصول على جميع روابط الصفوف على تلغرام وفيسبوك من قنوات وصفحات: اضغط هنا

الروابط التالية هي روابط الصف الخامس على مواقع التواصل الاجتماعي

مجموعة الفيسبوك

صفحة الفيسبوك

مجموعة التلغرام

بوت التلغرام

قناة التلغرام

رياضيات على التلغرام

نموذج امتحان نهايه الفتره الدراسيه الاولى
ماده بلادي الكويت -للمصف الخامس

السؤال الأول ويتكون من (أ-ب-ج)

أ- ظلل الحرف (أ) إذا كانت الاجابه صحيحه والحرف (ب) إذا كانت الاجابه خاطئه:

الرقم	العباره	(أ)	(ب)
١	يتكون سطح الكره الأرضيه من يابس وماء	(أ)	(ب)
٢	تغطي المياه حوالي ٣٠٪ من سطح الكره الأرضيه	(أ)	(ب)
٣	يوجد اليابس على شكل قارات	(أ)	(ب)
٤	اللون الأصفر في الخريطه يدل على الماء	(أ)	(ب)
٥	شكل مجسم الكره الأرضيه كروي	(أ)	(ب)

ب- ضع خطاً تحت العنصر المناسب من بين الخيارات التي تلي كل عبارته:

١- مسطح مائي كبير جدا من الماء المالح:	- خليج	- محيط	- مضيق
٢- بحر ضيق يمتد طوليا بين اليابس:	- خليج	- محيط	- مضيق
٣- مسطح مائي اصغر من المحيط يفصل بين القارات:	- خليج	- محيط	- مضيق
٤- أكبر المحيطات على الكره الأرضيه:	- المحيط الهادي	- المحيط الاطلسي	- المحيط المتجمد الشمالي
٥- تطل بلادي الكويت على مسطح مائي يسمى:	- البحر الاحمر	- الخليج العربي	- البحر الابيض المتوسط

ج- ظلل المربع الصحيح أمام كل عبارته من العبارات :

١- مساحه اليابس بالنسبه للماء على الكره الارضيه

أقل	أكثر
-----	------

٢- عدد محيطات العالم

٥	٦
---	---

السؤال الثاني: يتكون من (أ-ب-ج):
أ-صل القائمة (أ) بما يناسبها من القائمة (ب):

الرقم	(أ)	الرقم	(ب)
١	القاره		القاره القطبيه الجنوبيه
٢	تقع بلادي الكويت في قاره		مساحه كبيره من اليابسه يحيط بها الماء
٣	قاره غير مأهوله بالسكان		آسيا
٤	أصغر قارات العالم		أستراليا

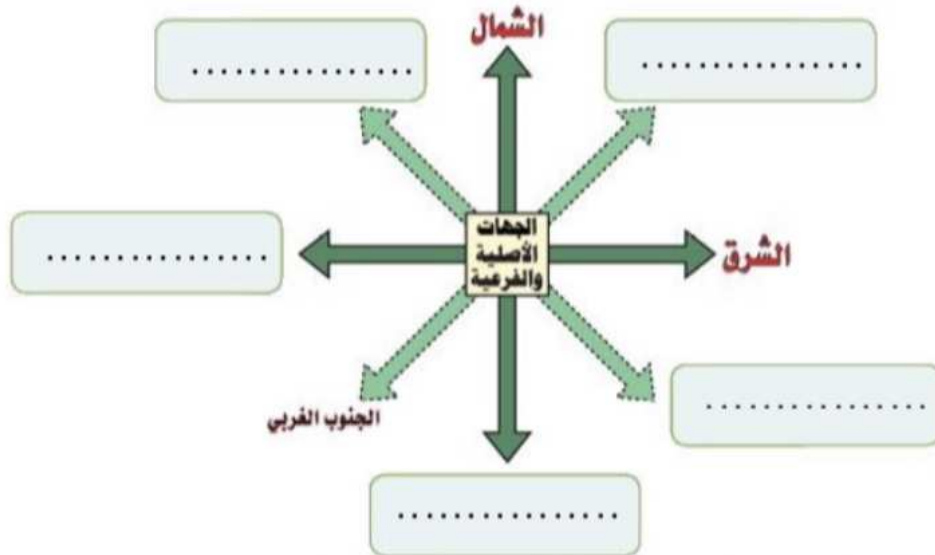
ب-صوب الخطأ في العبارات التاليه وذلك بكتابه الأجابه الصحيحه بين القوسين:

- ١-يتكون العالم من ٦ قارات ()
٢-قاره أستراليا اكبر قارات العالم ()
٣-المحيط الهادي أصغر محيطات العالم ()

ج-ضع دائره حول العنصر الذي لا ينتمي للمجموعه فيمايلي:

- ١-دول الخليج العربيه (دوله الكويت -دوله قطر -سلطنه عمان-دوله البحرين-جمهورية مصر العربيه)
٢-الاتجاهات الاصليه هي (الشمال -الشرق-الغرب-الجنوب-الشمال الغربي)
٣-مسطحات مائيه تطل عليها دول الخليج العربيه
(الخليج العربي-مضيق هرمز-بحرالبحر العرب-البحر الابيض المتوسط-خليج عمان)

السؤال الثالث: أكمل المخطط السهمي التالي بما يناسبه:

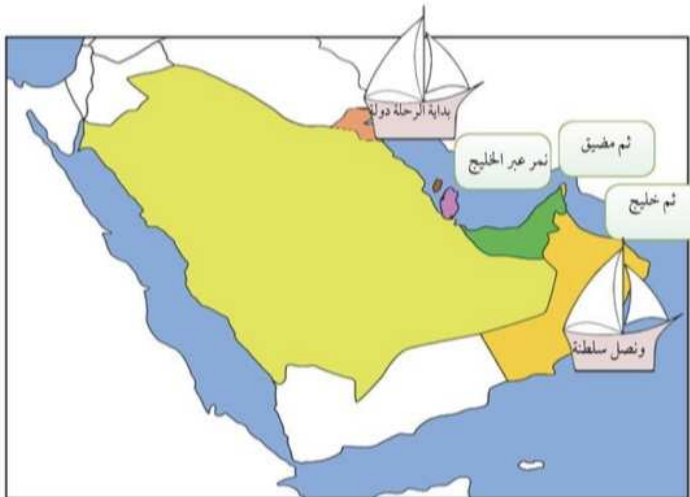


السؤال الرابع: يتكون من (أ، ب، ج):

أ- عرف مايلي:

- ١-خليج:
- ٢-بحر:
- ٣-محيط:
- ٤-قاره:
- ٥-مضيق:
- ٦-وطن عربي:
- ٧-قناه:
- ٨-عالم إسلامي:
- ٩-موارد طبيعيه:
- ١٠-موارد حيه:
- ١١-موارد غير حيه:
- ١٢-نبات طبيعي:
- ١٣-نبات معمر:
- ١٤-نبات حولي:
- ١٥-محميه طبيعيه:
- ١٦-إستزراع الأسماك:
- ١٧-نفط:
- ١٨-بيئته:
- ١٩-ترشيد الاستهلاك:

ب-لاحظ الخريطة امامك ثم أجب عمايليها من أسئلته:



سجل أسم المسطحات المائيه
التي تطل عليها دول الخليج العربيه على
الخريطة


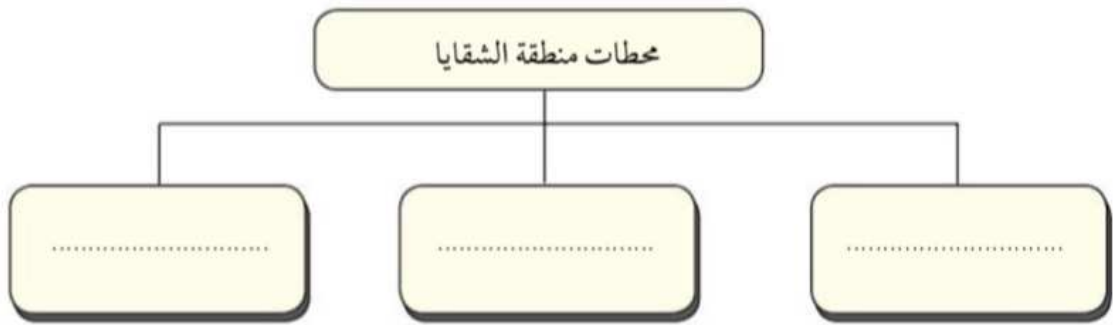
اصنف الموارد الطبيعية السابقة وفق الجدول التالي:

مجموعة الموارد غير الحية	مجموعة الموارد الحية
.....
.....
.....

١ - حدّد منطقة الشقاييا على خريطة بلادك الكويت.



٢ - أكمل الشكل التالي:



٣ - حوّل نسبة طلب الكويت من الكهرباء من خلال الطّاقة

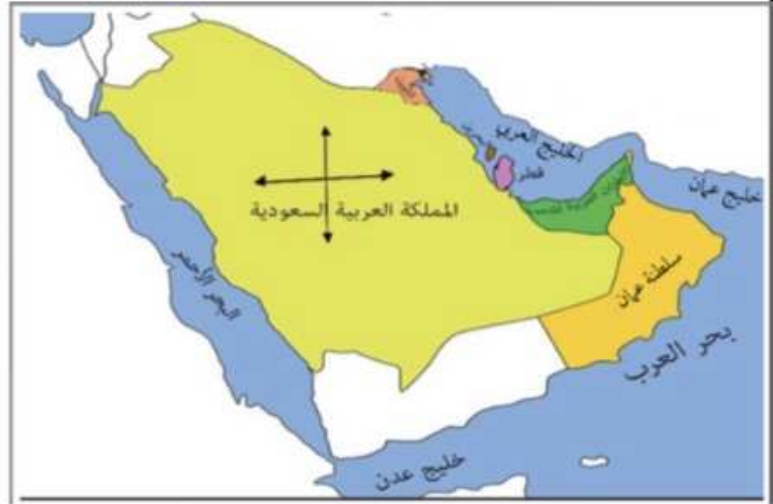
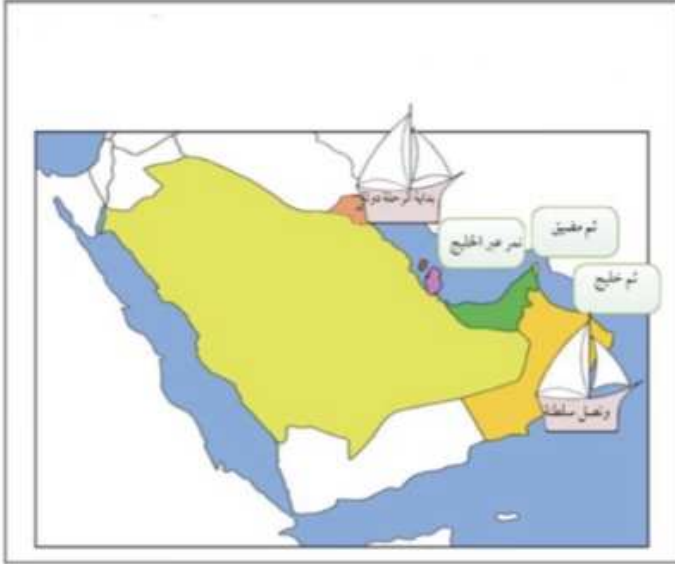
المتجدّدة على الدائرة البيانية وظللها.

ملحق خرائط الكتاب المدرسي للتدريب على :

١- أسم الخريطة

٢- التحديد على الخريطة بدقه

٣- التمييز بين الخرائط



من إعداد معلمه المادة: ساره الهاجري

