

تم تحميل هذا الملف من موقع ملفات الكويت التعليمية



[com.kwedufiles.www//:https](https://www.kwedufiles.com)

*للحصول على أوراق عمل لجميع الصفوف وجميع المواد اضغط هنا

* للحصول على أوراق عمل لجميع مواد الصف الخامس اضغط هنا

<https://kwedufiles.com/5>

* للحصول على جميع أوراق الصف الخامس في مادة اجتماعيات وجميع الفصول, اضغط هنا

<https://kwedufiles.com/5social>

* للحصول على أوراق عمل لجميع مواد الصف الخامس في مادة اجتماعيات الخاصة بـ الفصل الأول اضغط هنا

<https://www.kwedufiles.com/5social1>

* لتحميل كتب جميع المواد في جميع الفصول للصف الخامس اضغط هنا

<https://www.kwedufiles.com/grade5>

[bot_kwlinks/me.t//:https](https://t.me/bot_kwlinks)

للحصول على جميع روابط الصفوف على تلغرام وفيسبوك من قنوات وصفحات: اضغط هنا

الروابط التالية هي روابط الصف الخامس على مواقع التواصل الاجتماعي

مجموعة الفيسبوك

صفحة الفيسبوك

مجموعة التلغرام

بوت التلغرام

قناة التلغرام

رياضيات على التلغرام



أجب عن جميع الأسئلة التالية :السؤال الأول : يتكون من (أ - ب - ج - د - هـ) :(أ) اختر البديل المناسب من بين البدائل التي تلي كل عبارة :

١- نسبة ما تغطيه المياه من سطح الكرة الأرضية تبلغ حوالي : ص ١٧

(٥٠% - ٦٠% - ٧٠% - ٨٠%)

٢- تم حفر بئر بحر النفط عام ١٩٣٦م في عهد الشيخ : ص ٥٩

(مبارك الصباح - أحمد الجابر الصباح - عبدالله السالم الصباح - صباح السالم الصباح)

٣- يبلغ عدد قارات العالم : ص ٢١

(٧ - ٨ - ٩ - ١٠)

٤- مصدر من مصادر الطاقة المتجددة : ص ٧٣

(الفحم - النفط - الغاز الطبيعي - الرياح)

٥- تقع بلادي الكويت في قارة : ص ٢١

(آسيا - أفريقيا - استراليا - أوروبا)

(ب) أكمل العبارات التالية مستعينا مما بين القوسين :

(١٩٣٨م - القناة - التدوير - العرفج - ترشيد الاستهلاك - الخزامى - المضيق - ١٩٤٦م)

١- منفذ أو ممر ضيق من الماء يفصل بين مسطحين مائيين يسمى المضيق ص ٢٤٢- من أهم خطواته فرز النفايات حسب نوعها إما زجاج أو بلاستيك أو ورق يسمى التدوير ص ٦٤٣- أهم النباتات المعمرة (الدائمة) في دولة الكويت تسمى العرفج ص ٤٢٤- ممر مائي صناعي يشق للربط ما بين مسطحين مائيين يسمى القناة ص ٢٨

٥- تم تصدير أول شحنة نفط في الكويت عام ١٩٤٦م ص ٥٩

(ج) ضع علامة (√) أو (x) أمام كل عبارة :

١- القارة هي مساحة كبيرة من اليابسة يحيط بها الماء ص ٢١ (√)

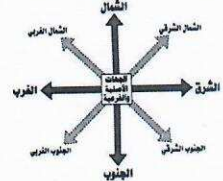




٢- سُميت دول الخليج العربية بهذا الاسم لأنها تطل على بحر العرب ص ٢٣ (x)

٣- يبلغ عدد دول الوطن العربي ٢٢ دولة ص ٢٦ (√)

٤- تعتبر النباتات والأسماك من الموارد غير الحية ص ٣٨ (x)

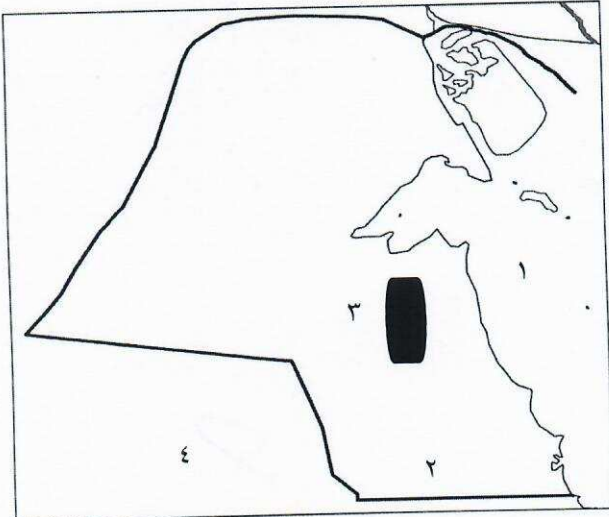
٥- من أشهر المحميات في دولة الكويت محمية صباح الأحمد الطبيعية ص ٤٥ (√)

(د) صل المجموعة (أ) بما يناسبها بالمجموعة (ب) بوضع الرقم المناسب:

المجموعة (ب)	الرقم	المجموعة (أ)
الثروة النفطية ص ٥٥	٤	
الطاقة الشمسية ص ٧٤	٥	
الجهات الاصلية والفرعية ص ٢٣	١	
وزارة الكهرباء والماء ص ٦٥	٣	
الثروة السمكية ص ٥٣	٢	

ص ٥١ ص ٦٠

(هـ) لاحظ خريطة دولة الكويت ثم أجب عن الأسئلة التي تليها:



- الرقم (١) يمثل مسطح مائي يسمى الخليج العربي
- الرقم (٢) يمثل منطقة لتربية الثروة الحيوانية تسمى الوفرة
- الرقم (٣) يمثل حقل نفطي يسمى برقان
- الرقم (٤) يمثل دوله خليجية عربيه تسمى المملكة العربية السعودية

السؤال الثاني: يتكون من (أ - ب) :

(أ) عدد كل من :

١- خصائص الغاز الطبيعي . ص ٧٨ يكتفي بنقطتين (درجتان)

* آمن جداً و صديق للبيئة * أكثر أنواع الطاقة استخداماً

* يعد من الغازات غير السامة * ليس له رائحة ولا لون

٢- استخدامات النفط كمصدر أساسي للطاقة. ص ٥٥ يكتفي بنقطتين (درجتان)

(ما يراه المصحح مناسب)

* يستخدم في الإضاءة والتدفئة * يدخل في الصناعات الكيماوية

* يستخدم مشتقاته البنزين والكيروسين في تشغيل المصانع وتحريك السيارات ووسائل النقل المختلفة

(ما يراه المصحح مناسب)

(ب) ما الفرق بين كل من : ٤ درجات

النباتات المعمرة (الدائمة)	النباتات الحولية (الموسمية) ص ٤٢
هي نباتات تنمو طول العام وجذورها عميقة تساعدها على الاستفادة من الماء مثل (العرفج - الرمث)	هي حشائش تنبت بعد سقوط الأمطار وتموت بسرعة مثل (الربلة - الخزامى)
المحيط	البحر ص ١٩
مسطح كبير جداً من الماء المالح	مسطح مائي أصغر من المحيط يفصل بين القارات

السؤال الثالث : يتكون من (أ - ب) :

(أ) أجب عن الأسئلة التالية :

١- ما هي السمات المشتركة التي تجمع بين دول الوطن العربي؟ يكتفي بنقطتين (درجتان)

- الدين الإسلامي
- اللغة العربية
- التراث
- * التاريخ
- * الأهداف المشتركة

٢- ما أهمية النباتات الطبيعية؟ يكتفي بنقطتين (درجتان) ص ٤٢

- يستفاد منها في رعي الحيوانات .
- الحصول علي الأخشاب والوقود .
- صناعة الأدوية والصابون

(ب) لاحظ الصورة المقابلة ثم أجب عن الأسئلة التالية :

١- ما هي أنواع الأسماك في مياه الخليج العربي؟ يكتفي بنقطتين (درجتان) ص ٥٣

- الزبيدي (ما يراه المصحح مناسب)

-الهامور

- الميد

- الشعم

- الربيان

٢- ما أدوات الصيد القديمة التي استخدمها الكويتيون لصيد الأسماك؟ يكتفي بنقطتين (درجتان)

(ما يراه المصحح مناسب)

- الحضرة

- القرقور

- الشباك

