

تم تحميل هذا الملف من موقع ملفات الكويت التعليمية



[com.kwedufiles.www//:https](https://www.kwedufiles.com)

\*للحصول على أوراق عمل لجميع الصفوف وجميع المواد اضغط هنا

\* للحصول على أوراق عمل لجميع مواد الصف الخامس اضغط هنا

<https://kwedufiles.com/5>

\* للحصول على جميع أوراق الصف الخامس في مادة اجتماعيات وجميع الفصول, اضغط هنا

<https://kwedufiles.com/5social>

\* للحصول على أوراق عمل لجميع مواد الصف الخامس في مادة اجتماعيات الخاصة بـ الفصل الأول اضغط هنا

<https://www.kwedufiles.com/5social1>

\* لتحميل كتب جميع المواد في جميع الفصول للـ الصف الخامس اضغط هنا

<https://www.kwedufiles.com/grade5>

\* لتحميل جميع ملفات المدرس منطقة الجهراء التعليمية اضغط هنا

[bot\\_kwlinks/me.t//:https](https://t.me/bot_kwlinks)

\* للحصول على جميع روابط الصفوف على تلغرام وفيسبوك من قنوات وصفحات: اضغط هنا

الروابط التالية هي روابط الصف الخامس على مواقع التواصل الاجتماعي

مجموعة الفيسبوك

صفحة الفيسبوك

مجموعة التلغرام

بوت التلغرام

قناة التلغرام

رياضيات على التلغرام



وزارة التربية

الإدارة العامة لمنطقة الجهاد التعليمية

امتحان نهاية الفصل الدراسي الأول  
٢٠٢٠ / ٢٠١٩

الصف	الخامس
المادة	الاجتماعيات



وزارة التربية  
مكتب المدير العام  
الإدارة العامة لمنطقة الجهاد التعليمية



وزارة التربية  
مكتب المدير العام  
الإدارة العامة لمنطقة الجهاد التعليمية



أولاً: الأسئلة الموضوعية وتتكون من ( أ ، ب ، ج ، د ، هـ )

أ) ضع الرمز ( ✓ ) للعبارة الصحيحة والرمز ( × ) للعبارة غير الصحيحة : ( ٥×١ )

- ١- يبلغ عدد دول الوطن العربي ٢٥ دولة . ( × ) ص ٢٦  
٢- نبات العرفج من النباتات الطبيعية المعمرة . ( ✓ ) ص ٤٢  
٣- تم حرق آبار النفط الكويتية عام ١٩٩٥ م . ( × ) ص ٥٩  
٤- تعتبر الرياح من أقدم مصادر الطاقة التي عرفها الإنسان . ( ✓ ) ص ٧٦  
٥- تقع بلادي الكويت في وسط العالم الإسلامي . ( ✓ ) ص ٣٠

ب) ضع خطأ تحت الخيار الصحيح من بين الخيارات التي تلي كل عبارة : ( ٥×١ )

- ١- أكبر قارات العالم مساحة وأكثرها سكانا :  
\* آسيا \* \* أوروبا \* \* استراليا \* \* أفريقيا \* ( ص ٢١ )

- ٢- الإقليم المناخي الذي تقع ضمنه بلادي الكويت :  
\* المتجمد \* \* الصحراوي \* \* الإستوائي \* \* البارد \* ( ص ٤١ )

- ٣- العام الذي اكتشف فيه الغاز الحر في دولة الكويت :  
\* ٢٠٠٤ م \* \* ٢٠٠٥ م \* \* ٢٠٠٦ م \* \* ٢٠٠٧ م \* ( ص ٧٨ )

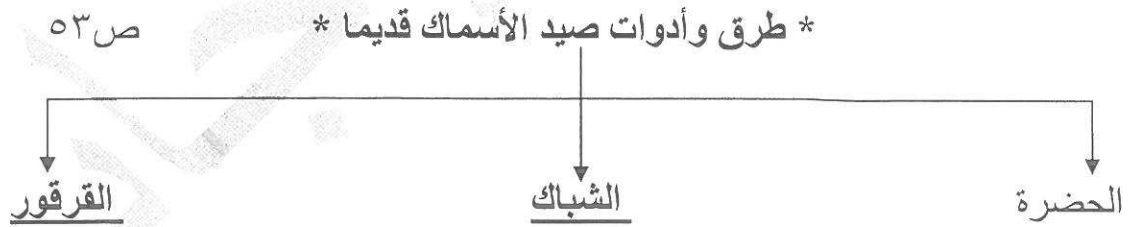
- ٤- نسبة احتياطي النفط الكويتي بالنسبة للاحتياطي العالمي تبلغ :  
\* ١٠% \* \* ٢٠% \* \* ٣٠% \* \* ٤٠% \* ( ص ٥٨ )

- ٥- الميناء الذي تم تصدير أول شحنة نفط كويتي منه :  
\* عبدالله \* \* الزور \* \* الشعبية \* \* الأحمدي \* ( ص ٥٩ )

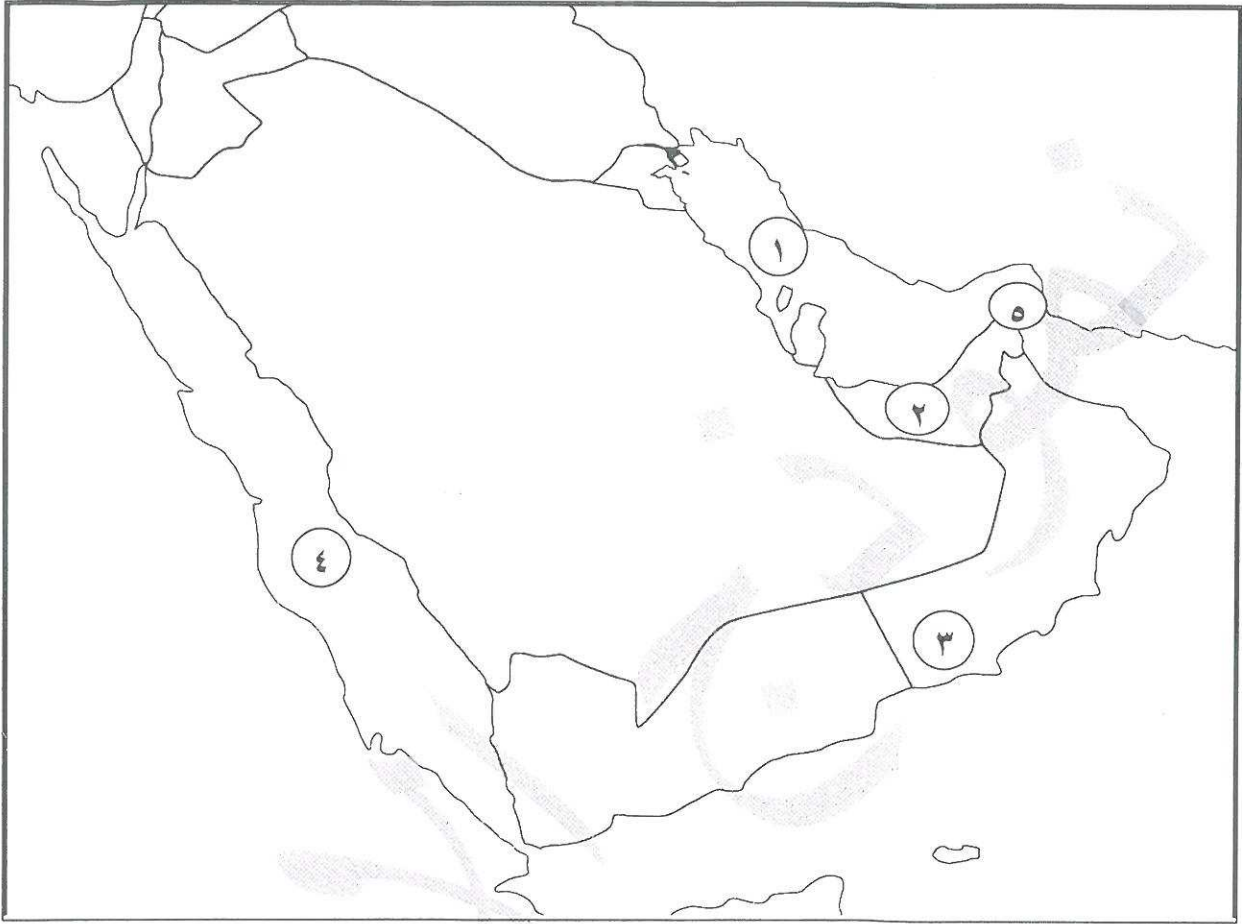
ج) أكمل العبارات التالية بما يناسبها فيما درست: (١ × ٥)

- ١- أداة تحول حركة الرياح إلى طاقة تسمى ....دوارة الرياح .... ص٧٦
- ٢- استخدام الموارد المتاحة بالشكل الأمثل يسمى ....ترشيد الاستهلاك .... ص٦٤
- ٣- اكتشف حقل برقان عام ١٩٣٨ م في عهد حاكم اسمه...أحمد الجابر الصباح... ص٥٩
- ٤- تبلغ نسبة المياه على سطح الكرة الأرضية حوالي .... ٧٠ % ص١٧
- ٥- محطة كويتية لتوليد الكهرباء باستخدام طاقة الرياح تسمى ... الشقاي ... ص٨٠

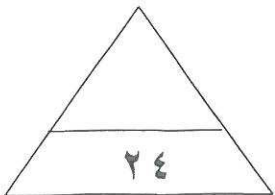
د) أكمل المخططات السهمية التالية بما يناسبها فيما درست: (١×٥=٥)



هـ) لاحظ خريطة شبه الجزيرة العربية ثم نفذ المطلوب مما يليها : (١×٤ = ٤)



- \* - مضيق هرمز يمثل على الخريطة الرقم ..٥.. (ص ٢٤)
- \* - الخليج العربي يمثل على الخريطة الرقم ..١.. (ص ٢٤)
- \* - البحر الأحمر يمثل على الخريطة الرقم ..٤.. (ص ٢٤)
- \* - دولة الإمارات العربية المتحدة يمثلها على الخريطة الرقم .. ٢.. (ص ٢٤)



ثانيا : الأسئلة المقالية تتكون من ( أ ، ب ، ج ، د ، هـ )

أ) عرف كل مما يلي : (٢×١)

- ١) قارة : هي مساحة كبيرة من اليابسة يحيط بها الماء (ص ٢١)  
٢) طاقة : القدرة على القيام بعمل معين (ص ٧٣)

ب) اذكر اثنين لكل من : ( درجتان لكل سؤال)

١- السمات المشتركة بين دول الوطن العربي. ( يكتفى بنقطتين)

- \* الدين \* اللغة العربية \* التراث \* التاريخ \* الأهداف المشتركة (ص ٢٦)

٢- جهود دولة الكويت في تشجيع تربية حيوانات الرعي والدواجن . (يكتفى بنقطتين)

- \* توفير المزارع الخاصة \* الرعاية البيطرية  
\* الدعم المالي \* الأعلاف بأسعار رمزية (ص ٥١)

٣- أشهر أنواع الأسماك في بلادي الكويت. (يكتفى بنقطتين)

- \* الزبيدي \* الهامور  
\* الميد \* الشعم (ص ٥٣)

ج) علل لما يلي: ( أذكر السبب)

١- معظم النباتات تنمو في فصل الربيع وتقل في فصل الصيف.

- \* شدة الحرارة.  
\* قلة الأمطار.  
\* فقر التربة.  
(ص ٤٢)

(د) فرق بين كل مما يلي : (٢×١)

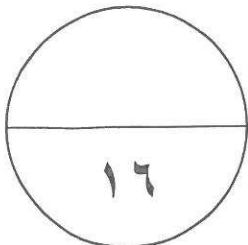
(ص ١٩)

المحيط	الخليج
مسطح كبير جدا من الماء المالح	بحر ضيق يمتد طوليا بين اليابس

(هـ) قارن بين كل مما يلي : (٢×٢)

(ص ٧٣)

الطاقة غير المتجددة	الطاقة المتجددة	وجه المقارنة
الفحم - النفط - الغاز الطبيعي	الرياح - المياه - الشمس	المصدر
*يكتفى بنقطة	*يكتفى بنقطة	
متوفرة حاليا بكميات كبيرة تنتج طاقة حرارية كبيرة جدا	غير ملوثة للبيئة متواجدة بشكل دائم اقتصادية بديلة عن الطاقة غير المتجددة	المميزات
*يكتفى بنقطة	*يكتفى بنقطة	



انتهت الأسئلة،،،