

تم تحميل هذا الملف من موقع المناهج الإماراتية



*للحصول على أوراق عمل لجميع الصفوف وجميع المواد اضغط هنا

<https://almanahj.com/ae>

* للحصول على أوراق عمل لجميع مواد الصف الثاني عشر اضغط هنا

<https://almanahj.com/ae/12>

* للحصول على جميع أوراق الصف الثاني عشر في مادة اجتماعيات وجميع الفصول, اضغط هنا

<https://almanahj.com/ae/12social>

* للحصول على أوراق عمل لجميع مواد الصف الثاني عشر في مادة اجتماعيات الخاصة بـ الفصل الأول اضغط هنا

<https://almanahj.com/ae/12social1>

* لتحميل كتب جميع المواد في جميع الفصول للـ الصف الثاني عشر اضغط هنا

<https://almanahj.com/ae/grade12>

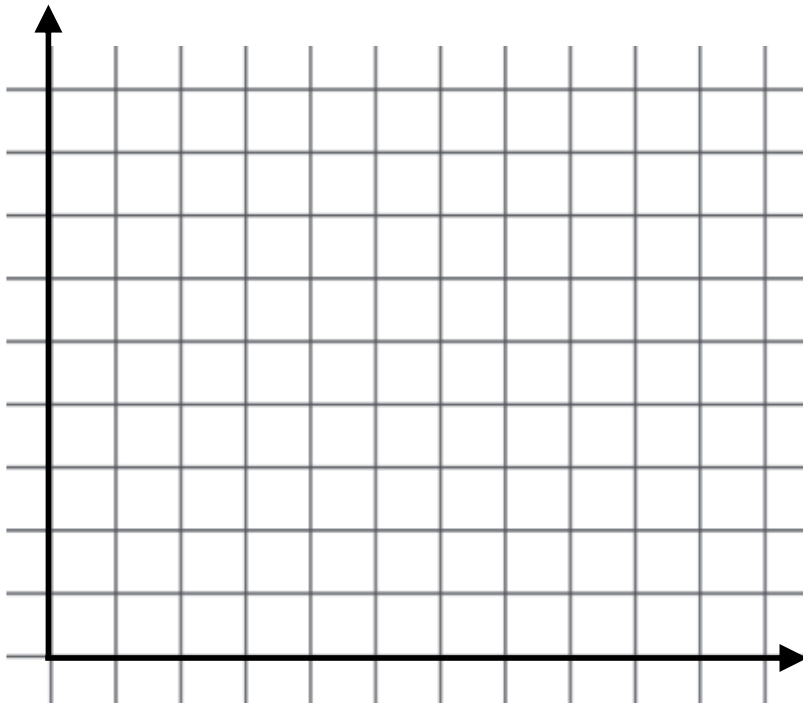
للتحدث إلى بوت المناهج على تلغرام: اضغط هنا

https://t.me/almanahj_bot

سؤال 1 - مثل بيانياً بطريقة الأعمدة البيانات حجم الاستهلاك المحلي في الصين والهند

بيانات الاستهلاك المحلي للطاقة في أكبر 10 دول مستهلكة للطاقة عالمياً عام 2008 م

الدولة	حجم الاستهلاك المحلي - 2008 (مليون برميل يومياً)	نسبة الاستهلاك المحلي / العالمي
الولايات المتحدة	19,419	22,5%
الصين	7,999	9,6%
اليابان	4,845	5,6%
الهند	2,882	3,4%
روسيا الاتحادية	2,797	3,3%
ألمانيا	2,505	3,0%
البرازيل	2,397	2,8%
كندا	2,295	2,7%
كوريا الجنوبية	2,291	2,7%
السعودية	2,224	2,6%

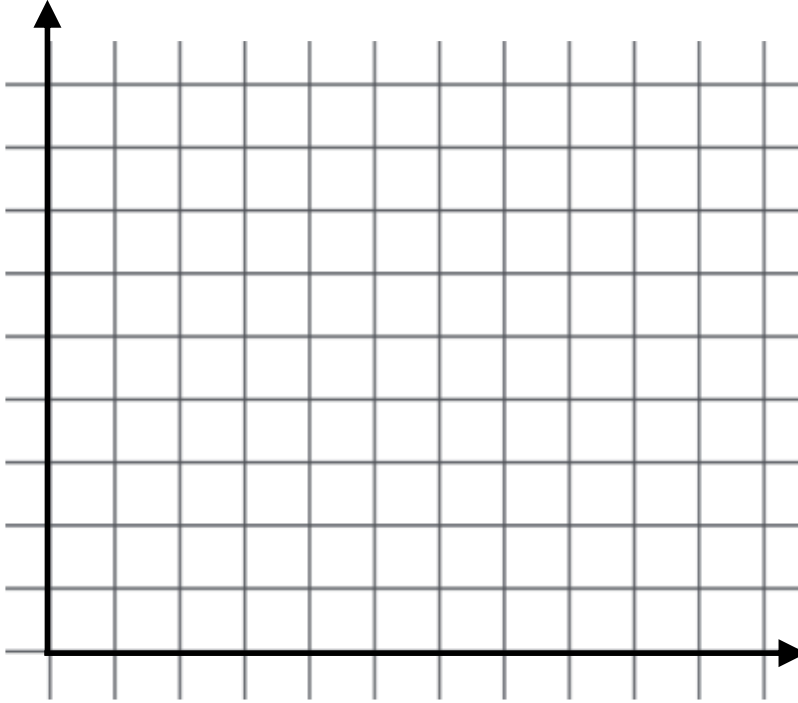


سؤال 2 - مثل بيانيا بطريقة الاعمدة البيانية توقعات استهلاك الطاقة المستقبلية في العالم لكل من الفحم و الطاقة النووية لعامي 2020 و 2040 م

توقعات استهلاك الطاقة المستقبلية في العالم/ مليون برميل نطف مكافئ يوميا

مصدر الطاقة	العام	2010م	2020م	2035م	2040م
النفط		82	89	95	100
الغاز الطبيعي		55	69	87	111
الفحم		72	87	100	110
الطاقة النووية		15	14	17	23

تقرير توقعات أوبك 2014م



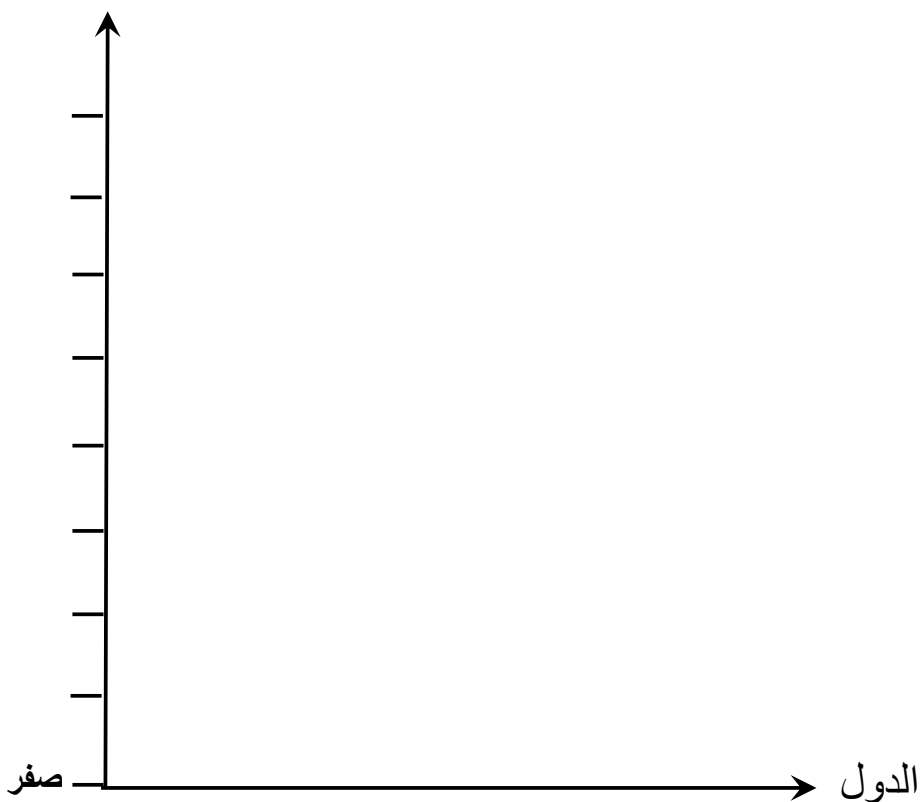
سؤال 3 - مثل بيانيا بطريقة الاعمدة البيانية نصيب الفرد من المياه العذبة المتجددة في عام 2000 م في

كل من : الامارات و عمان

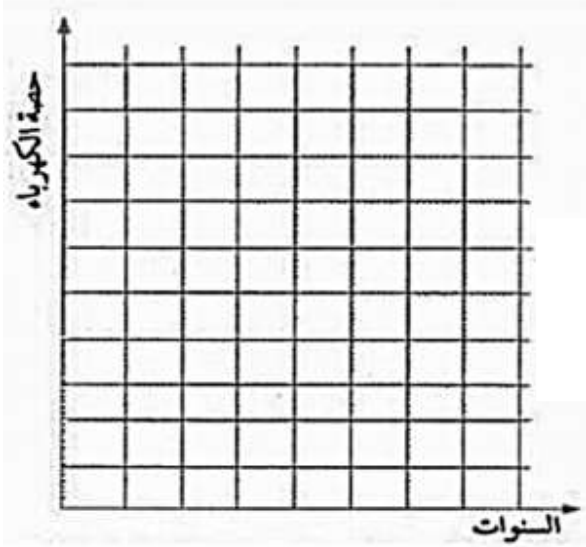
مجموع المياه العذبة المتجددة ونصيب الفرد سنويا في دول الخليج العربية في عام 2000

الدولة	مجموع المياه العذبة المتجددة	نصيب الفرد من المياه العذبة المتجددة
الامارات	0.2	77
السعودية	2.4	118
البحرين	0.1	156
قطر	0.1	177
الكويت	0.02	10
عمان	1.0	394

نصيب الفرد من
المياه المتجددة

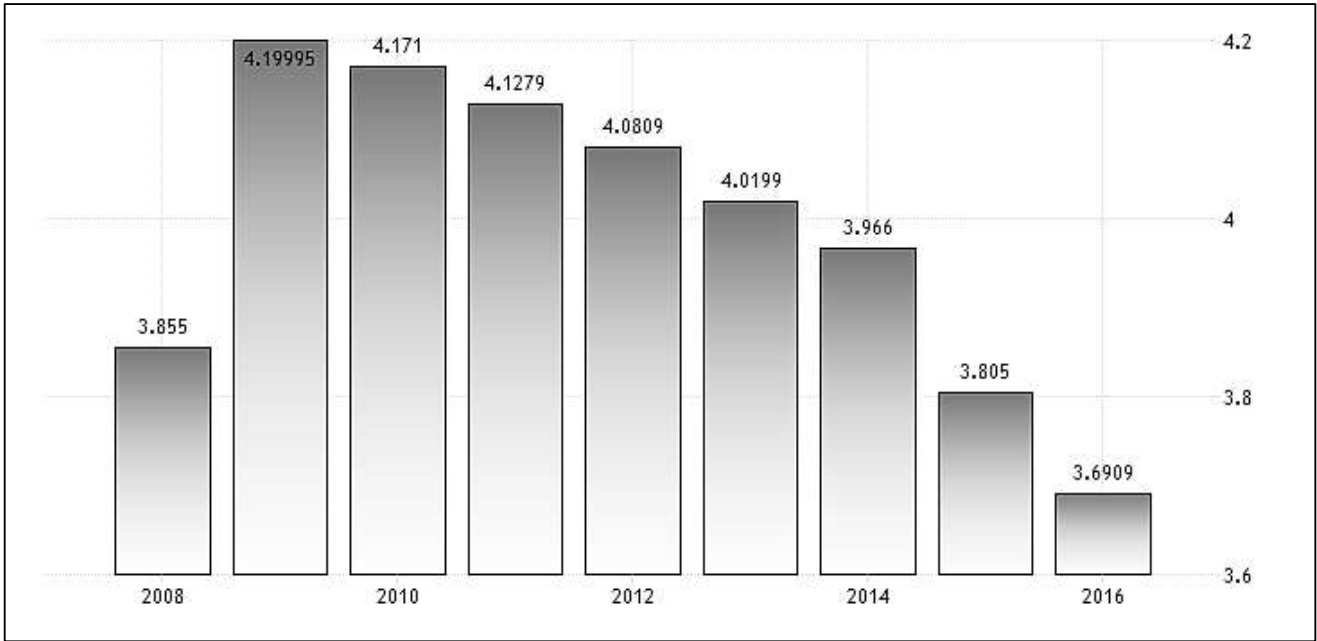


اقرأ الجدول التالي ثم مثل بيانياً بطريقة الأعمدة حصة طاقة الرياح في الطلب العالمي على الكهرباء:



حصة طاقة الرياح في الطلب العالمي على الكهرباء	
السنة	الحصة من الكهرباء (%)
2011	3.5
2015	4.7
2020	6.0
2030	8.9

لاحظ الشكل التالي الذي يوضح معدلات البطالة في الامارات خلال الفترة بين (2008-2016) ثم اجب عن الاسئلة التي تليه :



1- معدل البطالة في دولة الامارات في (زيادة - تذبذب - تناقص - تساوي)

2- يبلغ الفرق في معدل البطالة في عام 2016-2010 (.4018 - .4081 - .4844 - .4801)

3- القضاء على البطالة تعني (حقيقة - رأي - قيمة ومواطنة - مفهوم)

4- اكثر السنوات في معدل البطالة (2012 - 2009 - 2010 - 2011)

5- قدمي مقترح للقضاء على البطالة في دولة الامارات

ثالثا : الحقيقة / الرأي / التعميم / المفهوم / المصطلح / القيم السلوكية / القيم الوطنية

الحقيقة هو معلومه صادقة لا يختلف عليها اي شخص .. هناك حقائق تاريخية او جغرافية او احصائية

* تحديد الحقائق التاريخية: (شيء ثابت صحيح لا يمكن التشكيك فيه تكون مرتبطة بتاريخ أو شخصية أو دولة)

امثلة على الحقائق؟؟

- تقع مدينة باريس في فرنسا وهي عاصمتها
- مؤسس دولة الإمارات هو المغفور له بإذن الله الشيخ زايد بن سلطان آل نهيان
- تبلغ مساحة دولة الامارات العربية المتحدة 86400 كيلومتر مربع

الرأي هو تكوين فكرة أو حكم على موضوع أو شخص ما ، أو مجموعة من المعتقدات القابلة للنقاش وبذلك تكون صحيحة أو خاطئة

امثلة على الرأي؟؟

- اجمل مدينة في العالم هي مدينة باريس
- مياه العين علامة المياه التجارية # 1 في الامارات)

التعميم هو سبب و نتيجة

امثلة على التعميم؟؟

- يؤدي انخفاض أسعار السلع الى زيادة الاقبال على الشراء
- اهتمام الامارات بالسياحة أدى الى جعلها من أوائل الدول في الوجهات السياحية

المفهوم هو تعريف لمصطلح ما وهو عبارة عن جُملةٍ تحتوي على مجموعة من الكلمات التي توضح معنى شيءٍ معين
المصطلح هو عبارة عن كلمة او كلمتان يمكن تعريفهما

امثلة على المصطلحات؟؟

(الطاقة المتجددة) (النفط) (التنمية المستدامة) (الهوية الوطنية) (الطاقة الايجابية) (الانتماء)

القيم السلوكية هي مجموعة من المبادئ الاخلاقية التي تحدّد تعامل الفرد مع غيره وذلك بالخلق الحميد في التصرف، والأسلوب اللبق في التعامل، والمحبة الأخوية في ظلّ الفُروقات والاختلافات في الرأي مثل التسامح – الصدق – القوة – الاحترام – الامانة – السلام

القيم الوطنية هي مجموعة من المبادئ والضوابط التي تُحدّد سلوك المواطن في المجتمع ، وتتمثّل في محبة الوطن، والإخلاص له، والجهاد في سبيله، والسعي نحو الإصلاح، وكفّ أيدي المفسدين، والالتزام بالقواعد والقوانين، والقيام بالواجبات على أكمل وجه.
مثل الانتماء - الوطنية - حب الوطن - الهوية الوطنية - القيادة

* تحديد القيم السلوكية الايجابية : (صفات أخلاقية أو أخلاق فاضلة يتميز فيها البشر وتوجه السلوك البشري للقيام بعمل أو قول يدل على الخير)

س1- اقرأ النص التالي ثم أختار الإجابة غير الصحيحة وضع حولها دائرة :

تسعى الأجندة الوطنية لرؤية الإمارات 2021م لتحقيق بيئة مستدامة من حيث جودة الهواء، والمحافظة على الموارد المائية، وزيادة الاعتماد على الطاقة النظيفة وتطبيق التنمية الخضراء. وعلى صعيد البنية التحتية، تتطلع الأجندة الوطنية إلى أن تصبح الدولة الأولى عالمياً في جودة البنية التحتية للمطارات والموانئ والطرق، وتعزيز جودة توفير الكهرباء والاتصالات لتصبح الدولة في مقدمة الدول في الخدمات الذكية. وتتكون التنمية المستدامة من ثلاثة عناصر هي : الاقتصادي الذي يركز على تحقيق النمو الاقتصادي، والاجتماعي الذي يركز على تحقيق العدالة الاجتماعية والبيئي الذي يتعلق بحماية البيئة والحفاظ على قاعدة الموارد المادية والبيولوجية.

1- من الجوانب التي تسعى الأجندة الوطنية لتحقيقها :

- a- جودة الهواء b- حماية موارد المياه c- تطبيق التنمية الخضراء d- الاعتماد على النفط
- 2- تسعى الأجندة الوطنية إلى تطوير البنية التحتية ومنها :

- a- فرص العمل للمواطنين b- توفير الكهرباء c- المطارات والموانئ والطرق d- الاتصالات

س2- اختر ما يناسب القضايا الآتية أهم : تعميم أو حقيقة أو رأي ثم ضع علامة (✓) במקانتها المناسب في الجدول

قضايا التنمية المستدامة	تعميم	حقيقة	رأي
1- تؤدي المساهمة في الحملات التطوعية إلى حماية وتنظيف الشواطئ والمناطق المفتوحة.			
2- قد تكون مواقع التواصل الاجتماعي لها دور في المحافظة على البيئة وتحقيق التنمية المستدامة.			
3- خلق الله الموارد بقدر وعلى الإنسان أن يعمل لتنميتها وتطويرها لتفي بحاجاته.			

س3 – اختاري الإجابة الصحيحة فيما يلي :

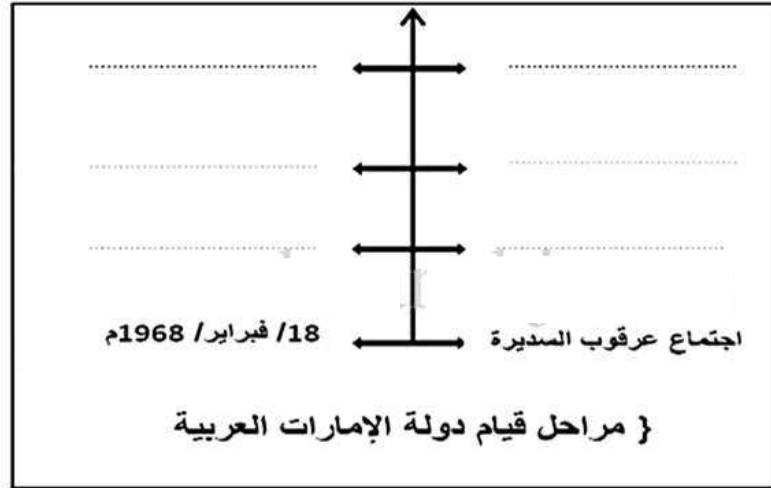
« أكبر الدول العربية في احتياطات الغاز الصخري هي دولة الجزائر » . تعد هذه العبارة :

- أ- تعميم ب- حقيقة ج- مفهوم د- رأي

مثال تطبيقي على مهارة الخط الزمني

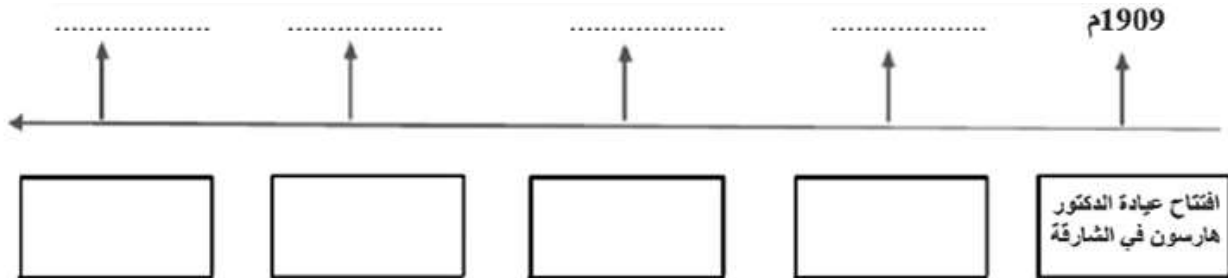
اقرأ الفقرة التاريخية التالية والتي تمثل خطوات قيام دولة الإمارات العربية المتحدة ، ثم ضع كل خطوة في مكانها الصحيح على الخط الزمني :

في 2 ديسمبر 1971م ظهرت دولة الإمارات العربية المتحدة إلى الوجود بعد رحيل آخر جندي بريطاني وإعلان استقلالها . ولقد بدأت هذه المسيرة المباركة باجتماع عرقوب السديرة في 18 فبراير 1968م بحضور الشيخ زايد والشيخ راشد رحمهما الله . ثم توالى الاجتماعات لتحقيق هذه الأمنية الغالية لشعب الامارات فكان اجتماع دبي الثاني في 18 يوليو 1971م الذي صدر بعده البيان التاريخي لقيام الاتحاد ومن قبله اجتماع دبي الأول في 25 فبراير 1968م بحضور حكام الإمارات السبع .



اقرأ النص التالي ثم اكمل الخط الزمني الذي يليه :

لعبت دولة الكويت دوراً كبيراً لا يمكن إغفاله في تطوير قطاع الصحة والخدمات الطبية في دولة الإمارات العربية المتحدة قبل الاتحاد ، فقد أرسلت بعثة طبية عام 1962م ، ومولت مشروعات لتشييد مستشفيات عدة منها : المستشفى الكويتي عام 1966 (البراحة حالياً) ، إضافة إلى المستشفى الكويتي في رأس الخيمة ، ومستوصفان في خورفكان والفجيرة ، وتأتي هذه الجهود من قبل دولة الكويت نظراً لأن الطب في منطقة الخليج كان يعتمد حتى منتصف الستينات على الطب الشعبي ، الذي قام على ممارسات معينة : كالكي والحجامة والتجبير ، والوصفات الشعبية ، والأدوية المركبة من الأعشاب . علماً بأن هذه الجهود تأتي استكمالاً للجهود الأولى مع بدايات القرن الماضي ففي عام 1909 م ، ، افتتح الدكتور بوول هارسون عيادته الخاصة في الشارقة . وفي عام 1952م أسست الدكتورة سارة هوسمان أول مستشفى في الشارقة ، وقد تركز نشاطها هذا المستشفى على الولادة والأمومة . وفي نوفمبر 1960م تأسست مستشفى كندي (الواحة) نسبة إلى بيرول وميريان كندي



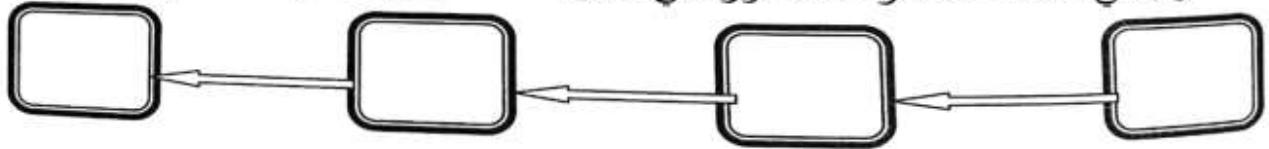
خامسا : الترتيب التصاعدي والتنازلي

توقعات استهلاك الطاقة المستقبلية في العالم/ مليون برميل نفط مكافئ يوميا

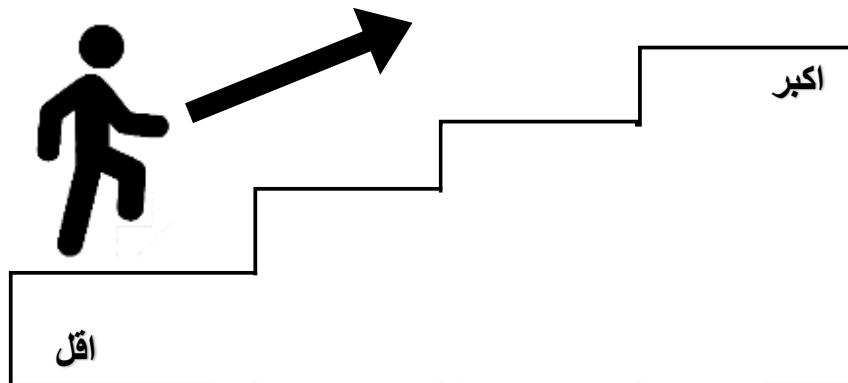
مصدر الطاقة	العام	2010م	2020م	2035م	2040م
النفط		82	89	95	100
الغاز الطبيعي		55	69	87	111
الفحم		72	87	100	110
الطاقة النووية		15	14	17	23

تقرير توقعات أوبك 2014م

رتب في المخطط مصادر الطاقة الواردة في الجدول تصاعدي حسب الاستهلاك العالمي لها عام 2035م:



تصاعدي

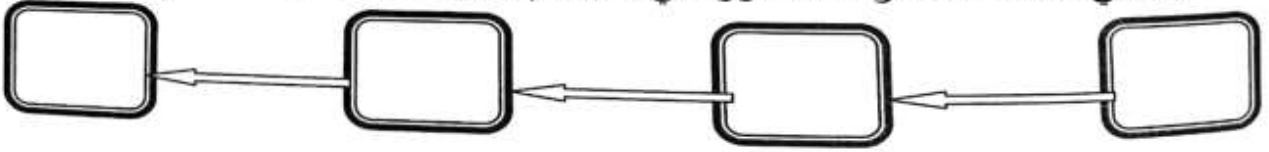


توقعات استهلاك الطاقة المستقبلية في العالم/ مليون برميل نفط مكافئ يومياً

عام	2010م	2020م	2035م	2040م	مصدر الطاقة
	82	89	95	100	النفط
	55	69	87	111	الغاز الطبيعي
	72	87	100	110	الفحم
	15	14	17	23	الطاقة النووية

تقرير توقعات أوبك 2014م

رتب في المخطط مصادر الطاقة الواردة في الجدول (تتازلياً) حسب الاستهلاك العالمي لها عام 2035م:



تتازلي

