

تم تحميل هذا الملف من موقع ملفات الكويت التعليمية



[com.kwedufiles.www//:https](https://www.kwedufiles.com)

\*للحصول على أوراق عمل لجميع الصفوف وجميع المواد اضغط هنا

\* للحصول على أوراق عمل لجميع مواد الصف الخامس اضغط هنا

<https://kwedufiles.com/5>

\* للحصول على جميع أوراق الصف الخامس في مادة علوم ولجميع الفصول, اضغط هنا

<https://kwedufiles.com/5science>

\* للحصول على أوراق عمل لجميع مواد الصف الخامس في مادة علوم الخاصة بـ الفصل الأول اضغط هنا

<https://www.kwedufiles.com/5science1>

\* لتحميل كتب جميع المواد في جميع الفصول للصف الخامس اضغط هنا

<https://www.kwedufiles.com/grade5>

\* لتحميل جميع ملفات المدرس ماجدة محمد اضغط هنا

[bot\\_kwlinks/me.t//:https](https://t.me/bot_kwlinks)

\* للحصول على جميع روابط الصفوف على تلغرام وفيسبوك من قنوات وصفحات: اضغط هنا

الروابط التالية هي روابط الصف الخامس على مواقع التواصل الاجتماعي

مجموعة الفيسبوك

صفحة الفيسبوك

مجموعة التلغرام


بوت التلغرام

قناة التلغرام

رياضيات على التلغرام

## حركة الأرض

١/ ماذا تتوقع ان يحدث في الحالات التالية



١- محور الارض رأسي وليس مائل

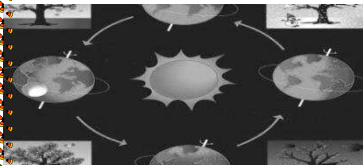
.....  
.....

٢- توقف الارض عن الدوران حول الشمس

.....

٢/ أكتب بين القوسين الاسم أو المصطلح العلمي الذي تدل عليه كل من العبارات التالية :

( ..... ) هو خط وهمي مائل يمر بالقطبين الشمالي والجنوبي للكرة الأرضية


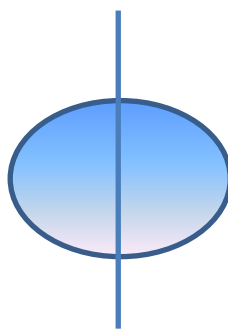
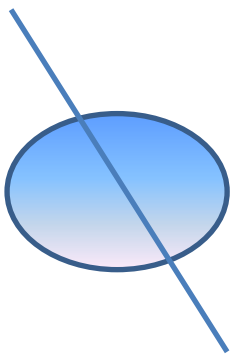


٣/ علل لما يأتي تعليلا علميا صحيحا :



١- حدوث الفصول المختلفة في الجزأين الشمالي و الجنوبي من الأرض

.....  
.....

٤/ الرسم الصحيح الذي يعبر عن محور الأرض هو



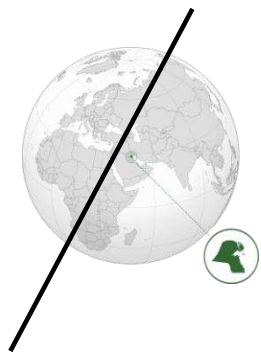
5/ صنع مشاري نموذج للأرض و الشمس كما هو موضح بالشكل بحيث كان إضاءة المصباح مسلطة أكثر على الجزء الشمالي أحيانا و أحيانا على الجزء الجنوبي ادرس الرسوم و اكمل



1/ في الشكل ١ الجزء الشمالي يمثل فصل ..... والجزء الجنوبي يمثل فصل .....

2/ في الشكل ٢ الجزء الشمالي يمثل فصل ..... والجزء الجنوبي يمثل فصل .....

6/ الشكل التالي يوضح أن دولة الكويت تقع في الجزء الشمالي من الكرة الأرضية ادرس الرسم ثم فسر اسباب ارتفاع درجة الحرارة من شهر مايو الى شهر اغسطس



الفترة الزمنية ٢

الفترة الزمنية ١

1/ التفسير

2/ حدد اي الفترات الزمنية ( ١ - ٢ ) تعبر عن شهور الصيف من مايو إلى أغسطس