

تم تحميل هذا الملف من موقع ملفات الكويت التعليمية



[com.kwedufiles.www//:https](https://www.kwedufiles.com)

*للحصول على أوراق عمل لجميع الصفوف وجميع المواد اضغط هنا

* للحصول على أوراق عمل لجميع مواد الصف الخامس اضغط هنا

<https://kwedufiles.com/5>

* للحصول على جميع أوراق الصف الخامس في مادة علوم ولجميع الفصول, اضغط هنا

<https://kwedufiles.com/5science>

* للحصول على أوراق عمل لجميع مواد الصف الخامس في مادة علوم الخاصة بـ الفصل الأول اضغط هنا

<https://www.kwedufiles.com/5science1>

* لتحميل كتب جميع المواد في جميع الفصول للصف الخامس اضغط هنا

<https://www.kwedufiles.com/grade5>

* لتحميل جميع ملفات المدرس اللجنة الفنية المشتركة للعلوم اضغط هنا

[bot_kwlinks/me.t//:https](https://t.me/bot_kwlinks)

* للحصول على جميع روابط الصفوف على تلغرام وفيسبوك من قنوات وصفحات: اضغط هنا

الروابط التالية هي روابط الصف الخامس على مواقع التواصل الاجتماعي

مجموعة الفيسبوك

صفحة الفيسبوك

مجموعة التلغرام

بوت التلغرام

قناة التلغرام

رياضيات على التلغرام



وزارة التربية

اللجنة الفنية المشتركة للمرحلة الابتدائية

بنك أسئلة للصف الخامس الفصل الدراسي الأول

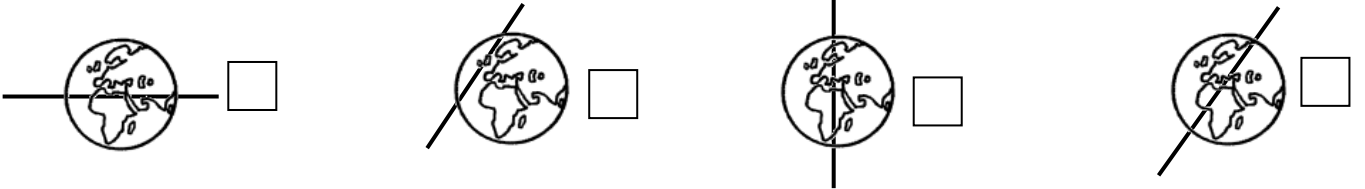
للعام الدراسي (٢٠١٩ / ٢٠٢٠ م)

نموذج (٣)

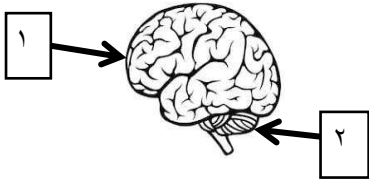
السؤال الأول: اختر الإجابة الصحيحة علمياً لكل من العبارات التالية بوضع علامة (✓) في المربع

المقابل لها:

١- الشكل الذي يمثل محور الأرض هو :



٢- وظيفة الجزء رقم (٢) هي :



التحكم في التنفس

حفظ التوازن

التحكم في خفقان القلب

نقل الرسائل العصبية الحركية

٣- الترتيب الصحيح للمراحل التي تمر بها لقمة البسكويت هي:

(الفم - المرئ - المعدة - الأمعاء الدقيقة)

(الفم - المعدة - الأمعاء الدقيقة - المرئ)

(الفم - المرئ - الأمعاء الدقيقة - المعدة)

(الفم - المعدة - المرئ - الأمعاء الدقيقة)

٤- يرمز لغاز الأوزون بالرمز :

O₄

O₃

O₂

O

٥- طبقة في الغلاف الجوي تتميز بخلوها من الظواهر الجوية هي :

التروبوسفير

الستراتوسفير

الميزوسفير

الثيرموسفير

السؤال الثاني : ضع كلمة (صحيحة) للعبارة الصحيحة وكلمة (خطأ) للعبارة الغير صحيحة لكل مما

يلي :

- ١- يتكون الغلاف الجوي للأرض من ٣ طبقات . (.....)
- ٢- ينشأ غاز الأوزون بتأثير الأشعة فوق البنفسجية . (.....)
- ٣- استخدام المبيدات الحشرية يؤثر سلبا على طبقات الغلاف الجوي . (.....)
- ٤- أول خطوات الإسعافات الأولية للإغماء هي إعطاء المغمى عليه ماء. (.....)
- ٥- الحبل الشوكي هو العضو المسؤول عن الفعل المنعكس . (.....)

السؤال الثالث / في الجداول التالية اختر العبارة من المجموعة (ب) وأكتب رقمها أمام مايناسبها من عبارات المجموعة (أ) :

الإجابة	المجموعة (أ)	المجموعة (ب)
(....)	أقرب كواكب النظام الشمسي إلى الشمس.	١ - الزهرة
(....)	أبعد كواكب النظام الشمسي عن الشمس.	٢ - عطارد ٣ - نبتون
(....)	أعلى طبقات الغلاف الجوي حرارة.	١ - الميزوسفير
(....)	أكثر طبقات الغلاف الجوي برودة.	٢ - الستراتوسفير ٣ - الثيرموسفير

السؤال الرابع: اكتب بين القوسين الاسم أو المصطلح العلمي الذي تدل عليه كل من العبارات التالية:

- ١- خط وهمي مائل يمر بالقطبين الشمالي والجنوبي للكرة الأرضية. (.....)
- ٢- نسيج قوي مرن يمنع احتكاك العظام وتآكلها . (.....)
- ٣- وعاء دموي ينقل الدم من الجسم عائدا به إلى القلب . (.....)
- ٤- تمزق أو تهتك يصيب العظام لعدة أسباب . (.....)
- ٥- تجمع من النجوم والكواكب والأقمار وأجسام كونية أخرى . (.....)

السؤال الخامس: ضع كلمة (صحيحة) للعبارة الصحيحة وكلمة (خطأ) للعبارة الغير صحيحة مع

تصحيح الخطأ إن وجد في كل مما يلي :

- ١- يتكون النظام الشمسي من ٩ كواكب . (.....)
تصحيح الخطأ :
- ٢- المبيدات الصديقة للبيئة لا تضر بصحتنا أو بالغلاف الجوي. (.....)
تصحيح الخطأ :
- ٣- الجهاز التنفسي يزود خلايا أجسامنا بالمغذيات. (.....)
تصحيح الخطأ :

السؤال السادس : أجب عن الأسئلة التالية :

- ١- عدد اثنان من مقومات الحياة على كوكب الأرض.
أ-
ب-.....
- ٢- اذكر اثنان من الممارسات السلبية التي تؤثر على طبقة الأوزون .
أ-
ب-.....

السؤال السابع : أكمل جداول المقارنة التالية:

النجم	الكوكب	أوجه المقارنة
.....	مصدر الضوء (ذاتي الإضاءة / غير ذاتي الإضاءة)

الأكسجين	الأوزون	أوجه المقارنة
.....	عدد ذرات الأكسجين

السؤال الثامن: علل لكل ما يأتي تعليلا علميا سليما :

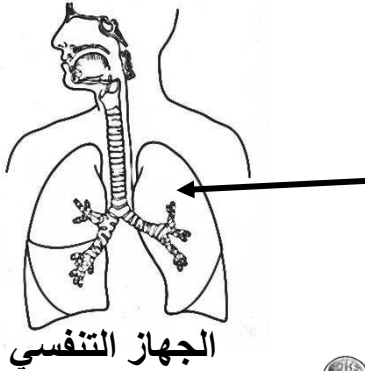
١- يخفق قلبك بشكل أسرع عند الركض .

.....

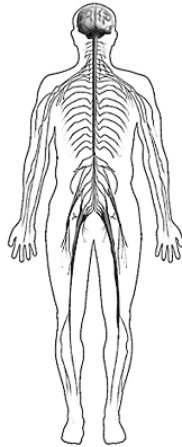
٢- إصابة رواد الفضاء بالعديد من الأمراض أثناء السفر للفضاء.

.....

السؤال التاسع : أكمل البيانات على الرسم :

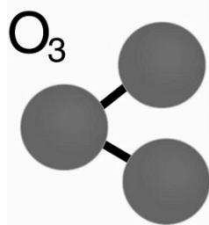


١- العضو المشار إليه بالرسم يسمى.....



٢- الجهاز الموضح أمامك يسمى

السؤال العاشر: ادرس الصورتين وأوجد العلاقة بينهما :



.....

انتهت الأسئلة