

روابط مجموعات المناهج السعودية

كل ما يحتاجه الطالب في جميع الصفوف من أوراق عمل واختبارات ومذكرات, يجده هنا في الروابط التالية لأفضل مواقع المناهج السعودية:

القناة الرسمية لموقع المناهج السعودية : www.almanahj.com/sa

روابط مجموعات الواتساب

[الصف الأول الابتدائي](#)

[الصف الثاني الابتدائي](#)

[الصف الثالث الابتدائي](#)

[الصف الرابع الابتدائي](#)

[الصف الخامس الابتدائي](#)

[الصف السادس الابتدائي](#)

[الصف الأول متوسط](#)

[الصف الثاني متوسط](#)

[الصف الثالث متوسط](#)

[الصف الأول الثانوي](#)

[الصف الثاني الثانوي العلمي](#)

[الصف الثاني الثانوي الأدبي](#)

[الصف الثالث الثانوي العلمي](#)

[الصف الثالث الثانوي الأدبي](#)

[مجموعة أخبار التربية](#)

روابط مجموعات التلغرام

[الصف الأول](#)

[الصف الثاني](#)

[الصف الثالث](#)

[الصف الرابع](#)

[الصف الخامس](#)

[الصف السادس](#)

[الصف الأول متوسط](#)

[الصف الثاني متوسط](#)

[الصف الثالث متوسط](#)

[الصف الأول الثانوي](#)

[الصف الثاني الثانوي الأدبي](#)


[الصف الثاني الثانوي العلمي](#)

[الصف الثالث الثانوي الأدبي](#)

[الصف الثالث الثانوي العلمي](#)

[المناهج السعودية](#)

الاختبار الدوري للصف الثاني مادة العلوم / الفترة الرابعة



اسم الطالبة المدرسة الصف

السؤال الأول:

المعيار	معرفة مفهوم الحرارة			رقمه	34
متقن	<input type="checkbox"/> متقن	<input type="checkbox"/> متقن	<input type="checkbox"/> غير متقن	<input type="checkbox"/> ملاحظة	
100%	من 90% إلى أقل من 100%	من 80% إلى أقل من 90%	أقل من 80%		

اختاري الإجابة الصحيحة من بين القوسين:

أحد أشكال الطاقة يمكنها أن تغير حالة المادة (التكثف - الحرارة)



almanahj.com/sa

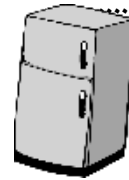
السؤال الثاني:

المعيار	ذكر بعض استخدامات الكهرباء			رقمه	37
متقن	<input type="checkbox"/> متقن	<input type="checkbox"/> متقن	<input type="checkbox"/> غير متقن	<input type="checkbox"/> ملاحظة	
100%	من 90% إلى أقل من 100%	من 80% إلى أقل من 90%	أقل من 80%		


أكملي الجملة بالكلمة المناسبة:

الكهرباء شكل من أشكال الطاقة تشغل

.....
و.....و.....



المعيار	تحديد قطبي المغناطيس وكيف يحدث التجاذب والتنافر			رقمه	46
متقن	<input type="checkbox"/> متقن	<input type="checkbox"/> متقن	<input type="checkbox"/> غير متقن	<input type="checkbox"/> ملاحظة	
100%	من 90% إلى أقل من 100%	من 80% إلى أقل من 90%	أقل من 80%		



أكملي الجمل بالكلمة المناسبة :

السؤال الثالث:


يتجاذبا
ن

يتنافرا
ن

1- عند وضع القطب الشمالي إلى جانب القطب الجنوبي فإنهما

2- عند وضع القطب الجنوبي بجانب القطب الجنوبي الآخر فإنهما

الاختبار الدوري للصف الثاني مادة العلوم / الفترة الرابعة



اسم الطالبة المدرسة الصف

السؤال الأول:

المعيار	معرفة مفهوم الحرارة			رقمه	34
متقن	<input type="checkbox"/> متقن	<input type="checkbox"/> متقن	<input type="checkbox"/> غير متقن	<input type="checkbox"/> ملاحظة	
100%	من 90% إلى أقل من 100%	من 80% إلى أقل من 90%	أقل من 80%		

اكمل الجملة بالكلمة المناسبة

..... أحد أشكال الطاقة يمكنها أن تغير حالة المادة



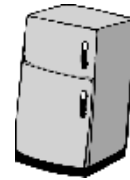
almanahj.com/sa

السؤال الثاني:

المعيار	ذكر بعض استخدامات الكهرباء			رقمه	37
متقن	<input type="checkbox"/> متقن	<input type="checkbox"/> متقن	<input type="checkbox"/> غير متقن	<input type="checkbox"/> ملاحظة	
100%	من 90% إلى أقل من 100%	من 80% إلى أقل من 90%	أقل من 80%		

عدي استخدامات الكهرباء اليومية

..... و..... و.....



المعيار	تحديد قطبي المغناطيس وكيف يحدث التجاذب والتنافر			رقمه	46
متقن	<input type="checkbox"/> متقن	<input type="checkbox"/> متقن	<input type="checkbox"/> غير متقن	<input type="checkbox"/> ملاحظة	
100%	من 90% إلى أقل من 100%	من 80% إلى أقل من 90%	أقل من 80%		

السؤال الثالث:

ضعي علامة ✓ أمام الإجابة الصحيحة وعلامة X أمام العبارة الخاطئة:

- 1- عند وضع القطبين الشماليين أحدهما بجانب الآخر فأنهما يتجاذبان ()
- 2- عند وضع القطب الجنوبي بجانب القطب الجنوبي مع القطب الشمالي فأنهما يتجاذبان ()

