

كل ما يحتاجه الطالب في جميع الصفوف من أوراق عمل واختبارات ومذكرات، يجده هنا في الروابط التالية لأفضل مواقع تعليمي إماراتي 100 %

<u>تطبيق المناهج الإماراتية</u>	<u>الاجتماعيات</u>	<u>الرياضيات</u>
<u>الصفحة الرسمية على التلغرام</u>	<u>الاسلامية</u>	<u>العلوم</u>
<u>الصفحة الرسمية على الفيسبوك</u>	<u>الانجليزية</u>	
<u>التربية الاخلاقية لجميع الصفوف</u>	<u>اللغة العربية</u>	
<u>التربية الرياضية</u>		
<b>مجموعات التلغرام.</b>	<b>مجموعات الفيسبوك</b>	<b>قنوات تلغرام</b>
<u>الصف الأول</u>	<u>الصف الأول</u>	<u>الصف الأول</u>
<u>الصف الثاني</u>	<u>الصف الثاني</u>	<u>الصف الثاني</u>
<u>الصف الثالث</u>	<u>الصف الثالث</u>	<u>الصف الثالث</u>
<u>الصف الرابع</u>	<u>الصف الرابع</u>	<u>الصف الرابع</u>
<u>الصف الخامس</u>	<u>الصف الخامس</u>	<u>الصف الخامس</u>
<u>الصف السادس</u>	<u>الصف السادس</u>	<u>الصف السادس</u>
<u>الصف السابع</u>	<u>الصف السابع</u>	<u>الصف السابع</u>
<u>الصف الثامن</u>	<u>الصف الثامن</u>	<u>الصف الثامن</u>
<u>الصف التاسع عام</u>	<u>الصف التاسع عام</u>	<u>الصف التاسع عام</u>
<u>الصف التاسع متقدم</u>	<u>الصف التاسع متقدم</u>	<u>الصف التاسع متقدم</u>
<u>الصف العاشر عام</u>	<u>الصف العاشر عام</u>	<u>الصف العاشر عام</u>
<u>الصف العاشر متقدم</u>	<u>الصف العاشر متقدم</u>	<u>الصف العاشر متقدم</u>
<u>الحادي عشر عام</u>	<u>الحادي عشر عام</u>	<u>الحادي عشر عام</u>
<u>الحادي عشر متقدم</u>	<u>الحادي عشر متقدم</u>	<u>الحادي عشر متقدم</u>
<u>ثاني عشر عام</u>	<u>الثاني عشر عام</u>	<u>الثاني عشر عام</u>
<u>ثاني عشر متقدم</u>	<u>الثاني عشر متقدم</u>	<u>الثاني عشر متقدم</u>



وزارة التربية والتعليم  
Ministry of Education

الفصل الدراسي الثالث 2017/2018

موقع جوامع الرياضيات



$$\int_a^b f(x) dx = F(b) - F(a)$$



## مراجعة شاملة لأهم مواضيع

الفصلين ( الثاني والثالث )

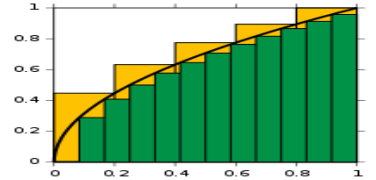
المادة : الرياضيات



الصف : الثاني عشر

[alManahj.com/ae](http://alManahj.com/ae)

المتقدم



2017/2018

اسم الطالب :

المدرسة :

ملاحظة :- تتكون المراجعة الشاملة من 17 صفحة ولا تغني عن الكتاب

«نحن في بداية الطريق.. والطموح أكبر... والرؤية ممتدة..  
وكلما وصلنا لقمة تطلعنا للقمة التي تليها..  
ولا يعشق القمم إلا أصحاب العزم...»

سمو الشيخ محمد بن راشد آل مكتوم





**السؤال الأول :-** لكل فقرة أربع إجابات ضع دائرة حول الإجابة الصحيحة :-

(1) يكون رمز المجموع للعبارة  $\sqrt{2-1} + \sqrt{3-1} + \sqrt{4-1} + \dots + \sqrt{15-1}$  هو

- 1)  $\sum_{i=1}^{14} \sqrt{i}$       2)  $\sum_{i=1}^{15} \sqrt{i-2}$   
3)  $\sum_{i=1}^{15} \sqrt{2-i}$       4)  $\sum_{i=1}^{14} \sqrt{2i}$

(2) يعبر عن المساحة الواقعة بين المنحنى  $y = x^2 - 2x$  ومحور  $x$  بالفترة  $[0, 3]$  بالشكل :-

- 1)  $\int_0^3 f(x) dx$       2)  $\int_0^2 f(x) dx + \int_2^3 f(x) dx$   
3)  $-\int_0^2 f(x) dx + \int_2^3 f(x) dx$       4)  $\int_0^2 f(x) dx - \int_2^3 f(x) dx$

(3) التكامل المحدود لنهاية مجموع ريمان  $\lim_{n \rightarrow \infty} \sum_{i=1}^n 4(c_i + 4c_i - 2)\Delta x$  على الفترة  $[1, 2]$  هو :-

- 1)  $\int_1^2 (4x^2 + 16x - 2) dx$       2)  $\int_1^2 (4x^2 + 16x - 8) dx$   
3)  $\int_2^1 (4x^2 + 16x + 8) dx$       4)  $\int_1^2 (4x^2 + 16x + 8) dx$

(4) إذا كانت  $A(x) = 2(x+1)^2$  تمثل مساحة مقطع عرضي حيث  $1 \leq x \leq 4$  فإن حجم الجسم يكون :-

- 1)  $V = \int_1^4 2(x+1)^2 dx = 78$       2)  $V = 2\pi \int_1^4 2(x+1)^2 dx = 156\pi$   
3)  $V = \pi \int_1^4 2(x+1)^2 dx = 78\pi$       4)  $V = \int_1^4 4(x+1)^4 dx = \frac{2372}{5}$

(5) إذا كان  $\int_{-1}^5 f(x) dx = 7$  فإن  $\int_5^7 f(x) dx = 2$ ،  $\int_{-1}^9 \frac{1}{2} f(x) dx = 5$ ،  $\int_9^7 f(x) dx = -4$

- 1) -4      2) 3  
3) 4      4) 10



$$\int \frac{7}{|x|\sqrt{x^2-1}} dx \quad (6)$$

- 1)  $-7 \cos^{-1} x + c$                       2)  $7 \sec^{-1} x + c$   
3)  $7 \sin^{-1} x + c$                       4)  $7 \csc^{-1} x + c$

$$\int \frac{x}{1+x^2} \cdot dx \quad \text{قيمة التكامل غير المحدود} \quad (7)$$

- 1)  $\tan^{-1} x + c$                               2)  $\frac{1}{2} \ln(1+x^2) + c$   
3)  $2 \ln(1+x^2) + c$                       4)  $\ln(1+x^2) + c$

[alManahj.com/ae](http://alManahj.com/ae)

$$F'(2) = \text{فإن} \quad F(x) = x^3 + \int_x^2 (3t^2 - t) dt \quad \text{إذا كانت} \quad (8)$$

- 1)  $-10$                                       2)  $10$   
3)  $2$     4)  $-2$

$$\int \left( \frac{3}{2x} - e^{-3x} + \cos x \right) dx = \quad (9)$$

- 1)  $\frac{3}{2} \ln|x| + \frac{1}{3} e^{-3x} + \sin x + c$                       2)  $\frac{2}{3} \ln|x| + \frac{1}{3} e^{-3x} - \sin x + c$   
3)  $\frac{3}{2} \ln|x| + 3e^{-3x} + \sin x + c$                       4)  $\frac{3}{2} \ln|x| - \frac{1}{3} e^{-3x} + \sin x + c$



(10) إذا كانت  $f(x) = \cot x$  فإن  $\int f''(x) dx =$

- 1)  $\tan x + c$       2)  $\sec^2 x + c$   
3)  $-\csc^2 x + c$       4)  $-\csc x \cdot \cot x + c$

(11)  $\ln x =$

1)  $\int_x^1 \frac{1}{t} dt$       2)  $\int_0^x \frac{1}{t} dt$   
3)  $\int_1^{e^x} \frac{1}{t} dt$       4)  $\int_1^x \frac{1}{t} dt$

(12) إذا كان  $\int_k^2 f(x) dx = 12$  وكانت القيمة المتوسطة للدالة  $f(x)$  تساوي 4 فإن قيمة  $k =$

1) 0      2) -1  
3) 1      4) 2

(13) إذا كانت القيمة المتوسطة للدالة  $f(x)$  على الفترة  $[-3, 4]$  تساوي 5 فإن  $\int_{-3}^4 f(x) dx =$

1) -5      2) -35  
3) 35      4) -12

(14) مركز الكتلة لجسم ما؟ بكثافة  $p(x) = \frac{x}{6} + 2$  حيث  $0 \leq x \leq 6$  هي :-

- 1) 3.2      2) 15  
3) 43.55      4) 3

(15) طول القوس الخاص بجزء من المنحنى  $y = x^2$  على الفترة  $[0, 1]$  هو :-

- 1)  $\approx 2.4789$       2)  $\approx 0.4789$   
3)  $\approx 1.4789$       4)  $\approx 3.4789$



(16) مساحة السطح المتولد من دوران  $y = \sqrt{x}$  حول المحور  $x$  بالفترة  $[1, 2]$  يساوي

1)  $\approx 8.5483$

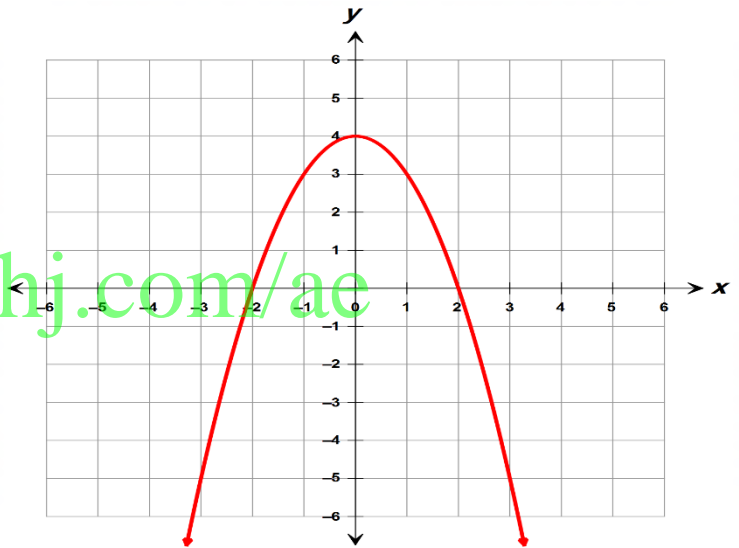
2)  $\approx 0.4789$

3)  $\approx 8.11$

4)  $\approx 8.28315$

(17)

الشكل المجاور يمثل بيان المشتقة الأولى  $f'$  حيث الدالة  $f$  معرفة على الفترة  $[-3, 3]$ . فإن نقط الأنعطاف للدالة  $f$  هي :-



1)  $(2, 0)$

2)  $(0, f(0))$

3)  $(0, 4)$

4)  $(-2, 0)$

(18) مشتقة الدالة  $f(x) = x^5 \cos x$

1)  $-5x^4 \sin x$

2)  $5x^4 \cos x + x^5 \sin x$

3)  $5x^4 \cos x - x^5 \sin x$

4)  $-5x^4 \cos x + x^5 \sin x$

(19) إذا كان

$$\int_4^{16} \frac{-5f(\sqrt{x})}{\sqrt{x}} dx = \text{فإن قيمة } \int_2^4 f(x) dx = 12$$

1) 48

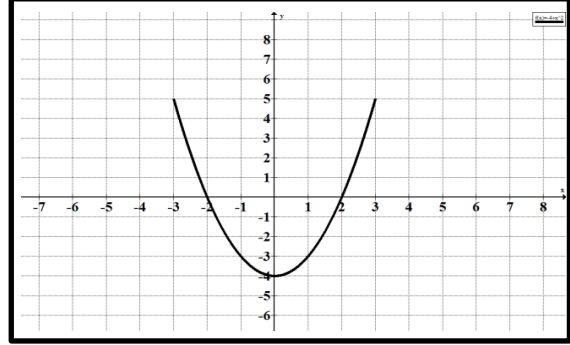
2) 8

3) 120

4) -120



(20)  
الشكل المجاور يمثل بيان المشتقة الأولى  $f'$  حيث الدالة  $f$  معرفة على الفترة  $[-3, 3]$ . فإن نقط القيمة الصغرى للدالة  $f$  هي :-



- 1)  $(2, f(2))$                       2)  $(0, f(0))$   
3)  $(0, -4)$                         4)  $(-2, f(-2))$

السؤال الثاني :- (1): باستخدام التكامل بالتعويض أوجد :-

1)  $\int \tan^5 x \cdot \sec^4 x dx$

[alManahj.com/ae](http://alManahj.com/ae)

3)  $\int \frac{2x - 1}{x^2 - 3x - 10} dx$

(2) استخدم التكامل بالكسور الجزئية لإيجاد

(3) أحدثت قوة من 10 نيوتن تمدد على حبل مطاط  $2 \text{ cm}$ . أوجد الشغل المبذول في تمدد هذا الحبل  $6 \text{ cm}$ .



4) حدد أولاً نصف قطر وارتفاع الصدفة التالية ثم أحسب الحجم الناتج من دوران المنطقة المحدودة بواسطة

$$y = x^2, \quad y = 0 \quad \text{حول محور } x = 2 \quad \text{حيث } -1 \leq x \leq 1$$

5) هل التكامل المعتل  $\int_0^{\infty} \frac{e^x}{e^{2x} + 1} dx$  متقارب أو متباعد بين ذلك؟

[alManahj.com/ae](http://alManahj.com/ae)

6) هل التكامل  $\int_0^1 \frac{2}{\sqrt{1-x^2}} dx$  معتل؟ وما هو سبب إعتلاله؟ وهل هو متقارب أو متباعد بين ذلك؟





السؤال الثالث:- ضع دائرة حول الإجابة الصحيحة

1) إذا كانت  $F(x) = \sin x - \frac{1}{3} \sin^3 x$  فإن المشتقة العكسية لها هي :-

1)  $f(x) = \sin^3 x$

2)  $f(x) = \cos^3 x$

3)  $f(x) = -\sin^3 x$

4)  $f(x) = -\cos^3 x$

2) لتكن  $f(x) = \sqrt[3]{x^2}$  فإن العدد الحرج للدالة هو :-

1)  $x = \frac{2}{3}$

2)  $x = 0$

3)  $x = \frac{-1}{3}$

4) لا يوجد عدد حرج

[alManahj.com/ae](http://alManahj.com/ae)

3)  $\int \tan^2(3x) dx =$

1)  $\frac{1}{3} \tan(3x) + x + c$

2)  $\frac{1}{3} \tan(3x) - x + c$

3)  $\frac{1}{3} \sec^2(3x) + x + c$

4)  $\frac{1}{3} \sec^2(3x) - x + c$

4)  $\int 2x \cos x^2 dx =$  الدالة الأصلية لها هي

1)  $\cos x^2 + c$

2)  $x \cos x^2 + c$

3)  $x \sin x^2 + c$

4)  $\sin x^2 + c$



5)  $\int (2\sqrt{x} \cos x + \frac{1}{\sqrt{x}} \sin x) dx =$  الدالة الأصلية لها هي

1)  $2\sqrt{x} \cos x + c$

2)  $\sqrt{x} \cos x + c$

3)  $\sqrt{x} \sin x + c$

4)  $2\sqrt{x} \sin x + c$

6) قاعدة الجسم هي المنطقة  $R$  المحددة بواسطة  $y = x^2$  ,  $y = 2 - x^2$  , أخذت مقاطع عرضية على شكل مربعات . فإن حجم المنطقة  $R$  هو :-

1)  $\frac{64}{15}$

2)  $\frac{224}{15}$

3)  $\frac{64}{15} \pi$

4)  $\frac{224}{15} \pi$

[alManahj.com/ae](http://alManahj.com/ae)

7)  $\int \cot^4 x \csc^2 x dx =$

1)  $\cot^5 x + c$

2)  $-\frac{1}{5} \cot^5 x + c$

3)  $\frac{1}{5} \cot^5 x + c$

4)  $-\frac{1}{5} \csc^5 x + c$

8) لتكن  $f(x) = -x^2 + 2x$  فإن الدالة  $f$  تكون متزايدة على الفترة :-

1)  $(-\infty, \infty)$

2)  $(-\infty, -1)$

3)  $(1, \infty)$

4)  $(-\infty, 1)$

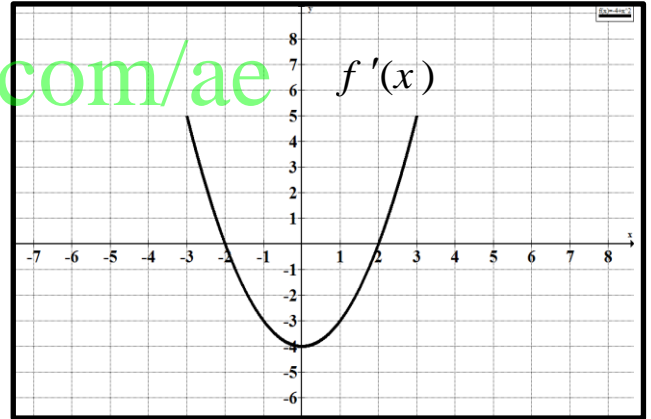


(9) قيمة  $c$  التي تجعل الدالة  $f(x) = \frac{c}{x^2}$  هي  $pdf$  على الفترة  $[1, 2]$  هي :-

- 1)  $\frac{3}{7}$                       2) 1  
3) -2                         4) 2

(10) الشكل المجاور يمثل بيان المشتقة الأولى  $f'(x)$  حيث أن الدالة  $f(x)$  معرفة على الفترة  $[-3, 3]$  فإن الدالة  $f(x)$  تكون مقعرة الى أعلى على الفترة :-

- 1)  $(-3, 0)$                       2)  $(-3, 3)$   
3)  $(0, 3)$                         4)  $(-4, 3)$



السؤال الرابع :- أوجد التكاملات التالية :- ( استخدم الطريقة المناسبة لك ) :-

11)  $\int \frac{1}{\sin x \cdot \cos x} dx$

.....  
.....  
.....  
.....



12)  $\int \frac{x}{\sqrt{4+x^2}} dx$

.....  
.....  
.....

13)  $\int x^2 \cos x dx$

.....  
.....  
.....

[alManahj.com/ae](http://alManahj.com/ae)

(14) إذا علمت أن العمر الافتراضي لمصباح يتم توزيعه أسياً باستخدام دالة كثافة الاحتمال  $f(x) = 6e^{-6x}$  pdf حيث يتم قياس  $x$  بالأعوام . ما احتمال ان يدوم عمر المصباح لمدة أقل من 4 أشهر .

.....  
.....  
.....

السؤال الخامس :- اختر الإجابة الصحيحة لكل مما يلي :-

(15) الحدين الأدنى والأعلى للتكامل  $\int_0^1 \sqrt{1+x^3} dx$  يقع بين

1)  $[0, \sqrt{2}]$

2)  $[1, \sqrt{2}]$

3)  $[0,1]$

4)  $[-1,1]$



(16) لتكن  $f(x) = 6 + \ln(\sin x)$  فإن المشتقة الثانية  $f''(x) =$

- 1)  $6 + \cot x$                       2)  $-\csc^2 x$   
3)  $\sec^2 x$                           4)  $\csc^2 x$

(17)  $\int \frac{4}{\sqrt{1-x^2}} \cdot dx =$

- 1)  $\sin^{-1} x + c$                       2)  $4 \tan^{-1} x + c$   
3)  $\frac{1}{4} \sin^{-1} x + c$                       4)  $4 \sin^{-1} x + c$

(18) معادلة المماس للمنحنى  $f(x) = 4\sqrt{x} - 2x$  عند  $x = 4$  هي  $alManalij.com/ae$

- 1)  $y = 4 - x$                           2)  $y = x + 4$   
3)  $y = x - 4$                           4)  $y = -4 - x$

(19) يمكن كتابة التعبير  $\int_0^2 f(x) dx + \int_2^1 f(x) dx =$  على صورة تكامل منفرد

- 1)  $\int_0^2 f(x) dx$                           2)  $\int_1^2 f(x) dx$   
3)  $\int_0^1 f(x) dx$                           4)  $-\int_0^1 f(x) dx$

(20) قيمة  $\lim_{x \rightarrow 0^+} \frac{\sin(\sin x)}{\sin x}$  باستخدام قاعدة لوبيتال هو :-

- 1) 0                                      2) 1  
3) -1                                      4)  $\infty$



- 1) 0  
2) 1  
3) -1  
4)  $\infty$

$$\lim_{x \rightarrow 0^+} \frac{\ln x}{\csc x}$$

(21)

$$\int \frac{1+x}{1+x^2} dx = \quad (22)$$

- 1)  $\tan^{-1} x + \frac{1}{2} \ln(1+x) + c$   
2)  $\tan^{-1} x + 2 \ln(1+x) + c$   
3)  $\tan^{-1} x + \frac{1}{2} \ln(1+x^2) + c$   
4)  $\tan^{-1} x + 2 \ln(1+x^2) + c$

(23) قيمة التكامل  $\int_{-2}^0 \sqrt{4-x^2} dx$  عن طريق حساب المساحة تساوي

1)  $2\pi$   
2)  $4\pi$   
3)  $\pi$   
4)  $\frac{\pi}{2}$

(24) إذا كانت  $f(x) \geq 0$  فإن أصغر قيمة للتكامل  $\int_{-0.5}^{0.5} (2f(x) - 4) dx$  هي :-

- 1) 0  
2) -4  
3) 1  
4)  $\frac{1}{2}$

(25) إذا كان  $\int_0^5 g(x) dx =$  فإن  $\int_5^0 4g(x) dx = 8$

- 1) 4  
2) 2  
3) -2  
4)  $\frac{1}{2}$



(26) استخدم مجموع ريمان لإيجاد قيمة المساحة بدقة حيث

$$\lim_{n \rightarrow \infty} \sum_{i=1}^n f(x_i) \Delta x$$

$$f(x) = x^2 + 1, [0,1] \quad \text{وأن}$$

ارشاد

$$\sum_{i=1}^n i^2 = \frac{n(n+1)(2n+1)}{6}$$

[alManahj.com/ae](http://alManahj.com/ae)

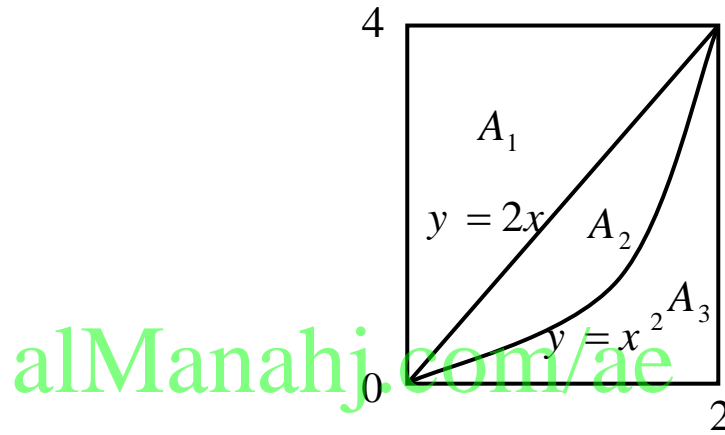
(27) قَرَب قيمة التكامل  $\int_0^1 3x^2 dx$  باستخدام قاعدة سيمبسون عندما  $n = 4$



(28) ظلل المساحة المعطاة بكل تكامل :-

a)  $\int_0^2 (2x - x^2) dx$  , b)  $\int_0^2 (4 - x^2) dx$

c)  $\int_0^4 (2 - \sqrt{y}) dy$  , d)  $\int_0^4 (\sqrt{y} - \frac{y}{2}) dy$



(29) أوجد المشتقة الأولى (  $f'(x)$  ) لكل مما يلي :-

a)  $f(x) = \int_{2-x}^{xe^x} e^{2t} dt$

.....  
.....  
.....

b)  $f(x) = \int_2^{\sin x} (t^2 + 4) dt$

.....  
.....  
.....





(30) تتمدد كرة بانتظام محتفظة بشكلها الكروي . فإذا كان معدل الزيادة في مساحتها السطحية في لحظة ما هو

$6\pi \text{ cm}^2 / \text{sec}$  عندما كان طول قطرها  $6 \text{ cm}$  . أوجد معدل الزيادة في طول نصف قطرها في تلك اللحظة ، ثم استنتج معدل الزيادة في حجمها عند تلك اللحظة ؟

.....

.....

.....

.....

.....

.....

.....

[alManahj.com/ae](http://alManahj.com/ae)

(31) مستطيل قاعدته على محور  $x$  ورأساه العلويان على القطع المكافئ  $y = 9 - x^2$  . ما أكبر مساحة لهذا المستطيل ؟ وما أبعاده ؟

.....

.....

.....

.....

.....

.....

.....



32) يتسرب النفط من ناقله النفط بمعدل 120 غالوناً في الدقيقة ، ينتشر النفط في دائرة بسلك  $\frac{1}{4}$  بوصة). حدد معدل تزايد نصف قطر التسرب عند وصول نصف القطر الى 200 ft . علماً أن  $1ft^3 = 7.5 \text{ gallon}$   
لاتنسى أن تحول البوصة ( inch ) الى قدم وذلك بالقسمة على 12

[alManahj.com/ae](http://alManahj.com/ae)

- انتهت الأسئلة -

- لا تنسونا من صالح الدعاء - مع تمنياتي بالتوفيق والنجاح للجميع -