

تم تحميل هذا الملف من موقع المناهج السعودية



\*للحصول على أوراق عمل لجميع الصفوف وجميع المواد اضغط هنا

<https://www.almanahj.com/sa>

[2/sa/com.almanahj//:https](https://www.almanahj.com/sa/2sa)

\* للحصول على أوراق عمل لجميع مواد الصف الثاني اضغط هنا

\* للحصول على جميع أوراق الصف الثاني في مادة علوم ولجميع الفصول, اضغط هنا

<https://almanahj.com/sa/2science>

\* للحصول على أوراق عمل لجميع مواد الصف الثاني في مادة علوم الخاصة بـ الفصل الأول اضغط هنا

<https://www.almanahj.com/sa/2science1>

\* لتحميل كتب جميع المواد في جميع الفصول للـ الصف الثاني اضغط هنا

<https://www.almanahj.com/sa/grade2>

[sacourse/me.t//:https](https://me.t/course/sa)

للحصول على جميع روابط الصفوف على تلغرام وفيسبوك من قنوات وصفحات: اضغط هنا

## مراجعة الوحدة الأولى ( ثاني )

المهارة / تطبيق الطريقة العلمية التي يستخدمها العلماء في دراسة العلوم  
بصورة مبسطة

س / رتبي خطوات الطريقة العلمية ؟

(أنفذ الخطة- أضع الخطة - أتوقع - أسأل سؤالاً- لاحظ- استخلص النتائج  
- اعيد تنفيذ الخطة - أسجل النتائج)

### الطريقة العلمية

-1

-2

-3

-4

-5

-6

-7

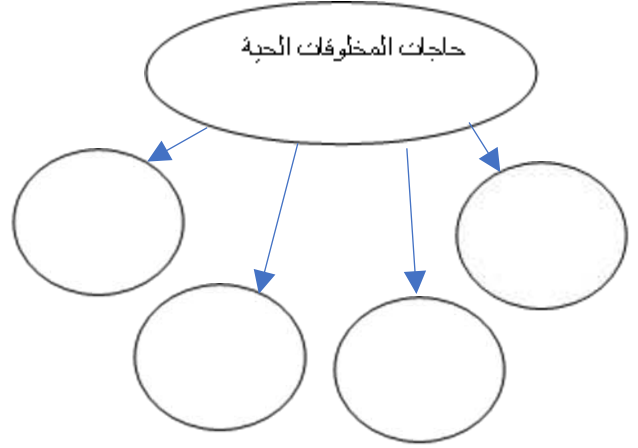
-8

## المهارة / تفسير اعتبار النباتات مخلوقات حية

س/ اختار الإجابات الصحيحة

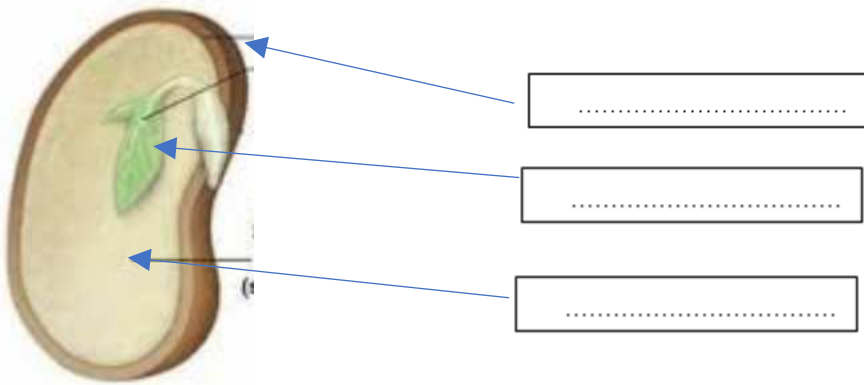
يعتبر النباتات مخلوقات حية لأنها (بذرة - تتكاثر - تنمو - زهرة - تنفس )

## المهارة/ تعداد حاجات النباتات



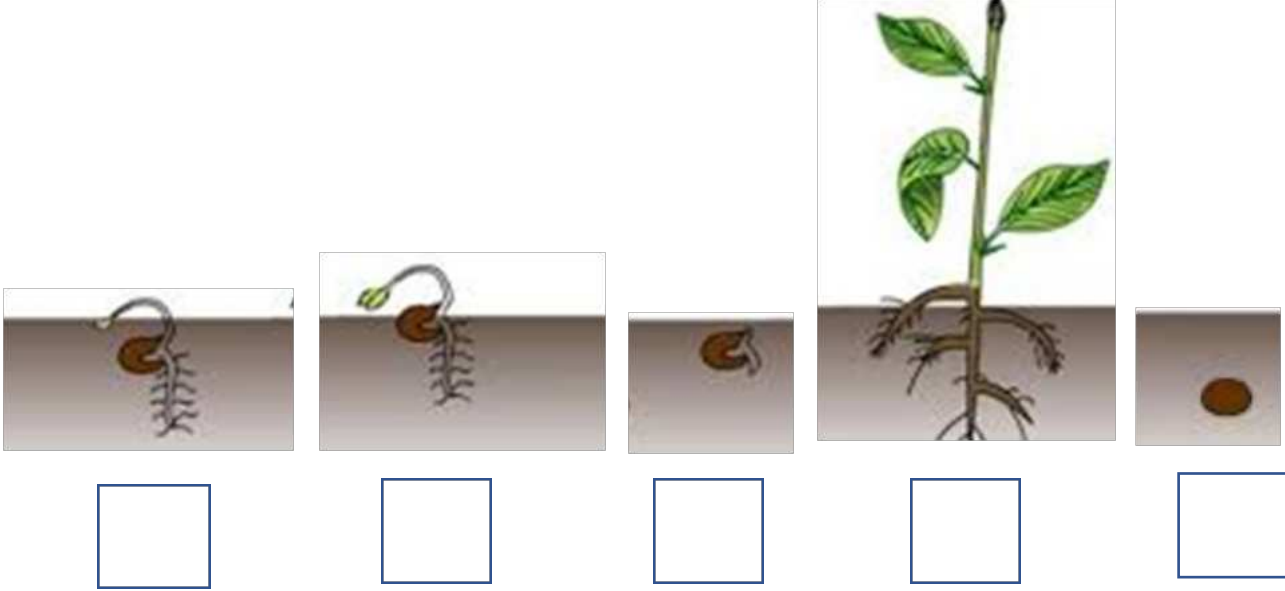
## المهارة / وصف مبسط للبذرة مع بيان مصدرها

س/ ضع على الرسم ما يناسبه من البيانات التالية؟  
( غلاف البذرة- جنين البذرة- غذاء البذرة )



## المهارة / ترتيب مجموعة صور لمراحل دورة حياة نبات ما

- رتب مراحل حياة النبات من خلال الصور مبتدئة من البذرة إلى نبات كامل النمو



## المهارة / تصنيف الحيوانات والمقارنة بينها تبعاً لصفاتهما الجسمية من خلال قراءة الصور

س / من خلال الصور الحيوانات التالية صنف الى أي مجموعة تنتمي .


- الخنفساء / من مجموعة الفقاريات - اللافقاريات )
- يغطي جسمها غطاء .....
- لها ..... أرجل




- قنديل البحر / من مجموعة (الفقاريات - اللافقاريات )
- ليس لها .....




- العصفور / من مجموعة (الفقاريات - اللافقاريات)
- ( ثدييات-طيور-زواحف- اسماك- برمائيات )
- يغطي جسمها .....
- لها .....و.....
- تضع .....



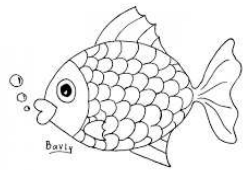
- الارنب / من مجموعة (الفقاريات - اللافقاريات)
- ( ثدييات-طيور-زواحف- اسماك- برمائيات )
- يغطي جسمها .....
- تتنفس عن طريق .....
- ترضع صغارها.....




- الضفدع / من مجموعة (الفقاريات - اللافقاريات)
- ( ثدييات-طيور-زواحف- اسماك- برمائيات )
- جلدها .....
- تبدأ حياتها في .....



- السمكة / من مجموعة (الفقاريات - اللافقاريات)
- ( ثدييات-طيور-زواحف- اسماك- برمائيات )
- يغطي جسمها .....
- تتنفس عن طريق .....
- تسبح بواسطة .....



- الافعى / من مجموعة (الفقاريات - اللافقاريات )
- ( ثدييات-طيور-زواحف- اسماك- برمائيات )
- جلدها خشن مغطى ب.....



### المهارة / ترتيب مراحل دورة حياة حيوان ما من خلال الصور

س / رتب دورة حياة الماعز ؟ ( 1-ماعز حديث الولادة 2-ماعز صغير 3- ماعز مكتمل النمو)



### المهارة/ المقارنة بين دورة حياة حيوانين مختلفين من خلال الصور

س/ قارن بين دورة حياة الدجاجة ودورة حياة الفراشة ؟

( بيضة - كتكوت- دجاجة مكتملة يفقس من البيضة )

(يرقة - بيضة - عذراء- فراشة مكتملة النمو - فراشة صغيرة)

