

تم تحميل هذا الملف من موقع المناهج السعودية



# موقع المناهج السعودي

\*للحصول على أوراق عمل لجميع الصفوف وجميع المواد اضغط هنا

<https://www.almanahj.com/sa>

\* للحصول على أوراق عمل لجميع مواد الصف الأول اضغط هنا

<https://almanahj.com/sa/1>

\* للحصول على جميع أوراق الصف الأول في مادة علوم ولجميع الفصول, اضغط هنا

<https://almanahj.com/sa/1science>

\* للحصول على أوراق عمل لجميع مواد الصف الأول في مادة علوم الخاصة بـ الفصل الأول اضغط هنا

<https://www.almanahj.com/sa/1science1>

\* لتحميل كتب جميع المواد في جميع الفصول للـ الصف الأول اضغط هنا

<https://www.almanahj.com/sa/grade1>

للحصول على جميع روابط الصفوف على تلغرام وفيسبوك من قنوات وصفحات: اضغط هنا

<https://t.me/sacourse>

## مهارات علوم الصف الأول الفترة ١ و٢

اسم الطالبة: .....

رقم	المهارة	اتقنت/لم تتقن
١	الطريقة العلمية	

رتبي بالأرقام الطريقة العلمية التي يستخدمها العلماء:

اسأل	
ألاحظ	
أضع خطة	
أستنتج	
أسجل نتائج	

رقم	المهارة	اتقنت/لم تتقن
٢	المقارنة بين المخلوقات الحية والأشياء الغير حية	

أحيطي الكائنات الحية وضعي خطأ تحت الأشياء الغير حية:



رقم	المهارة	اتقنت/لم تتقن
٣	استنتاج الأجزاء الرئيسية للنبات من خلال قراءة مجموعة من الصور	

صلي بين أجزاء النبتة وصورتها:

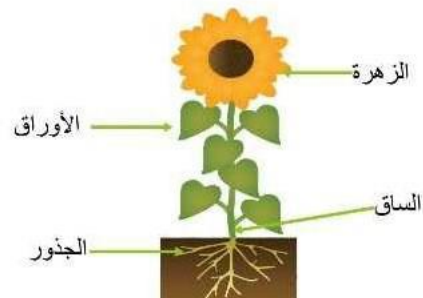
ورقة
زهرة
جذور
ساق



رقم	المهارة	اتقنت/لم تتقن
٤	تحديد أهمية الأزهار والثمار للنبات	

أحيطي الجزء الذي ينتج البذور:

أجزاء النبات

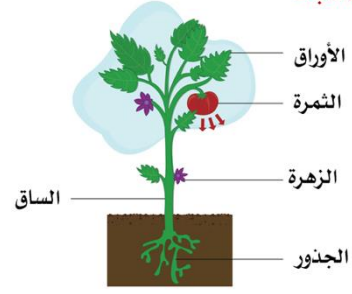


## مهارات علوم الصف الأول الفترة ١ و٢

اسم الطالبة: .....

احيطي الجزء الذي يغطي البذور ويحميها:

أجزاء النبات



رقم	المهارة	اتقنت/لم تتقن
٥	تصنف بذور متنوعة في مجموعات حسب صفاتها (اللون-النوع-الحجم)	


صلي بين كل بذرة وثمرتها وما لون البذرة :



لون البذرة (.....).  
 لون البذرة (.....).  
 لون البذرة (.....).


رقم	المهارة	اتقنت/لم تتقن
٦	ترتيب دورة حياة نبات الفاصوليا من خلال قراءة الصور	

رتبي دورة حياة الفاصولياء:



رقم	المهارة	اتقنت/لم تتقن
٧	المقارنة بين النباتات في بيئات مختلفة	

صلي كل نبتة ب بيئتها:




## مهارات علوم الصف الأول الفترة ١ و ٢

اسم الطالبة: .....

رقم	المهارة	اتقنت/لم تتقن
	تصنيف الحيوانات حسب انواعها	

صلي كل حيوان بتصنيفه:



التصنيف
طيور
برمائيات
ثدييات
حشرات
اسماك
زواحف

رقم	المهارة	اتقنت/لم تتقن
٩	تحدد ماتحتاجه المخلوقات الحية لتعيش وتنمو	

احيطي الحاجات التي تحتاجها المخلوقات الحية كي تعيش وتنمو:

الماء - التلغز - الغذاء - القلم - الهواء - المأوى

رقم	المهارة	اتقنت/لم تتقن
١٠	الربط بين شكل اسنان الحيوان والطعام الذي تأكله	

صلي بين اسنان الحيوانات والطعام الذي تأكله:



▲ أكلات الأعشاب لها أسنان مسنحة تساعدها على مضغ الطعام وتطبخه.

رقم	المهارة	اتقنت/لم تتقن
١١	تسمية المكان الذي تعيش فيه المخلوقات الحية	

اكمل الفراغ:

يسمى المكان الذي تعيش فيه المخلوقات الحية ب.....

## مهارات علوم الصف الأول الفترة ١ و٢

اسم الطالبة:.....

رقم	المهارة	اتقنت/لم تتقن
١٢	وصف مواطن اليايسة من خلال قراءة مجموعة من الصور وعمل نموذج	

صلي بين كل صورة والكلمة المناسبة

الصحراء	
البحيرة	
الغابة	
المنطقة العشبية	

رقم	المهارة	اتقنت/لم تتقن
١٣	وصف احد المواطن المائية وعمل ملصق له	

اكتب اسم كل موطن اسفل صورته ( موطن البحيرة - موطن المحيط)



موطن(.....)

موطن(.....).

رقم	المهارة	اتقنت لم تتقن
١٤	تعدد بعض موارد الأرض الطبيعية	

احيطي بالإجابات الصحيحة من موارد الأرض الطبيعية:

(١) موارد حية مثل: ( الحيوانات - التربة - النبات - القلم )

(٢) موارد غير حية مثل: ( الصخور - النبات - الهواء - الحيوانات - الماء - التربة )

رقم	المهارة	اتقنت/لم تتقن
١٥	ذكر بعض الاستخدامات للموارد الطبيعية	

اكمل يوضع الكلمة في الفراغ المناسب ( الاكواب - بناء - الملابس):

(١) يستخدم صوف الأغنام في صناعة.....

(٢) تستخدم الصخور في.....الجدران و رصف الطرق.

(٣) يستخدم الطين في صناعة.....

## مهارات علوم الصف الأول الفترة ١ و٢

اسم الطالبة: .....

رقم	المهارة	اتقنت/لم تتقن
١٦	استنتاج مفهوم التلوث من خلال قراءة مجموعة من الصور	

من الصور التالية ماهو نوع التلوث وما مفهوم التلوث:



تلوث (.....).



تلوث (.....).



تلوث (.....).

مفهوم التلوث: هو وجود أشياء..... مثل..... او الدخان.

رقم	المهارة	اتقنت/لم تتقن
١٧	تطبيق بعض طرق المحافظة على الموارد الطبيعية	

صلي كل صورة مع طريقة المحافظة على الموارد الطبيعية:

(الترشيد)

(التدوير).

