

تم تحميل هذا الملف من موقع المناهج السعودية



موقع المناهج السعودي

* للحصول على أوراق عمل لجميع الصفوف وجميع المواد اضغط هنا

<https://www.almanahj.com/sa>

* للحصول على أوراق عمل لجميع مواد الصف الأول اضغط هنا

<https://almanahj.com/sa/1>

* للحصول على أوراق الصف الأول في مادة رياضيات ولجميع الفصول, اضغط هنا

<https://almanahj.com/sa/1math>

* للحصول على أوراق عمل لجميع مواد الصف الأول في مادة رياضيات الخاصة بـ الفصل الثاني اضغط هنا

<https://www.almanahj.com/sa/1math2>

* لتحميل كتب جميع المواد في جميع الفصول للـ الصف الأول اضغط هنا

<https://www.almanahj.com/sa/grade1>

للحصول على جميع روابط الصفوف على تلغرام وفيسبوك من قنوات وصفحات: اضغط هنا

<https://t.me/sacourse>



ورقة قياس



الموضوع: حل مسائل رياضية
باستعمال استراتيجيات ومهارات
مناسبة مع إتباع الخطوات الأربع



أكملي حل المسألة التالية:

في الحقل 12 حصاناً يأكلون، ذهب 4 منهم
ليشربوا الماء. كم حصاناً بقي؟

أفهم: في الحقل 

ذهب منهم

أخطئ: كيف سأحل المسألة. 

أحل = - = 

أتحقق



ورقة قياس



الموضوع: قراءة العدد ضمن العدد
(100) وكتابتها بطرق مختلفة



اكتب الأرقام التالية بطريقة مختلفة:

.....

4 عشرات


.....

2 عشرات

.....

7 عشرات

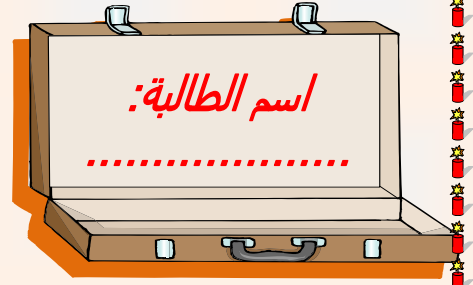
1] صلي من العمود الأول بما يناسبه من العمود الثاني:



أوراق قياس (الرياضيات للصف الأول الابتدائي) إعداد: الأستاذ بندر الحازمي



ورقة قياس



الموضوع: مقارنة الأعداد ضمن العدد (100) وترتيبها باستعمال خط الأعداد



أكملي ترتيب الأعداد التالية:

(62 ، 64 ، 61 ، 60 ، 63 ، 65)



اخترى الإجابة الصحيحة مما يلي:

64 88 

>

=

<

87 78 

=

<

>



ورقة قياس

المادة: الرياضيات
الصف: الأول الابتدائي

اسم الطالبة:




الموضوع: مقارنة الأشياء حسب (الطول, الوزن, السعة, المساحة) وترتيبها



أحيطي الأشياء التي سعتها أصغر:



أحيطي الأشياء الطويلة وضعي خطأ أسفل الأشياء القصيرة:



أوراق قياس (الرياضيات للصف الأول الابتدائي) إعداد: الأستاذ بندر الحازمي

ورقة قياس

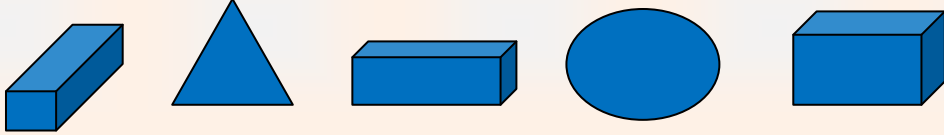
المادة: الرياضيات
الصف: الأول الابتدائي

اسم الطالبة:


الموضوع: تصنيف المجسمات وفق
خاصية (يتدرج , يتراص , ينزلق)




ضعي خطأ أسفل الجسم الذي يتراص:



ضعي خطأ أسفل الجسم الذي يتدرج:



ارسمي دائرة حول المجسمات
التي لا تدرج:



أوراق قياس (الرياضيات للصف الأول الابتدائي) إعداد: الأستاذ بندر الحازمي




ورقة قياس



الموضوع: تعرف الأشكال المستوية (المربع , المستطيل , الدائرة , المثلث) ووصفها



«اصلي كل شكل مما يلي بما يشابهه:




صح أم خطأ!


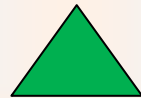
() المربع له 4 أضلاع و 3 رؤوس.



() الدائرة لها 3 أضلاع و 4 رؤوس.



() المثلث له 3 أضلاع و 3 رؤوس.



أوراق قياس (الرياضيات للصف الأول الابتدائي) إعداد: الأستاذ بندر الحازمي

ورقة قياس



الموضوع: العد بالترتيب على لوحة
المنة



أكملى الأعداد الناقصة:

...	3	...	1
20	13

اخترى الإجابة الصحيحة مما يلي:

25 ، ، 27 ، 28 ، 29 .

30

26

24

3 ، 4 ، 5 ، ، 7 .

8

0

6

55 ، ، 57 ، 58 ، 59 .

56

54

66

