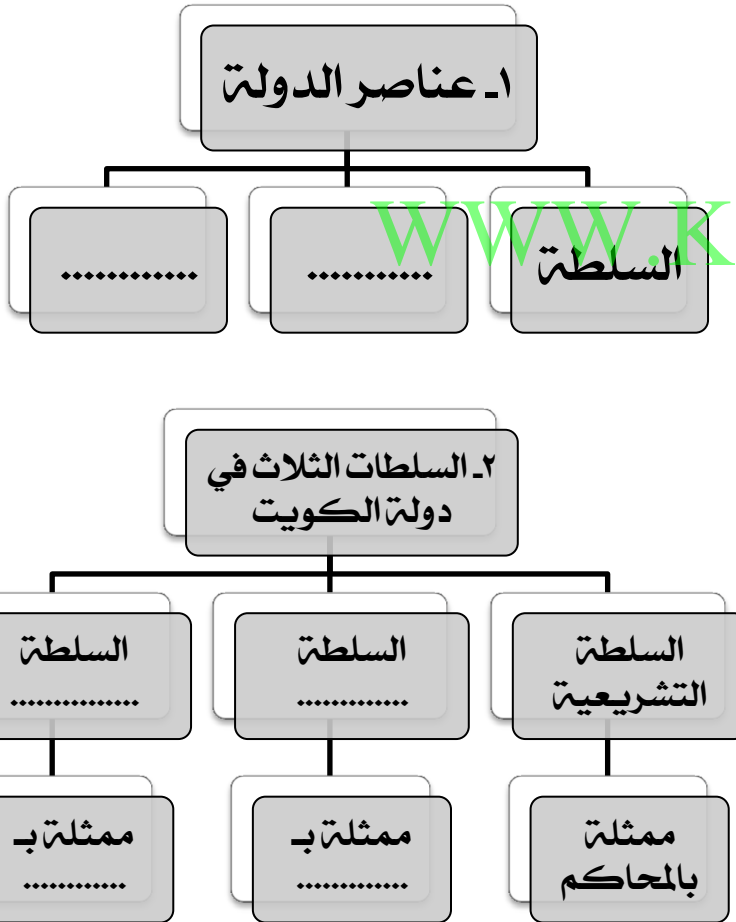


ورقة عمل لمادة بلادي الكويت / الصف الرابع درس ١ : مفهوم الدولة

السؤال الثالث : أكمل المخططات السهمية التالية :



السؤال الأول : أكتب اسم المفهوم المناسب أمام التعريف التالي :
(.....) مجموعة من الأفراد يعيشون على قطعة أرض
محددة وتنظمهم سلطة.

السؤال الثاني : ظلل الإجابة الصحيحة للعبارات التالية :

السؤال	أ	ب
١- صاحب السلطات الثلاث في دولة الكويت والرئيس الأعلى لها هو ...	الشيخ جابر الأحمد الصباح	الشيخ صباح الأحمد الصباح
٢- عدد أعضاء مجلس الأمة بدولة الكويت ...	٥٠ عضو	٦٠ عضو
٣- يتم انتخاب أعضاء مجلس الأمة كل ...	٣ سنوات	٤ سنوات

ورقة عمل لمادة بلادي الكويت / الصف الرابع درس ٢ مساحة وحدود بلادي الكويت - أولا: الاتجاهات

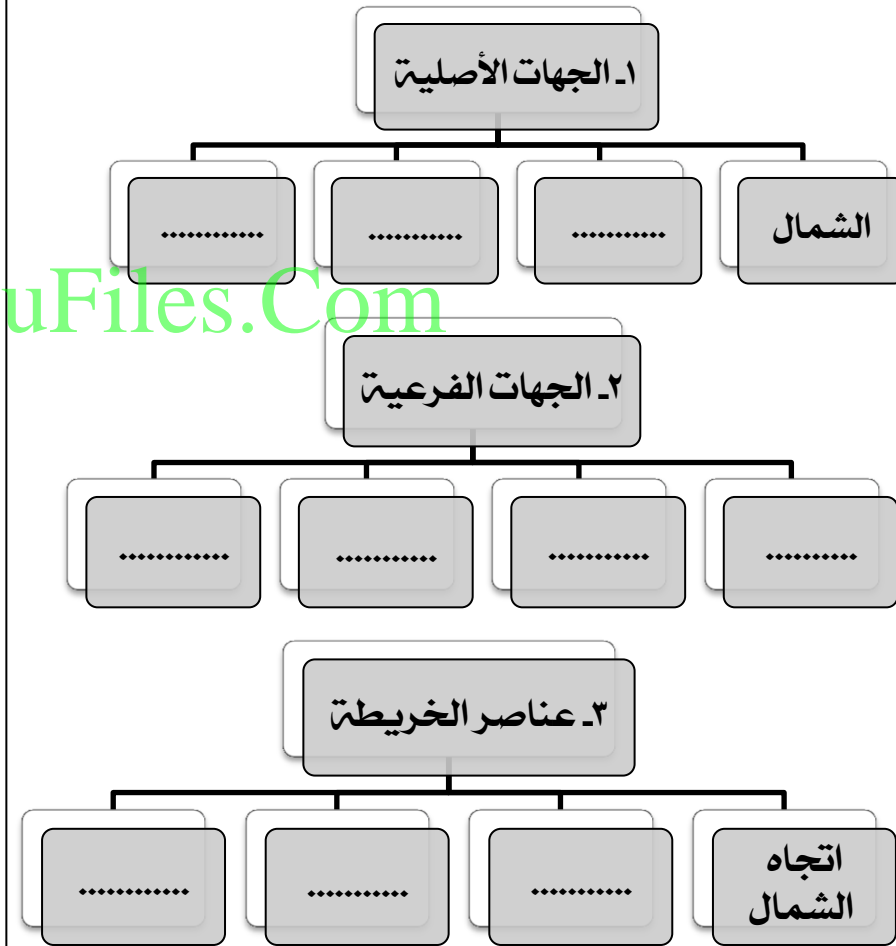
السؤال الأول: أكمل المخطط السهمي التالي:

السؤال الثاني: أجب على السؤال التالي:
- ما هي فائدة الاتجاهات؟

.....
.....
.....

WWW.KweduFiles.Com

السؤال الثالث: ابحث عن اتجاه القبلة في دولة الكويت في
النظارة التالية بوضع دائرة حولها:



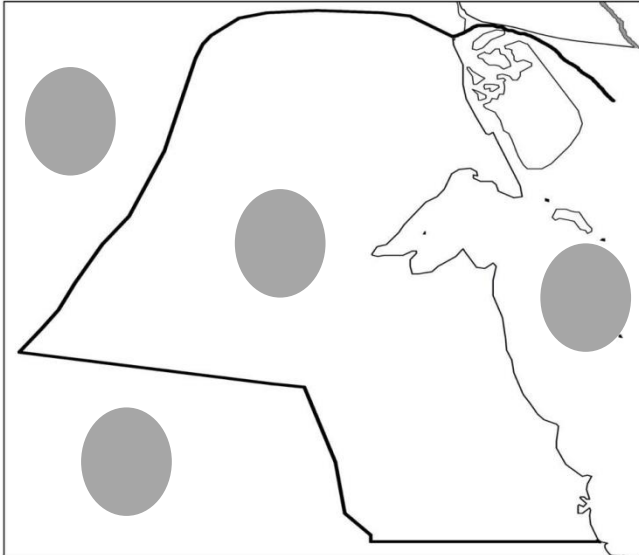
ورقة عمل لمادة بلادي الكويت / الصف الرابع درس ٢ مساحة و حدود بلادي الكويت - ثانيا : المساحة و الحدود

السؤال الأول : اختر الاجابة الصحيحة من بين القوسين بوضع دائرة حولها :

- ١- تبلغ مساحة دولة الكويت ... (١٧.٨١٨ كم^٢ - ١٨.٧١٧ كم^٢ - ١٨.١٨١ كم^٢ - ١٧.١٨١ كم^٢)
- ٢- لسان بحري ممتد داخل الأرض يسمى ... (التضاريس - الخور - المساحة - الجبل)
- ٣- مسطح مائي يحد دولة الكويت من جهة الشرق يسمى ... (العراق - السعودية - الخليج العماني - الخليج العربي)

WWW.KweduFiles.Com

السؤال الثالث : لاحظ خريطة دولة الكويت الصماء ثم حدد المطلوب بوضع الرقم المناسب في الدائرة الصحيحة على الخريطة :-



١. الخليج العربي
٢. الكويت
٣. العراق
٤. السعودية

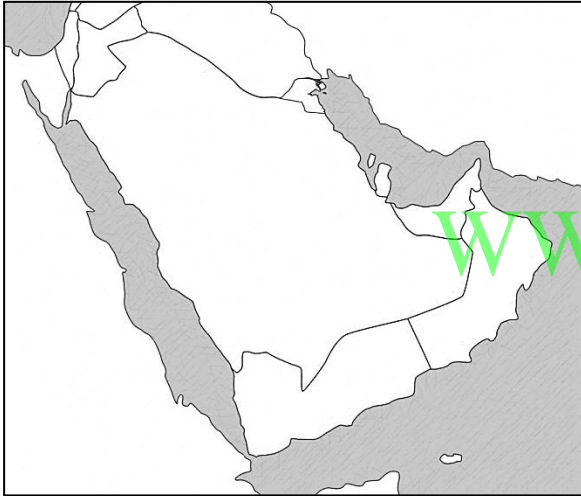
السؤال الثاني : أجب على السؤال التالي :

- ما هي مميزات سطح دولة الكويت ؟

- ١-
- ٢-
- ٣-
- ٤-

ورقة عمل لمادة بلادي الكويت / الصف الرابع درس ٣ : أهمية موقع بلادي الكويت

السؤال الثالث : حدد موقع دولة الكويت على الخرائط التالية بوضع دائرة حولها :



١- خريطة
شبه الجزيرة
العربية



٢- خريطة
العالم

السؤال الأول : أجب على السؤال التالي :

- عرف : شبه الجزيرة :

.....

السؤال الأول : أكمل العبارات بكلمات مناسبة في الفراغات التالية:-

١- تحتل دولة الكويت موقعا متوسطا بالنسبة لـ

٢- تقع دولة الكويت في الجزء الشرقي لـ

٣- تقع دولة الكويت في الطرف الشمالي الغربي لـ

٤- تمثل دولة الكويت المعبر التجاري بين خطوط الملاحية

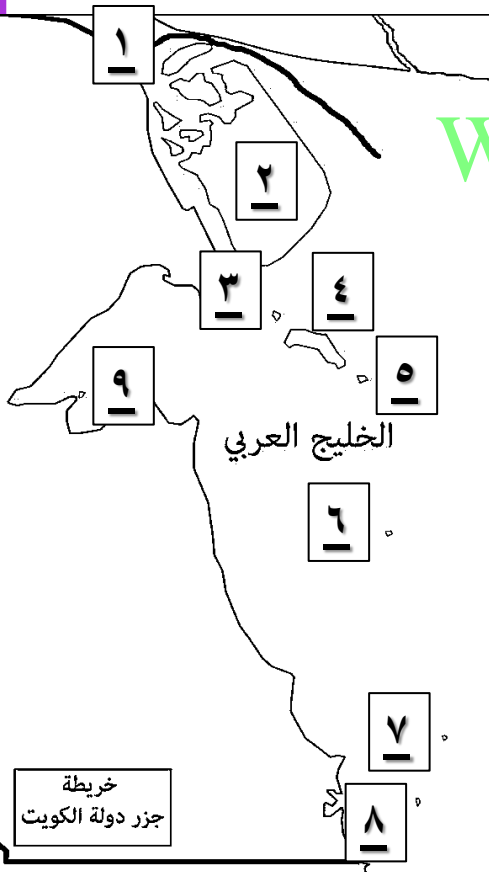
و..... قديما .

٥- دولة الكويت هي المنفذ الشمالي الشرقي لـ

ورقة عمل لمادة بلادي الكويت / الصف الرابع درس ٤: بيئة بلادي الكويت - أولا : جزر بلادي الكويت

السؤال الثالث : أكتب أسماء الجزر الكويتية
حسب الأرقام التي على الخريطة:-

السؤال الأول : اختر الاجابة الصحيحة من بين القوسين بوضع دائرة حولها :



- ١- جزيرة
- ٢- جزيرة
- ٣- جزيرة
- ٤- جزيرة
- ٥- جزيرة
- ٦- جزيرة
- ٧- جزيرة
- ٨- جزيرة
- ٩- جزيرة

١- كم عدد الجزر الكويتية؟ (٧ - ٨ - ٩ - ١٠)

٢- أكبر جزيرة في دولة الكويت هي ...

(بوبيان - قاروه - مسكان - عوهتا)

٣- الجزيرة الكويتية التي كانت مأهولة بالسكان هي ...

(كجر - وربنا - أم المرادم - فيلكا)

٤- جزيرة تقع داخل جون الكويت بالقرب من رأس عشيرج هي ...

(فيلكا - بوبيان - أم النمل - قاروه)

السؤال الثاني : صل المجموعة (أ) بما يناسبها من المجموعة (ب)
بوضع الرقم المناسب :-

(أ)	(ب)
١- قطعة من اليابسة يحيط بها الماء من جميع الجهات	(الرأس)
٢- لسان من اليابس يمتد داخل الماء.	(الجزيرة)
	(الخور)

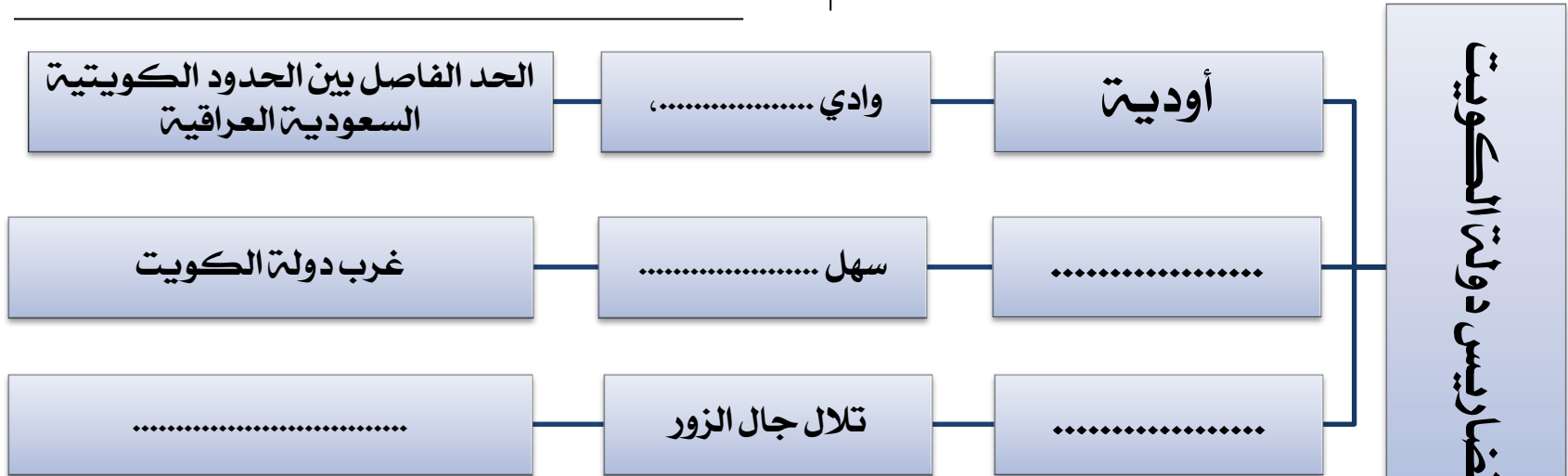
ورقة عمل لمادة بلادي الكويت / الصف الرابع درس ٤: بيئة بلادي الكويت - ثانيا : تضاريس بلادي الكويت

السؤال الثاني : صل المجموعة (أ) بما يناسبها من المجموعة (ب) بوضع الرقم المناسب :-

(أ)	(ب)
١- أرض مستوية المساحة و واسعة.	() التل
٢- منخفض طولي بين منطقتين.	() السهل
٣- أرض مرتفعة قليلا عن الأراضي المحيطة بها	() الوادي

السؤال الأول : أكتب اسم المفهوم المناسب أمام التعريف التالي :
(.....) أشكال سطح الأرض من مرتفعات و منخفضات .

السؤال الثالث : أكمل المخطط السهمي التالي :



ورقة عمل لمادة بلادي الكويت / الصف الرابع درس ٤: بيئة بلادي الكويت - ثالثا: مناخ بلادي الكويت

السؤال الثالث: أكتب أسفل الصور الاسم الصحيح لها
من الفصول الأربعة :-



فصل



فصل



فصل



فصل

السؤال الأول: صحح ما تحته خط في الفراغ التالي :-

١- مناخ دولة الكويت حار جاف شتاء

٢- مناخ دولة الكويت بارد شتاء كثير الأمطار

٣- تقع دولة الكويت ضمن المناخ الصحراوي البارد

٤- الأرض تدور حول الشمس مرة كل سنتين

٥- ينتج عن دوران الأرض حول الشمس الليل والنهار

السؤال الثاني: فرق بين الطقس والمناخ في الجدول التالي :-

الطقس	المناخ

ورقة عمل لمادة بلادي الكويت / الصف الرابع درس ٤: بيئة بلادي الكويت - ثالثا: مناخ بلادي الكويت

السؤال الثالث: أكتب أسفل الصور الاسم الصحيح لها
من الفصول الأربعة:-



فصل



فصل



فصل



فصل

السؤال الأول: صحح ما تحته خط في الفراغ التالي :-

١- مناخ دولة الكويت حار جاف شتاء

٢- مناخ دولة الكويت بارد شتاء كثير الأمطار

٣- تقع دولة الكويت ضمن المناخ الصحراوي البارد

٤- الأرض تدور حول الشمس مرة كل سنتين

٥- ينتج عن دوران الأرض حول الشمس الليل والنهار

السؤال الثاني: فرق بين الطقس والمناخ في الجدول التالي :-

الطقس	المناخ