

ورقة عمل لمادة بلادي الكويت / الصف الرابع

الوحدة الثانية : نشأة بلادي الكويت درس ١ : قصة بلادي الكويت (١)

السؤال الثاني : أكتب تعليق مناسب للصورة مما درست :



السؤال الأول : أكمل الفقرة التالية باختيار الكلمة الصحيحة من بين القوسين بوضع

دائرة حولها :

نحن نعيش في دولة الكويت و اسمها يعني تصغيراً لكلمة (الكوت _

القرن) و هو الحصن الصغير الذي يستخدم لـ (تخزين - صناعة)

الأسلحة و المؤن ، و لدولة الكويت اسم قديم و شائع هو (القصور -

القرين) لكنه اختفى تدريجياً .

ورقة عمل لمادة بلادي الكويت / الصف الرابع

الوحدة الثانية : نشأة بلادي الكويت درس ٢ : قصة بلادي الكويت (٢)

السؤال الأول : أكمل العبارات التالية بما يناسبها فيها درست :

السؤال الثالث : عين على خريطة شبه الجزيرة العربية الصماء الرموز التالية :

- على موقع منطقة الهدار .

شبه جزيرة قطر .

ظلل دولة الكويت .



١- هاجرت مجموعة من الأسر العربية و بينها آل الصباح من منطقة الهدار في

٢- اتجه آل الصباح في هجرتهم من الهدار إلى شبه جزيرة

٣- هاجر آل الصباح من منطقة الهدار إلى شبه جزيرة قطر بسبب و

٣- غادر آل الصباح من شبه جزيرة قطر إلى منطقة الصبية بواسطة السفن عن طريق

السؤال الثاني :- صل بين المجموعتين برسم خط بينهما :-

انتقل آل الصباح من شبه منطقة الهدار إلى شبه جزيرة قطر

بواسطة

انتقل آل الصباح من شبه جزيرة قطر إلى الكويت بواسطة



ورقة عمل لمادة بلادي الكويت / الصف الرابع
الوحدة الثانية : نشأة بلادي الكويت درس ٣ : حكام بلادي الكويت

السؤال الأول:

ضع علامة (V) أمام العبارات الصحيحة و علامة (x) أمام العبارات الخاطئة :

م	العبارة	العلامة
١	أول حاكم لبلادي الكويت هو الشيخ صباح بن جابر .	
٢	أصبحت دولة الكويت أرضاً جاذبة للسكان لموقعها المميز و ازدهار التجارة مع حكم آل الصباح .	
٣	معركة الرقة البحرية حدثت في عهد الشيخ عبدالله الثاني .	
٤	المدرسة الأحمدية افتتحت في عهد الشيخ جابر الأحمد .	
٥	تحرير دولة الكويت حدث عام ١٩٩٠ م .	
٦	لقّب الشيخ جابر الأحمد بأمير الانسانية .	

السؤال الثالث :

صل بين المجموعتين برسم خط بينهم :



المدرسة المباركية



سور الكويت الثالث



القصر الأحمر

السؤال الثاني : لاحظ الصورة ثم أكتب الحدث التاريخي الدال عليها :



ورقة عمل لمادة بلادي الكويت / الصف الرابع
الوحدة الثانية : نشأة بلادي الكويت درس ٤ : الاتفاقية الكويتية البريطانية عام ١٨٩٩م

السؤال الأول : ضع علامة V في المربع الدال على صورة الشيخ مبارك الصباح :-

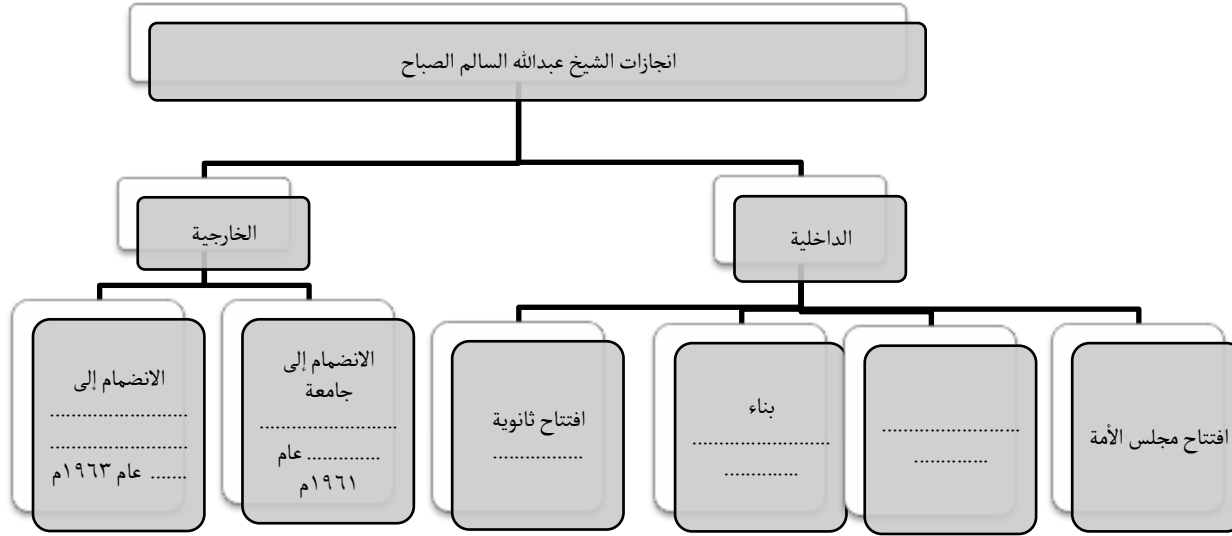


السؤال الثاني : صوّب ما تحته خط في العبارات التالية :

م	العبرة	التصويب
١	أصبحت إمارة الكويت ذات مكانة قوية في عهد الشيخ <u>محمد الصباح</u> .	
٢	لقّب الشيخ مبارك الصباح بعدة ألقاب منها <u>أبو الدستور</u> .	
٣	وقّع الشيخ مبارك الصباح اتفاقية عام ١٨٩٩م مع <u>الهند</u> .	
٤	من شروط الاتفاقية الكويتية البريطانية ١٨٩٩م التزام بريطانيا بحماية <u>البحرين</u> .	

ورقة عمل لمادة بلادي الكويت / الصف الرابع
الوحدة الثانية : نشأة بلادي الكويت درس ٥: استقلال بلادي الكويت

السؤال الثاني : أكمل المخطط السهمي التالي :



السؤال الرابع : أملأ الفراغات التالية بما يناسبها فيما درست :

رغب الشيخ عبدالله السالم في تحويل إمارة الكويت إلى دولة ، وكان أهم شروط ذلك إلغاء اتفاقية لتغيير الظروف و سير إمارة الكويت نحو فوقع الشيخ عبدالله السالم مع المقيم البريطاني اتفاقية ، وبذلك حصلت دولة الكويت على استقلالها في تاريخ ولقّب الشيخ عبدالله السالم بـ

السؤال الأول : ضع علامة V في المربع الدال على صورة الشيخ عبدالله السالم الصباح :-



السؤال الثالث : رتب العبارات التالية لتكون التعريف الصحيح للاستقلال :-

- (الداخلية و - مسؤولية الدولة - ادارة شؤونها - الخارجية - بصورة مباشرة عن)

الاستقلال هو

.....
.....

ورقة عمل لمادة بلادي الكويت / الصف الرابع



الوحدة الثانية : نشأة بلادي الكويت درس ٦: رموز بلادي الكويت (١)

السؤال الأول : من خلال دراستك للنشيد الوطني الكويت - كون فقرة مناسبة باستخدام الكلمات التالية :-

(٢٥ فبراير ١٩٧٨ م - الشيخ جابر الأحمد الصباح - أحمد العدواني - ابراهيم الصولة)

السؤال الثالث : قارن بين كل من :

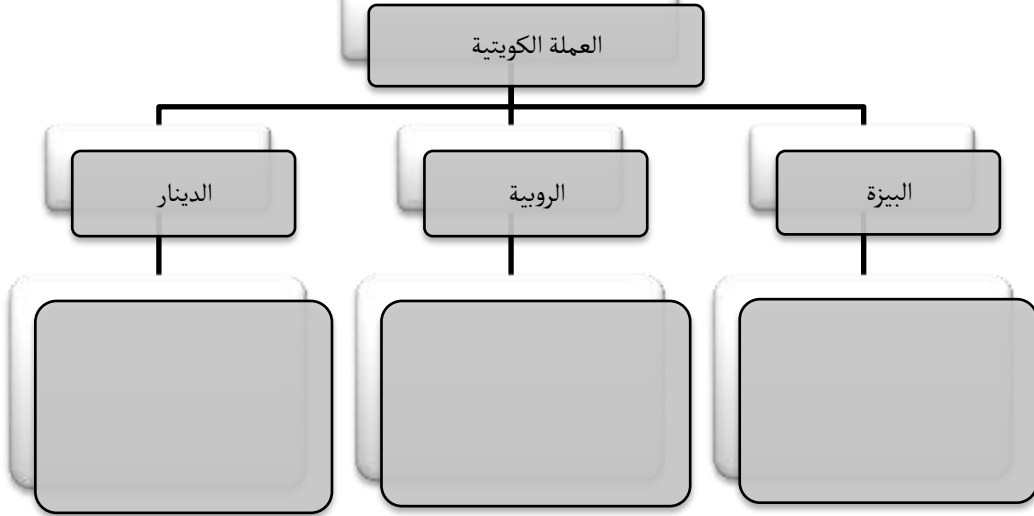
السؤال الثاني : علل :-

العلم القديم	العلم الحديث
أوجه المقارنة	
الشكل و اللون	
سنة الاستخدام	

أهمية النشيد الوطني للدولة .

الوحدة الثانية : نشأة بلادي الكويت درس ٧ : رموز بلادي الكويت (٢)

السؤال الثاني : أكمل المخطط السهبي التالي بكتابة معلومات مهمة عنها:



السؤال الثالث : أحب على الأسئلة التالية بمساعدة الصورة :-



١- لون شعار دولة الكويت .

٢- ما هي مكونات الشعار ؟

٣- ما أهمية الشعار لدولة الكويت ؟

السؤال الأول : رتب شعارات دولة الكويت التالية زمنياً ثم أكمل المعلومات المرتبطة بها

(١٩٤٠ م - ١٩٦٢ م - ١٩٢١ م - أحمد الجابر - عبدالله السالم)

• اعتمد في عام

• في عهد الشيخ



الشعار

• اعتمد في عام



الشعار

• اعتمد في عام

• في عهد الشيخ

• استخدم بعد الاستقلال



الشعار

ورقة عمل لمادة بلادي الكويت / الصف الرابع

الوحدة الثانية : نشأة بلادي الكويت درس ٨ : سكان بلادي الكويت

السؤال الثاني : صل بين المجموعتين برسم خطأ بينهما :

عدد السكان
مساحة الدولة

عدد المواليد - عدد الوفيات

الزيادة الناتجة عن الهجرة

الزيادة الطبيعية

الزيادة غير الطبيعية

الكثافة السكانية

السؤال الرابع : أحب على الأسئلة التالية :

١- ما فائدة التعداد السكاني ؟

٢- علل : عدد الذكور أكثر من عدد الاناث في دولة الكويت .

٣- اكتب ما تعرف عن أول تعداد سكاني في دولة الكويت .

السؤال الأول : ظلل الخيار الصحيح من بين الخيارات التي تلي كل عبارة :-

١- عدد سكان دولة الكويت في بداية نشأتها كان لا يتجاوز :

٤ آلاف نسمة	٥ آلاف نسمة	٦ آلاف نسمة	٧ آلاف نسمة
-------------	-------------	-------------	-------------

٢- زاد عدد سكان دولة الكويت بعد ظهور و تصدير :

الحديد	الكالسيوم	النفط	الماء
--------	-----------	-------	-------

٣- عدد سكان دولة الكويت الحالي يبلغ حوالي :

٢,٢٠٠,٠٠٠ نسمة	٣,٣٠٠,٠٠٠ نسمة	٤,٤٠٠,٠٠٠ نسمة	٥,٥٠٠,٠٠٠ نسمة
----------------	----------------	----------------	----------------

السؤال الثالث : ضع إشارة < أو > في الدائرة :

١- عدد السكان الذكور عدد السكان الذكور .

٢- عدد السكان الكويتيين عدد السكان الكويتيين .

اعداد المعلمة : زينب بن نخي

ورقة عمل لمادة بلادي الكويت / الصف الرابع

الوحدة الثانية : نشأة بلادي الكويت درس ٩ : محافظات بلادي الكويت

السؤال الثاني : لاحظ خريطة محافظات دولة الكويت الصماء ثم نفذ المطلوب :

- لون محافظة الجهراء باللون الوردي
- لون محافظة الأحمدية باللون الأزرق
- لون محافظة الفروانية باللون الأصفر
- لون محافظة العاصمة باللون الأخضر
- لون محافظة مبارك الكبير باللون البنفسجي
- لون محافظة حولي باللون البرتقالي



اعداد المعلمة : زينب بن نخي رئيس

السؤال الأول : اختر من المجموعة (ب) ما يرتبط بالمجموعة (أ) بوضع

الرقم في المكان المناسب :

(أ)	(ب)
١- أكبر محافظة كويتية .	() الأحمدية
٢- أصغر محافظة كويتية .	() حولي
٣- أكثر محافظة كثافة سكانية	() العاصمة
٤- يتركز الكويتيون في محافظة	() الجهراء
٥- أحدث محافظة كويتية	() مبارك الكبير
٦- محافظة توجد فيها المقار الرئيسية للحكم .	() الفروانية

السؤال الأول : ظلل الخيار الصحيح من بين الخيارات التي تلي كل عبارة :-

١- يبلغ عدد محافظات دولة الكويت :

٧ محافظات	٦ محافظات	٥ محافظات	٤ محافظات
-----------	-----------	-----------	-----------

٢- الجزر الكويتية تتبع إدارياً محافظة ::

العاصمة	الجهراء	حولي	الأحمدية
---------	---------	------	----------