



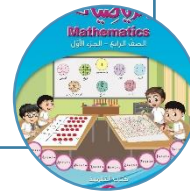
وزارة التربية
الإدارة العامة لمنطقة الأحمدية التعليمية
مدرسة هدية الابتدائية بنين



www.KweduFiles.Com

الوحدة الثانية

للمصف الرابع



• أ. أمل موسى


إعداد المعلمة

• أ. شيمة المطيري

إشراف رئيسة القسم

• أنماط تيميبي الجمع والطرح

بند (۱-۲)



استخدم الأنماط لإيجاد الناتج

$$\underline{\hspace{2cm}} = 4 - 1$$

$$\underline{\hspace{2cm}} = 40 - 10$$

$$\underline{\hspace{2cm}} = 400 - 100$$

$$\underline{\hspace{2cm}} = 4000 - 1000$$

$$\underline{\hspace{2cm}} = 40000 - 10000$$

استخدم الأنماط لإيجاد الناتج

$$\underline{\hspace{2cm}} = 5 + 3$$

$$\underline{\hspace{2cm}} = 5 \cdot + 3 \cdot$$

WWW.KweduFiles.Com

$$\underline{\hspace{2cm}} = 5 \cdot \cdot + 3 \cdot \cdot$$

$$\underline{\hspace{2cm}} = 5 \cdot \cdot \cdot + 3 \cdot \cdot \cdot$$

$$\underline{\hspace{2cm}} = 5 \cdot \cdot \cdot \cdot + 3 \cdot \cdot \cdot \cdot$$

استخدم الحساب الذهني لإيجاد الناتج

$$\underline{\hspace{2cm}} = 2000 + 16000$$

WWW.KweduFiles.Com

$$\underline{\hspace{2cm}} = 30000 + 10000$$

استخدم الحساب الذهني لإيجاد الناتج


$$\underline{\hspace{2cm}} = 4000 - 12000$$

WWW.KweduFiles.Com

$$\underline{\hspace{2cm}} = 80000 - 100000$$

أُكْمَلُ مُسْتَخْدَمًا الْقَاعِدَةَ

WWW.KweduFiles.Com



مُخْرَجَاتٌ

مُدْخَلَاتٌ


أكمل مستخدماً القاعدة

مُدْخَرَات

مُدْخَلَات

٥	♦	♦	♦	♦
٤	♦	♦	♦	♦
٧	♦	♦	♦	♦

WWW.KweduFiles.Com



وضح كيف يمكنك إيجاد مجموع

العددين ٩٠٠٠ و ٣٠٠٠

WWW.KweduFiles.Com

بيعت (تذكرة لحضور

مباراة لكرة القدم من أصل (

WWW.KweduFiles.Com

تذكرة ، كم تذكرة تبقت ؟

اكتشف النمط فيما يلي ثم أكمل

٦٤٠٠

٦٢٠٠

٦٠٠٠

www.kwedufiles.com

اكتشف النمط فيما يلي ثم أكمل

٥٢٠٠٠

٥٥٠٠٠

www.KweduFiles.Com

٤٩٠٠٠

ظلل ✓ إذا كانت العبارة صحيحة

و ظلل X إذا كانت العبارة خاطئة

X ✓

www.KweduFiles.Com

$$٨٠٠٠ = ٦٠٠٠ + ٢٠٠$$

X ✓

٤ آلاف = ٣٠٠٠ - ٧٠٠٠

اكتب حقيقة الجمع التي تساعدك على ايجاد الناتج

$$٤٠٠٠ + ٥٠٠$$


www.KweduFiles.Com



اكتب حقيقة الطرح التي تساعدك على ايجاد الناتج


٧٠٠٠ - ١٢٠٠٠

WWW.KweduFiles.Com



• الجيمع / الطرح على لوحة الألف

بند (٢-٢)



أوجد الناتج مستخدماً لوحة الألف

$$\underline{\hspace{2cm}} = ٣٠٠ + ٦٢٠$$

WWW.KweduFiles.Com

$$\underline{\hspace{2cm}} = ٥٠ + ٣٣٠$$

$$\underline{\hspace{2cm}} = ١٩٠ + ٤٤٠$$

$$\underline{\hspace{2cm}} = ٣٤٠ + ٢٧٠$$

أوجد الناتج مستخدماً لوحة الألف

$$\underline{\quad} = 500 - 740$$

WWW.KweduFiles.Com

$$\underline{\quad} = 410 - 630$$

$$\underline{\quad} = 70 - 150$$

$$\underline{\quad} = 360 - 820$$

وضح بطريقتين مختلفتين كيف توجد ناتج

$$630 + 370$$

WWW.KweduFiles.Com


على لوحة الألف

لنفترض أنك بدأت بالعدد ٨٧٠

على لوحة الألف، ما العدد الذي ستتوقف

WWW.KweduFiles.Com

عنده إذا تحركت صعوداً ٣ صفوف ؟



بدأ محمد بعدد ما على لوحة الألف ، تحرك

يساراً ٤ أعمدة ، ثم نزولاً ٣ صفوف و

WWW.KweduFiles.Com

توقف عند العدد ٧٦٠

ما العدد الذي بدأ به محمد ؟

لاحظ النمط ثم أكمل

العدد الأكبر من العدد ١٠ بـ ٣٢٠ هو ٣٣٠


العدد الأكبر من العدد ١٠ بـ ٤٣٠ هو ٤٤٠

العدد الأكبر من العدد ١٠ بـ ٥٤٠ هو _____

العدد الأكبر من العدد ١٠ بـ ٦٥٠ هو _____


تفسير نتائج الجمع / الطرح

بند (٢-٣)




قدر الناتج

$$\begin{array}{r} + \\ \hline \end{array}$$

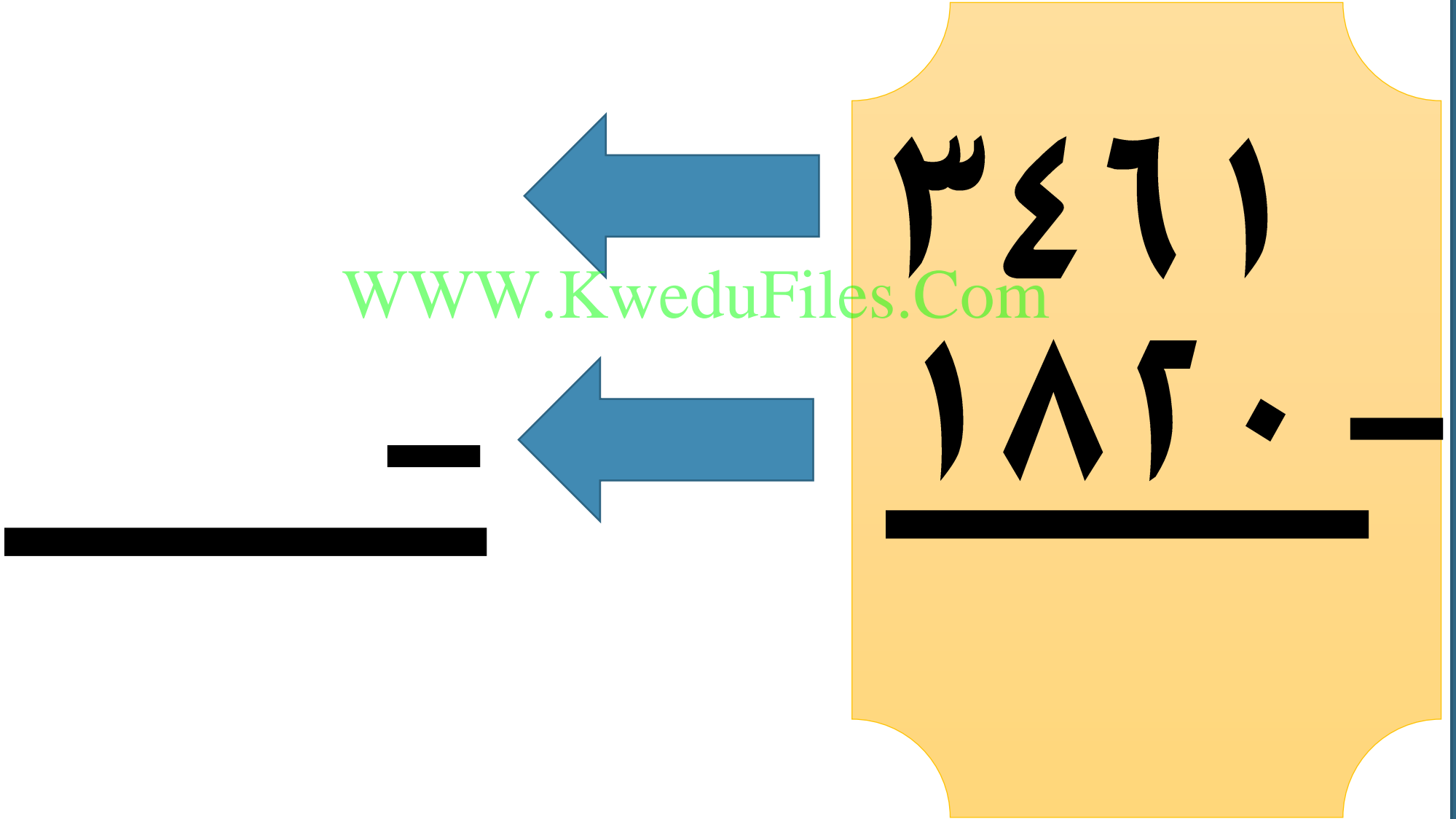


WWW.KweduFiles.Com




$$\begin{array}{r} ٧٥٣ \\ ١٢٤ + \\ \hline \end{array}$$

قدر الناتج




قدر الناتج

$$\underline{\quad\quad\quad} +$$



WWW.KweduFiles.Com






$$\begin{array}{r} 518 \\ 2541 + \\ \hline \end{array}$$

قدر الناتج

٩٣١٢

١١٧

WWW.KweduFiles.Com



استخدم الأرقام ٢، ٣، ٤، ٥، ٦ مرة

واحدة في كل عدد لتكتب عددين رمز كل
WWW.KweduFiles.Com

منهما مكون من ٣ أرقام بحيث يكون

تقدير ناتج جمعها أصغر من ١٠٠٠

إذا قرّبت عددين فهل يكون مجموعهما

بعد التقريب أكبر أم أصغر من

WWW.KweduFiles.Com


مجموعهما الدقيق؟ فسر إجابتك.

• جمع عددین نتائج کا مزید من

www.kwedufiles.com



بند (۲-۴)



أوجد الناتج

عشرات الألوف	أحاد الألوف	مئات	عشرات	أحاد
٣ ٤	٢ ١	٧ ٠	٣ ٦	٤ ٥ +

www.kwedufiles.com

أوجد الناتج

مئات الألوف	عشرات الألوف	آحاد الألوف	مئات	عشرات	آحاد
٣	١	٩	٦	٧	٨
٣	٦	٥	١	٣	٤+

www.kwedufiles.com

أوجد الناتج

٢٥٠٢٣٤

WWW.KweduFiles.Com

١٢٩٦٦٢ +

أوجد الناتج

٩٥٧٢٢٥

WWW.KweduFiles.Com

٢٤٦٧٥ +

أوجد الناتج

٦٤٥٦٤٢

WWW.KweduFiles.Com

٢٤٧٦٨٣ +

أوجد الناتج

$$\underline{\hspace{2cm}} = ٣٢٢٣٤ + ٥٣٤١٢٥$$


WWW.KweduFiles.Com

$$\underline{\hspace{2cm}} = ١٤٧١٦ + ٧٢٣٠٩$$

• طرح عددی من آنرا کبر من

www.KweduFiles.Com

بند (۲-۵)



أوجد الناتج

عشرات الألوف	آحاد الألوف	مئات	عشرات	آحاد
٩	٣	٥	٣	٤
٤	٢	٤	٣	١

WWW.KweduFiles.Com

أوجد الناتج

مئات الألوف	عشرات الألوف	آحاد الألوف	مئات	عشرات	آحاد
٣	٢ ٦	٧ ٢	٩ ١	١ ٣	٨ ٧ ١

www.kwedufiles.com

أوجد الناتج

٤٧٨٢٩٤

WWW.KweduFiles.Com

٢١٢٦٥٤ -

أوجد الناتج

٥٢٤٨٢

WWW.KweduFiles.Com

٦٨٧٥ -

أوجد الناتج

)

WWW.KweduFiles.Com

١٤١٦٢ -

أوجد الناتج ثم تحقق من صحته

$$\underline{\hspace{2cm}} = 4113 - 7264$$

WWW.KweduFiles.Com

$$\underline{\hspace{2cm}} = 3523 - 5189.$$

أوجد ناتج طرح

١٠٤٦٠٥٦ من ٩٤٨٥٦

www.KwediFiles.Com

اشترى تاجر قطيع من الغنم بمبلغ


٥٤٠٢ دينار، إذا باع القطيع بمبلغ

WWW.KweduFiles.Com

٩٠٠١ دينار، فكم ديناراً ربح؟

الطَّابِ الْفَهْنِي •

بند (٢-١)



أوجد الناتج ذهنياً

$$\underline{\hspace{2cm}} = ٨٩ + ٩٩$$

WWW.KweduFiles.Com

$$\underline{\hspace{2cm}} = ١٧٥ - ٦٠٠$$

$$\underline{\hspace{2cm}} = ١٣٨ - ٣٤٥$$

أوجد الناتج ذهنياً

$$\underline{\hspace{2cm}} = 259 + 321$$

WWW.KweduFiles.Com

$$\underline{\hspace{2cm}} = 421 - 766$$

$$\underline{\hspace{2cm}} = 327 + 523$$

ووفر خالد ٣٥٥ دينار، ووفر أخوه

سعد ٢٣٤ دينار، كم ووفر الاثنان معاً؟

WWW.KweduFiles.Com

استخدم الحساب الذهني




اختر الإجابة الصحيحة بوضع


$$= ٢٠٠٣ + ٣٩٩٧$$

WWW.KweduFiles.Com


٧٠٠٠




٥٩٩٩



٦٠٠٠




٦٣٠٠



ایجاد المذبح الجہول

بند (۲-۷)



أوجد العدد المجهول

؟

٢٥	١٦٥
----	-----

www.KweduFiles.Com

أوجد العدد المجهول

٥٢٨

?	٢١٤
---	-----

WWW.KweduFiles.Com

أوجد العدد المجهول

١٠٩١

?	٣٧٢

WWW.KweduFiles.Com

أوجد العدد المجهول

٣٢٠٠

WWW.KweduFiles.Com

+


٦٥٠٠

أوجد العدد المجهول

٤٠٩٦

WWW.KweduFiles.Com

٣٦١٤ +



أوجد العدد المجهول



WWW.KweduFiles.Com

$$\begin{array}{r} ٤٧٣٥ + \\ \hline ٥٩٨٧ \end{array}$$

أوجد العدد المجهول

$$5992 = \underline{\hspace{2cm}} + 3950.$$

WWW.KweduFiles.Com

$$7467 = 3265 + \underline{\hspace{2cm}}$$

$$6230 + \underline{\hspace{2cm}} = 9780.$$

ما العدد الذي إذا أُضيف إليه ٣٧٢

كان الناتج ٤٦٥ ؟

WWW.KweduFiles.Com


استخدام البيانات

بند (۲-۸)



استخدم التمثيل البياني بالنقاط المجموعة الذي يوضح أوزان بعض الدلافين

بالكيلوجرامات للإجابة على الأسئلة التالية :




ما الوزن الأقل تكراراً؟ _____

كم دلفين وزن كل منه 200؟ _____

• حل المسائل: اختر العملية

المناسبة / مسائل متعددة الخطوات

بند (٢-٩)



مع فيصل ١٣٠ دينار، اشترى
لعبتين الأولى بقيمة ٧٥ دينار
والثانية بقيمة ٢٢ دينار؟

❖ ما ثمن اللعتين؟

❖ كم تبقى لديه؟

على متن سفينة ١٨٠٦ راكب
عند أحد الموانئ نزل ١٠٠٥ راكب
وصعد إليها ١١٢٥ راكب.

كم أصبح عدد الركاب على السفينة