



١- أجب عن الأسئلة التالية :

٤- كم مئة في العدد ٧٠٠ ؟ \_\_\_\_\_

٥- كم عشرة في العدد ٧٠٠ ؟ \_\_\_\_\_

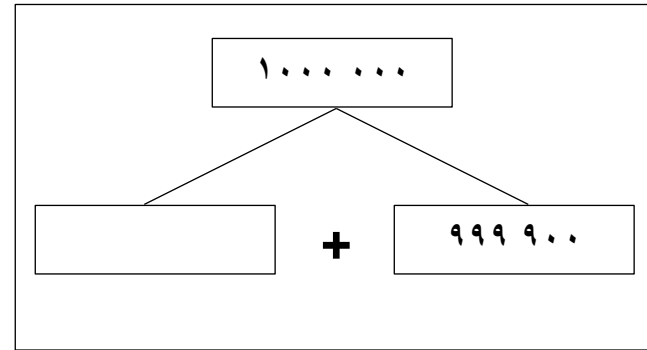
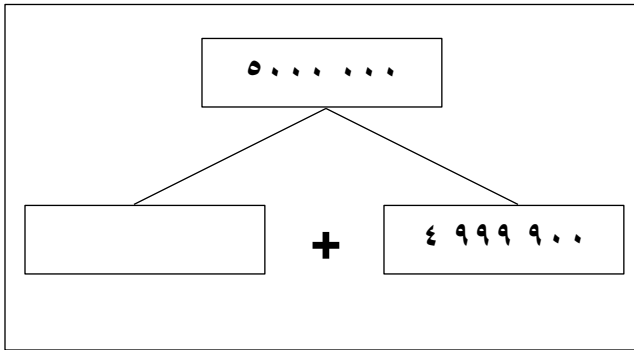
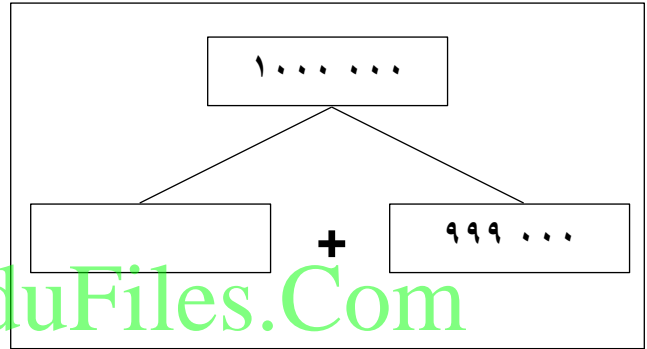
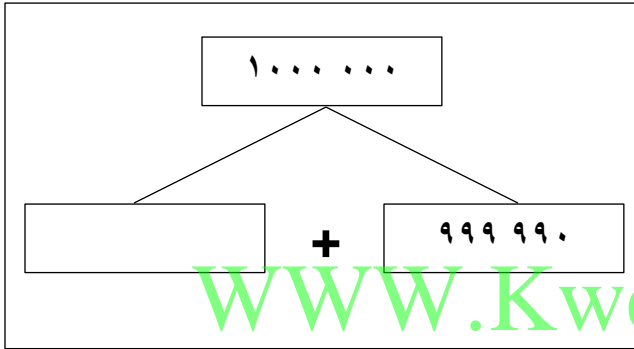
٦- كم وحدة في العدد ٧٠٠ ؟ \_\_\_\_\_

١- كم مئة في العدد ٥٠٠ ؟ \_\_\_\_\_

٢- كم عشرة في العدد ٥٠٠ ؟ \_\_\_\_\_

٣- كم وحدة في العدد ٥٠٠ ؟ \_\_\_\_\_

٢- أكمل :



٣- إرسم صوراً لتبين عدد المئات في العدد ٢٢٠٠

٤- أكمل الجدول :

العدد	عدد الوحدات	عدد العشرات	عدد المئات	عدد الألوف	عدد عشرات الألوف	عدد مئات الألوف	عدد الملايين
٦٠٠	٦٠٠						
٣٥٠٠		٣٥٠					
٧٨٠٠٣				٧٨			
٧٤٨٠٥٩				٧٤٨٠			
٢٠٠٠٠٠٠					٢٠٠		

٥- أجب عن الأسئلة التالية :

- كم وحدة في العدد ٤٠٠ ؟	- كم عشرة في العدد ٢٧٠٠ ؟	- كم مئة في العدد ٢٦ ٥٣٨ ؟
--------------------------	---------------------------	----------------------------

٦- أكتب رمز العدد :

- ٣ مئات =	- ٣٦٠ عشرة =	- ٤٧٠ وحدات =
------------	--------------	---------------

٧- لنفترض أن معك ٣٠٠ ٨ بطاقة ، ما عدد المجموعات التي تحصل عليها إذا قمت بتجميعها في مجموعات من ١٠ ؟ أو من ١٠٠ ؟ أو من ١٠٠٠ ؟

٨- ماهو العدد المختلف ؟

- ٣٠ مئات  
 ثلاثون ألف  
 ٣٠٠ مئة  
 ٣٠٠٠٠