

الفيزياء

الثاني عشر



المجال الكهربائي وتطبيقاته

الأستاذ : محمد عاطف

☎ 050 - 3136836

1-2: توليد المجالات الكهربائية وقياسها

تفسير فاراداي للقوة الكهربائية بين الشحنات

تفسير فاراداي للقوة الكهربائية المتولدة بين الشحنات خلال الوسط أو الفراغ:

- 1- يقوم الجسم بتغيير خصائص الوسط المحيط به بطريقة معينة.
- 2- يؤدي التغيير في خصائص الوسط الى التأثير بقوة معينة على الشحنة الموجودة فيه.
- 3- يطلق على التغيير في خصائص الوسط اسم "المجال الكهربائي".
- 4- القوة التي تؤثر بها المجالات الكهربائية تبذل شغلا ، فتنقل الطاقة من المجال الى جسم آخر مشحون.

المجال الكهربائي: المنطقة المحيطة بأي جسم مشحون والتي تظهر فيها آثار القوى الكهربائية.

شدة المجال الكهربائي

▪ **شدة واتجاه المجال الكهربائي عند نقطة:**

1- **شدة المجال الكهربائي عند نقطة:** هو مقدار القوة المؤثرة في شحنة اختبارية موجبة q' عند تلك النقطة مقسوما على مقدار تلك الشحنة.

حيث أن:

F : القوة المؤثرة في الشحنة (N)

q : مقدار الشحنة (C)

E : شدة المجال الكهربائي (N/m)

$$E = \frac{F}{q'}$$

2- **اتجاه المجال الكهربائي عند نقطة:** هو اتجاه القوة المؤثرة على شحنة اختبارية موجبة موضوعة عند تلك النقطة.

▪ **علل لما يلي:**

أ- **الشحنة الاختبارية يجب أن تكون موجبة وصغيرة.**

ج: حتى لا تؤثر الشحنة الاختبارية في الشحنات الأخرى.

ب- **شدة المجال الكهربائي عند نقطة لا يعتمد على مقدار شحنة الاختبار.**

ج: لأن النسبة بين القوة والشحنة الاختبارية تكون ثابتة دائما.

▪ **قانون حساب شدة المجال الكهربائي عند نقطة:**

نفترض وجود شحنة موجبة عند تلك النقطة

تكون القوة المؤثرة في شحنة اختبارية موجبة q' هي: (1) $F = k \frac{qq'}{r^2} \Rightarrow$

ولكن شدة المجال الكهربائي عند نقطة (2) $E = \frac{F}{q'}$

بالتعويض عن (1) في (2) نحصل على: $E = k \frac{q}{r^2}$

حيث أن:

E : شدة المجال الكهربائي (N/c)

q : مقدار الشحنة (C)

r : المسافة (m)

K : ثابت كولوم ويساوي $9 \times 10^9 \text{ N.m}^2/\text{C}^2$

▪ **العوامل التي يتوقف عليها شدة المجال الكهربائي لشحنة نقطية**

1- **مقدار الشحنة:** يتناسب شدة المجال الكهربائي طرديا مع مقدار الشحنة.

2- **بعد النقطة عن الشحنة:** يتناسب شدة المجال الكهربائي عند نقطة عكسيا مع مربع المسافة.

حساب شدة المجال الكهربائي الناتج عن عدة شحنات نقطية.

- 1- نوجد شدة المجال الكهربائي الناتج عن كل شحنة على انفراد عند تلك النقطة.
- 2- نوجد شدة المجال الكهربائي المحصل عن طريق جمع المتجهات (محصلة المتجهات).

الفرق بين شدة المجال الكهربائي والقوة الكهربائية

المجال الكهربائي يعتبر خاصية لتلك المنطقة من الفضاء ولا يعتمد على شحنة الاختبار المستخدمة في قياسه، أما القوة الكهربائية فتعتمد على مقدار شحنة الاختبار ونوعها.

تمثيل المجال الكهربائي

- يمكن تمثيل المجال الكهربائي من خلال خطوط تعرف باسم " خطوط المجال الكهربائي " أو " خطوط القوة".
- خطوط المجال الكهربائي (القوة): الخطوط المستخدمة لتمثيل المجال الكهربائي الفعلي في الفراغ أو الوسط المحيط بالشحنة.
- خط المجال الكهربائي هو خط وهمي مثل مسارات حركة شحنة اختبار عند وضعها حرة في المجال الكهربائي
- أهمية خطوط المجال الكهربائي (خطوط القوة)
تزداد خطوط المجال الكهربائي بمعلومات عن :
أ- اتجاه المجال: حيث يشير اتجاه المماس المرسوم عند نقطة إلى اتجاه المجال الكهربائي عند تلك النقطة.
- ب- شدة المجال الكهربائي: حيث تشير المسافات الفاصلة بين خطوط المجال الكهربائي إلى شدة المجال الكهربائي عند تلك النقطة.
✓ كلما كانت الخطوط متقاربة كان المجال الكهربائي قويا.
✓ كلما كانت الخطوط متباعدة كان المجال الكهربائي ضعيفا.

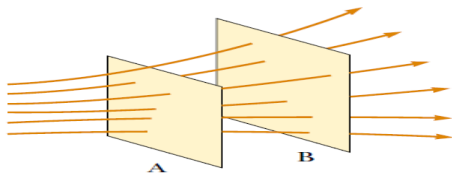
خصائص خطوط المجال الكهربائي

- 1- تخرج دائما من الشحنة الموجبة وتدخل إلى الشحنة السالبة.
- 2- خطوط وهمية لا وجود لها في الواقع، وتعطي نموذجا لتمثيل المجال الكهربائي
- 3- لا تتقاطع مطلقا.
- 4- تكون متقاربة في المجالات القوية ومتباعدة في المجالات الضعيفة.
- 5- تنتشر حول الجسم في الثلاثة الأبعاد (من جميع الجهات)

(إذا لم يكن هناك شحنة سالبة تنتهي في الملائمة).

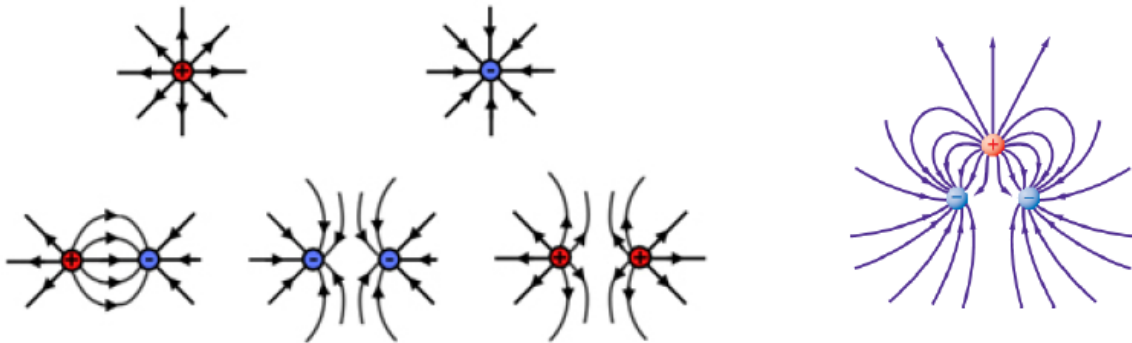
عدد الخطوط المرسومة المتطلقة من الشحنة الموجبة إلى الشحنة السالبة يتناسب مع مقدار الشحنة .

خطوط القوة (المجال) للشحنات المختلفة:

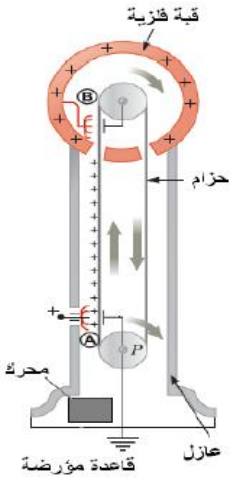


✓ يختلف شكل المجال الكهربائي بحسب التوزيعات النقطية للشحنات

- 1- الشحنة الموجبة: خطوط المجال تكون منتشرة شعاعيا للخارج.
- 2- الشحنة السالبة: خطوط المجال تكون منتشرة شعاعيا للداخل.
- 3- شحنتان أو أكثر: خطوط المجال تكون منحنية وأكثر تعقيدا ، لأن المجال الناتج يكون ناتجا عن الجمع الاتجاهي للمجالات الناتجة عن الشحنات. ولكنها دائما تخرج من الشحنة الموجبة وتدخل إلى الشحنة السالبة.



مولد فان دي جراف (مولد الكهرباء الساكنة)



س: كيف يعمل مولد فان دي جراف ؟

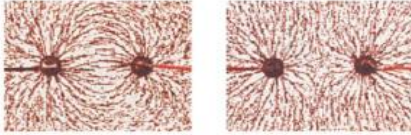
- 1- يولد الجهاز الكهرباء الساكنة الى الحزام المتحرك في الطرف الأسفل A.
- 2- تنتقل الشحنات من الحزام المتحرك الى القبة الفلزية في الطرف العلوي B.
- 3- يبذل المحرك الكهربائي الشغل اللازم لزيادة فرق الجهد الكهربائي مما يؤدي لتراكم الشحنات في القبة الفلزية.

علل: عندما يلمس شخص قبة مولد فان دي جراف يتناثر شعر الشخص ويتغير اتجاهه.

لأن الشحنات تنتقل باللمس من القبة للشخص، فتشحن خصلات الشعر بنفس نوع الشحنة مما يؤدي لتناثرها.

س: فسر لماذا تستمر الشحنات في التراكم على القبة الفلزية لمولد فان دي جراف ولماذا لا تتناثر الشحنات لتعود إلى الحزام عند النقطة B ؟
لان الشحنات الموجودة على القبة الفلزية لا تولد مجالاً كهربائياً داخلها وتنتقل الشحنات فوراً من الحزام إلى السطح الخارجي للقبة حيث لا يكون لها أي تأثيرات في الشحنات الجديدة التي تصل إلى النقطة B .

تمثيل خطوط المجال الكهربائي عملياً



- 1- نضع بذور أعشاب في سائل عازل كالزيت المعدني.
- 2- نضع الجسيمات المشحونة في سائل.
- 3- تتحرك البذور بحيث تترتب في اتجاه المجال الكهربائي وتكون نمطاً لخطوط المجال.

تدريبات متنوعة على المجال الكهربائي

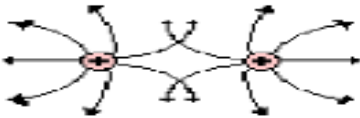
تدريب 1: ارسم خطوط المجال الكهربائي لكل مما يأتي :-

(أ) شحنتين متساويتين مقداراً ومتماثلتين في النوع

(ب) شحنتين مختلفتين في النوع ولهما المقدار نفسه

(ج) شحنة موجبة وأخرى سالبة مقدارها مساوي ضعفي مقدار الشحنة الموجبة

**رسمت ريماس خطوط المجال الكهربائي التالية لشحنتين موجبتين ما الخطأ في رسمة ريماس؟
خطوط المجال الكهربائي لا يمكن أن تتقاطع. وريماس رسمت الخطوط متقاطعة**



تدريب 2: ارسم كل مما يأتي :-

(أ) المجال الكهربائي الناتج عن شحنة $+1.0 \mu\text{C}$

(ب) المجال الكهربائي الناتج عن شحنة مقدارها $+2 \mu\text{C}$

تدريب 3: تؤثر قوة كهربية مقدارها $1.50 \times 10^{-3} N$ في اتجاه الشرق في شحنة اختبار موجبة مقدارها $2.40 \times 10^{-8} C$
أوجد المجال الكهربائي في شحنة الاختبار؟

تدريب 4: شحنة موجبة مقدارها $1 \times 10^{-5} C$ تتعرض لقوة مقدارها $0.3 N$ عند وضعها عند نقطة معينة ما شدة المجال الكهربائي عند تلك النقطة؟

تدريب 5: قيس مجال كهربائي في الهواء باستخدام شحنة اختبار موجبة مقدارها $3.0 \times 10^{-6} C$ فتأثرت هذه الشحنة بقوة مقدارها $0.12 N$ في اتجاه يميل بزاوية 150° شمال الشرق ما مقدار واتجاه شدة المجال الكهربائي عند موقع شحنة الاختبار؟

تدريب 6: ما شدة المجال الكهربائي عند نقطة تبعد $0.3 m$ عن يمين كرة صغيرة مشحونة بشحنة مقدارها $4.0 \times 10^{-6} C$ - ؟

تدريب 7: وضعت شحنة سالبة مقدارها $2.0 \times 10^{-8} C$ في مجال كهربائي فتأثرت بقوة مقدارها $0.060 N$ في الهواء في اتجاه اليمين ما مقدار واتجاه المجال الكهربائي عند موقع الشحنة؟

تدريب 8: وضعت كرة بيلسان وزنها $2.1 \times 10^{-8} N$ في مجال كهربائي شدته $6.5 \times 10^4 N/C$ يتجه رأسياً إلى أسفل .
ما مقدار ونوع الشحنة التي يجب أن توضع على الكرة بحيث توازن القوة الكهربائية المؤثرة فيها قوة الجاذبية الأرضية وتبقى الكرة معلقة في المجال؟

تدريب 9: إذا كان المجال الكهربائي في الغلاف الجوي يساوي $150 N/C$ تقريبا ويتجه لأسفل اجب عما يلي :-
(أ) ما اتجاه القوة المؤثرة في جسيم مشحون بشحنة سالبة؟

(ب) اوجد القوة الكهربائية التي يؤثر بها هذا المجال في إلكترون.

(ج) قارن بين القوة في الفرع (ب) وقوة الجاذبية الأرضية المؤثرة في الإلكترون نفسه علما بان كتلة الإلكترون $9.1 \times 10^{-31} Kg$

تدريب 10: يفحص زيد المجال الكهربائي الناشئ عن شحنة مجهولة المقدار والنوع فيرسم أولاً المجال بشحنة اختبار مقدارها $1.0 \times 10^{-6} C$

ثم يكرر عملية بشحنة اختبار أخرى مقدارها $2.0 \times 10^{-6} C$. اجب عن الأسئلة التالية :-

(أ) هل يحصل زيد على القوي نفسها في الموقع نفسه عند استخدام شحنتي الاختبار؟ وضح إجابتك

لا لان القوة المؤثرة في الشحنة $2.0 \times 10^{-6} C$ ضعف القوة المؤثرة في الشحنة $1.0 \times 10^{-6} C$

(ب) هل يجد زيد أن شدة المجال هي نفسها عند استخدام شحنتي الاختبار؟ وضح إجابتك؟

نعم لأنك ستقسم القوة على مقدار شحنة الاختبار

تدريب 11: تتسارع الإلكترونات في أنبوب أشعة المهبطية في تفلز تحت تأثير مجال كهربي مقداره $1 \times 10^5 N/C$ احسب ما يلي:

(أ) القوة المؤثرة في الإلكترون

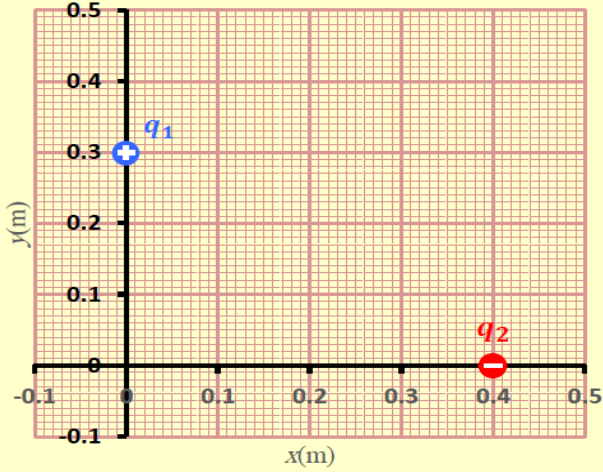
(ب) تسارع الإلكترون إذا كان المجال منتظماً اعتبر كتلة الإلكترون $9.1 \times 10^{-31} Kg$

تدريب 12: شحنتان نقطيتان مقاديرها $+5\mu C, -20\mu C$ على الترتيب والمسافة بينهما 5cm . احسب شدة المجال الكهربائي في منتصف

المسافة بين الشحنتين .

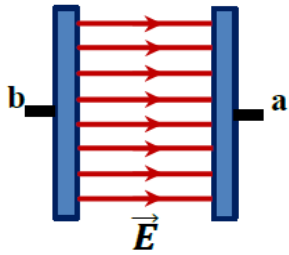
تدريب 13: توضع الشحنتان $+1\mu C, -1\mu C$ عند زاويتي القاعدة من مثلث متساوي الإضلاع فإذا كان ضلع المثلث يساوي 0.70m اوجد

شدة المجال عند رأس المثلث؟



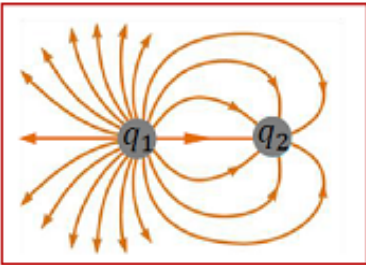
- وضعت الشحنتان النقطيتان (q_2 ، q_1) في الهواء على محاور الإحداثيات كما في الشكل المجاور، إذا كانت $(q_2 = -32.0 \times 10^{-6}C)$ و $(q_1 = +16.0 \times 10^{-6}C)$.
- جد مقدار شدة المجال الكهربائي عند نقطة الأصل $(0,0)$.

- إذا أزيلت الشحنة q_2 ، فهل يزداد مقدار المجال الكهربائي عند نقطة الأصل أم يقل أم لا يتغير؟ برّر إجابتك



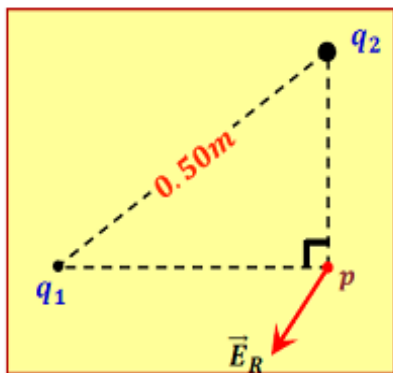
يُبين الشكل المجاور المجال الكهربائي المتولّد بين صفيحتين فلزيتين متوازيتين موصولتين بقطبي بطارية، اعتماداً على الشكل أجب عن الآتي:

- ما نوع المجال الكهربائي بين اللوحين؟
- أيّ الطرفين (a أم b) موصول بالقطب الموجب للبطارية؟



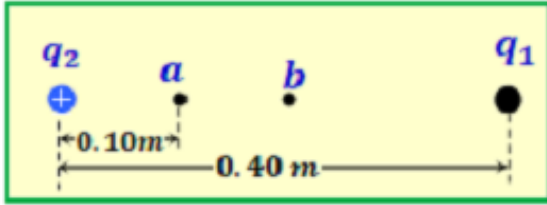
يُظهر الشكل المجاور خطوط المجال الكهربائي حول شحنتين نقطيتين متجاورتين. اعتماداً على الشكل:

- ما نوع الشحنة q_2 ؟
- أيّ الشحنتين كميتها أكبر؟



يُبين الشكل المجاور متجه شدة المجال الكهربائي المحصل عند النقطة (p) الواقعة في مجال شحنتين نقطيتين. إذا كان الهواء يُحيط بالشحنتين والنقطة:

- ما نوع كل من الشحنتين (q_1 ، q_2)؟
- الشحنة q_1 : - الشحنة q_2 :
- جد مقدار شدة المجال الكهربائي المؤثر في الشحنة (q_2) إذا كانت $(|q_1| = 3.0 \times 10^{-9}C)$



إذا كانت مقدار شدة المجال الكهربائي عند النقطة a المبيّنة في الشكل المجاور يساوي صفراً، وكانت ($q_2 = +2.50 \times 10^{-8} \text{ C}$).

• جد $|q_1|$ و حدّد نوعها

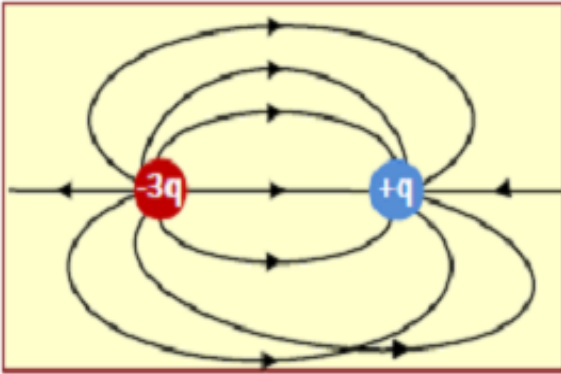
.....

.....

.....

.....

• حدّد على الشكل نفسه اتجاه محصلة شدة المجال الكهربائي عند منتصف المسافة بين الشحنتين (النقطة b على الشكل).



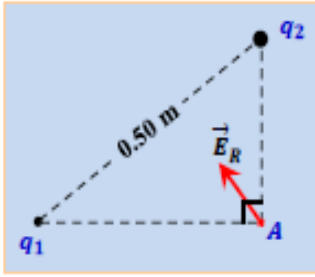
- رسم متعلم خطوط المجال الكهربائي لشحنتين متجاورتين كما في الشكل المجاور. اكتب الأخطاء الثلاثة التي ارتكبتها المتعلم في الرسم.

.....

.....

الشكل المجاور يوضح كرة نخاع بيلسان مشحونة وزنها ($1.2 \times 10^{-3} \text{ N}$)، وضعت في مجال كهربائي منتظم رأسي مقدار شدته ($4.0 \times 10^5 \text{ N/C}$) فأتزنت بتأثير القوة الكهربائية وزنها.

احسب كمية الشحنة على كرة نخاع البيلسان وحدّد نوعها.

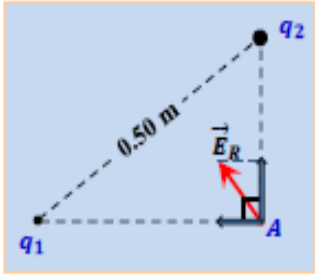


- يُبين الشكل المجاور متجه شدة المجال الكهربائي المحصل عند النقطة (A) الواقعة في مجال شحنتين نقطتين ($|q_1| = 3.0 \times 10^{-9} C$) و (q_2). إذا كان الهواء يُحيط بالشحنتين والنقطة:

• ما نوع كل من الشحنتين (q_1 ، q_2) ؟

الإجابة:

بتحليل متجه شدة المجال إلى مركبتيه نحصل على الرسم الآتي

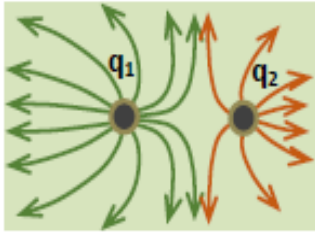


من الرسم نلاحظ أن مركبتي شدة المجال عند النقطة A تتجهان نحو q_2 ونحو q_1 ما يعني أن كلا من الشحنتين سالبة

• جد مقدار شدة المجال الكهربائي المؤثر في الشحنة (q_2) ؟

الإجابة: من الرسم : $E = k_c \frac{q_1}{r^2} = \frac{9 \times 10^9 \times 3.0 \times 10^{-9}}{0.5^2} = 1.1 \times 10^2 N/C$

- يُبين الشكل المجاور خطوط المجال الكهربائي لشحنتين نقطيتين ($|q_1| = 18.0 \times 10^{-12} C$) و (q_2)



• ما نوع كل من الشحنتين؟

الإجابة:

من الرسم : بما أن خطوط المجال خارجة من كلا الشحنتين إذن كلاهما شحنة موجبة


• ما مقدار الشحنة (q_2) ؟

الإجابة:

$$\frac{|q_2|}{|q_1|} = \frac{\text{عدد الخطوط حول } q_2}{\text{عدد الخطوط حول } q_1}$$

$$q_2 = \frac{8}{12} \times 18.0 \times 10^{-12} = 12.0 \times 10^{-12} C$$

- وضع إلكترون حرراً في النقطة (a) فبقي ساكناً. فإذا كانت ($q_1 = -9.0 \times 10^{-9} C$) وأبعدت الشحنة (q_1) نهائياً عن الإلكترون والشحنة (q_2).



• جد القوة المؤثرة على الإلكترون؟

الإجابة: $\frac{|q_1|}{(r_1)^2} = \frac{|q_2|}{(r_2)^2} \rightarrow |q_2| = \frac{|q_1|}{r_1^2} \times r_2^2 = \frac{9.0 \times 10^{-9} \times 0.1^2}{0.3^2} = 1.0 \times 10^{-9} C$

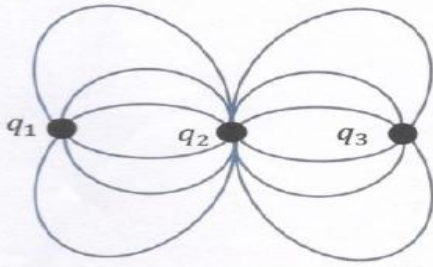
وحيث أن نقطة انعدام المجال تقع بين الشحنتين فإن الشحنتان من النوع نفسه ما يعني أن ($q_2 = -1.0 \times 10^{-9} C$)

$$F_c = k_c \frac{|q_2| \times |q_e|}{r^2} = \frac{9 \times 10^9 \times 1.0 \times 10^{-9} \times 1.6 \times 10^{-19}}{0.3^2} = 1.0 \times 10^{-17} N$$

وحيث أن الإلكترون والشحنة (q_2) من النوع نفسه فإن القوة بينهما قوة تنافر أي أن القوة المؤثرة في الإلكترون تكون جهة اليسار

- يُظهر الرسم التخطيطي المجاور خطوط المجال الكهربائي لثلاث

شحنات كهربائية نقطية. اعتماداً على الرسم أجب كما يلي:



• احسب النسبة $\frac{|q_1|}{|q_3|}$

• إذا كانت الشحنة (q_1) سالبة، فما نوع كل من الشحنتين (q_2) و (q_3)؟

الشحنة (q_2): الشحنة (q_3):

- يُظهر الشكل شحنتان نقطيتان

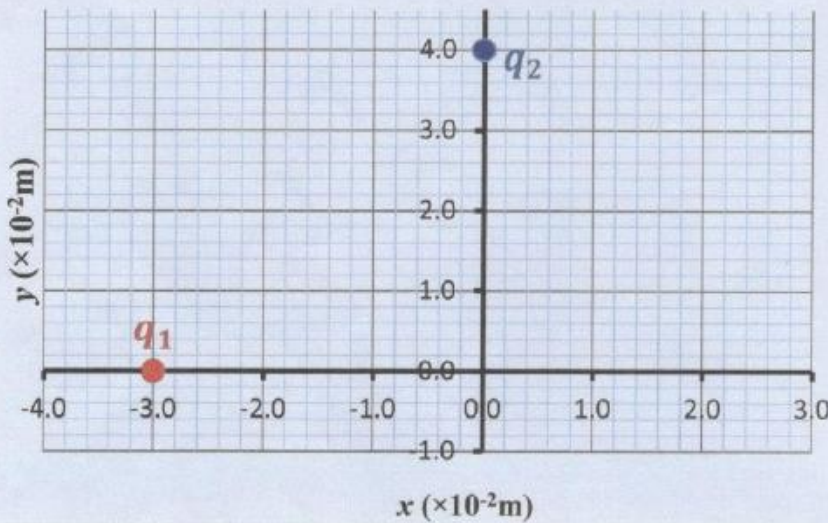
$$(q_1 = -4.0 \times 10^{-12} \text{ C})$$

$$\text{و } (q_2 = +16 \times 10^{-12} \text{ C})، \text{ إذا}$$

كان الهواء يُحيط بالشحنتين.

• أوجد مقدار شدة المجال الكهربائي عند

نقطة أصل الإحداثيات.



• احسب مقدار القوة الكهربائية المؤثرة في الشحنة (q_1).

وضعت الشحنتان النقطيتان ($q_2 = -4.2 \times 10^{-6} \text{ C}$, $q_1 = 1.4 \times 10^{-6} \text{ C}$) متجاورتين في الهواء كما في الشكل

المجاور ، ارسم خطوط المجال الكهربائي على الشكل نفسه .

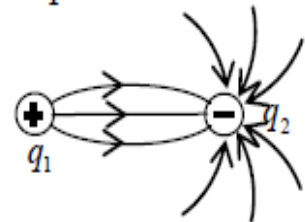
⊕

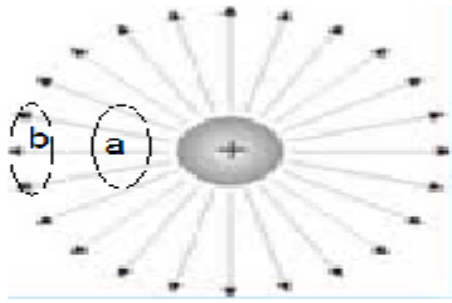
q_1

⊖

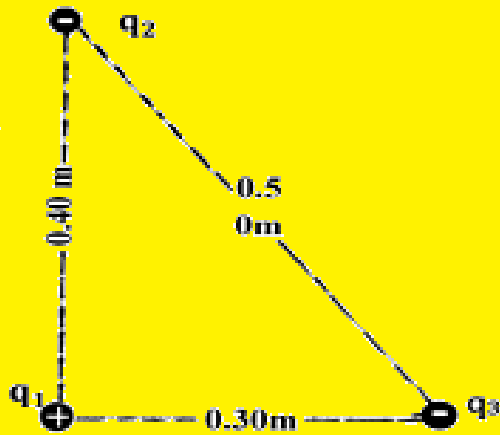
q_2

$$\text{الحل : نحسب أولاً النسبة : } \left(\frac{q_2}{q_1} = \frac{4.2 \times 10^{-6}}{1.4 \times 10^{-6}} = \frac{3}{1} \right)$$





يظهر الشكل أمامك حلقتان متمثلتان موضوعتان بالقرب من شحنة نقطية موجبة
1- قارن بين المجال المؤثر على الحلقتان مع التبرير ؟
2- هل المجال المؤثر عليهما منتظم أم غير منتظم ولماذا ؟



في الشكل المجاور وضعت الشحنتان النقطية الثلاث
($q_1 = +5\mu C$, $q_2 = -3.0\mu C$, $q_3 = -6.0\mu C$)
في الهواء . اعتمداً على الشكل اجب عن الفقرتين
• أصب مقدار شدة المجال الكهربائي المؤثر في الشحنة
(q_1) وحدد اتجاهه .

• أصب مقدار القوة الكهربائية المؤثرة في الشحنة (q_1) وحدد اتجاهها .


• أصب مقدار القوة المؤثرة على الشحنة (q_3) وحدد اتجاهها .

في الشكل المجاور إذا كانت ($q_1 = -3 \times 10^{-9} \text{C}$) وكانت محصلة شدة المجالات الكهربائية عند النقطة (P) تساوي صفراً :



- (1) ما نوع شحنة (q_2) .
 - (2) احسب مقدار الشحنة (q_2)
- الحل :**

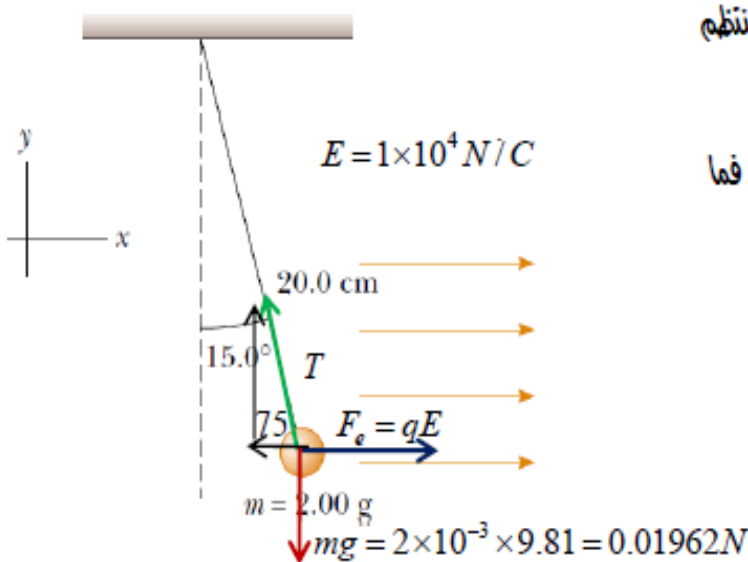
يظهر الشكل المجاور خطوط المجال الكهربائي لشحنتين تفصل بينهما مسافة صغيرة :



- (1) ما نوع كل من الشحنتين .
 - (2) جد نسبة (q_1/q_2) .
 - (3) أين تنتهي خطوط المجال الكهربائي التي تبدأ من الشحنة الموجبة ولم تنته بالشحنة السالبة .
 - (4) إذا كانت ($q_1 = 2 \mu\text{C}$) لوجد مقدار (q_2) ؟
- الحل :**

- حالت كرة بلاستيكية صغيرة، كتلتها 2g داخل مجال كهربائي منتظم بواسطة حبل طوله 20cm ، كما يظهر في الشكل أعلاه.

- (أ) شحنة الكرة موجبة أم سالبة؟! **موجبة**
- (ب) إذا كانت الكرة في حالة اتزان عند ميل الحبل بزاوية 15° مع الراسي. فما الشحنة المحصلة على الكرة؟! **!!**



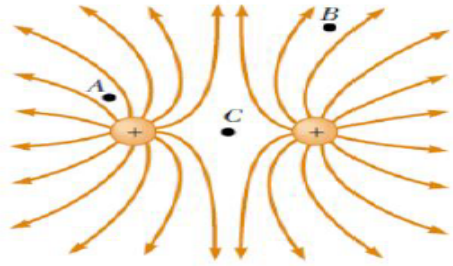
$$\sum F_x = 0, \sum F_y = 0 \leftarrow \text{حالة اتزان}$$

$$\sum F_y = 0 = -0.01962 + \sin 75 T$$

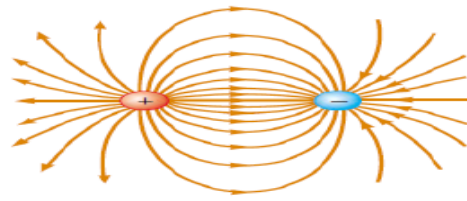
$$\Rightarrow T = \frac{0.01962}{\sin 75} = 0.0203 \text{N}$$

$$\sum F_x = 0 = qE - \cos 75 T$$

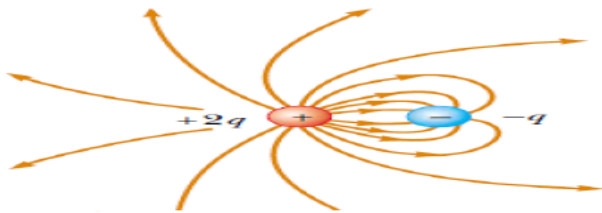
$$\Rightarrow q = \frac{\cos 75 \times 0.0203}{1 \times 10^4} = 5.3 \times 10^{-7} \text{C} = 0.53 \mu\text{C}$$



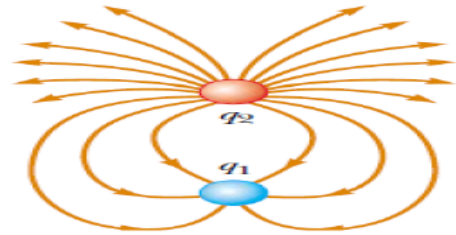
- في الشكل بالأعلى: رتب النقاط A و B و C من حيث شدة المجال الكهربائي من الأقل إلى الأعلى:
C ثم B ثم A



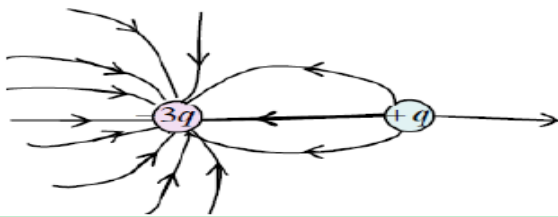
عدد الخطوط المغادرة للشحنة الموجبة
تساوي عدد الخطوط الواصلة للشحنة السالبة
خطوط المجال لشحنتين نقطيتين متساويتان
في المقدار ومختلفتين في الإشارة



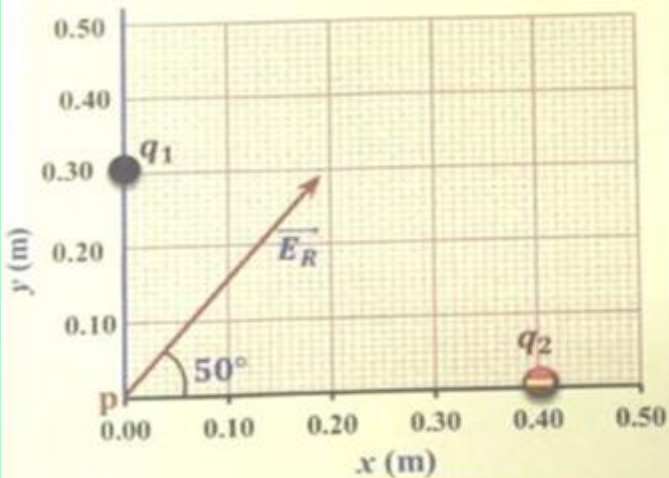
- مقدار الشحنة الموجبة يساوي مثلي
مقدار الشحنة السالبة.



في الشكل المجاور:
(أ) ما إشارة q_1 و q_2 ؟
(ب) جدي نسبة q_1/q_2 ؟
(ج) إذا كان مقدار q_2 يساوي $6.3c$ ، فإن q_1
تساوي.....



- ارسم بعض الخطوط التمثيلية للمجال الكهربائي
لشحنتين $+q$ و $-3q$ تفصل بينهما مسافة قصيرة.

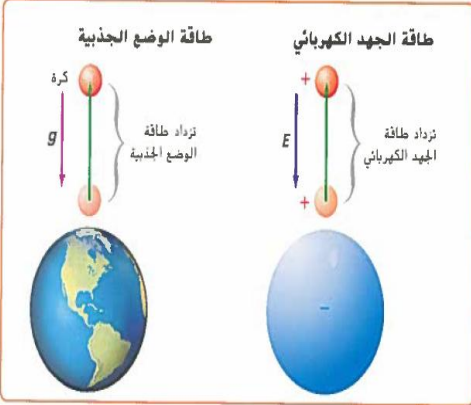


وضعت الشحنتان النقطيتان (q_1, q_2) في الهواء على
محاور الاحداثيات كما في الشكل المجاور، حيث (\vec{E}_R)
تمثل شدة المجال الكهربائي المحصل الناشئ عنهما عند
النقطة p (0,0) ، فإذا كانت $(q_2 = -8.0 \times 10^{-9}C)$
حسب كمية الشحنة q_1 وحدد نوعها .

1-2: تطبيقات على المجالات الكهربائية

الطاقة والجهد الكهربائيان

فرق الجهد الكهربائي: هو الشغل المبذول لتحريك شحنة اختبار موجبة بين نقطتين داخل مجال كهربائي مقسوما على مقدار شحنة الاختبار. أي هو النسبة بين الشغل اللازم لتحريك شحنة ومقدار تلك الشحنة. أو هو التغير في طاقة الوضع الكهربائية لكل وحدة شحنة دخلت مجال كهربائي.



حيث أن:
الشغل المبذول (J)
مقدار الشحنة (C)
فرق الجهد (V)

$$\Delta v = \frac{W}{q'}$$

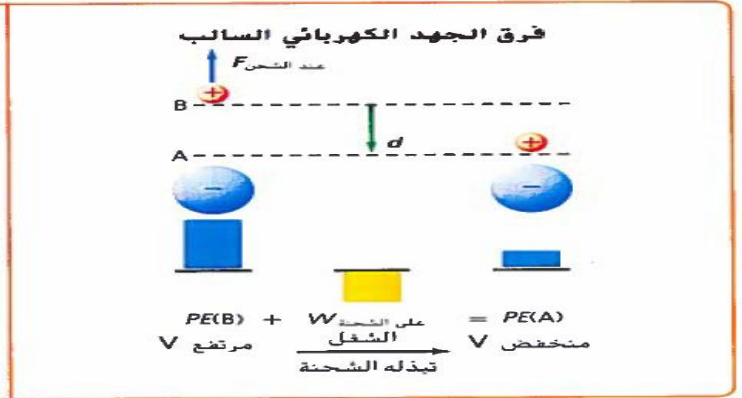
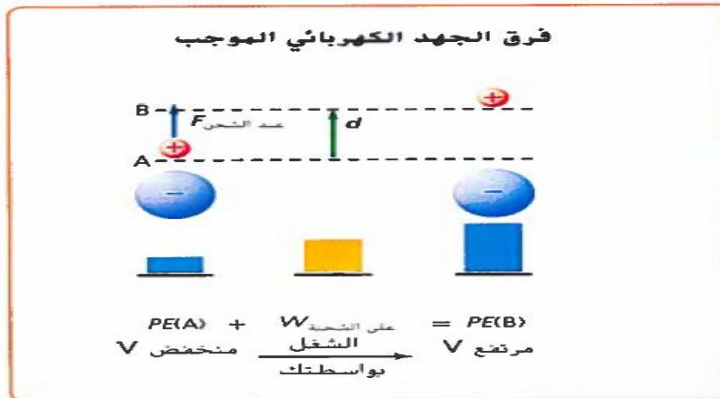
ملاحظة: الجهد الكهربائي كمية عددية ووحدة قياسه " J/C " أو ما يعرف باسم الفولت " v " **الفولت:** وحدة قياس الجهد الكهربائي وتساوي واحد جول لكل كولوم 1J/C

الفرق بين طاقة الوضع الكهربائية وفرق الجهد

طاقة الوضع الكهربائية: تتغير عندما يبذل شغل لنقل شحنة معينة في مجال كهربائي، وتعتمد على كمية الشحنة المنقولة.
فرق الجهد الكهربائي: الشغل المبذول لنقل وحدة الشحنات في مجال كهربائي، ولا يعتمد على كمية الشحنة المنقولة.

تغيرات الجهد الكهربائي وطاقة الوضع

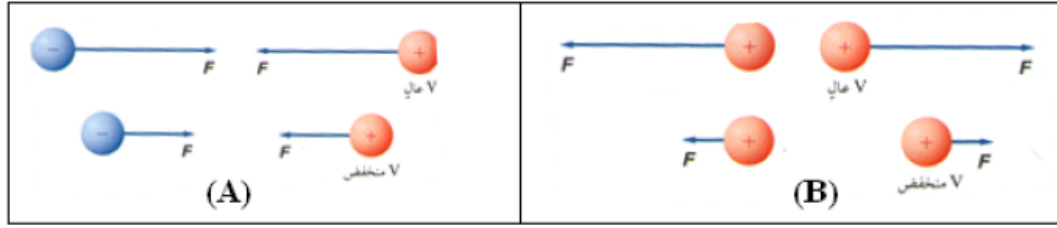
- 1- إذا كانت الشحنتين مختلفتين . يزداد فرق الجهد الكهربائي (أو طاقة الوضع) عند ابعاد الشحنتين عن بعضهما ويقل عند تقريبهما.
- 2- إذا كانت الشحنتين متشابهتين . يزداد فرق الجهد الكهربائي (أو طاقة الوضع) عند تقريب الشحنتين ويقل عند ابعادهما.



علل لما يلي:

- أ- عند ابعاد شحنة اختبارية موجبة عن شحنة كهربائية سالبة يزداد الجهد الكهربائي. (شكل B)
لأن اتجاه القوة المؤثرة في شحنة الاختبار تكون في نفس اتجاه الازاحة لذا يكون الشغل المبذول موجبا يضاف الى طاقة الوضع الابتدائية لذا يزداد الجهد الكهربائي الكلي.
- ب- عند تقريب شحنة اختبارية موجبة من شحنة كهربائية سالبة يقل الجهد الكهربائي. (شكل A)
لأن اتجاه القوة المؤثرة في شحنة الاختبار تكون في عكس اتجاه الازاحة لذا يكون الشغل المبذول سالبا يضاف الى طاقة الوضع الابتدائية لذا يقل الجهد الكهربائي الكلي.

يمكن اجمال ما سبق: تزداد طاقة وضع الشحنة الاختبارية (الموجبة) عند تحريكها في عكس اتجاه المجال الكهربائي الأصلي (المؤثر). أما بالنسبة للشحنة السالبة فان طاقة وضعها يزداد عند تحريكها في نفس اتجاه المجال الأصلي (المؤثر).



ملاحظة مهمة جدا:

- فرق الجهد الكهربائي لا يعتمد على المسار الذي يسلك أثناء الحركة من نقطة لأخرى وإنما يعتمد على:
- 1- الإزاحة (أي موقع النقطتين الابتدائي والنهائي فقط)
 - 2- المجال الكهربائي.

سطح تساوي الجهود

- **سطح تساوي الجهد:** هي نقاط داخل المجال الكهربائي يكون فرق الجهد بينها صفرا. ويكون الشغل المبذول لنقل الشحنات الكهربائية بينها صفرا.
- **تعريف آخر:** هي نقاط داخل المجال الكهربائي يكون فيها الجهد متساويا.

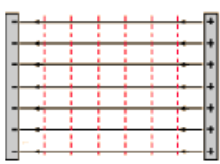
- **علل لما يلي:** عند تحريك شحنة اختبار موجبة في مسار دائري حول شحنة كهربائية فان الشغل المبذول (وكذا فرق الجهد بين أي نقطتين في المسار الدائري) يكون صفرا.

ج: لأن القوة الكهربائية تكون دائما متعامدة مع اتجاه الحركة ، وبذلك يكون الشغل المبذول لتحريك الشحنة صفرا. وبالتالي يصبح فرق الجهد

$$\Delta v = \frac{W}{q'}$$

مساويا للصفر أيضا تبعا للعلاقة.

مجال كهربائي منتظم



شحنة نقطية



- **ملاحظة:** تختلف سطوح تساوي الجهد بحسب المجال الكهربائي (لاحظ الخطوط المتقطعة في الأشكال التي أمامك).

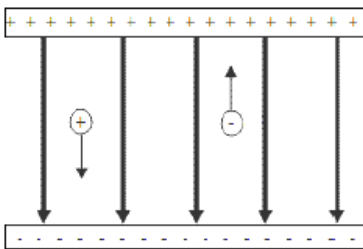
الجهد الكهربائي في مجال كهربائي منتظم

- **المجال الكهربائي المنتظم:** هو مجال كهربائي ثابت في الشدة والاتجاه عند جميع النقاط.

- **س: كيف يمكن الحصول على مجال كهربائي منتظم؟**

عن طريق استخدام لوحين موصلين مستويين ومتوازيين ، ومشحونين بشحنات متساوية ومتعاكسة (احدهما مشحون بشحنات موجبة والآخر مشحون بشحنات سالبة).

- **شكل المجال الكهربائي المنتظم:** عبارة عن خطوط مجال متوازية تتجه من اللوح الموجب الى اللوح السالب، ما عدا النقاط التي تكون عند الاطراف.



▪ **حساب فرق الجهد الكهربائي في مجال كهربائي منتظم.**

فرق الجهد الكهربائي في مجال كهربائي منتظم يساوي حاصل ضرب شدة المجال الكهربائي في المسافة التي تحركتها الشحنة.

حيث أن:

E : شدة المجال المنتظم (N/C) أو (V/m)

d : المسافة بين اللوحين (C)

ΔV : فرق الجهد (V)

$$\Delta V = Ed$$

اشتقاق القانون:

الشغل المبذول لتحريك شحنة اختبارية موجبة في عكس اتجاه المجال (1) $W = Fd \Rightarrow$

لحساب فرق الجهد بين اللوحين (2) $\Delta V = \frac{W}{q'} \Rightarrow$

بالتعويض عن (1) في (2) ينتج أن: $\Delta V = \frac{Fd}{q'} = Ed$

ملاحظة مهمة: يزداد الجهد الكهربائي كلما تحركنا في اتجاه معاكس لاتجاه المجال الكهربائي ، أي أن الجهد الكهربائي يكون أكبر بالقرب من اللوح الموجب.

▪ **حساب القوة الكهربائية المؤثرة في شحنة في مجال كهربائي منتظم.**

1- مقدار القوة المؤثرة في الشحنة $F = q'E$

2- اتجاه القوة المؤثرة: تكون في نفس اتجاه المجال اذا كانت الشحنة الكهربائية موجبة وتكون في عكس اتجاه المجال اذا كانت الشحنة الكهربائية سالبة.

تدريبات متنوعة على الطاقة والجهد الكهربائيان

تدريب 1: إذا كانت قراءة فولتميتر متصل بلوحين متوازيين مشحونين 400V وذلك عندما كانت المسافة بينهما 0.02m فاحسب شدة المجال الكهربائي بينهما

تدريب 2: يمكن لبطارية سيارة جهدها 12V ومشحونة بصورة كاملة أن تحتزن شحنة مقدارها $1.44 \times 10^6 C$. ما مقدار الشغل الذي يمكن أن تبذله البطارية قبل أن تحتاج إلى إعادة شحنها ؟

تدريب 3: إذا كان مقدار المجال الكهربائي في مسارع جسيمات يساوي $4.5 \times 10^5 N/C$ فما مقدار الشغل المبذول لتحريك بروتون مسافة 25cm خلال هذا المجال ؟

تدريب 4: إذا بذل شغل مقداره 120J لتحريك شحنة مقدارها 2.4C من اللوح الموجب إلى اللوح السالب كما بالشكل فما مقدار فرق الجهد الكهربائي بين اللوحين ؟

تدريب 5: ما مقدار الشغل اللازم بذلة لنقل شحنة مقدارها 0.15C خلال فرق جهد كهربائي مقداره 9.0V ؟

تدريب 6: إذا لزم قوة مقدارها 0.065N لتحريك شحنة مقدارها $37\mu\text{C}$ مسافة 25cm في مجال كهربائي منتظم فما مقدار فرق الجهد الكهربائي بين النقطتين ؟

.....
.....
.....
.....

تدريب 7: لوحين متوازيين فرق الجهد بينهما 50V والبعد بينهما 4cm فإذا علقت قطرة زيت سالبة الشحنة بين اللوحين كتلتها $2 \times 10^{-15}\text{Kg}$. احسب :-

1- شدة المجال الكهربائي بين اللوحين

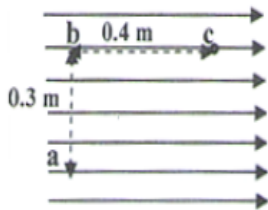
.....
.....

2- مقدار شحنة قطرة الزيت

.....
.....

تدريب 8: يمثل الشكل ادناه مجالاً كهربائياً منتظماً مقداره 6400N/C معتمداً على القيم المثبتة على الشكل احسب :

1- فرق الجهد الكهربائي بين النقطتين a, c .



2- الشغل المبذول في نقل الشحنة كهربائية مقدارها $2 \times 10^{-6}\text{C}$ من النقطة c إلى النقطة b

.....
.....

تدريب 9: لوحان موصلان متوازيان البعد بينهما 0.04m والمجال الكهربائي بينهما $2 \times 10^4\text{V/m}$ موضوعان في الهواء اوجد ما يلي :

1- فرق الجهد الكهربائي بين اللوحين

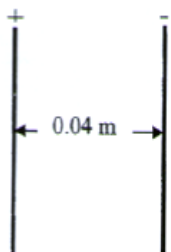
.....
.....

2 - مقدار القوة الكهربائية المؤثرة في شحنة مقدارها $-3 \times 10^{-6}\text{C}$ موضوعة بين اللوحين

.....
.....

3 - الشغل المبذول لنقل شحنة مقدارها $5 \times 10^{-9}\text{C}$ من اللوح الموجب إلى اللوح السالب

.....
.....



توزيع الشحنة وتساوما

الاتزان في الطبيعة

يؤول أي نظام في الطبيعة الى الاتزان عند ما تصبح طاقته أقل ما يمكن.

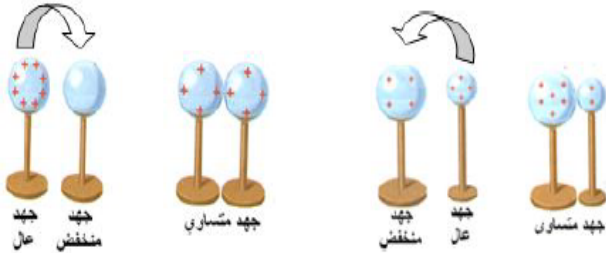
أمثلة:

- 1- الكرة في أعلى التل تتحرك الى الأسفل ، لتتزن وتستقر هناك حيث تكون طاقة وضع الجاذبية أقل ما يمكن.
- 2- الشحنات الساكنة على الموصلات المشحونة عند تلامسها تتحرك الى الموصل غير المشحون لتقليل طاقتها حيث تكون طاقتها بالبداية كبيرة نظرا لتجميع عدد من الشحنات المتشابهة ولوجود قوة التنافر بينها.

تلامس الأجسام المشحونة

وضع الاتزان

عند تلامس كرتين موصلتين احدهما مشحونة والأخرى غير مشحونة تنتقل الشحنات من الكرة ذات الجهد الأعلى (المشحونة) الى الكرة ذات الجهد الأقل (الغير مشحونة) حتى يتساوى جهد الكرتين أي يكون فرق الجهد بينهما مساويا للصفر. عندها يتوقف تدفق الشحنات وتصبح الكرتان في وضع اتزان.



ملاحظة عند وضع الاتزان يكون:

- 1- القوة المحصلة المؤثرة في كل شحنة على الكرة = صفر.
- 2- المجال الكهربائي داخل الموصلات يكون صفرا.
- 3- فرق الجهد بين أي نقطتين على السطح = صفر أي يكون سطح الموصل المشحون " سطح تساوي الجهد".

علل لما يلي: تستقر الشحنات في الموصلات على السطوح.

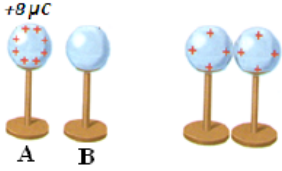
ج: بسبب وجود قوى التنافر بينها ، وتترتب بحيث يصل يكون النظام في حالة اتزان أي تكون طاقته هي الأقل ومحصلة القوى المؤثرة صفرا.

تلامس الكرات بأحجام مختلفة

عندما تكون الكرات المتلامسة ذات أحجام مختلفة تتوزع الشحنات بحسب نسبة سعنها الكهربائية، فالكرة الموصلة الكبيرة مثلا تخزن كمية أكبر من الشحنات. أما اذا كانت الكرتان الموصلتان متماثلتان ، فإن الشحنات تتوزع بالتساوي. وفي كل الأحوال يكون فرق الجهد بين الكرتين عند حالة الاتزان يساوي صفرا على الرغم من اختلاف الشحنات في كلتا الكرتين.

تدريبات متنوعة على توزيع الشحنة وتقاسمها

تدريب 1: كرتان فلزيّتان A, B متماثلتان ، الأولى شحنتها $+8\mu C$ والثانية متعادلة الشحنة كما هو موضح في الشكل المجاور. أجب عن الأسئلة التالية:



1- أي الكرتين الأقل جهداً؟ وأيها أعلى جهداً؟

الكرة (A) الأعلى جهداً ، بينما جهد الكرة (B) صفراً ، لأنها لا تحتوي على شحنات.

2- إذا تلامست الكرتان معاً فأجب عما يلي:

أ- وضح كيف تنتقل الشحنات بين الكرتين؟

تنتقل الشحنات من الكرة الأعلى جهداً (A) الى الكرة الأقل جهداً (B) ، حتى يتساوى جهدا الكرتين.

ب- احسب شحنة كل من الكرتين بعد التلامس.

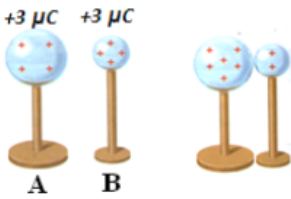
$$\text{شحنة الكرة (A)} = 8 \times \frac{1}{2} = 4\mu C$$

$$\text{شحنة الكرة (B)} = 8 \times \frac{1}{2} = 4\mu C$$

ت- كم يكون فرق الجهد بين الكرتين بعد التلامس ؟

فرق الجهد يساوي صفراً ، لأن الجهد متساوي على الكرتين بعد التلامس

تدريب 2: كرتان فلزيّتان A, B حجم الأولى ضعف الثانية ، فإذا شحنت الكرتان بشحنة متساوية مقدارها $+3\mu C$ كما هو موضح في الشكل المجاور. أجب عن الأسئلة التالية:



3- أي الكرتين الأقل جهداً؟ وأيها أعلى جهداً ولماذا؟

الكرة (A) هي الأقل جهداً، لأن مساحتها السطحية أكبر ، لذا تتباعد الشحنات الموجودة عليها مسافات أكبر ، وتقل قوة التنافر بينها ويقل الجهد.

4- إذا تلامست الكرتان معاً فأجب عما يلي:

ت- وضح كيف تنتقل الشحنات بين الكرتين؟

تنتقل الشحنات من الكرة الأعلى جهداً (B) الى الكرة الأقل جهداً (A) حتى يتساوى جهدا الكرتين.

ج- احسب شحنة كل من الكرتين بعد التلامس.

$$\text{شحنة الكرة (A)} = 6 \times \frac{2}{3} = 4\mu C$$

$$\text{شحنة الكرة (B)} = 6 \times \frac{1}{3} = 2\mu C$$

ح- كم يكون فرق الجهد بين الكرتين بعد التلامس ؟

فرق الجهد يساوي صفراً ، لأن الجهد متساوي على الكرتين بعد التلامس

تدريب 3: عند ملامسة كرة موصلة صغيرة مشحونة بشحنة سالبة لكرة موصلة كبيرة مشحونة بشحنة موجبة ماذا يمكن القول عن :-

أ- جهد كل من الكرتين .

ج: سيكون جهد الكرتين متساويين

ب- شحنة كل من الكرتين

ج: ستكون شحنة الكرة الكبيرة أكبر من شحنة الكرة الصغيرة ولكن سيكون لهما النوع نفسه وسيعتمد نوع الشحنة النهائية على الكرة التي كان لها أكبر كمية شحنة في البداية



تدريب 4: يقف زيد واخنة ليلى على سطح مستو معزول متلامسين بالأيدي عندما تم إكسابهما شحنة كما بالشكل إذا

كانت المساحة السطحية لجسم زيد أكبر من المساحة السطحية لجسم ليلى فمن منهما سيمتلك كمية أكبر من

الشحنة؟ أم إنهما سيمتلكان المقدار نفسه من الشحنة؟

ج: يمتلك زيد مساحة سطحية أكبر لذا سيمتلك كمية أكبر من الشحنات

تدريب 5: إذا كان قطرا كرتي الومنيوم 1Cm و 10Cm فأيهما له سعة كهربية أكبر؟

ج: الكرة التي قطرها 10Cm سعة كهربية أكبر لان الشحنات يمكنها أن تتباعد بعضها عن بعض بصورة أكبر وهذا يقلل من ارتفاع جهدها عندما تشحن .

تأريض الجسم المشحون

▪ **تأريض الجسم المشحون:** توصيل الجسم المشحون بالأرض وبالتالي تفريغ الشحنات الموجودة عليه في الأرض حتى يصبح فرق الجهد الكهربي بين الجسم والأرض صفرا .

▪ **علل لما يلي:**

1- **يوصل سلك فلزي بين صهريج نقل البنزين والأرض.**

ج: وذلك لتفريغ الشحنات الموجودة على صهريج نقل البنزين (والناجمة عن الاحتكاك) في الأرض بطريقة آمنة. حيث أن عدم تفريغها يولد فرق جهد كبير بين الصهريج والأرض، مما قد يحدث انفجارا عندما تنتقل الشحنات الى الأرض من خلال بخار البنزين.

2- **يتم تأريض جهاز الحاسوب بوصله بالأرض.**

ج: وذلك لتفريغ الشحنات الموجودة على جهاز الحاسوب في الأرض بطريقة آمنة. حيث أن عدم تفريغها يولد فرق جهد كبير بين جهاز الحاسوب والأرض، وعند ملامسة شخص لجهاز الحاسوب ، تتدفق الشحنات من الحاسوب الى الشخص ، مما قد يؤدي لتلف الجهاز ، أو إيذاء الشخص.

3- **يفقد الجسم المشحون شحنته عند وصلة بالأرض .**

ج: لان الجسم المشحون يشارك شحنته مع سطح الأرض التي تعد جسما ضخما جدا .

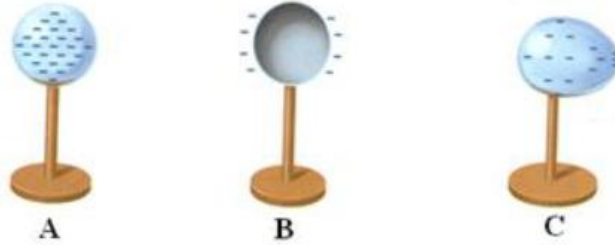
المجالات الكهربائية بالقرب من الموصلات

علل : تستقر الشحنات الكهربائية على الأسطح الخارجية لجميع أنواع الموصلات .
ج: لان الشحنات الكهربائية المتشابهة تتنافر مع بعضها البعض حتى تصبح المسافة بينها اكبر ما يمكن وطاقة النظام أقل ما يمكن لذا تستقر على السطوح الخارجية.

توزيع الشحنات على الموصلات

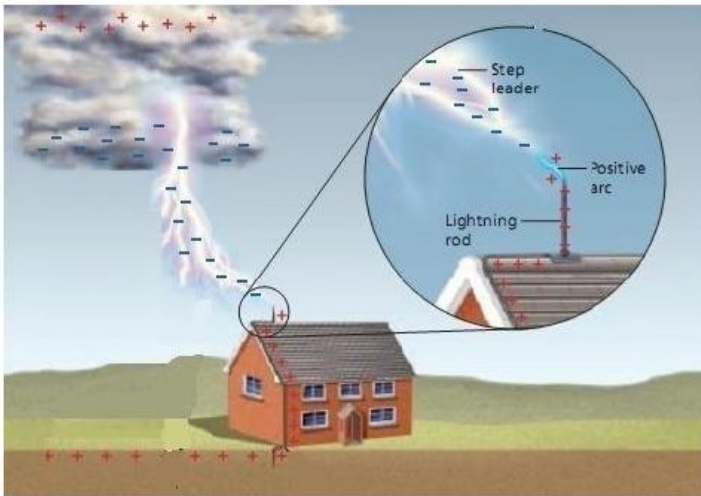
يعتمد المجال الكهربائي حول موصل مشحون على شكل الموصل وفرق الجهد بين الموصل والأرض .
و سندرس هنا ثلاث حالات للموصلات المشحونة:

- 1- **الموصلات الكروية المصمتة:** تتوزع الشحنات بانتظام على أسطح الموصلات المصمتة (الشكل A).
- 2- **الموصلات الكروية الجوفاء (أو الأوعية الفلزية المغلقة):** تتوزع الشحنات بانتظام على الأسطح الخارجية للموصلات الجوفاء (الشكل B).
- 3- **الموصلات ذات الرؤوس المدببة:** تتوزع الشحنات بشكل غير منتظم على أسطح الموصلات ، وتكون متقاربة عند الرؤوس المدببة ، وبالتالي تتقارب خطوط المجال فيها، ويكون شدة المجال الكهربائي عندها أكبر. (الشكل C)
وعندما تكون الموصلات ذات شحنة كبيرة (فرق جهد عالي) يصبح المجال كبير جدا ، فيعمل على مسارعة الإلكترونات والأيونات القريبة والناجمة عن الأشعة الكونية لتصطدم بذرات أخرى فتعمل على تأيينها ، وقد يؤدي ذلك لتشكيل حالة البلازما مما ينتج عنها شرارة كهربائية أو حدوث البرق.
البلازما: هي حالة يكون فيها الغاز متأينا وموصلا للكهرباء بسبب تطبيق فرق جهد كبير عليه.



تطبيقات فيزيائية: التخلص من الصواعق - مانعة الصواعق

- **الصاعقة:** هي شرارة كهربائية تحدث بسبب وجود فرق جهد كهربائي كبير بين غيمة والأرض مما يؤدي لحدوث تفريغ كهربائي.
- **مانعة الصواعق:** أداة تستخدم للتخلص من التأثير السلبي للصواعق. وتتكون من قضيب فلزي طرفه مدبب بالأعلى.



طريقة عمل مانعة الصواعق

- 1- يتم تثبيت قضيب فلزي طرفه مدبب بالأعلى.
- 2- يكون المجال الكهربائي كبيرا بالقرب من الطرف المدبب فيعمل على تسريع الالكترونات والايونات .
- 3- يبدأ مسارا موصلا بالتشكل من طرف القضيب إلى الغيوم أو العكس.
- 4- يؤدي ذلك لتفريغ شحنات الغيمة في صورة شرارة كهربية في قضيب مانعة الصواعق بدلا من تفريغها في المدخنة أو في أي نقطة مرتفعة من المنزل أو البناية

عمل لما يلي:

- 1- يعمل الوعاء الفلزي المغلق عمل درع واق لمن بداخله من المجالات الكهربائية.
لأن الشحنات الكهربائية تتوزع على الأسطح الخارجية للموصلات .
- 2- ينصح عمال الكهرباء والصيانة بلبس معطف معدني.
لأن الشحنات الكهربائية تتوزع على الأسطح الخارجية للموصلات (حيث يعتبر المعطف المعدني موصلا).
- 3- تسمى السيارة من بداخلها من المجالات الكهربائية الناتجة عن البرق.
لأن السيارة تعتبر كالعازل الفلزي المغلق، حيث تستقر فيه الشحنات الكهربائية على الأسطح الخارجية لها.
- 4- ظهور وهج وردي بالقرب من الرؤوس المدببة للموصلات ذات الشحنة الكبيرة كذلك الناتج في أنابيب التفريغ الكهربائي للغازات.
لأن المجال الكهربائي يكون كبيرا بالقرب من الرؤوس المدببة، فيعمل على مسارعة الالكترونات الناتجة من الأشعة الكونية ، لتتصادم بذرات أخرى تعمل على تأيينها، فيحدث تفريغ كهربائي (شرارة) على شكل وهج وردي مثل الناتج عن أنابيب التفريغ الكهربائي للغازات.
- 5- تصنع الموصلات التي تحمل شحنات كهربائية كبيرة (التي تعمل تحت فروق جهد كبيرة) بحيث تكون ملساء وانسيابية الشكل لتقليل المجالات الكهربائية وبالتالي الحد من عمليات التفريغ الكهربائي وحدوث الشرارة الكهربائية.
- 6- لمانعة الصواعق قضيب فلزي طرفه مدبب الشكل .
حتى يجعل المجال الكهربائي كبيرا بالقرب من طرفه المدبب فيعمل على تسريع الالكترونات والايونات وبالتالي فان مسارا موصلا يبدأ بالتشكل من طرف القضيب إلى الغيوم أو العكس، فيؤدي ذلك لتفريغ شحنات الغيمة في صورة شرارة كهربية في قضيب مانعة الصواعق بدلا من تفريغها في المدخنة أو في أي نقطة مرتفعة من المنزل أو البناية.
- 7- حدوث البرق والصواعق.
بسبب وجود فرق جهد كهربائي كبير بين غيمتين في حالة البرق أو بين غيمة والأرض في حالة الصواعق قد يصل الى ملايين الفولتات. يؤدي فرق الجهد الكبير الى حدوث تفريغ كهربائي وتكون شرارة كهربية .

المجال والجهد الكهربائي للموصلات الكروية المشحونة

الموضع	المجال الكهربائي	الجهد الكهربائي
داخل الموصل	دائما يساوي صفرا ، لأن الشحنات تستقر على الأسطح الخارجية.	ثابت لا يتغير ، ولذا يكون فرق الجهد بين أي نقطتين صفرا ، أي يكون سطح تساوي الجهد
على السطح	يكون أكبر ما يمكن	ثابت لا يتغير ويساوي الجهد بداخل الموصل، ولذا يكون فرق الجهد بين أي نقطتين صفرا ، أي يكون سطح تساوي الجهد
خارج الموصل	يقل تدريجيا كلما ابتعدنا عن الموصل، و يعتمد مقداره على شكل الموصل وفرق الجهد بين الموصل والأرض .	يقل تدريجيا كلما ابتعدنا عن الموصل

تخزين الشحنات (المكثف)

السعة الكهربائية لموصل (C): هي النسبة بين الشحنة المخزنة على جسم (موصل) وفرق الجهد الكهربائي.

$$C = \frac{q}{\Delta V}$$

علل: الكرة الموصلة الكبيرة سعتها الكهربائية أكبر من الكرة الصغيرة.
ج: لأنها يمكن أن تخزن كمية أكبر من الشحنات عند فرق الجهد نفسه.

المكثف الكهربائي

▪ **المكثف الكهربائي:** جهاز يعمل على تخزين الشحنات الكهربائية. وقد سمي آنذاك "زجاجة ليدن" باسم المدينة التي ولد فيها مخترعه الهولندي بيتر فان مسجنبروك.

تركيب المكثف الكهربائي:

- 1- موصلان مشحونان بشحنتين متساويتين في المقدار ومختلفتين في النوع.
- 2- مادة عازلة تفصل بين الموصلين.

علل: تلف المكثفات بصورة اسطوانية.

ج: لتقليل حجمها وحتى لا تشغل حيز كبير.

كيف تخزن المكثفات الطاقة؟

يتولد بين لوحَي المكثف المشحونين بشحنات متعاكسة مجال كهربائي يعمل على تخزين الطاقة.

قانون حساب السعة الكهربائية لمكثف كهربائي:

السعة الكهربائية لمكثف هي النسبة بين الشحنة على أحد اللوحين وفرق الجهد بينهما.

$$C = \frac{q}{\Delta V}$$

حيث أن:
C: السعة الكهربائية (N)
 ΔV : فرق الجهد بين اللوحين (V)
q: شحنة أحد اللوحين (C)

وحدة قياس السعة الكهربائية: الفاراد (F) ويساوي (C/V)

والفاراد وحدة كبيرة لذا تقاس بوحدهات أصغر مثل البيكوفاراد ($1pF = 10^{-12} F$) والميكروفاراد ($1\mu F = 10^{-6} F$)

العوامل التي تتوقف عليها سعة المكثف:

لا تتوقف سعة المكثف على شحنته ولكنها تعتمد على أبعاده الهندسية كما يلي:

- 1- المساحة السطحية للموصلين أو اللوحين (A): تزداد سعة المكثف بزيادة مساحة سطحي اللوحين (تناسب طردي)
- 2- المسافة بين اللوحين (d): تزداد سعة المكثف بتقليل المسافة بين اللوحين (تناسب عكسي)
- 3- طبيعة المادة العازلة بين اللوحين (ϵ): تزداد سعة المكثف باستخدام مواد ثابت عازليتها كبير.

$$C = \frac{\epsilon A}{d}$$

ويمكن تلخيص ما سبق في القانون (العلاقة غير مطلوبة)

علل: لا تتوقف سعة المكثف على شحنته

ج: لأنه كلما زادت شحنة المكثف زاد فرق الجهد بين لوحيه بحيث تبقى النسبة بينهما (أي السعة) ثابتة دائما.

• **قانون حساب الطاقة المخزنة في مكثف (أو الشغل المبذول لشحن مكثف)**

$$W = \frac{1}{2} q\Delta V = \frac{1}{2} C\Delta V^2 = \frac{q^2}{2C}$$

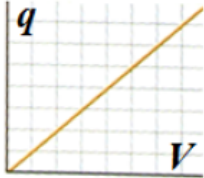
• **العلاقة البيانية بين الشحنة المخزنة في مكثف وفرق الجهد بين طرفيه**

تتناسب الشحنة المخزنة في مكثف طرديا مع فرق الجهد بين طرفيه (علاقة خطية).

ومن الرسم البياني يمكن إيجاد ما يلي:

أ- **سعة المكثف (C):** هو ميل الخط البياني لمنحنى الشحنة وفرق الجهد بين لوحى المكثف.

ب- **الشغل المبذول لشحن المكثف أو الطاقة المخزنة (W):** هو المساحة المحصورة تحت الخط البياني لمنحنى الشحنة وفرق الجهد.



• **أنواع المكثفات الكهربائية:**

تسمى المكثفات بحسب نوع العازل الذي يفصل بين اللوحين. وهي كما يلي:

- 1- مكثف السيراميك
- 2- مكثف المايكا
- 3- البوليستر
- 4- الورق
- 5- الهواء.

• **استخدامات المكثفات الكهربائية:**

تستخدم المكثفات بمختلف أحجامها الصغيرة والكبيرة في معظم الأجهزة لتخزين الشحنات كذلك الموجودة في أجهزة التلفاز والحاسوب والليزر وألة التصوير الالكترونية وغيرها.

علل لما يأتي:

1- **يحذر من فتح غطاء التلفاز أو شاشة الحاسوب حتى لو لم تكن متصلة بمصدر جهد كهربائي.**

ج: لأنها تحوي مكثفات تظل مشحونة لعدة ساعات بعد اغلاق الجهاز، لذا فانها تشكل خطرا اذا لمست.

2- **تعتبر المكثفات الموجودة داخل التلفاز خطيرة جدا إذا لمست.**

ج: لأنها يمكنها تخزين كمية من الشحنات عند فروق جهد مساوية لعدة مئات من الفولتات

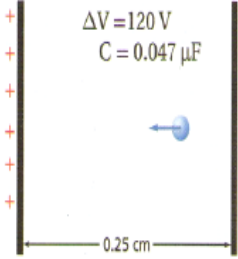
تدريبات متنوعة على المكثفات

تدريب 1: مكثف كهربائي سعته $27 \mu F$ وفرق الجهد الكهربائي بين لوحيه $45V$ احسب مقدار شحنة المكثف ؟

تدريب 2: عند إضافة شحنة $2.5 \times 10^{-5} C$ إلى مكثف يزداد فرق الجهد بين لوحيه من $12.0V$ إلى $14.0V$ احسب مقدار سعة المكثف .

تدريب 3: مكثفان سعة الأول $3.3 \mu F$ وسعة الآخر $6.8 \mu F$ إذا وصل كل منهما بفرق جهد $24V$ فأى المكثفين له شحنة أكبر ؟ وما مقدارها ؟

تدريب 4: ما مقدار فرق الجهد الكهربائي بين لوحي مكثف سعته $5.4\mu F$ مشحون بشحنة مقدارها $8.1 \times 10^{-4} C$



تدريب 5: في الشكل الموضح أمامك اجب عما يلي :-

(أ) إذا وضع إلكترون بين لوحي المكثف فما مقدار القوة المؤثرة فيه؟ (علما بأن شحنته $-1.6 \times 10^{-19} C$)

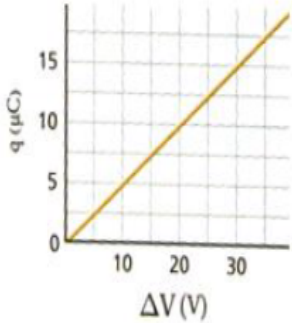
(ب) ما مقدار الشغل اللازم لتحريك شحنة إضافية مقدارها $0.010\mu C$ بين لوحي المكثف عندما يكون فرق

الجهد بينهما $120V$ ؟

تدريب 6: ما مقدار الشحنات المخزنة في مكثف ذي لوحين متوازيين سعته $0.22\mu F$ إذا كان البعد بين لوحيه $1.2Cm$ والمجال الكهربائي

بينهما $2400N/C$

تدريب 7: يمثل الرسم البياني الموضح في الشكل الشحنة المخزنة في مكثف في أثناء زيادة فرق الجهد عليه اجب عما يلي :-



(أ) ماذا يمثل ميل الخط الموضح علي الرسم البياني ؟

(ب) ما سعة المكثف الممثل بالشكل ؟

(ج) ماذا تمثل المساحة تحت الخط البياني ؟

(د) ما مقدار الشغل اللازم لشحن هذا المكثف ليصبح فرق الجهد بين لوحيه $25V$ ؟

(هـ) لماذا لا يساوي الشغل الناتج في المسألة السابقة المقدار $q\Delta V$ ؟

تدريب 8: مكثف ذو لوحين متوازيين شحنته q سعته C ماذا يحدث لسعة هذا المكثف عند زيادة شحنته إلي $3q$ ؟

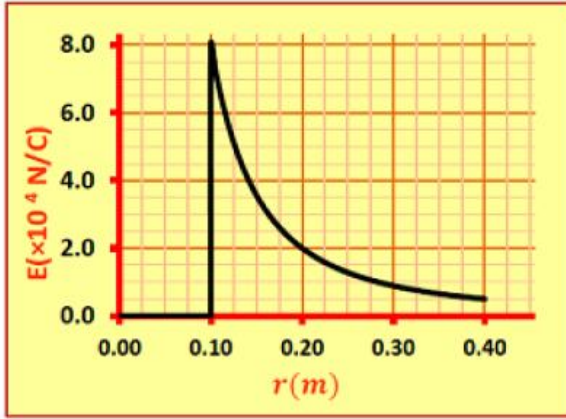
(د) $2/C$

(ج) C

(ب) $C/3$

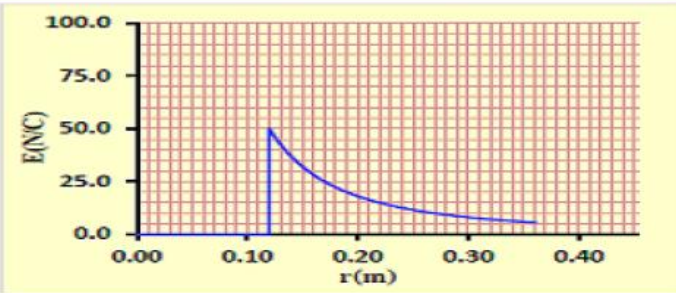
(أ) $C/2$

يُبين الرسم البياني المجاور تغيرات مقدار شدة المجال الكهربائي لموصل مشحون ومعزول بتغيّر البعد عن مركزه. إذا كان الهواء يحيط بالموصل.



• جد كمية شحنة الموصل الكروي.

• إذا **أنقصت** كمية شحنة الموصل إلى **النصف** فارسم على الشكل نفسه الخط البياني لتغيرات شدة المجال الكهربائي للموصل بتغيّر البعد عن مركزه.



• يُبين الرسم البياني المجاور تغيرات شدة المجال الكهربائي عند نقطة تقع في مجال موصل كروي مشحون بتغيّر بعدها عن مركز الموصل. إذا كان الهواء يحيط بالموصل والنقطة،

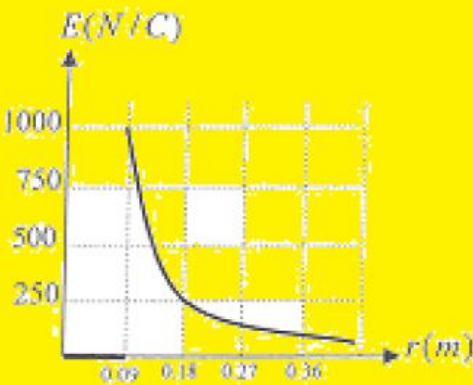
• جد شحنة الموصل الكروي

• إذا زيدت كمية شحنة الموصل إلى مثلها، فارسم على الشكل نفسه الخط البياني لتغيرات مقدار شدة المجال الناتج عن الموصل بتغيّر البعد عن سطحه.

يُبين الرسم البياني المجاور تغيرات شدة المجال الكهربائي عند نقطة تقع مجال موصل كروي مشحون بتغيّر بعدها عن مركز الموصل إذا كان الهواء يحيط بالموصل والنقطة فاجب عن الآتي :

- 1) جد شحنة الموصل الكروي
- 2) ما مقدار القوة الكهربائية المؤثرة في بروتون موضوع عند نقطة تبعد (0.09) عن سطح الموصل الكروي ؟

الحل :

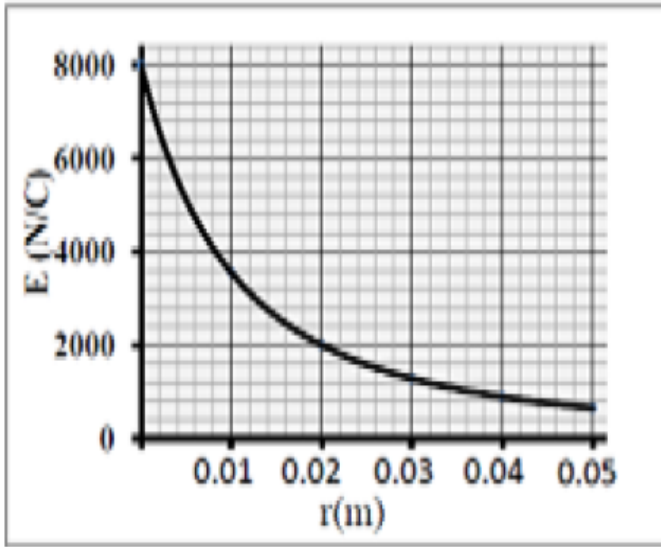


$$1) \text{ من الرسم : } E_1 = 1000, R = 0.09 \text{ m}$$

$$E_1 = K \frac{Q}{R^2} \Rightarrow Q = \frac{E_1 R^2}{K} = \frac{1000 \times 0.09^2}{8.99 \times 10^9} = 9 \times 10^{-10} \text{ C}$$

2) من الرسم نجد أن المجال ($E = 250$) على بعد (0.18 m) من المركز وعليه :

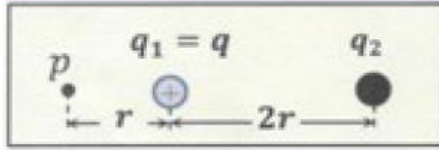
$$F_e = q E = 1.6 \times 10^{-19} \times 250 = 4 \times 10^{-17} \text{ N}$$



- الرسم البياني المجاور يوضح تغيرات مقدار شدة المجال الكهربائي بتغير بعد النقطة عن سطح موصل كروي مشحون ومعزول
أجب عن الفقرتين :
- ما شدة المجال الكهربائي عند نقطة تبعد 0.01m من مركز الموصل ؟
 - احسب شحنة الموصل .

MR: mohamed atef
TEL : 0503136836

اختر الإجابة الصحيحة لكل من الآتي، ثم ضع في المربع أمامها إشارة (✓).



- يظهر الشكل المجاور شحنتان نقطيتان يحيط بهما الهواء. إذا كانت شدة

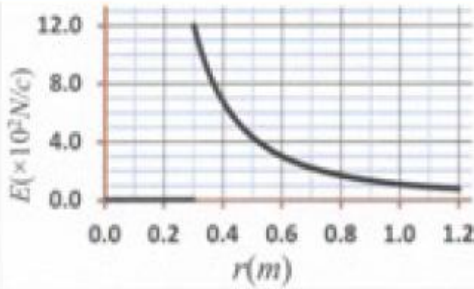
المجال الكهربائي عند النقطة p تساوي صفراً، فما كمية الشحنة q_2 ؟

$-3q$

$-2q$

$-9q$

$-4q$



- يظهر الرسم المقابل تغيرات مقدار شدة المجال الكهربائي في مجال

موصل كروي مشحون، ما كمية شحنة الموصل؟

$8.3 \times 10^{-9} C$

$4.0 \times 10^{-8} C$

$1.2 \times 10^{-8} C$

$2.1 \times 10^{-8} C$

- أي من الآتي يُعبر عن شدة المجال الكهربائية عند نقطة ما في أي مجال كهربائي مضروباً بمقدار الشحنة الموضوعه عند تلك النقطة؟

التدفق الكهربائي

كثافة الشحنة

القوة الكهربائية

الجهد الكهربائي

في أي نقطة يكون المجال الكهربائي لموصل كروي مشحون ومعزول أكبر ما يمكن :


(أ) عند مركز الكرة (ب) في اللاتهاية (ج) عند السطح الداخلي للكرة (د) عند السطح الخارجي للكرة

تكون شدة المجال الكهربائي خارج موصل مشحون ومعزول :

(أ) صفراً (ب) نفس شدة المجال عند المركز (ج) أقل قيمة (د) متعامد مع سطح الموصل

- أي من الآتي يُعبر عن القوة الكهربائية المؤثرة في شحنة اختبار صغيرة مقسومة على كمية شحنة الاختبار ؟

شدة المجال الكهربائي التدفق الكهربائي كثافة الشحنة الجهد الكهربائي



إلى أي من النقاط الأربع المبينة في الشكل المجاور يجب نقل الشحنة q إليها

من موقعها الحالي لكي تزداد طاقة وضعها الكهربائية ؟

4

3

2

1

يتحرك إلكترون نحو الشمال عند وضعه حرراً في مجال كهربائي منتظم. في أي اتجاه يكون هذا المجال؟

الجنوب

الشرق

الغرب

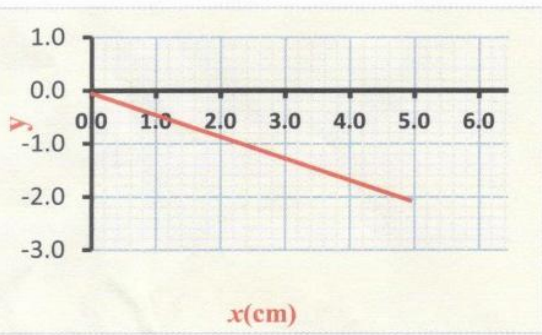
الشمال

ماذا يُمثّل مسار شحنة اختبار (موجبة وصغيرة) عند وضعها حرّة في مجال كهربائي ؟

- خط الجهد الكهربائي التدفق الكهربائي خط المجال الكهربائي شدّة المجال الكهربائي

أيّ من الآتي من خصائص خطوط المجال الكهربائي؟

- لا تتقاطع تخرج من الشحنة السالبة تتقارب بالابتعاد عن الشحنة تتباعد بالاقتراب من الشحنة



- تُرك إلكترون حرّاً ليتحرك من نقطة ما بين صفيحتي مكثف مشحون، أي الكميات الفيزيائية التالية يُمثلها المتغير y في الرسم البياني المجاور والمتعلقة بالإلكترون علماً بأن x تُمثل إزاحة الإلكترون؟

- المجال الكهربائي المؤثر في الإلكترون طاقة الوضع الكهربائية للإلكترون طاقة حركة الإلكترون الجهد الكهربائي الذي يؤثر في الإلكترون

- يُقذف بروتون إلى داخل مجال كهربائي منتظم فتتصّل طاقة وضعه بمقدار $(1.5 \times 10^{-18} J)$ ، ما التغير في طاقة حركة البروتون؟

- صفر $1.5 \times 10^{-18} J$ $-1.5 \times 10^{-18} J$ لا يُمكن تحديد ذلك

- إذا وُضعت الشحنة $(q_1 = 2 \mu c)$ على بعد $(0.10 m)$ من شحنة أخرى $(q_2 = -10 \mu c)$ ، فما العلاقة

بين طاقة الوضع الكهربائية التي تكتسبها كلٍ منهما؟

- $PE_{q_2} = 5PE_{q_1}$ $PE_{q_2} = \frac{1}{5}PE_{q_1} = 0$ $PE_{q_2} = -PE_{q_1}$ $PE_{q_2} = PE_{q_1}$

- إذا كان الجهد الكهربائي عند نقطة في مجال شحنة يساوي $(800 V)$ والمجال الكهربائي عند النقطة نفسها

يساوي $(400 N/c)$ ، فكم بعد النقطة عن الشحنة؟

- $0.25 m$ $0.50 m$ $1.0 m$ $2.0 m$

بأي عامل يتغير الجهد الكهربائي الناتج عن شحنة نقطية سالبة عند نقطة ما بزيادة بعد النقطة عنها إلى مثلي ما هو عليه؟

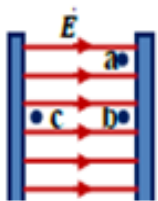
- 2 $\frac{1}{2}$ $\frac{1}{4}$ 4

بأي عامل تتغير الطاقة المخزنة في مكثف هوائي تتصل صفيحتاه بطارية إذا زادت المسافة بين صفيحتيه إلى المثلين؟

- $\frac{1}{2}$ $\frac{1}{4}$ 4 2

- أي نقطتين في الشكل المجاور إذا انتقل إلكترون بينهما تزداد طاقة وضعه؟

- من a إلى b من a إلى c من c إلى a من b إلى c



4 Q 3 2 q 1

- إلى أي من النقاط الأربع المبينة في الشكل المجاور يجب نقل الشحنة q من موقعها الحالي لكي تصبح طاقة الوضع الكهربائية لكلٍ من الشحنتين أقل ما يمكن؟

1 2 3 4

- ترك إلكترون حراً في مجال كهربائي منتظم اتجاه خطوطه نحو الغرب، في أي اتجاه سيتحرك الإلكترون وماذا يطرأ على طاقة وضعه؟

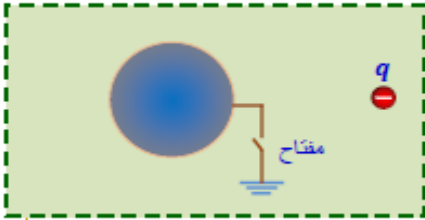
الجنوب وتزداد طاقة وضعه

الشمال وتقل طاقة وضعه الغرب وتزداد طاقة وضعه الشرق وتقل طاقة وضعه

- يُظهر الشكل المجاور موصلاً كروياً متصلاً بالأرض بواسطة سلك توصيل ومفتاح مفتوح، فإذا أُغلق المفتاح ثم فتح ثم أُبعدت الشحنة النقطية (q) فما شحنة الموصل؟

موجبة سالبة

غير مشحون لا يُمكن تحديدها



ماذا ينتج عن إزالة المادة العازلة التي تملأ الحيز بين صفيحتي مكثف مشحون؟

نقصان المجال الكهربائي بين لوحي المكثف

نقصان فرق الجهد بين صفيحتي المكثف

زيادة الشحنة الكهربائية للمكثف

نقصان السعة الكهربائية للمكثف

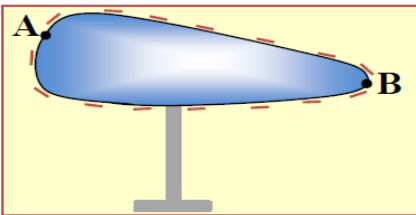
q_1 ب q_2

إذا كانت شدة المجال الكهربائي عند النقطة (ب) الظاهرة في الشكل المجاور تساوي صفراً، فأَي العبارات الآتية صحيحة؟

الشحنتان متشابهتان في النوع الشحنتان مختلفتان في النوع

الجهد الكهربائي للنقطة يساوي صفراً طاقة الوضع الكهربائية لأي شحنة عند النقطة تساوي صفراً

شحن الموصل المبين في الشكل المجاور بشحنة سالبة. أي العبارات الآتية صحيحة فيما يتعلق بالموصل؟



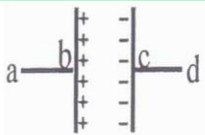
جهد النقطة A أقل من جهد النقطة B

كثافة الشحنة السطحية عند A أكبر مما هي عليه عند B.

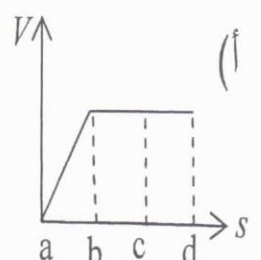
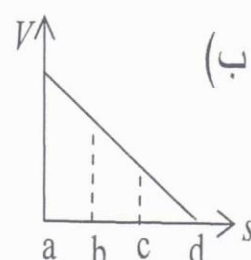
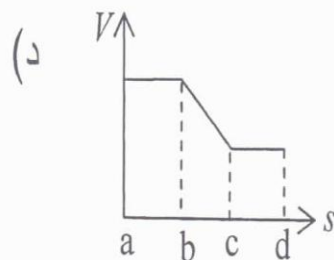
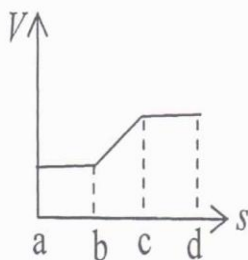
جهد A أكبر من جهد النقطة B.

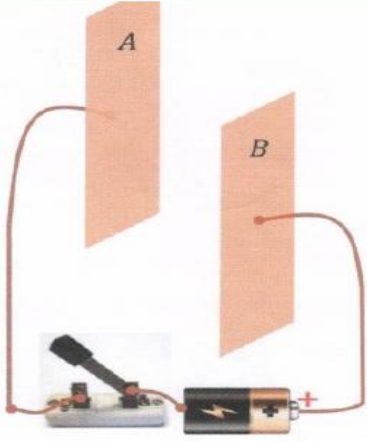
كثافة الشحنة السطحية عند A أقل مما هي عليه عند B.

اختر الإجابة الصحيحة: في الشكل المجاور مكثف مستوي مشحون ومفصول عن مصدر الشحن



فإن أفضل خط بياني يبين تغير فرق الجهد الكهربائي من النقطة (a) إلى النقطة (b) هو:





يُظهر الشكل المجاور صفيحتان فلزيتان **غير مشحونتين** ومتساويتين في المساحة ومتصلتين بقطبي بطارية بواسطة أسلاك توصيل ومفتاح. **عند غلق المفتاح** تُشحن كل من الصفيحتين.

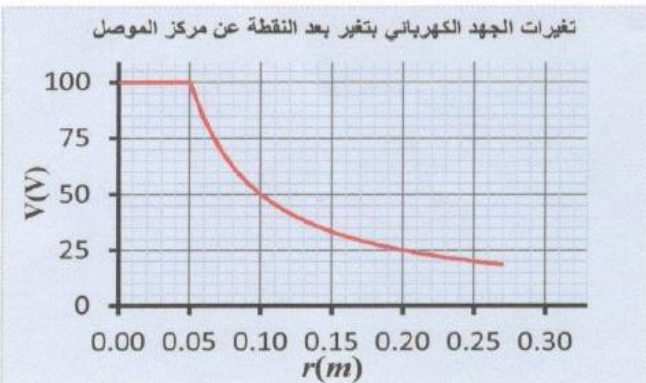
- **ارسم توزيع الشحنات** على كل من الصفيحتين.
- ماذا يطرأ على كمية شحنة كل من الصفيحتين في الحالات الآتية:
- إذا **أزاحت الصفيحة B نحو الأسفل**.

- إذا **أزاحت الصفيحة B نحو جهة اليسار**.

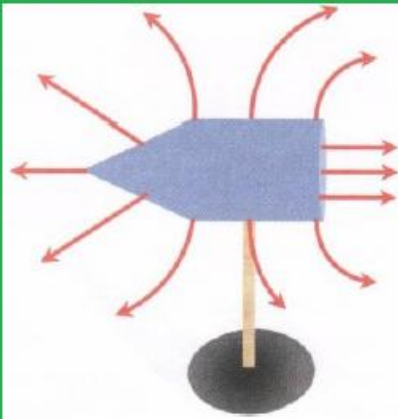
- مكثف مستو هوائي سعته الكهربائية ($3.5 \times 10^{-7} F$) وصل الى قطبي بطارية حتى تمام شحنه فكانت الطاقة المختزنة بين صفيحتيه ($7.0 \times 10^{-3} J$). أجب عما يلي:
- **احسب فرق الجهد** بين قطبي البطارية.

- إذا **فصل المكثف عن البطارية** وملاً الحيز بين صفيحتيه بمادة عازلة، فأكمل الجدول الآتي مستخدماً الكلمات (يقبل - يزداد - يبقى ثابتاً) لتصف ما يحصل لمقدار كلٍ من الكميات الواردة فيه.

الطاقة الكهربائية المختزنة في المكثف	سعة المكثف الكهربائية	كمية الشحنة على كلٍ من صفيحتيه	فرق الجهد بين صفيحتيه
.....



- يُظهر الشكل تغيرات الجهد الكهربائي عند نقطة في مجال موصل كروي مشحون ومعزول بتغير بعد النقطة عن مركز الموصل. أجب عما يلي:
- **احسب الشغل** الذي يبذله **المجال** على شحنة ($q = 3 \times 10^{-12} C$) عند نقلها من نقطة (a) تبعد ($0.10m$) إلى المالانهاية (إلى نقطة بعيدة جداً عند الموصل)




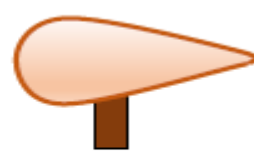
- رسم متعلم خطوط المجال الكهربائي لموصل مخروطي معزول ومشحون بشحنة سالبة في حالة اتزان كهروستاتيكي كما يظهر في الشكل المجاور. يوجد ثلاثة أخطاء ارتكبها المتعلم. حدد هذه الأخطاء الثلاثة.

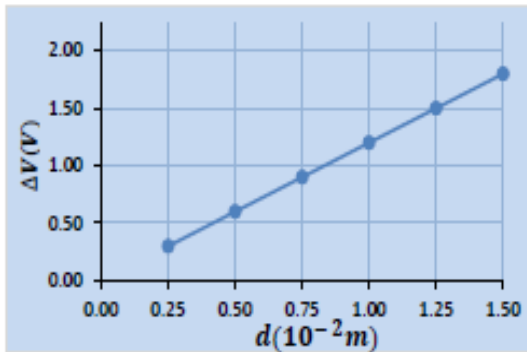
الخطأ الأول:

الخطأ الثاني:

الخطأ الثالث:

- الموصلان في الشكل أنماه معزولان ومشحونان بشحنتين متماثلتين. أكمل جدول المقارنة الآتي:

		
		توزع الشحنات على سطح كلي منهما
		الجهد الكهربائي على سطح كلي منهما
		المجال الكهربائي المحيط بهما



- يبين الشكل المجاور تغيرات فرق الجهد بين صفيحتي مكثف كهربائي هوائي مشحون بشحنة ثابتة $(6.5 \times 10^{-12} C)$ بتغير البعد بين صفيحتيه.

• احسب المساحة المشتركة بين صفيحتي المكثف؟

الإجابة: من الرسم:

$$\text{الميل} = \frac{\Delta V}{\Delta d} = \frac{Q}{\epsilon_0 \times A} \rightarrow A = \frac{\Delta d \times Q}{\epsilon_0 \times \Delta V} = \frac{1 \times 10^{-2} \times 6.5 \times 10^{-12}}{9 \times 10^{-12} \times 1.25} = 5.8 \times 10^{-2} m^2$$

- وضعت شحنتان نقطيتان $(q_1 = -2.5 \times 10^{-9} C)$ ، $(q_2 = +2.0 \times 10^{-9} C)$ بالقرب من موصل متصل بالأرض كما في الشكل المجاور.

• برأيك هل الموصل مشحون أم لا؟

الإجابة: مشحون

• برر إجابتك رياضياً محدداً نوع ومقدار شحنته فيما لو كان مشحوناً.

الإجابة:

$$V_{tot} = k_c \left(\frac{Q}{R} + \frac{q_1}{r_1} + \frac{q_2}{r_2} \right) \rightarrow Q = \left(\frac{RV_{tot}}{k_c} - \frac{q_1}{r_1} - \frac{q_2}{r_2} \right) = \left(0 - \frac{-2.5 \times 10^{-9}}{0.3} - \frac{+2.0 \times 10^{-9}}{0.4} \right) = 3.33 \times 10^{-9} C$$

في الشكل المجاور جسيم مشحون كتلته $(5.12 \times 10^{-26} \text{Kg})$ ومقدار شحنته

$(q = 3.2 \times 10^{-19} \text{C})$ بدأ حركته من السكون من ثقب في صفيحة مكثف مشحون ومغصول عن مصدر

لجهد كهربائي احب عما يلي :

(1) ارسم على الشكل اتجاه المجال الكهربائي .

(2) ما نوع شحنة الجسيم .

(3) احسب السرعة النهائية للجسيم المشحون لحظة وصوله الصفيحة (a) ؟

(4) إذا كانت المساحة المشتركة بين اللوحين تساوي (0.5m^2) فاحسب شحنة المكثف ؟

(5) احسب الجهد الكهربائي عند النقطة (c) التي تبعد (0.02m) عن الصفيحة (b) ؟

الحل :

(1) المجال من الجهد الأكبر (a) إلى الجهد الأقل (b) . $(V_b = 0)$

(2) سالبة ، لأنها تتحرك عكس المجال بحرية .

$$K.E = -\Delta P.E = -q\Delta V = -(3.2 \times 10^{-19})(800 - 0) = 2.56 \times 10^{-16} \text{ J} \quad (3)$$

$$K.E = \frac{1}{2} m v^2 \Rightarrow v = \sqrt{\frac{2K.E}{m}} = 1 \times 10^5 \text{ m/s}$$

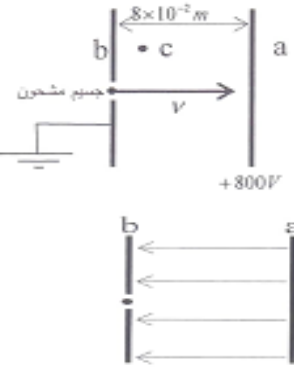
$$C = \epsilon_0 \frac{A}{d} = 8.85 \times 10^{-12} \times \frac{0.5}{8 \times 10^{-2}} = 5.53 \times 10^{-11} \text{ F} \quad (4)$$

$$Q = C\Delta V = 5.53 \times 10^{-11} \times 800 = 4.43 \times 10^{-8} \text{ C}$$

$$E = \frac{\Delta V}{d} = \frac{800}{8 \times 10^{-2}} = 10000 \text{ N/C} \quad (5)$$

$$V_c = -Ed = -10000 \times -0.02 = 200 \text{ V}$$

اللوحة b يعتبر نقطة مرجعية لأن جهده صفر .



مكثف موصل مع مصدر فرق الجهد معين ماذا عند مضاعفة فرق جهد المصدر

(4) الطاقة المختزلة

(3) المجال

(2) الشحنة

(1) السعة

(1) بما أن مساحة اللوحين والبعد بينهما لم يتغيرا فإن سعة المكثف تبقى ثابتة .

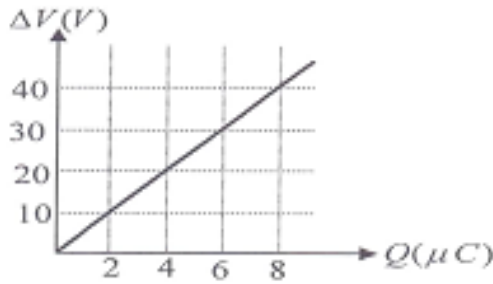
(2) تتضاعف . لأن $Q \propto \Delta V$ حسب العلاقة $Q = C\Delta V$.

(3) يتضاعف . $E = \frac{\Delta V}{d}$.

(4) تتضاعف أربعة مرات . لأن C ثابتة و ΔV تضاعفت $U = \frac{1}{2} C\Delta V^2$

MR: mohamed atef
TEL : 0503136836

معتمدا على الرسم البياني في الشكل المجاور والذي يمثل تغيرات فرق الجهد بين صفيحتي مكثف مستو بدلالة تغير مقدار الشحنة على كل من صفيحتيه :



(1) ما سعة المكثف .

(2) ما التغير في طاقة الوضع الكهربائية المختزلة

في المكثف عندما يتغير الجهد بين صفيحتيه من (3V) الي (4.5V) ؟

الحل:

$$C = \frac{Q}{\Delta V} = \frac{2 \times 10^{-6}}{10} = 2 \times 10^{-7} F \quad (1)$$

$$\Delta U = \frac{1}{2} C (\Delta V_f^2 - \Delta V_i^2) = \frac{1}{2} \times 2 \times 10^{-7} (4.5^2 - 3^2) = 1.125 \times 10^{-6} J \quad (2)$$

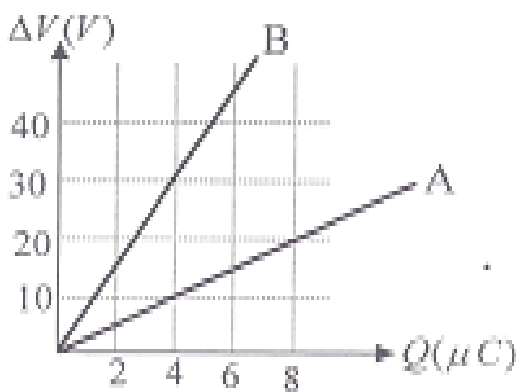
مثّل العلاقة البيانية بين شحنة مكثف وفرق الجهد بين طرفيه لمكثفين هوائيين (A) و(B) كما في الشكل :

(1) اي المكثفين سعته اكبر ولماذا ؟

(2) احسب نسبة سعة المكثف (B) الي سعة (A) المكثف ؟

(3) اي المكثف يخزن طاقة اكبر عندما يطبق عليها نفس فرق الجهد ؟ ولماذا .

(4) إذا وضعت مادة عازلة (بلاستيك) بين لوحى المكثف (A) ماذا يحدث لميل الخط الباني ولماذا ؟



(1) A , لأن ميله أقل فتكون سعته أكبر ($\frac{1}{C}$ = الميل) .

$$C_B = \frac{Q}{\Delta V} = \frac{4}{30} = 0.133 \mu F \quad C_A = \frac{Q}{\Delta V} = \frac{4}{10} = 0.4 \mu F \quad (2)$$

$$\frac{C_B}{C_A} = \frac{0.133}{0.4} = \frac{1}{3}$$

(3) A , لأن سعته أكبر ($U = \frac{1}{2} C \Delta V^2$) .

(4) عند وضع العازل تزيد السعة فيقل الميل .

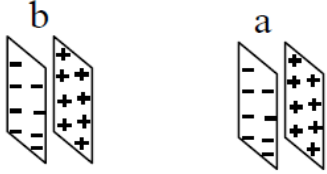
مكثفان كهربائيان متماثلان (A) و (B). ثم شحن المكثف (A) بواسطة بطارية فرق الجهد بين قطبيها 6 بينما شحن المكثف (B) بواسطة بطارية فرق الجهد بين قطبيها (3.0 V). احسب نسبة طاقة الوضع الكهربائي المخزنة في المكثف (A) إلى طاقة الوضع الكهربائية المخزنة في المكثف (B).

في الشكل المجاور المكثفان لهما نفس الشحنة , والطاقة المخزنة في المكثف (a) أكبر من الطاقة

المخزنة في المكثف (b) أي المكثفين سعته أكبر . برر إجابتك بالقوانين .

الحل : المكثف (b) سعته أكبر .

لأن الطاقة تتناسب عكسياً مع السعة عند ثبات الشحنة $(U = \frac{1}{2} \frac{Q^2}{C})$



مكثفان (a , b) مشحونان لهما نفس السعة , إذا كانت الطاقة المخزنة في المكثف (a) أربعة

أمثال الطاقة المخزنة في المكثف (b) فأوجد نسبة شحنة المكثف (b) إلى شحنة المكثف (a) ؟

المطلوب : $\frac{Q_b}{Q_a}$

الحل : المعطى : $U_a = 4U_b$

بما أن الطاقة تتناسب طردياً مع مربع الشحنة عند ثبات السعة حسب العلاقة $(U = \frac{1}{2} \frac{Q^2}{C})$ فإن

$$\frac{U_b}{U_a} = \frac{Q_b^2}{Q_a^2}$$

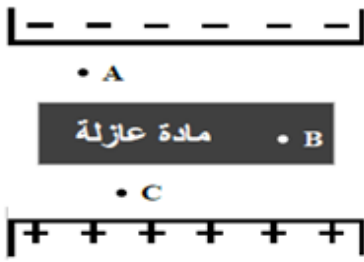
$$\frac{U_b}{4U_b} = \frac{Q_b^2}{Q_a^2}$$

$$\frac{1}{4} = \frac{Q_b^2}{Q_a^2} \Rightarrow \frac{Q_b}{Q_a} = \frac{1}{2}$$

- أي ما يلي صحيح عند وضع مادة عازلة بين صفيحتي مكثف مستو هوائي مشحون ومعزول؟
- يتولد مجال كهربائي اتجاهه مع اتجاه المجال الأصلي. تزداد كمية شحنة المكثف.
 - يتولد مجال كهربائي اتجاهه عكس اتجاه المجال الأصلي. يزداد فرق الجهد الكهربائي بين صفيحتي المكثف.

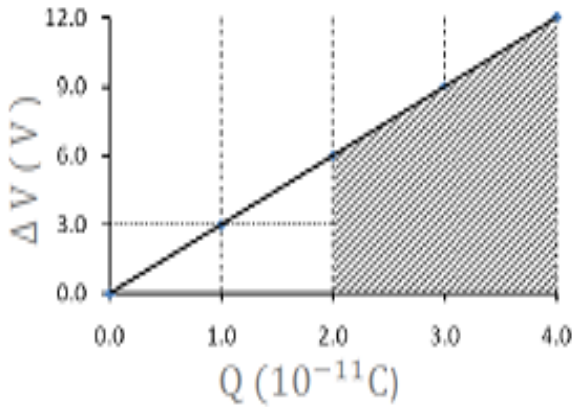
- يمتاز المكثف المشحون عن البطارية بأنه :-

- 1- يمكن إعادة شحنه عند تفريغ طاقته
- 2- لا يمكن إعادة شحنه عند تفريغ طاقته
- 3- يمكن تفريغ طاقته خلال فترة زمنية طويلة
- 4- يمكن تفريغ طاقته خلال فترة زمنية قصيرة جداً



في الشكل المجاور مكثف مستوي مشحون يوجد مادة عازلة بين صفيحتيه، أجب عن الفقرتين (11 و 12).
- قارن شدة المجال الكهربائي عند النقطة A بشدته عند كل من النقطتين (B) و (C)

-فسر نقصان السعة الكهربائية للمكثف عندما يحل الهواء مكان المادة العازلة.



شحن مكثف مستوي بوصل صفيحتيه ببطارية فرق الجهد بين قطبيها 12.0 V. الرسم البياني المجاور يُمثل منحنى تغيرات فرق الجهد بين صفيحتي المكثف بتغير شحنته خلال عملية الشحن. إذا كان البعد بين الصفيحتين (1.2 mm) فاحسب الآتي:
(المساحة المشتركة بين صفيحتي المكثف .

$$\text{الميل} = \frac{\Delta(\Delta V)}{\Delta Q} = \frac{12.0 - 3.0}{(4.0 - 1.0) \times 10^{-11}} = 3.0 \times 10^{11}$$

$$\therefore C = \frac{1}{\text{الميل}} = \epsilon_0 \frac{A}{d}$$

$$A = \frac{d}{\epsilon_0 \times \text{الميل}} = \frac{1.2 \times 10^{-3}}{8.85 \times 10^{-12} \times 3.0 \times 10^{11}} = 4.5 \times 10^{-4} \text{ m}^2$$

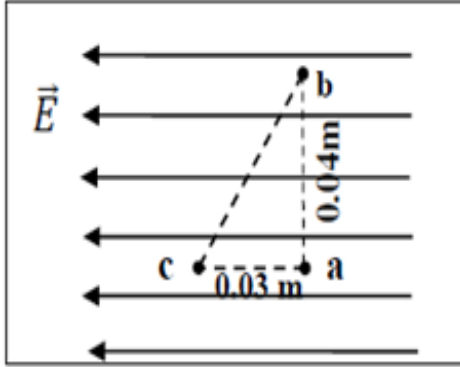
(الزيادة في الطاقة الكهربائية المخزنة في المكثف والنتيجة عن زيادة شحنته من $2.0 \times 10^{-11} \text{ C}$ إلى $4.0 \times 10^{-11} \text{ C}$ أثناء عملية الشحن.

الزيادة في الطاقة تمثلها المساحة المظللة تحت الخط البياني المبينة في الرسم، أي أن:

$$\Delta U = \frac{1}{2} \times (6.0 + 12.0) \times [(4.0 - 2.0) \times 10^{11}]$$

$$= 1.8 \times 10^{-10} \text{ J}$$

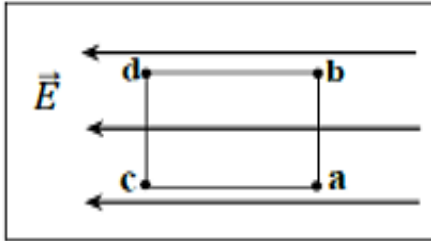
تقع النقاط (a , b, c) داخل مجال كهربائي منتظم شدته 200 N/C :



كما في الشكل المجاور، أجب عن الفقرتين (9 و 10)

احسب فرق الجهد الكهربائي بين النقطة (b) والنقطة (c)

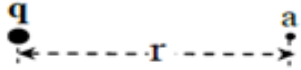
-فسر لماذا تكون طاقة الوضع الكهربائية لإلكترون عند النقطة a تساوي طاقة الوضع الكهربائية له عند النقطة b.



تقع النقاط (a , b, c, d) داخل مجال كهربائي منتظم كما في الشكل

المجاور، أجب عن الفقرتين (8 و 9).

-أي النقاط لها الجهد الكهربائي نفسه؟



وضعت الشحنة النقطية q في الهواء كما في الشكل المجاور ، فإذا كان مقدار شدة

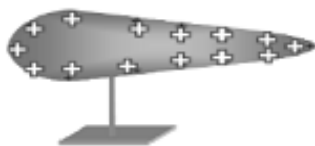
المجال الكهربائي ($4.0 \times 10^2 \text{ N/C}$) عند النقطة (a) والجهد الكهربائي عندها $5.0 \times 10^2 \text{ V}$.

-احسب مقدار الشحنة q.

- أي من الكميات التالية لا تساوي صفرا لموصل كروي غير مشحون ومعزول ؟

- الجهد الكهربائي عند نقطة على سطحه.
- المجال الكهربائي عند نقطة قريبة من سطحه.
- السعة الكهربائية للموصل.
- طاقة الوضع الكهربائية لبروتون عند نقطة على سطحه.

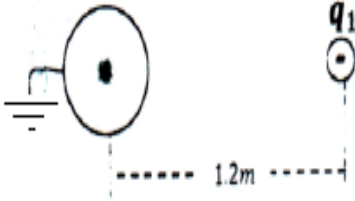
-إحدى التالية ليست صحيحة للموصل المخروطي الموضح في الشكل المجاور والذي في حالة اتزان الكتروستاتيكي:



- المجال الكهربائي بداخله صفرا.
- خطوط المجال بالقرب من سطحه عموديه عليه.
- الجهد الكهربائي متساوي عند جميع نقاط سطحه.
- مقدار شدة المجال الكهربائي متساوي بالقرب من سطحه.

وضعت شحنة نقطية ($q_1 = -8 \times 10^{-6} C$) على بعد ($1.2m$) من مركز موصل كروي متصل بالأرض كما في الشكل ، إذا كانت الشحنة التي تكونت على سطح الموصل ($q_2 = 8 \times 10^{-7} C$) احسب نصف قطر الموصل الكروي .

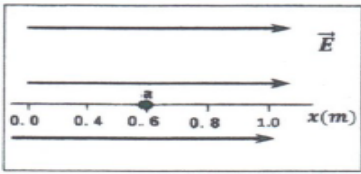
الحل :



بما أن الموصل متصل بالأرض فإن جهده صفر وعليه :

$$V_s = 0 = 9 \times 10^9 \left(\frac{8 \times 10^{-7}}{R} + \frac{-8 \times 10^{-6}}{1.2} \right) \Rightarrow R = 0.12 m$$

يظهر الشكل المجاور النقطة (a) والتي تقع عند الإحداثي ($x = 0.6m$) ويؤثر فيها مجال كهربائي منتظم مقدار شدته ($2 \times 10^3 N/C$) إذا كانت النقطة (b) تقع أيضاً على المحور (x) وكان جهدها أكبر من جهد النقطة (a) بمقدار ($8 \times 10^2 V$) احسب بعد النقطة (b) عن النقطة (a) ثم حدد موضعها على الشكل .



الحل :

جهد (b) أكبر من جهد (a) بمقدار ($8 \times 10^2 V$) يعني أن : ($\Delta V_{ab} = 8 \times 10^2 V$)

$$\Delta V_{ab} = -Ed$$

$$8 \times 10^2 = -2 \times 10^3 d \Rightarrow d = -0.4 m$$

يجب أن يكون إحداثي النقطة هو : ($x = 0.2 m$) .

النقاط C، B، A تقع في مجال كهربائي منتظم وتشكل معاً مثلثاً قائم الزاوية كما في الشكل المجاور. إذا كان الجهد الكهربائي عند النقطة A يساوي 4V وعند كل من النقطتين B، C يساوي 10V. أجب عما يلي :

(1) حدد اتجاه المجال الكهربائي على الشكل .

(ب) ماذا يطرأ على طاقة الوضع الكهربائية لبروتون عندما ينقل من النقطة A إلى النقطة B ؟!! فسّر إجابتك. **تزداد ، لأنه انتقل من نقطة جهدها أقل إلى نقطة جهدها أكبر وشحنته موجبة [لأنه ينقل عكس اتجاه المجال الكهربائي فيبذل المجال على البروتون شغلاً سالباً .**

$$\Delta PE_e = -qEd$$

$$= - + + -$$

$$= +$$

(ج) إذا وضع إلكترون في النقطة (P) وتترك ليتحرك بحرية فحدد اتجاه حركته. فسّر إجابتك.

نحو الأسفل [باتجاه النقطة B] لأن القوة الكهربائية تؤثر عليه باتجاه الأسفل.

(د) إذا كانت المسافة بين النقطتين A ، P ، ثلث المسافة بين النقطتين B ، A فاحسب جهد النقطة P.

$$E = \frac{-\Delta V}{d} = \text{ثابت}$$

$$\frac{V_B - V_A}{d} = \frac{V_P - V_A}{\frac{1}{3}d} \Rightarrow \frac{10 - 4}{d} = \frac{V_P - 4}{\frac{1}{3}d} \Rightarrow V_P = 6V$$

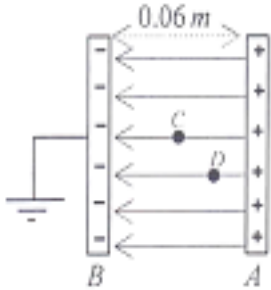
في الشكل المجاور إذا علمت الجهد اللوح الموجب ($V_A=30V$) فأجب عما يلي :

(1) احسب شدة المجال الكهربائي بين اللوحين .

(2) احسب جهد النقطة (C) التي تقع في منتصف البعد بين اللوحين .

(3) إذا علمت ان ($V_D=20V$) بعدها عن اللوح السالب (B) .

الحل :



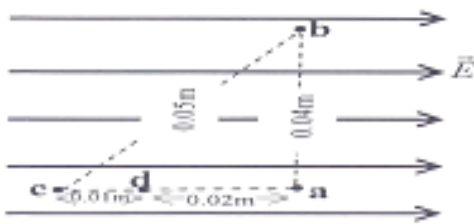
الشكل المجاور نقاط (d,c,b,a) في مجال كهربائي منتظم إذا علمت ان ($V_c=15V$) و ($V_b=3V$)

فأجب عما يلي :

(1) أي النقاط المذكورة يكون الجهد عندها اعلى من الجهد عند بقية النقاط .

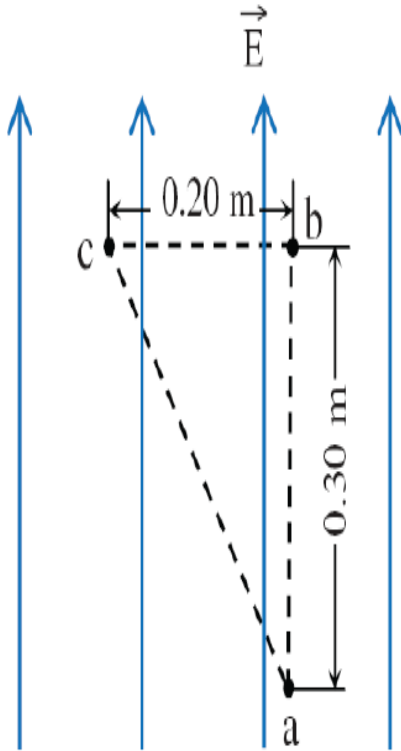
(2) احسب شدة المجال الكهربائي .

(3) احسب كلا من V_d و V_a .



- النقاط a, b, c تقع في مجال كهربائي منتظم شدته 2500 N/C . تشكل النقاط معاً مثلثاً قائم الزاوية عند النقطة b، كما بالشكل المجاور.

ما فرق الجهد بين النقطتين c و a وما فرق الجهد بين النقطتين b و c ؟!!!

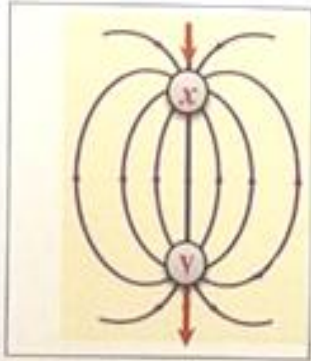


الإشارة السالبة تعني أن الجهد الكهربائي قل عند نقل شحنة من a إلى c.

أولاً: $\Delta V_{ac} = V_a - V_c = -Ed_{a \rightarrow c}$
 $= -2500 \times 0.3$
 $= -750 \text{ V}$

أي أن الجهد الكهربائي عند النقطة c يساوي b.

ثانياً: $\Delta V_{bc} = V_b - V_c = -Ed_{b \rightarrow c}$
 $= -2500 \times 0$
 $= 0$



- يظهر الشكل المجاور خطوط المجال الكهربائي لشحنتين كهربائيتين (x, y).

ما نوع الشحنتين؟

- الشحنتان x و y موجبتان .
- الشحنة x موجبة والشحنة y سالبة.
- الشحنتان x و y سالبتان .
- الشحنة y موجبة والشحنة x سالبة.

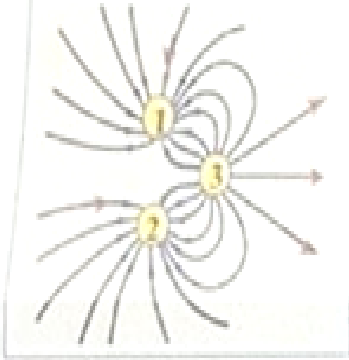
في الشكل المجاور وضعت شحنة اختبار موجبة عند النقطة م التي تقع في مجال

الشحنة q، ما اتجاه القوة الكهربائية المؤثرة في شحنة الاختبار؟

- إلى اليمين إلى اليسار إلى أعلى إلى أسفل

قربت شحنة اختبار موجبة من شحنة نقطية موجبة، ماذا يطرأ على طاقة الوضع الكهربائية لشحنة الاختبار؟

- تقل . تبقى كما هي .
- تزداد . تصبح تساوي صفراً .

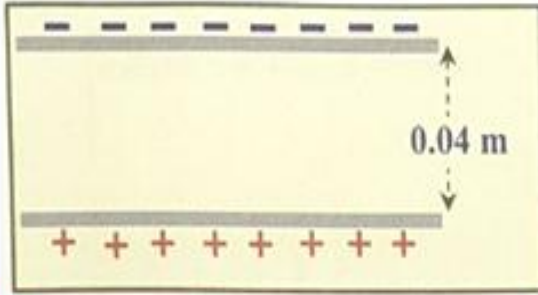


- يظهر الشكل المجاور خطوط المجال الكهربائي لثلاث شحنات كهربائية (1, 2, 3) ،
ما نوع الشحنات الثلاث ؟

- الشحنتان 1 و 2 موجبة والشحنة 3 سالبة الشحنتان 1 و 3 موجبة والشحنة 2 سالبة
الشحنتان 1 و 2 سالبة والشحنة 3 موجبة الشحنتان 1 و 3 سالبة والشحنة 2 موجبة

في الشكل المجاور صفيحتا مكثف مشحون فرق الجهد الكهربائي
بينهما (25 V) .

احسب مقدار المجال الكهربائي بين الصفيحتين.



.....
.....
.....
.....

مكثفان سعة الأول ($C_1 = 10 \mu F$) و سعة الثاني ($C_2 = 5.0 \mu F$) ، وصل كل منهما ببطارية فرق جهدها الكهربائي
(6.0 V) ، أي الآتية علاقة صحيحة للشحنة الكلية التي يمكن أن يشحن بها كل من المكثفين ؟

$q_1 = 4q_2$

$q_1 = q_2$

$q_1 = \frac{1}{2}q_2$

$q_1 = 2q_2$

MR: mohamed atef
TEL : 0503136836

