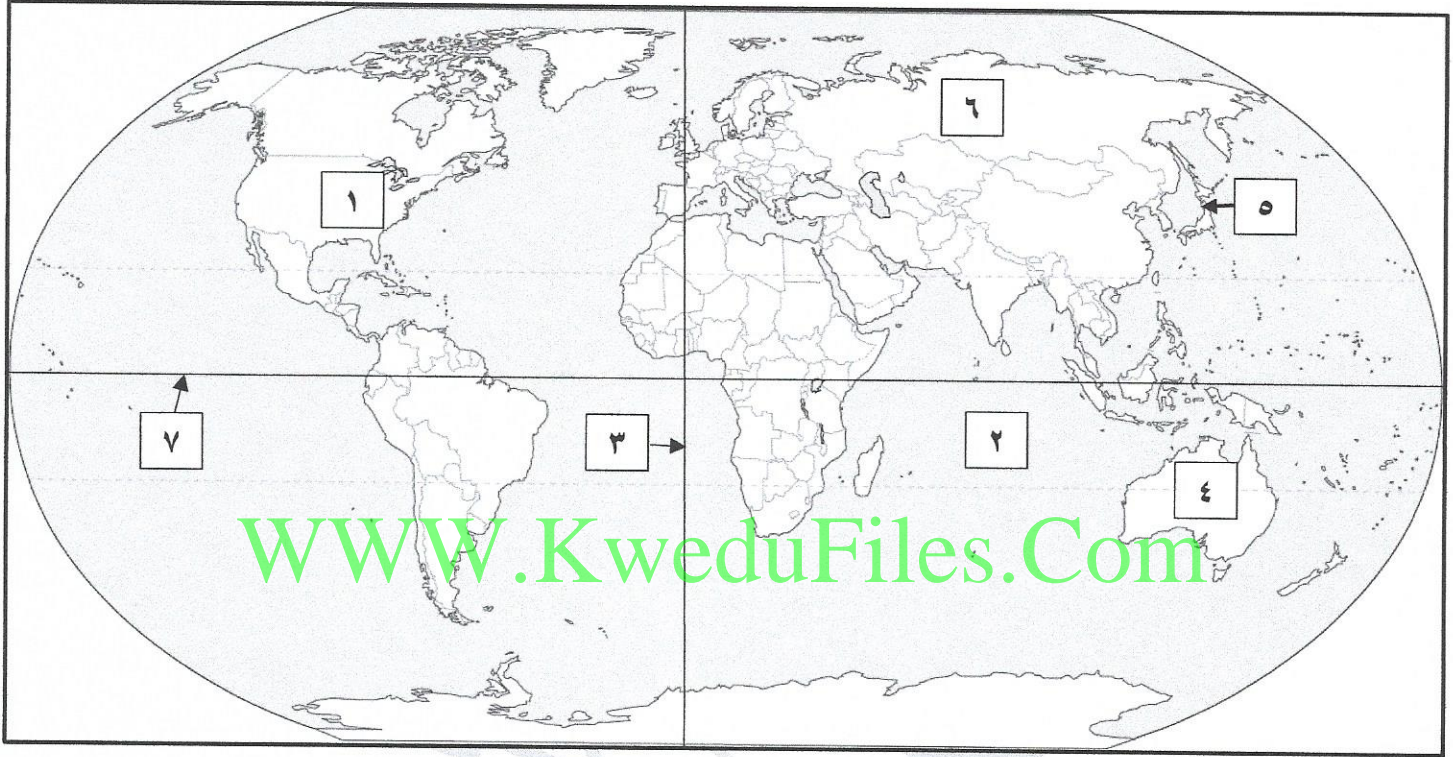


- السؤال الأول: ويتكون من (أ - ب - ج):

أ- أمامك خريطة العالم - أكتب الرقم الدال على العبارات التالية: درجة لكل نقطة $1 \times 5 = 5$ درجات



١- أكبر حاجز مرجاني في العالم يوجد على السواحل الشمالية الشرقية للقارة التي يمثلها على الخريطة الرقم (٤) ص ٨٥

٢- المحيط الهندي يمثله على الخريطة الرقم (٢) ص ٧٩

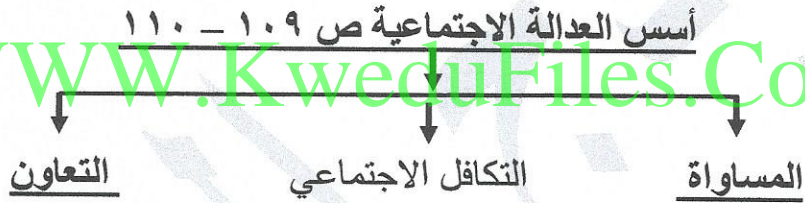
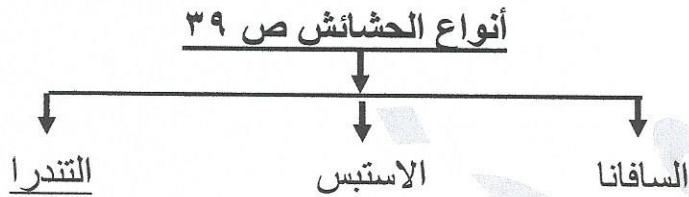
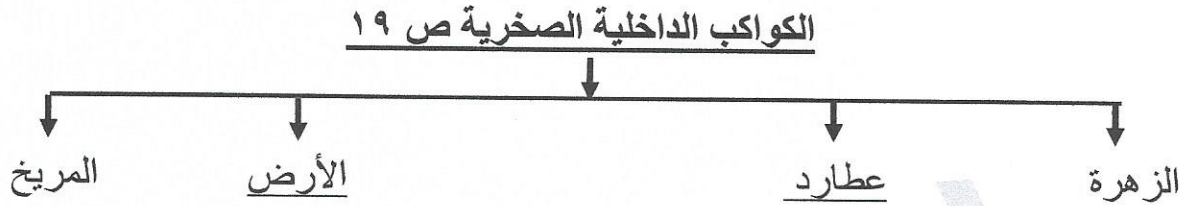
٣- جبال روكي توجد في القارة التي يمثلها على الخريطة الرقم (١) ص ٣٥

٤- الدولة التي تشكل المساحة الجبلية حوالي ٧٣% من المساحة الكلية لها يمثلها على الخريطة الرقم (٥) ص ٩٢

٥- خط الطول الرئيسي جرينتش يمثله على الخريطة الرقم (٣) ص ٢٣

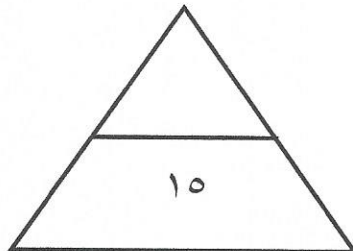
تابع امتحان المنهج الكامل (الكويت و العالم) – للصف التاسع – العام الدراسي ٢٠١٧/٢٠١٨م

ب- أكمل الفراغات في المخططات السهمية التالية: درجة لكل نقطة $٥ \times ١ = ٥$ درجات



ج- أكتب المصطلح الدال على العبارات التالية مما درست: درجة لكل نقطة $٥ \times ١ = ٥$ درجات

- ١- (التلوث البيئي) أي تغير غير مرغوب فيه في الخواص الطبيعية أو الكيميائية أو البيولوجية للبيئة المحيطة والذي قد يتسبب أضرار حياة الإنسان والكائنات الأخرى. ص ٥٩
- ٢- (عصر النهضة) عصر التغيرات الكبيرة في كل ميادين الحياة المادية والفكرية. ص ١١٥
- ٣- (القمر) جرم سماوي معتم صغير يدور حول كوكب أكبر منه. ص ٢١
- ٤- (السبخة) عبارة عن أرض تبخر عنها الماء وبقيت عليها طبقة مالحة. ص ٨٥
- ٥- (التضاريس) الملامح الرئيسية لشكل سطح الأرض. ص ٣٣



تابع امتحان المنهج الكامل (الكويت و العالم) – للصف التاسع – العام الدراسي ٢٠١٧/٢٠١٨ م

- السؤال الثاني: ويتكون من (أ- ب – ج):

أ- أكمل العبارات التالية بما يناسبها مما درست: درجة لكل نقطة ١ × ٥ = ٥ درجات

- ١- العام الذي انضمت فيه الكويت إلى هيئة الأمم المتحدة ١٩٦٣ م. ص ١٤٣
- ٢- الأحوال الجوية وتغيراتها خلال فترة قصيرة يوماً أو يومين أو أسبوعاً تسمى الطقس. ص ٤١
- ٣- تقدم مياه المحيطات والبحار فوق الشاطئ يسمى المد. ص ٣٠
- ٤- الرحالة الذي وصل إلى كلكتا في الهند يسمى فاسكو دي جاما. ص ٨٩
- ٥- زعيم النازية في ألمانيا يسمى هتلر. ص ١٢٢

ب- اختر للمجموعة (أ) ما يرتبط بها من المجموعة (ب) بوضع الرقم المناسب: درجة لكل نقطة ١ × ٥ = ٥ درجات

الرقم	المجموعة (أ)	الرقم المناسب	المجموعة (ب)
١	أضخم صخرة في العالم توجد في دولة. ص ٨٥	٢	الغلاف المائي
٢	جميع أشكال وصور المياه على سطح الأرض وفي باطنها. ص ٣٦	٤	البيئة
٣	زعيم الفاشية في إيطاليا. ص ١٢٢	---	مصر
٤	الإطار الذي يعيش فيه الإنسان ويحصل فيه على مقومات حياته ويتفاعل فيها مع عناصر البيئة الأخرى. ص ٥١	٥	الكويت
٥	يقع مقر المنظمة الإقليمية لحماية البيئة البحرية في دولة. ص ١٤٦	٣	موسوليني
		١	استراليا
		---	لينين

تابع امتحان المنهج الكامل (الكويت و العالم) – للصف التاسع – العام الدراسي ٢٠١٧/٢٠١٨م

ج- ظلل الاختبار الصحيح من بين الخيارات التي تلي كل عبارة: درجة لكل نقطة $1 \times 5 = 5$ درجات

١- الجهاز التنفيذي في هيئة الأمم المتحدة ومن مهامه صون السلام الدولي. ص ١٢٨

- أ- الجمعية العامة ب- مجلس الوصاية ج- مجلس الأمن د- الأمانة العامة

٢- كل ما خلق الله سبحانه وتعالى في الفضاء الشاسع من ملايين المجرات والسدم. ص ١٦

- أ- المجموعة الشمسية ب- النجوم ج- المجرة د- الكون

٣- الدولة التي تحتل المركز الثاني في عدد السكان على مستوى العالم. ص ٩٠

- أ- الصين ب- الهند ج- مصر د- البرازيل

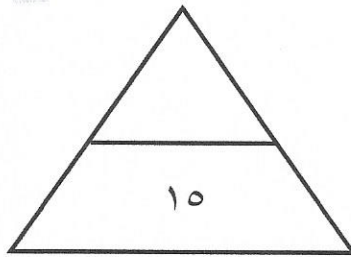
WWW.KweduFiles.Com

٤- أبعد نقطة عن الشمس تصل إليها الأرض في مدارها. ص ٢٧

- أ- اهليلجي ب- الحضيض ج- الأوج د- كسوف الشمس

٥- الأقاليم المناخية الواقعة بين دائرتي عرض ٣٠-٤٠ شمالا وجنوبا. ص ٤٢

- أ- المعتدلة الدفيئة ب- المعتدلة الباردة ج- الحارة د- الباردة



- السؤال الثالث: ويتكون من (أ – ب – ج):

أ- علل ما يلي:

- ١- أهمية الغلاف الجوي حول الكرة الأرضية. ص ٣٧ يكتفى بنقطتين (درجتان)
- يحمي سطح الكرة الأرضية من تساقط بقايا الشهب والنيازك من الفضاء الخارجي.
 - الهواء هو مصدر تكوين السحب والغيوم وهبوب الرياح والأمطار.
 - يعتمد عليه الإنسان والحيوان في عملية التنفس لإحتوائه على الأكسجين.

- ٢- اختلاف الحرف والانشطة الاقتصادية بين الدول. ص ٦٩ يكتفى بنقطتين (درجتان)
- لتنوع الموارد الطبيعية.
 - اختلاف الظروف الحضارية والعلمية والتكنولوجية.

- ٣- للقمر أوجه مختلفة ومنازل متعددة. ص ٢٩ يكتفى بنقطة (درجة)
- بسبب دورته حول الأرض. – مكانته من الأرض ومن الشمس.

WWW.KweduFiles.Com

ب- ما النتائج المترتبة على ما يلي:

- ١- مشكلتي سوء توزيع السكان والنمو السكاني السريع. ص ٨٤ يكتفى بنقطة (درجة)
- انخفاض في مستوى المعيشة. – عجز في الميزان التجاري. – انخفاض في الناتج القومي.

- ٢- مؤتمر الصلح في قصر فرساي بباريس سنة ١٩١٩م. ص ١١٩ يكتفى بنقطتين (درجتان)
- اختفاء أربع امبراطوريات عريقة.
 - فرض غرامة مالية كبيرة على الدول المهزومة.
 - فروض قيود على الجيش الألماني وفقدان المانيا لأجزاء من أراضيها وكافة مستعمراتها.

- ٣- الدورة المحورية للأرض. ص ٢٦ يكتفى بنقطتين (درجتان)
- تعاقب حدوث الليل و النهار.
 - تعاقب الحرارة والبرودة.
 - اخلاف التوقيت بين مناطق الأرض.

ج- أدرس الجدول الذي أمامك ثم أجب عن الأسئلة التي تليه:

القارات	النسبة المئوية للتركيز السكاني
أوقيانوسيا	٠,٥١%
أوروبا	١١,٦٨%
أمريكا الشمالية	٥,١٧%

١- ضع عنوانا مناسباً للجدول. ص ٨٢ ١ درجة

- النسبة المئوية للتركيز السكاني في القارات المتقدمة.

٢- إستخرج حقيقة من الجدول. ص ٨٢ ١ درجة

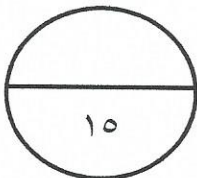
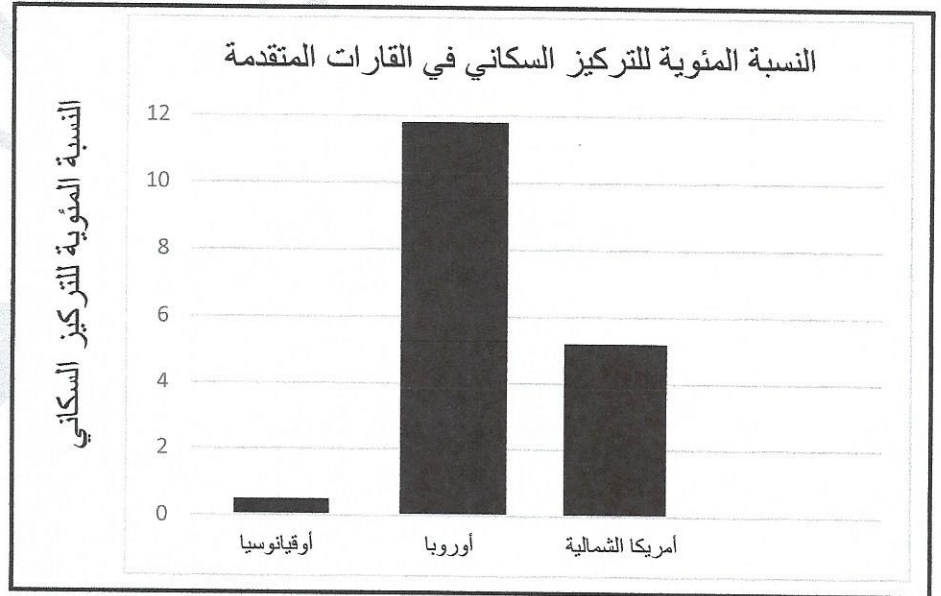
- ما يراه المصحح

٣- ما المقصود بقارة أوقيانوسيا؟ ص ٨٥ ١ درجة

- قارة استراليا والجزر المحيطة بها

٤- حول الجدول إلى أعمدة بيانية. ص ٢ درجتان

WWW.KweduFiles.Com



تابع امتحان المنهج الكامل (الكويت و العالم) – للصف التاسع – العام الدراسي ٢٠١٧/٢٠١٨م

- السؤال الرابع: ويتكون من (أ – ب – ج):

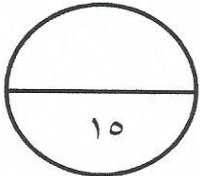
أ- أكتب فيما يلي:

- ١- العوامل الاقتصادية المؤثرة في توزيع السكان في العالم. ص ٨٣ يكتفى بنقطتين (درجتان)
 - الرعي - الصناعة - التجارة - الزراعة
 - ٢- مقومات قيام الصناعة. ص ٧١ يكتفى بنقطتين (درجتان)
 - توفر المواد الأولية للصناعة. - توفر الطاقة اللازمة لتحريك الآلات والمعدات الصناعية.
 - وفرة الأيدي العاملة الفنية المدربة. - وجود سوق لتسويق المنتجات الصناعية.
 - توفر رأس المال. - وسائل النقل.
 - ٣- أسباب تلوث الماء. ص ٦٣ يكتفى بنقطتين (درجتان)
 - مخلفات ناقلات النفط والسفن التجارية. - المجاري الصحية غير المعالجة.
 - مخلفات المصانع الصلبة والسائلة التي تلقى بالمسطحات المائية.
- ب- فرق بين كلا مما يلي:

درجة	مجموعة المستهلكات ص ٥٧	درجة	مجموعة المنتجات ص ٥٧
درجة	هي مجموعة العناصر الحية المستهلكة والتي تعتمد في غذائها على غيرها من الكائنات الحية (الإنسان والحيوانات).	درجة	هي مجموعة العناصر الحية المنتجة النباتية وسميت بالمنتجات لأنها تصنع غذائها بنفسها من المجموعة الأساسية.
درجة	معدل النمو غير الطبيعي ص ٨٣	درجة	معدل النمو الطبيعي ص ٨٣
درجة	زيادة عدد السكان عن طريق الهجرة	درجة	معدل المواليد - معدل الوفيات

ج- عرف ما يلي: درجة لكل نقطة ١ × ٥ = ٥ درجات

- ١- مفهوم الطاقة: هي القوى المحركة اللازمة لإدارة الآلات. ص ١٢٨
- ٢- الأقاليم المناخية: تجانس العناصر المناخية في نطاقات محدد من الأرض. ص ٤١
- ٣- الأسطول: مجموعة من السفن. ص ٩٤
- ٤- السيلال: وهي الصخور القليلة الكثافة وتتألف منها صخور اليابس. ص ٣٣
- ٥- الإنتاج: هو كل نشاط يؤدي إلى منفعة أو يسد حاجة لدى الإنسان ويجعله أحسن حالاً. ص ١٠٦



انتهت الأسئلة مع تمنياتنا لكم بالتوفيق ،،