

مدرسة ابن تيمية م للبنين

مراجعة اجتماعيات للصف السادس (الفصل الثاني) عام ٢٠١٧م

أكمل الفراغات في الجمل التالية بما يناسبها :-

- ١- الدولة الخليجية التي لها تجربة رائدة في إنتاج القمح اسمها السعودية
- ٢- للمملكة العربية السعودية تجربة رائدة في إنتاج محصول اسمه القمح
- ٣- المنطقة الصناعية التي تشتهر بصناعة النحاس في سلطنة عمان تسمى صحار
- ٤- تشتهر منطقة صحار الصناعية في سلطنة عمان بصناعة معدن اسمه النحاس
- ٥- يطلق على عملية إعادة تصدير البضائع المستوردة اسم الترانزيت
- ٦- تعتبر شبه الجزيرة العربية ملتقى الهجرات الخارجية القادمة من آسيا وإفريقيا وأوروبا
- ٧- مجموعة من الناس تشترك فيما بينها في الصفات الجسمانية تسمى السلالة
- ٨- أعلى دولة خليجية في نسبة المواطنين عام ٢٠٠٦م اسمها السعودية
- ٤- أقل دولة خليجية في نسبة المواطنين عام ٢٠٠٦م اسمها الإمارات
- ٥- أعلى دولة خليجية في نسبة الوافدين عام ٢٠٠٦م اسمها الإمارات
- ٦- أقل دولة خليجية في نسبة الوافدين عام ٢٠٠٦م اسمها السعودية
- ٧- الدولة العربية الخليجية التي تحتل المركز الأول في عدد السكان اسمها السعودية
- ٨- الدولة العربية الخليجية التي تحتل المركز السادس في عدد السكان اسمها البحرين
- ٩- أكثر دولة خليجية في الكثافة السكانية اسمها البحرين
- ١٠- أقل دولة خليجية في الكثافة السكانية اسمها سلطنة عمان
- ١١- أصغر دول الخليج العربية من حيث المساحة تسمى البحرين
- ١٢- أكبر دول الخليج العربية من حيث المساحة تسمى السعودية
- ١٣- عدد السكان في الكيلومتر المربع يسمى الكثافة السكانية
- ١٤- الزيادة السكانية الناتجة عن الهجرة تسمى الزيادة غير الطبيعية
- ١٥- عدد المواليد - عدد الوفيات = الزيادة الطبيعية
- ١٦- الأمن والأمان + ارتفاع الأجور + توفر فرص عمل = أسباب زيادة الهجرة
- ١٧- الكثافة السكانية = $\frac{\text{عدد السكان}}{\text{مساحة الدولة}}$
- ١٨- مقر مكتب التربية العربي مدينة تسمى الرياض
- ١٩- الإعلان عن إنشاء السوق الخليجية المشتركة في مدينة تسمى الدوحة
- ٢٠- مقر قوات درع الجزيرة دولة تسمى السعودية
- ٢١- الدرع الواقى للأحياء ضد خطر الأشعة فوق البنفسجية الضارة يسمى الاوزون.

٢١- إحداث إفساد لنوعية المياه من خلال إدخال مواد ضارة للمياه يسمى التلوث البحري

٢٢- مجموعة من الأفراد الذين يشاركون الأسرة في دور أو أكثر داخل المنزل أو خارجه تسمى العمالة المنزلية

٢٣- السلوك العدواني التدميري الموجه ضد الغير ويتسم بالتخريب والتدمير سواء كان أقوالاً أو أفعالاً يسمى العنف

٢٤- أعلى نسبة طلاق في دول الخليج العربية عام ٢٠٠٦ م تسمى السعودية

٢٥- أقل نسبة طلاق في دول الخليج العربية عام ٢٠٠٦ م تسمى البحرين

٢٦- اللغة + العادات والتقاليد + التاريخ المشترك = أسباب التشابه الثقافي

٢٧- حدث الغزو العراقي على دولة الكويت في يوم ٢ أغسطس عام ١٩٩٠ م

اختر الإجابة الصحيحة من بين البدائل التالية ثم ضع خطأ تحتها:

١- بدأ التنقيب عن النفط بدولة الكويت عام

(١٩٣٢ م - ١٩٣٣ م - ١٩٣٤ م - ١٩٣٥ م)

٢- تم تصدير أول شحنة من النفط الكويتي عام

(١٩٤٣ م - ١٩٤٤ م - ١٩٤٥ م - ١٩٤٦ م)

٣- تم إنشاء قوات درع الجزيرة في العام الميلادي

(١٩٨٢ - ١٩٨٣ - ١٩٨٤ - ١٩٨٥)

٤- تم اكتشاف أول بئر نفطي بدولة الكويت عام ١٩٣٤ م في حقل

(بحرة - برقان - الروضتين - مناقيش)

٥- صدر إعلان الدوحة بإنشاء السوق الخليجية المشتركة عام

(٢٠٠٦ م - ٢٠٠٧ م - ٢٠٠٨ م - ٢٠٠٩ م)

٦- أنشأ مجلس التعاون الخليجي قوات درع الجزيرة عام

(١٩٨٣ م - ١٩٨٤ م - ١٩٨٥ م - ١٩٨٦ م)

٧- أسباب التلوث الضوضائي :

(الآلات الكهربائية - أول أكسيد الكربون - الإشعاع النووي - مياه الصرف)

٨- أسباب التلوث البحري

(الآلات الكهربائية - أعمال النجارة - أجهزة التسجيل - مياه الصرف)

٩- أسباب التلوث الهوائي

(مياه الصرف - الأكسجين - حرق الغابات - أجهزة التسجيل)

ضع علامة (√) أمام العبارة الصحيحة وعلامة (×) أمام العبارة الخاطئة فيما يلي :-

- (×) - ذكرت آثار دلمون في سلطنة عمان
- (√) - أصول السلالات في الخليج العربي تنتمي إلى البحر المتوسط وشرق إفريقيا
- (×) - استقبل حوض الخليج العربي هجرات خارجية من آسيا وأوروبا فقط
- (√) - الكثافة السكانية منخفضة في منطقة الخليج العربية
- (√) - القرقيعان من العادات والتقاليد الخليجية المتوارثة
- (×) - يختلف سكان دول الخليج العربية اختلافاً كبيراً
- (X) - شملت التغيرات في المجتمعات الخليجية الجوانب الاجتماعية فقط
- (√) - تأثرت القيم المتعلقة بالأسرة والعادات والتقاليد بالتغيرات الاجتماعية
- (√) - نتجت المشكلات الاجتماعية في دول الخليج بسبب ظهور أنواع اجتماعية جديدة بعد ظهور النفط

صنف حقول النفط حسب الجدول التالي:

((برقان - الغوار - دخان - عوالي - مربان - ناطح))

السعودية	الكويت	البحرين	قطر	الإمارات	عمان
الغوار	برقان	عوالي	دخان	مربان	ناطح

صنف موانئ النفط حسب الجدول التالي:

((الأحمدي - رأس تنورة - جبل الظنة - الفحل - سترة - اميسعيد))

السعودية	الكويت	البحرين	قطر	الإمارات	عمان
رأس تنورة	الاحمدي	سترة	اميسعيد	جبل الظنة	الفحل

صنف المناطق الزراعية التالية حسب موقعها في الجدول:

((العبدلي - سهل تهامة - سهل الباطنة - الإحساء - العين - الطائف - صلالة - الوفرة - ليوا))

عمان	الإمارات	السعودية	الكويت
سهل الباطنة	العين	سهل تهامة	العبدلي
صلالة	ليوا	الطائف	الوفرة
		الإحساء	

صنف المناطق الصناعية بدول الخليج العربية حسب الجدول التالي :-

((اميسعيد - الجبيل - شمال سترة - جبل علي - الفحل - الشعبية - الرويس - صحار - ينبع - الرياض))

السعودية	الكويت	الإمارات	البحرين	عمان	قطر
الجبيل	الشعبية	جبل علي	شمال سترة	صحار	اميسعيد
ينبع- الرياض		الرويس		الفحل	

أكمل الجدول التالي :-

السبب	اكتشاف النفط وتصديره في دول الخليج
النتيجة	ازدهار الاقتصاد الخليجي

صنف السلع والبضائع التالية حسب الجدول :-

(النفط - الآلات والأجهزة الكهربائية - الملابس والمنسوجات - البتروكيماويات)

واردات دول الخليج العربية	صادرات دول الخليج العربية
الآلات والأجهزة الكهربائية	النفط
الملابس والمنسوجات	البتروكيماويات

صنف الحضارات التالية حسب موقعها الصحيح في الجدول:

((تاروت - ودبا - أم النار - هيلي - دلمون))

البحرين	الإمارات	قطر	عمان	السعودية
دلمون	هيلي	أم النار	دبا	تاروت

صنف مجالات التعاون بين دول مجلس التعاون الخليجي حسب الجدول التالي:

(المناورات العسكرية المختلفة - زيادة التبادل التجاري - توحيد الموقف السياسي الخليجي تجاه العدوان العراقي على الكويت - توحيد المناهج التعليمية - صدور إعلان الدوحة بإنشاء السوق الخليجية المشتركة - مناصرة القضايا العادلة مثل قضية فلسطين - إنشاء قوة مشتركة لدول مجلس التعاون الخليجي - قبول أبناء دول مجلس التعاون في الكليات العسكرية - إنشاء مكتب التربية العربي - المشاركة الفعلية في حرب تحرير الكويت - اجتماع وزراء التربية لدول الخليج كل عامين)

تعاون ثقافي	تعاون اقتصادي	تعاون عسكري	تعاون سياسي
- توحيد المناهج التعليمية - إنشاء مكتب التربية العربي - اجتماع وزراء التربية لدول الخليج كل عامين	- زيادة التبادل التجاري - صدور إعلان الدوحة بإنشاء السوق الخليجية المشتركة	- المناورات العسكرية المختلفة - إنشاء قوة مشتركة - قبول أبناء دول مجلس التعاون في الكليات العسكرية - المشاركة الفعلية في حرب تحرير الكويت	- توحيد الموقف السياسي الخليجي تجاه العدوان العراقي على الكويت - مناصرة القضايا العادلة مثل قضية فلسطين

صنف أسباب العنف التالية حسب مكانها الصحيح في الجدول التالي:

((عدم الرغبة في مواصلة الدراسة- عدم وعي الأسرة بأهمية التعليم والتربية- التربية الخاطئة للطفل - نقص وسائل الرعاية الاجتماعية - التوتر والحرمان العاطفي والقلق والشعور بالإحباط - وقت الفراغ وأصحاب السوء))

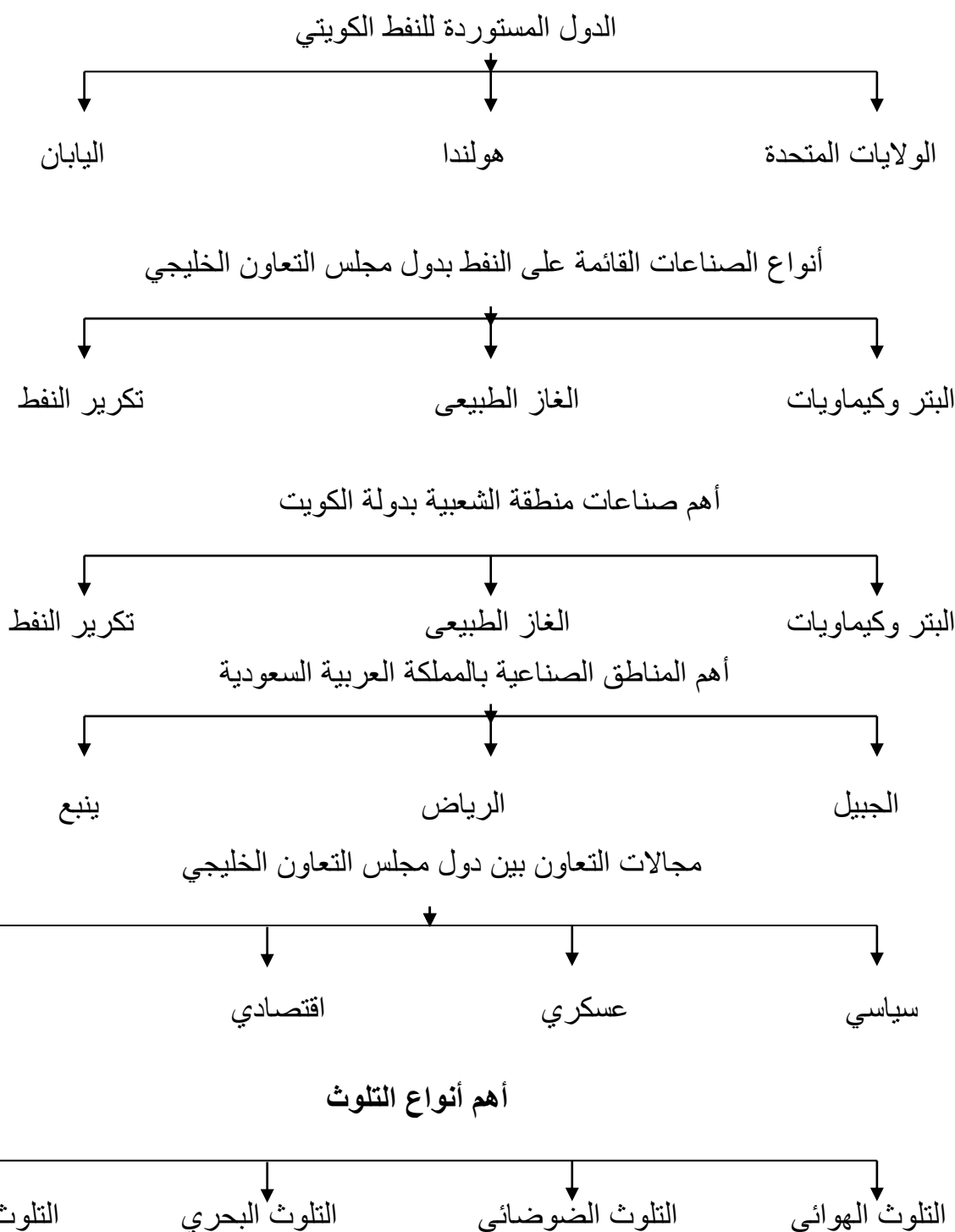
أسباب بيئية عامة	أسباب نفسية	أسباب أسرية
نقص وسائل الرعاية الاجتماعية وقت الفراغ واصحاب السوء	عدم الرغبة في مواصلة الدراسة التوتر والحرمان العاطفي	عدم وعي الاسرة بأهمية التعليم التربية الخطأ

صنف مصادر التلوث التالية حسب مكانها الصحيح في الجدول:

(السيارات والطائرات - البراكين - الصناعة - العواصف الترابية - حرق النفايات - المبيدات الحشرية)

مصادر طبيعية لتلوث الهواء	مصادر غير طبيعية لتلوث الهواء
البراكين	السيارات والطائرات - الصناعة
العواصف الترابية	- حرق النفايات - المبيدات الحشرية

أكمل المخططات السهمية التالية:



وظائف العمالة المنزلية

طباخ سائق مربية حارس خادمة

اكتب نوع التعاون الذي تمثله الصور التالية :



(تعاون عسكري) (تعاون اقتصادي) (تعاون سياسي) (تعاون ثقافي)

اكتب المصطلح المناسب أمام العبارات التالية :-

- ١- (الزراعة بدون تربة) الزراعة التي تتم في بيئة مائية أو رملية مضافاً إليها محاليل غذائية
 - ٢- (البيوت البلاستيكية) هي التي يزرع فيها الخضر في غير مواسمها لحمايتها من تقلبات الطقس
- عرف المفاهيم والمصطلحات التالية :

- ١- النمو السكاني : التغير الذي يحدث لعدد السكان نتيجة للزيادة الطبيعية والزيادة غير الطبيعية
- ٢- الصناعة : تحويل المواد الخام إلى مواد مصنعة
- ٣- الدخل القومي : مجموع الدخول التي تحصل عليها الدولة خلال عام
- ٤- دول الخليج العربية : مجموعة متشابهة من السكان أصلهم واحد ودينهم الإسلام وعاداتهم متشابهة
- ٥- الترانزيت : عملية إعادة تصدير البضائع المستوردة
- ٦- السلالة : مجموعة من الناس تشترك فيما بينها في الصفات الجسمانية
- ٧- الثقافة : مجموعة من العادات والتقاليد والقيم في مجتمع من المجتمعات
- ٨- التلوث : الضرر الذي يصيب عناصر البيئة الأساسية (هواء - ماء - تربة)
- ٩- التلوث الأرضي (التربة) دخول مواد غريبة في التربة وتضر بخواصها
- ١٠- التلوث الهوائي : - ضرر يصيب الهواء
- ١١- طبقة الأوزون : - درع واقٍ للأحياء من الأشعة فوق البنفسجية
- ١٢- التلوث المائي- ضرر يصيب المياه
- ١٣- العمالة المنزلية: الأفراد الذين يشاركون الأسرة في دور أو أكثر داخل المنزل أو خارجه
- ١٤- العنف : السلوك العدوانى التدميري الموجه ضد الغير ويتسم بالتخريب والتدمير سواء كان أقوالاً أو أفعالاً

فرق بين التلوث الأرضي و التلوث المائي.

التلوث المائي	التلوث الأرضي (التربة)
إفساد نوعية المياه بدخول مواد ضارة فيها	دخول مواد غريبة في التربة تضر بخواصها

فرق بين مفهومي الصادرات والواردات .

الواردات	الصادرات
السلع التي تشتريها الدولة من الخارج	السلع التي تبيعها الدولة إلى الخارج

فرق بين الزيادة الطبيعية والزيادة الغير طبيعية.

الزيادة الغير طبيعية	الزيادة الطبيعية
زيادة السكان عن طريق الهجرة	عدد المواليد – عدد الوفيات

فرق بين إنتاج النفط واحتياطي النفط :

احتياطي النفط	إنتاج النفط
كميات النفط المخزونة في باطن الأرض	كميات النفط المستخرجة من باطن الأرض

علل لما يأتي :

- انتعاش الموانئ التجارية في دول الخليج العربية .
- بسبب العلاقات التجارية لدول مجلس التعاون مع دول العالم
- زراعة الخضر في غير مواسمها في بيوت بلاستيكية
- لحمايتها من تقلبات الطقس
- استقرار السكان في أطراف شبه الجزيرة العربية وحوض الخليج العربي ؟
- نتيجة للظروف الطبيعية القاسية
- استقبال حوض الخليج العربي موجات سكانية من كل المناطق المجاورة ؟
- بسبب الموقع الجغرافي المهم بين قارات العالم القديم
- عدد السكان في دولة الكويت ودول الخليج العربية في تزايد مستمر ؟
- بسبب الزيادة الطبيعية والزيادة غير الطبيعية
- انخفاض الكثافة السكانية في منطقة الخليج العربية ؟
- لأنه ظلت إقليم صحراوي فترة طويلة
- ازدهار صناعة النفط وتسويقه في دول الخليج العربية ؟
- بسبب الموقع الجغرافي

- توسع دول الخليج في صناعة تكرير النفط

لزيادة الدخل

- تشابه الآثار الحضارية بين سكان حوض الخليج العربي

بسبب اتصالهم وتقاربهم

- تشابه الثقافة بين سكان دول الخليج العربية

بسبب ١- وحدة الأصل ٢- العادات والتقاليد ٣- التاريخ المشترك ٤- الدين واللغة

- أنشأ مجلس التعاون الخليجي قوات درع الجزيرة

لحماية الدول الاعضاء

أجب عن الأسئلة التالية: -

- ما أسباب إقامة العديد من المواني النفطية في دول الخليج العربية ؟

أ- بسبب تزايد الإنتاج النفطي ب- تزايد الطلب العالمي على النفط الخليجي

- عدد أنواع المحاصيل الزراعية في دول مجلس التعاون الخليجي .

١- القمح ٢- الطماطم ٣- الخيار

- ما النتائج التي ترتبت على قيام دول الخليج العربية بتجارة الترانزيت؟

انتعاش المواني التجارية في دول الخليج العربية

- ما أنواع الهجرات التي تعرضت لها شبه الجزيرة العربية ؟

أ- هجرات خارجية (من آسيا وإفريقيا وأوروبا)

ب- هجرات داخلية (إلى أطراف شبه الجزيرة وحوض الخليج العربي)

- ما أسباب زيادة هجرة السكان إلى دول الخليج العربية

أ- الأمن والأمان . ب- ارتفاع الأجور . ج- توفر فرص العمل .

- ما أهم الروابط التي تربط بين سكان دول الخليج العربية؟

١- وحدة الأصل ٢- العادات والتقاليد ٣- التاريخ المشترك ٤- الدين واللغة

- ما أهم العادات والتقاليد الخليجية المتوارثة؟

١- الأعراس ٢- الاحتفال بالأعياد ٣- المناسبات الوطنية ٤- الزي

- ما أهم مجالات التعاون بين دول مجلس التعاون الخليجي؟

أ-التعاون السياسي ب-التعاون العسكري ج- التعاون الاقتصادي د- التعاون الثقافي

- ما أهم مظاهر التعاون بين دول الخليج العربية في المجال السياسي؟

أ-المواقف الموحدة تجاه القضايا الدولية ب- مناصرة القضايا العادلة مثل قضية فلسطين

- ما أهم مظاهر التعاون بين دول الخليج العربية في المجال العسكري؟

أ-المناورات العسكرية ب- إنشاء قوة مشتركة

لاحظ الجدول ثم أجب عما يلي: -

الدولة	المساحة ١٠٠٠ كم ^٢	عدد السكان (١٠٠٠ نسمة)	الكثافة السكانية	معدل النمو السكاني %
الكويت	١٨,٠٠٠	٢,٤١٨,٣٩٣	١٣٤	٣,٣٨
السعودية	٢,٢٤٠,٠٠٠	٢٧,٠١٩,٧٣١	١٢	٣,٢٧
البحرين	٠,٧٠٧	٦٩٨,٥٨٥	٩٨٨	١,٧٣
قطر	١١,٤٢٧	١,٠٤١,٧٣٣	؟؟؟	٣,١٨
الإمارات	٨٣,٦٠٠	٥,٦٣١,١٣٥	٦٧	١,٥٩
عمان	٣٠٩,٥٠٠	٢,٦٢٢,١٩٨	٨	٣,٤٣

١- رتب تنازلياً دول الخليج العربية من حيث عدد السكان .

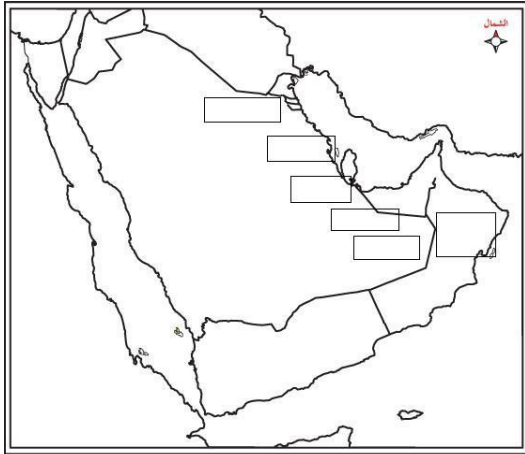
١- السعودية ٢- الإمارات ٣- عمان ٤- الكويت ٥- قطر ٦- البحرين

٢- أكثر دول الخليج العربية في الكثافة السكانية تسمى البحرين

٣- أقل دول الخليج العربية في الكثافة السكانية تسمى عمان

٤- أعلى معدل نمو سكاني في دول الخليج العربية يوجد في دولة اسمها عمان

وزع الجماعات التي في الجدول حسب أماكن استقرارها على خريطة شبه الجزيرة العربية



مكان الاستقرار	الجماعة
رأس الخيمة	القواسم
أبو ظبي	بني ياس
عمان	البوسعيد واليعاربة
قطر	المعاضيد
البحرين	آل خليفة
الكويت	آل الصباح

- ما أهم مظاهر التعاون بين دول الخليج العربية في المجال الاقتصادي؟

أ- السوق الخليجية المشتركة ب- زيادة التبادل التجاري .

- ما أهم مظاهر التعاون بين دول الخليج العربية في المجال الثقافي؟

أ- توحيد المناهج التعليمية ب- إنشاء مكتب التربية العربي.

- ما أهم التحديات التي تواجه دول الخليج العربية؟

أ- الأخطار الداخلية والخارجية ب- الاعتماد على المواد النفطية فقط

ج- الامن الغذائي والتلوث البيئي وندرة المياه الجوفية د- الغزو الثقافي

- اقترح حلولاً لمواجهة الأخطار الداخلية والخارجية التي تواجه دول الخليج العربية .

أ- إقامة نظام دفاعي قوي ب- التنمية الاقتصادية ج- تعزيز المواطنة

- اقترح حلولاً لمواجهة الاعتماد على المواد النفطية فقط التي تواجه دول الخليج العربية .

أ- التوسع في مجال الاستثمار ٢- تطوير الصناعة ٣- تطوير السياحة

- اقترح حلولاً لمواجهة الغزو الثقافي التي تواجه دول الخليج العربية .

أ- الاهتمام باللغة العربية . ب- تعزيز القيم الإسلامية

- اقترح حلولاً لمواجهة مشكلات الامن الغذائي والتلوث البيئي وندرة المياه الجوفية التي تواجه دول الخليج العربية

أ- الاهتمام بالزراعة ب- الاعتماد على الطاقة النظيفة ج- الري الحديث د- ترشيد الاستهلاك

- ما الآثار الناتجة عن التلوث الأرضي ؟

أ- ضعف قدرة التربة على الانتاج الزراعي ب- تلوث الانتاج الزراعي

- اذكر بعض المشكلات الناتجة عن الاستعانة بالعمالة المنزلية.

أ- التأثير بثقافات مختلفة ب- السلوكيات الخاطئة

- ما أهم أشكال العنف؟ أ- تحطيم المرافق ب- الاعتداء على الآخرين

المشكلة	التلوث الضوضائي	التلوث الهوائي	التلوث البحري
أسبابها	١- أعمال النجارة ٢- الآلات الكهربائية ٣- أجهزة التسجيل .	١- العواصف الترابية ٢- دخان السيارات والبراكين ٣- الإشعاعات النووية	١- مخلفات المصانع ٢- النفط ومشتقاته ٣- مياه الصرف الصحي . ٤- مياه الصرف الزراعي ٥- الأمطار الحمضية ٦- النفايات الخطرة

اقرأ الفقرة التالية ثم أجب عن الأسئلة التي تليها:

((لم يقتصر العدوان العراقي على البلاد عسكرياً بل امتد تأثيره التدميري على البيئة الكويتية البرية والبحرية والهوائية فقد لجأ إلى تفجير وإحراق معظم الآبار النفطية الكويتية (٧٣٧) بئراً كما لجأ لضخ النفط في مياه البحر وقد أحدثت هذه البحيرات تلوثاً للتربة وتدميراً للحياة الفطرية كما أن إشعال الآبار سبب كميات كبيرة من الدخان محدثاً تلوثاً هوائياً هائلاً وتساقط الرذاذ النفطي على التربة محدثاً تلوثاً أرضياً بالإضافة إلى الآثار الخطرة على صحة الإنسان))


١- ضع عنواناً للفقرة (اثار العدوان العراقي على البيئة)

٢- كم عدد الآبار النفطية التي حرقها النظام العراقي؟ (٧٣٧)

٣- عدد مظاهر التلوث الناجمة عن الغزو العراقي لدولة الكويت

أ- تلوث مياه الخليج ب- تلوث الهواء ج- تلوث التربة .

سجل تعليقاً مناسباً لهذه الصور:




(تحمل المسؤولية)

(سلوك خطأ)

(سلوك عدواني)

(سلوك خطأ)

اكتب نوع المشكلات الاجتماعية في الصور التالية:



(مشكلة العنف)

(مشكلة الادمان)

(مشكلة الطلاق)

اقرأ الفقرة التالية ثم أجب عن الأسئلة التي تليها:

((يرى العلماء أن العنف مرضاً اجتماعياً أكثر منه جريمة فهو عادة متعلمة تزيد كلما مارس الإنسان مزيداً من العنف وهذا إنذار للمجتمع ويرى العلماء أن الإنسان بطبعه ليس عدوانياً إنما يتفجر العنف بداخله كلما تعرض للإحباط ويتكون العنف نتيجة تربية الوالدين للطفل لتربية خطأ بمعنى أن الإنسان يتكون عنده السلوك العدواني من أسرته أو مجتمعه))

١- صحح ما تحته خط :

٢- العنف ظاهرة موروثية (مكتسبة)

٣- ما العلاقة بين كلمة عنف وإحباط في الفقرة السابقة؟

العنف نتيجة للإحباط

ب- التربية الخطأ

أ- الإحباط

٤- اذكر أسباب العنف

٥- أكمل المعادلة : تربية الطفل تربية خطأ + الإحباط = العنف

اقرأ الفقرة التالية ثم أجب عن الأسئلة التي تليها:

((تسعى دول الخليج العربية للتقليل من المشاكل الاجتماعية وإيجاد حلول لها من خلال عقد ندوات ومؤتمرات خليجية حيث تبذل جهوداً واضحة لدراسة هذه المشكلات ومعالجة أسبابها من خلال المؤسسات الاجتماعية مثل هيئة الشباب والرياضة - دار القرآن - الأندية الصيفية - الرحلات - وغيرها))

- ما أهم جهود دول الخليج العربية للتقليل من المشاكل الاجتماعية ؟

أ- عقد الندوات

ب- المؤتمرات الخليجية

- ما أهم المؤسسات الاجتماعية التي تسهم بحل المشكلات في دول الخليج العربية؟

أ- هيئة الشباب والرياضة

ب- دار القرآن .

- ما أسباب مشكلة العنف ؟

١- أسباب اسرية

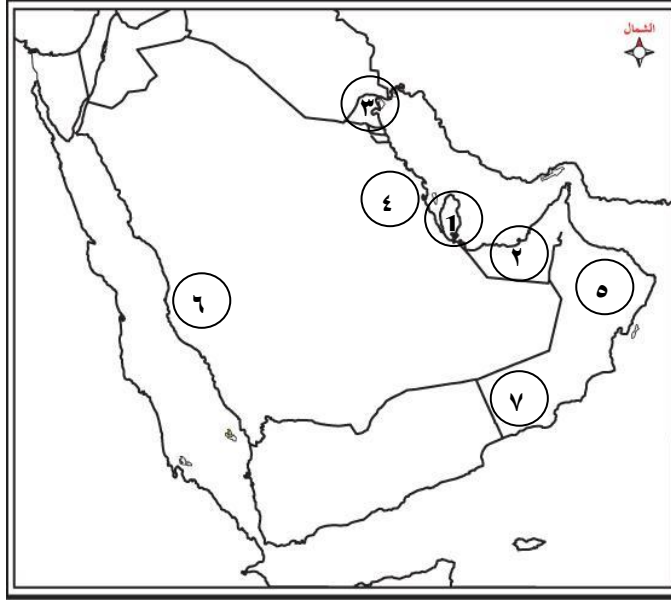
٢- أسباب نفسية

٣- أسباب بيئية عامة

قارن بين مشكلة العمالة المنزلية و مشكلة العنف حسب الجدول التالي:

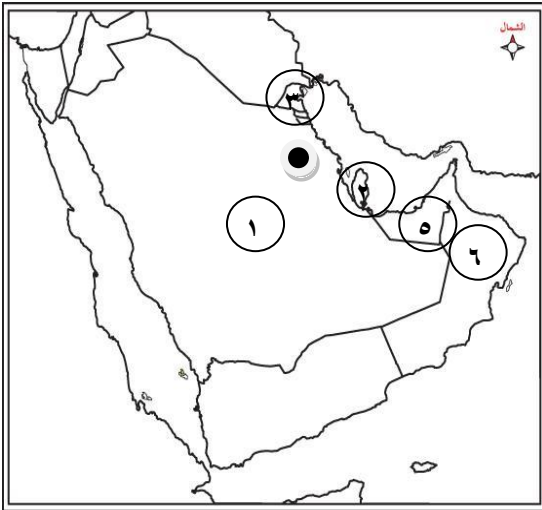
مشكلة العنف	مشكلة العمالة المنزلية	المشكلة الاجتماعية
١- الاهتمام بالقرآن	١- الاهتمام بالقرآن	الطول وطرق العلاج
٢- القدوة الحسنة	٢- تحمل المسؤولية	
٣- القراءة والمطالعة	٣- قصر مهمة الخادم على عمله المنزلي	

لاحظ خريطة مجلس التعاون لدول الخليج العربية ثم أجب عما يلي:



- ١- منطقة صلالة الزراعية يمثلها على الخريطة الرقم (٧)
- ٢- منطقة سهل الباطنة الزراعية يمثلها على الخريطة الرقم (٥)
- ٣- منطقة سهل تهامة الزراعية يمثلها على الخريطة الرقم (٦)
- ٤- منطقة الإحساء الزراعية يمثلها على الخريطة الرقم (٤)
- ٥- منطقة العبدلي الزراعية يمثلها على الخريطة الرقم (٣)
- ٦- هاجر المعاضيد إلى دولة خليجية يمثلها على الخريطة الرقم (١)
- ٧- قامت حضارة هيلي في دولة خليجية يمثلها على الخريطة الرقم (٢)

لاحظ خريطة مجلس التعاون لدول الخليج العربية ثم أجب عما يلي:



- * هاجر آل البوسعيد والعياربة الى دولة خليجية رقمها (٦)
- * هاجر المعاضيد الى دولة خليجية رقمها (٢)
- * منطقة الوفرة توجد في دولة خليجية رقمها (٣)
- * منطقة العين توجد في دولة خليجية رقمها (٥)
- * أكثر دول مجلس التعاون الخليجي سكاناً رقمها (١)
- * ارسم على الخريطة حقل الغوار النفطي مستخدماً الرمز ●