

تدريبات على اسئلة الاختبار الصف السادس

س : أكمل الجمل التالية بما يناسبها من كلمات:

- 1- الدولة الخليجية الأولى من حيث الكثافة السكانية دولة تسمى
- 2- أولى حقول النفط الكويتية اكتشافا حقل يسمى.....
- 3- بداية التنقيب عن النفط في دوله الكويت كانت عام.....م
- 4- تتركز صناعة النحاس بسلطنة عمان في منطقة تسمى
- 5- أكثر دول العالم من حيث عدد السكان دولة تسمى

س : اختر الإجابة الصحيحة من بين البدائل التالية بوضع خط تحتها:

- 1- اقل دولة في العالم من حيث عدد السكان هي :
أ.(الهند) ب.(منغوليا) ج.(الفاتيكان) د.(موناكو)
- 2- أول شحنة نفط تم تصديرها في دولة الكويت عام :
أ.(1944) ب.(1946) ج.(1942) د.(1940)
- 3- نجحت المملكة العربية السعودية في إنتاج محصول :
أ.(الأرز) ب.(الذرة) ج.(القطن) د.(القمح)
- 4- هاجر اليعاربة إلى دولة خليجية تسمى :
أ.(قطر) ب.(الكويت) ج.(عمان) د.(البحرين)

5- أكثر دوله خليجيه من حيث عدد السكان :

ا.(الإمارات) ب.(السعودية) ج.(البحرين) د.(قطر)

س : صحح الكلمة الخاطئة التي تحتها خط واكتب الإجابة الصحيحة بين القوسين:

1. السلع والمنتجات التي تبيعها الدولة للخارج هي الواردات . ()
2. أكثر دولة خليجية من حيث نسبة الوافدين هي دولة الكويت . ()
3. مجموع إيرادات الدولة خلال عام من مختلف المصادر تسمى التجارة . ()
4. توجد الآثار التاريخية لحضارة هيلي في دولة قطر . ()
5. اقل دول الخليج العربي من حيث الكثافة السكانية هي البحرين . ()
6. بداية التنقيب عن النفط في دولة الكويت كانت عام 1932م . ()

س : عرف المفاهيم التالية :

1- الصناعة :

2- السلالة :

3- الزراعة بدون تربة :

4- البيوت البلاستيكية

5- الترانزيت:.....

6- الصناعة:.....

7- الثقافة.....

س : علل لما يلي (اذكر السبب) :

1. زيادة أعداد السكان في منطقة الخليج العربية.

*

2. ظهور الحاجة إلي إقامة العديد من الموانئ النفطية في دول الخليج العربية.

*

3. تسميه سكان دول الخليج العربية باسم خليجين بدلا من لفظ اسم الدولة .

*

4. انتعاش الموانئ التجارية بدول الخليج العربية .

*

5. خروج الهجرات من قلب شبه الجزيرة العربية إلي ساحل الخليج العربي .

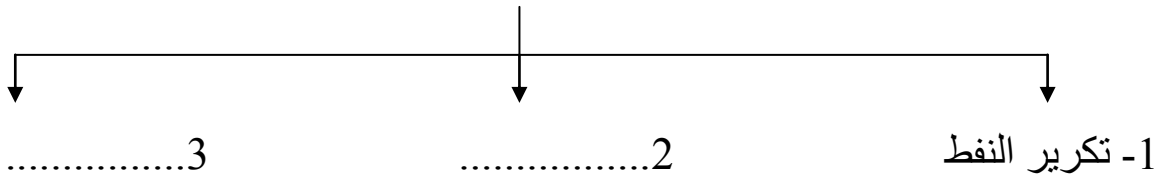
*

6. ازدياد الهجرة إلي دول الخليج العربية في السنوات الأخيرة .

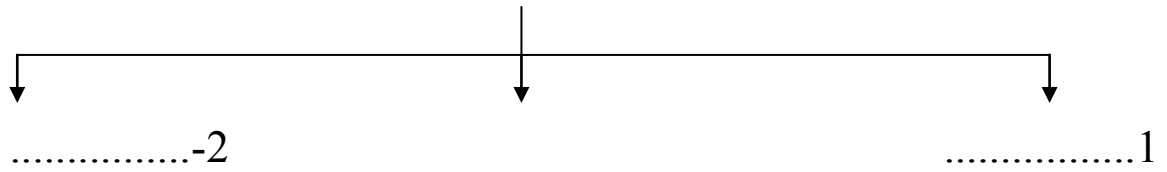
*

س : أكمل المخططات السهمية التالية :

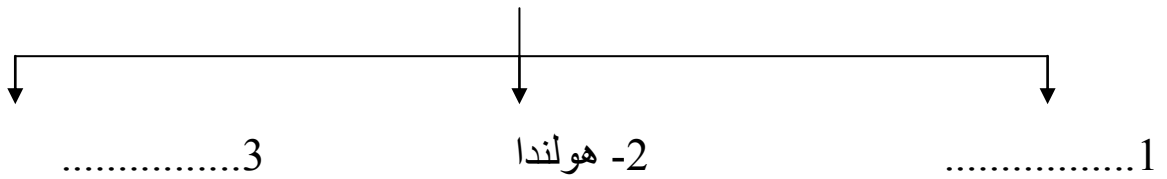
(1) صناعات قائمة على النفط بدول الخليج العربية



(2) أنواع الهجرات في منطقه الخليج العربي



(3) الدول المستوردة للنفط الكويتي



(4) التشابه الثقافي بين سكان دول الخليج العربية



س : فرق بين كل من :

(1)

الزيادة الطبيعية	الزيادة غير الطبيعية
.....
.....

(2)

احتياط النفط	إنتاج النفط
.....
.....

س : صنف الكلمات التالية وفق الجدول الذي يليها في كل مما يلي :

(1) (دخان - الغوار - برقان - ناطح)

.....	الحقل
قطر	الكويت	عمان	السعودية	الدولة

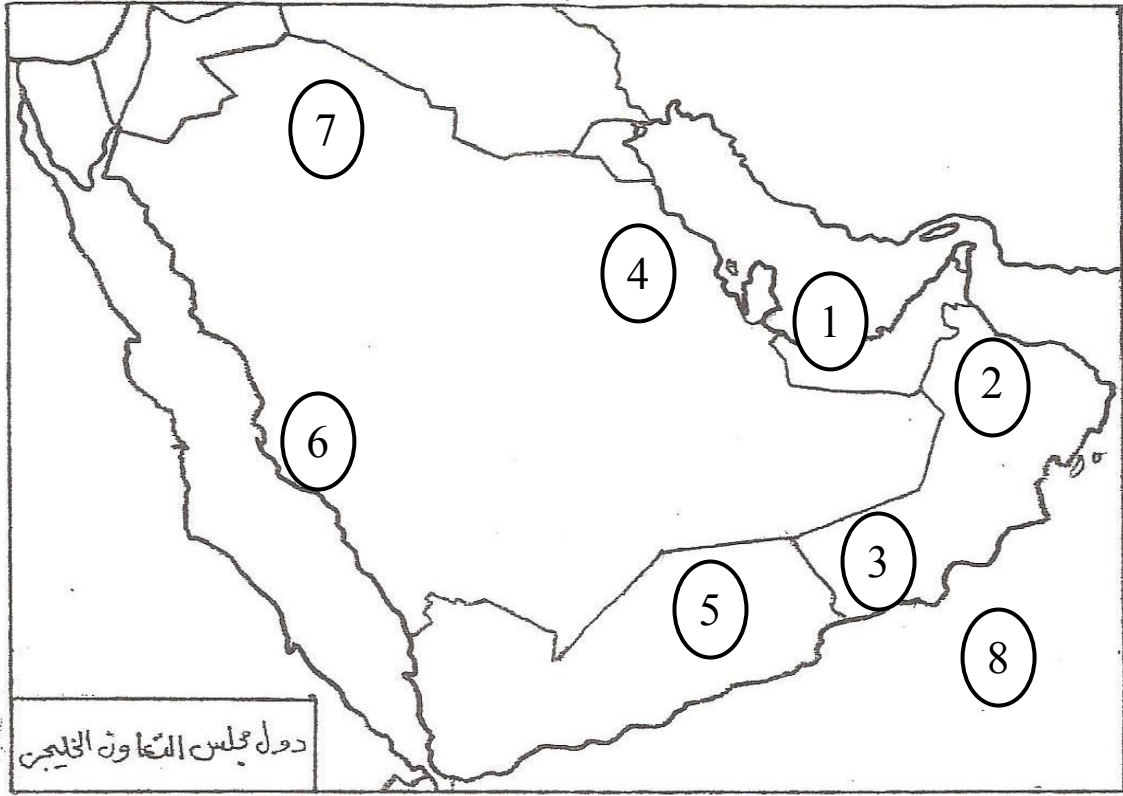
(2) (الوفرة - حائل - العين - صلاله)




.....	المنطقة
الإمارات	الكويت	عمان	السعودية	الدولة

(3) (الشعيبية - الغوار - الفحل - برقان - صلاله - الأحمدى - الجبيل - الوفرة)

موانئ نفطية	حقول نفطية	مناطق صناعية	مناطق زراعية
.....
.....

س : أمامك خريطة دول مجلس التعاون الخليجي الصماء ، نفذ عليها ما يطلب منك منك :



- بحر العرب يحمل علي الخريطة الرقم
- سهل تهامة يحمل علي الخريطة الرقم
- ميناء جبل الظنة النفطي يحمل علي الخريطة الرقم
- حقل الغوار النفطي يحمل علي الخريطة الرقم
- منطقة سهل الباطنة الزراعية تحمل علي الخريطة الرقم
- حدد موقع دولة الكويت وظللها بالرمز 
- حدد موقع البحر الأحمر وضع عليه الرمز 
- حدد موقع الخليج العربي وضع عليه الرمز 
- حدد موقع أقل دول الخليج العربية من حيث عدد السكان وضع عليها الرمز 