




وزارة التربية

الإدارة العامة لمنطقة الجهراء التعليمية

اختبار نهاية الفصل الدراسي الثاني

٢٠١٩ / ٢٠١٨

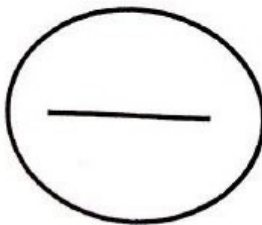
تعليم الكبار ومحو الأمية



| | |
|-------------|--------|
| السادس | الصف |
| الاجتماعيات | المادة |

| رقم السؤال | الدرجة | المصحح | المراجع |
|---------------|--------|--------|---------|
| السؤال الأول | | | |
| السؤال الثاني | | | |
| السؤال الثالث | | | |
| السؤال الرابع | | | |
| السؤال الخامس | | | |
| السؤال السادس | | | |
| السؤال السابع | | | |
| السؤال الثامن | | | |
| السؤال التاسع | | | |
| السؤال العاشر | | | |
| المجموع | | | |

الدرجة بالحروف :



وزارة التربية
مكتب المدير العام
منطقة الجهراء التعليمية

وزارة التربية
مكتب المدير العام
منطقة الجهراء التعليمية

العام الدراسي: ٢٠١٨ م - ٢٠١٩ م
الزمن: ساعة وربع
عدد الأوراق: ٧

اختبار الفترة الثانية
مادة الاجتماعيات
الصف السادس

وزارة التربية
الإدارة العامة لمنطقة الجهراء التعليمية
التوجيه الفني للاجتماعيات
إدارة تعليم الكبار ومحو الأمية

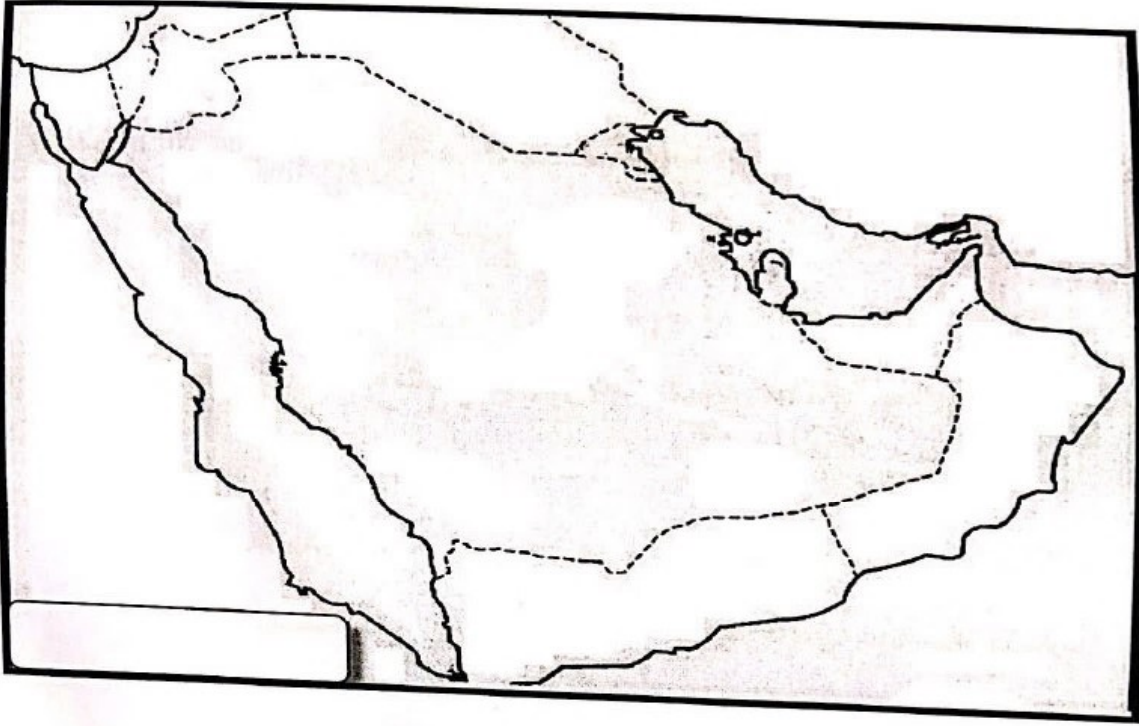
أولاً: الأسئلة الموضوعية:

السؤال الأول ويتكون من (أ - ب - ج - د - هـ) لكل إجابة درجة (١) اختر الإجابة الصحيحة من بين البدائل التالية :

- ١- أصغر دولة عربية خليجية من حيث المساحة :
(الكويت - عمان - البحرين - قطر)
- ٢- تم تصدير أول شحنة من النفط الكويتي في عام :
(١٩٤٦ - ١٩٤٧ - ١٩٤٨ - ١٩٤٩) م
- ٣- تقع حضارة ام النار في دولة خليجية أسمها :
(البحرين - عمان - قطر - السعودية)
- ٤- النفط ومشتقاته يعتبر أحد أسباب التلوث :
(الهوائي - الضوضائي - الأرضي - المائي)
- ٥- عدم وعي الأسرة بأهمية التعليم والتربية يعتبر من الأسباب :
(النفسية - الأسرية - البيئية - الاقتصادية)
- ٦- هاجرت قبائل اليعاربة الي منطقة الخليج العربية واستقرت في منطقة :
(عمان - أبوظبي - الكويت - البحرين)
- ٧- دولة خليجية لم تتعرض للاستعمار :
(الإمارات - الكويت - السعودية - البحرين)

قناة هالة بنت خويلا / مس ولاء صلاح

(ب) لاحظ خريطة شبه الجزيرة العربية واجب عن الآتي :-



- ١- البحر الاحمر يشير اليه الرقم ()
- ٢- الخليج العربي يشير اليه الرقم ()
- ٣- دولة الامارات العربية المتحدة يشير اليها الرقم ()
- ٤- ميناء الفحل يشير اليه الرقم ()
- ٥- دولة خليجية رائدة في انتاج محصول القمح يشير اليها الرقم ()
- ٦- ظلل دولة الكويت علي الخريطة
- ٧- اكتب اسم بحر العرب في مكانه الصحيح علي الخريطة .

قناة هالة بنت خويلا / مس ولاء صلاح

يتبع السؤال الاول :

(ج) : أكمل العبارات الآتية بما يناسبها :

- ١- ضرر يصيب عناصر البيئة الأساسية فتتحول من عناصر مفيدة إلى ضارة يسمى
- ٢ - أقل دولة خليجية في نسبة المواطنين تمثله دولة أسمها
- ٣ - التغيير الذي يحدث لعدد السكان نتيجة للزيادة الطبيعية والغير طبيعية يسمى
- ٤- يوجد سهل الباطنه في دولة خليجية تسمى
- ٥- سلوك عدواني موجة ضد الغير يسمى
- ٦- مجموعة من العادات والتقاليد والقيم في مجتمع من المجتمعات تسمى
- ٧- إعادة تصدير البضائع المستوردة تسمى
- ٨- تحويل المواد الخام الي مواد يمكن الاستفادة منها يسمى
- ٩- بدأ التنقيب علي النفط في دولة الكويت عام

(د) صنف المطلوب منك حسب الجدول:

(إدانة احتلال الجزر الإماراتية الثلاث - المناورات العسكرية -زيادة التبادل التجاري - توحيد المناهج - المشاركة في حرب تحرير الكويت)

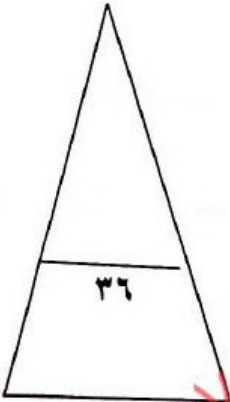
| التعاون الثقافي | التعاون العسكري | التعاون الاقتصادي | التعاون السياسي |
|-----------------|-----------------|-------------------|-----------------|
| | | | |

قناة هالة بنت خويلد / مس ولاء صلاح

يتبع السؤال الأول :

(هـ) صوب ما تحته خط في العبارات التالية بوضع الإجابة الصحيحة بين القوسين:

- ١- تعتبر منطقة ينبع منطقة صناعية في دولة الإمارات العربية (.....)
- ٢- تعتبر الهجرة سببا للزيادة الطبيعية للسكان في دول الخليج . (.....)
- ٣- العنف ظاهرة موروثة (.....)
- ٤- تم اكتشاف كميات ضخمة من النفط الكويتي في حقل بكرة (.....)
- ٥- يعتبر سهل تهامة منطقة زراعية في البحرين (.....)
- ٦- تعتبر أعمال النجارة من أسباب التلوث الهوائي (.....)
- ٧- يبلغ عدد الآبار النفطية التي أحرقها النظام العراقي ٧٣٥ بئر (.....)
- ٨- الدولة التي يوجد فيها مقر قوات درع الجزيرة هي البحرين (.....)



قناة هالة بنت خويلد / مس ولاء صلاح

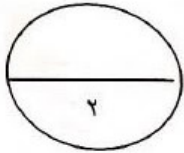
ثانياً الأسئلة المقالية:

السؤال الثاني ويتكون من (أ / ب / ج)

(أ) عرف المفاهيم والمصطلحات التالية

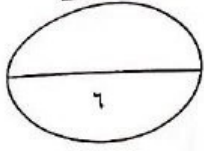
- ١- كثافة السكانية :
- ٢- دخل القومي :
- ٣- سلالة :
- ٤- طبقة الأوزون :
- ٥- زراعة بدون تربة :
- ٦- بيوت بلاستيكية :

قناة هالة بنت خويلد / مس ولاء صلاح



(ب) فرق من حيث التعريف بين كل مما يلي .:

| الواردات | الصادرات |
|--------------|-------------|
| | |
| احتياط النفط | إنتاج النفط |
| | |



(ج) ما هي المقترحات لحل المشكلات التالية مما درست :-

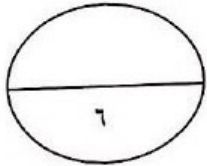
١ - مشكلة العمالة المنزلية .

.....
.....
.....

٢ - مشكلة العنف .

.....
.....
.....

قناة هالة بنت خويلا / مس ولاء صلاح



السؤال الثالث ويتكون من (أ / ب)

(أ) علل لما يأتي :-

١- قيام دول الخليج العربية بإقامة العديد من الموانئ النفطية.

.....
.....

٢ - شهدت منطقة الخليج العربية بعد اكتشاف النفط نموا سكانيا فجانبا .

.....
.....

٣ - ازدياد أعداد المهاجرين الي دول الخليج العربية في السنوات الأخيرة.

.....
.....

يتبع السؤال الثالث:

(ب) اكتب فيما يلي مما درست :

١-التحديات التي تواجه دول الخليج العربية .

.....
.....

٢- أهم الدول المستوردة للنفط الكويتي .

.....
.....

قناة هالة بنت خويلد / مس ولاء صلاح

مع تمنياتنا لكم بالتوفيق