



وزارة التربية

الإدارة العامة لمنطقة العاصمة التعليمية



<http://www.ykuwait.net>
TELEGRAM: @ykuwait_net_home

معلومات

الاجابة



السؤال الأول (موضوعي) يتكون من (أ - ب - ج - د - هـ - و - ز) :-

(أ) أكمل العبارات التالية بما يناسبها : - (لكل إجابة درجة واحدة) ٥ × ١

- ١- مجموعة من العادات والتقاليد والقيم في مجتمع من المجتمعات تعرف بإسم الثقافة ص ١١٨
- ٢- المنطقة التي توجد فيها صناعة النحاس في عمان تسمى صحار ص ٩٦
- ٣- الدولة الخليجية العربية التي توجد فيها أعلى نسبة للمواطنين وفقا لإحصائية ٢٠٠٦ تسمى المملكة العربية السعودية ص ١١٢
- ٤- الدولة التي هاجرت إليها قبيلة المعاضيد تسمى قطر ص ١٠٨
- ٥- أنشأ مجلس التعاون الخليجي درع الجزيرة عام ١٩٨٤ ص ١٢٩

(ب) ضع خطأ تحت الخيار الصحيح من بين الخيارات التي تلي كل عبارة :- (لكل إجابة درجة واحدة) ٥ × ١

- ١- السنة التي حدث فيها الغزو العراقي الغاشم لدولة الكويت :
(١٩٩٠ - ١٩٩١ - ١٩٩٢ - ١٩٩٣) ص ١٣٩
- ٢- الحقل الذي بدء فيه التنقيب عن النفط بدولة الكويت في الحقول الشمالية يسمى :
(الروضتين - برقان - بحرة - المناقيش) ص ٨٧
- ٣- ترجع أصول السلالات السكانية في الخليج العربي إلى جنسين هما البحر المتوسط وجنس :
(شرق أفريقيا - غرب أفريقيا - شمال أفريقيا - جنوب أفريقيا) ص ١٠٥
- ٤- الدولة التي توجد بها منطقة الشعبية الصناعية تسمى :
(قطر - البحرين - عمان - الكويت) ص ٩٦
- ٥- تعتبر شبه الجزيرة العربية ملنقى الهجرات الخارجية القادمة من قارة آسيا وقارة :
(استراليا - أمريكا الشمالية - أمريكا الجنوبية - أفريقيا) ص ١٠٧

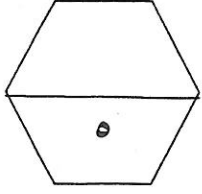
تم التحميل من :



<http://www.ykuwait.net>

TELEGRAM: @ykuwait_net_home

تابع السؤال الأول (موضوعي) :-

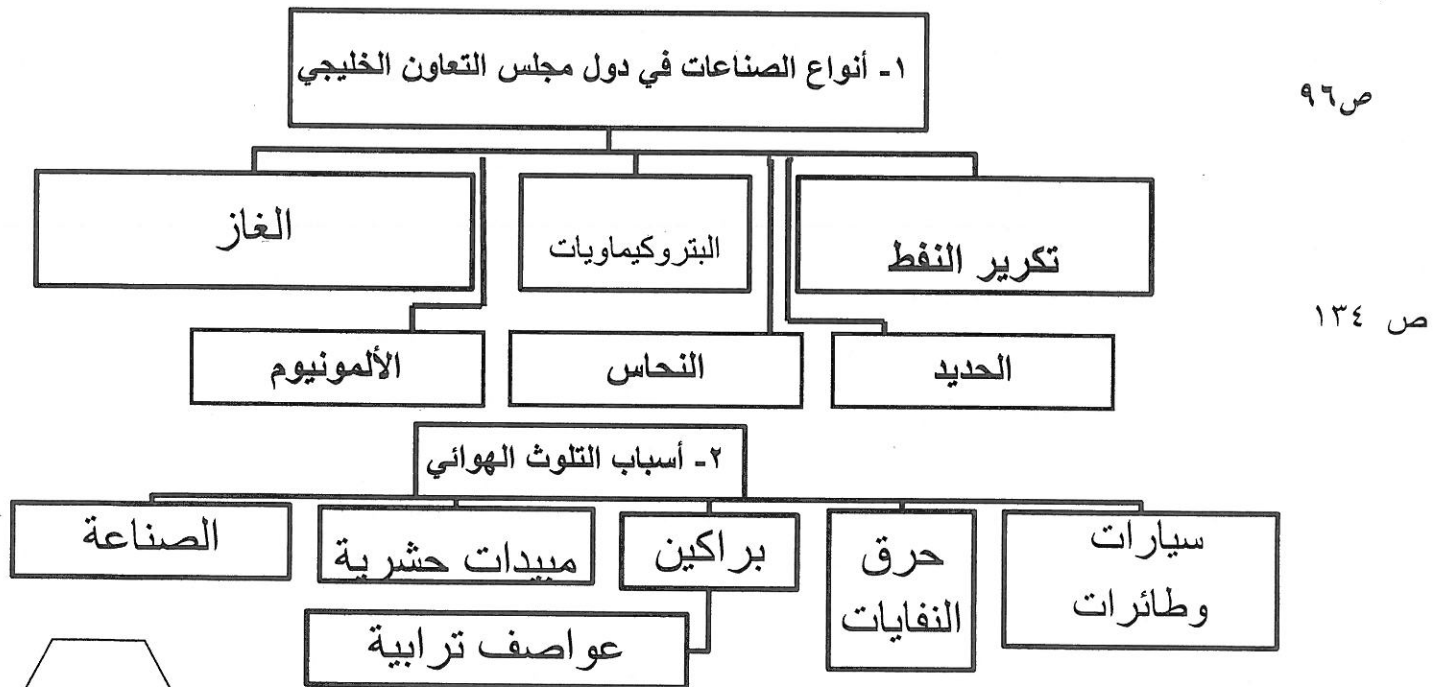


(ج) صوب ما تحته خط في العبارات التالية بوضع الإجابة الصحيحة بين القوسين :-

(لكل إجابة درجة واحدة) ٥ × ١

- ١- الدولة الخليجية العربية التي بها أعلى نسبة للوافدين ٨٤.٦ حسب إحصائية ٢٠٠٦ دولة تسمى البحرين . (الإمارات) ص ١١٢
- ٢- الدولة التي هاجر إليها آل الصباح تسمى الإمارات . (الكويت) ص ١٠٨
- ٣- ازدهرت دول الخليج العربية إقتصاديا نتيجة اكتشاف اللؤلؤ . (النفط) ص ٩٥
- ٤- التغير الذي يحدث لعدد السكان نتيجة للزيادة الطبيعية وغير الطبيعية يسمى الصفير السكاني (النمو السكاني) ص ١١١
- ٥- عدد الآبار التي احترقت أثناء الغزو العراقي للكويت هي ٧٢٧ . (٧٣٧) ص ١٣٩

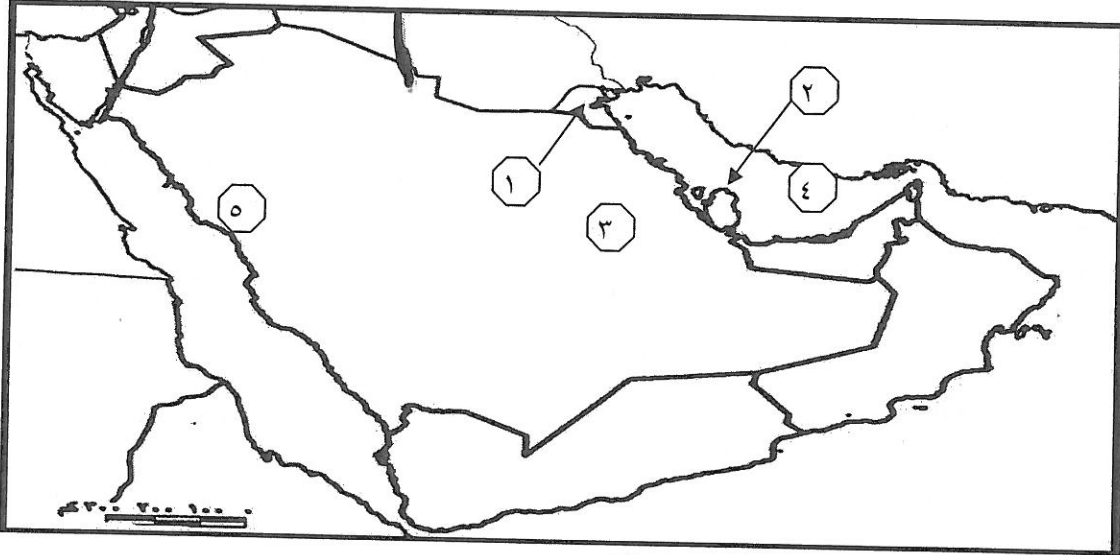
(د) أكمل المخططات السهمية التالية :- (لكل إجابة درجة واحدة) ٥ × ١



تابع السؤال الأول (موضوعي) :-

(هـ) لاحظ خريطة دول الخليج العربية الصماء وأكتب مدلولات الأرقام التالية :-

(لكل إجابة درجة واحدة) 5×1



- الرقم (١) على الخريطة يمثل دولة تسمى الكويت ص ٩١
- الرقم (٢) على الخريطة يمثل ميناء نفطي يسمى أمسيعيد ص ٩٧
- الرقم (٣) على الخريطة يمثل حقل نفطي يسمى الغوار ص ٩١
- الرقم (٤) على الخريطة يمثل مسطح مائي يسمى الخليج العربي ص ٩١
- الرقم (٥) على الخريطة يمثل ميناء لتكرير النفط يسمى ينبع ص ٩٧

(و) صنف المناطق الزراعية التالية أمام الدولة التي تتبع لها :-

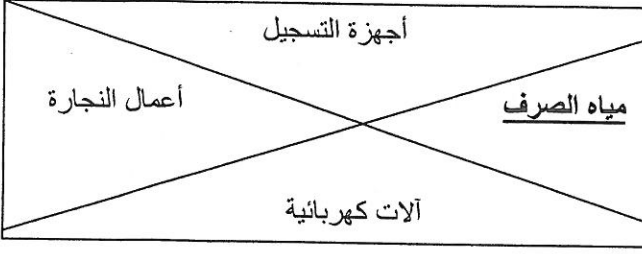
(لكل إجابة درجة واحدة) 6×1

(الإحساء - العين - سهل الباطنة - سهل تهامة - ليوا - صلالة) ص ٩٢

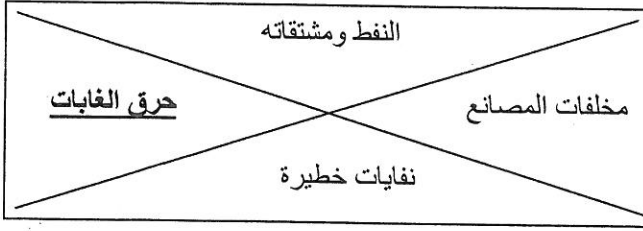
السعودية	الإمارات	عمان
الإحساء	العين	سهل الباطنة
سهل تهامة	ليوا	صلالة

تابع السؤال الأول (موضوعي) :-

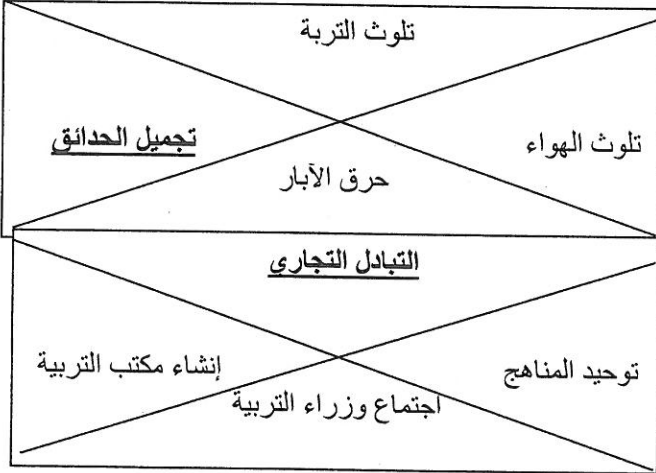
(ز) ظلل الكلمة الخطأ في المربعات المقابلة :- (لكل إجابة درجة واحدة) ٥ × ١



١- أسباب التلوث الضوضائي ص ١٣٨

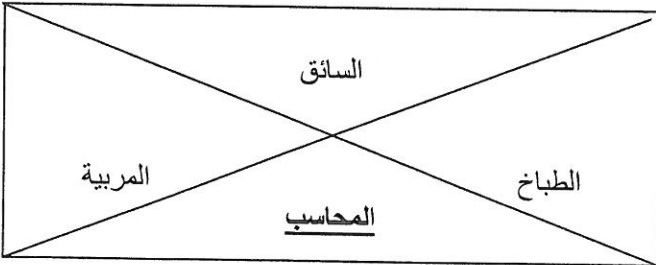


٢- أسباب التلوث البحري ص ١٣٦

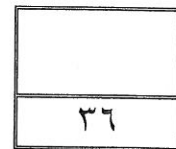
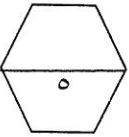


٣- آثار الغزو العراقي علي البيئة ص ١٣٩

٤- التعاون الثقافي بين دول الخليج العربية ص ١٣٠



٥- وظائف العمالة المنزلية ص ١٤٢



السؤال الثاني (مقال) يتكون من (أ - ب - ج) :-

(أ) عرف المفاهيم التالية :- (لكل إجابة درجة واحدة) ٥ × ١

١- السلالة : مجموعة من الناس تشترك فيما بينها في الصفات الجسمانية الرئيسية كلون الجلد وشكل الأنف

وشكل الشعر وطول القامة وما إليها وتختلف عن غيرها من السلالات في هذه الصفات ص ١٠٦

٢- الترانزيت : إعادة تصدير البضائع المستوردة ص ٩٩

٣- الصناعة : تحويل المواد الخام إلى مواد يمكن الاستفادة منها ص ٩٥

٤ - العنف : السلوك العدواني الموجه ضد الغير والذي يتسم بالتخريب والتدمير سواء كان ذلك السلوك

أقوالاً أم أفعالاً ص ١٤٤

٥ - الدخل القومي : مجموع الدخول التي تحصل عليها الدولة خلال عام ص ٩٥

(ب) اقرأ الفقرة التالية ثم أجب عما يليها من أسئلة :- (لكل إجابة درجة واحدة) ٧ × ١

(علي الرغم من الصعوبات التي تواجه الأراضي الزراعية في معظم دول الخليج العربي إلا أن الحكومات تبذل أفضل الجهود للتغلب على هذه الصعوبات ومنها توفير الأراضي الصالحة للزراعة وتقديم البذور الجيدة وتوفير المياه)

١ - اذكر اسم الدولة الخليجية العربية التي قامت بزراعة القمح .

*- السعودية ص ٩٢

٢ - استخرج من القطعة بعض جهود الحكومات الخليجية لتطوير الزراعة .


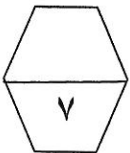
*- توفير الأراضي الصالحة للزراعة * - تقديم البذور الجيدة * - توفير المياه (الإجابة داخل الفقرة)

٣- اذكر مناطق الزراعة في دولة الكويت . ص ٩٢

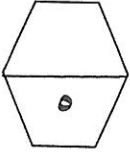
أ - الوفرة ب - العبدلي

(ج) ما الفرق بين كل من :- ص ٩٤

الزراعة بدون تربة	البيوت البلاستيكية
الزراعة التي تتم في بيئة مائية أو رملية أو حصى أو نشارة خشب تضاف إليها المحاليل الغذائية	يزرع فيها الخضروات في غير مواسمها (أوقاتها) وتقوم بحماية المحاصيل من تقلبات الطقس



السؤال الثالث : يتكون من (أ - ب - ج) :-



(أ) علل لما يلي (اذكر السبب) :- (لكل إجابة درجة واحدة) 5×1

- ١- عدد السكان في دولة الكويت ودول الخليج العربية في تزايد مستمر .
الزيادة الطبيعية (عدد المواليد _ عدد الوفيات) - الزيادة الغير طبيعية (بسبب الهجرة) ص ١١٠
- ٢- انتعاش الموانئ التجارية في دول الخليج العربي .
ترتبط دول مجلس التعاون بعلاقات تجارية مع دول العالم متمثلة في الصادرات والواردات ص ٩٩
- ٣- استقبال منطقة الخليج العربية موجات سكانية من كل المناطق المجاورة .
بحكم الموقع الجغرافي المهم بين قارات العالم القديم ص ١٠٨
- ٤ - حدوث ظاهرة العنف في المجتمع الخليجي .
تربية الطفل الخاطئة - الإحباط ص ١٤٦
- ٥ - تشابه الآثار الحضارية بين سكان منطقة الخليج العربي .
وجود اتصال وتقارب بين سكان منطقة الخليج العربية ص ١٠٥

(ب) لاحظ الجدول الذي أمامك ثم أجب عن الأسئلة التي تليه :- ص ١١٤


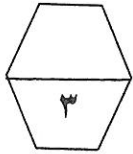
(لكل إجابة درجة واحدة) 4×1

- ١ - أعلى دولة خليجية في الكثافة السكانية البحرين ٢ - أقل دولة خليجية في الكثافة عمان
- ٣ - أكبر دولة خليجية مساحة السعودية ٤ - أقل دولة خليجية في معدل النمو السكاني الإمارات

(ج) أكتب الحلول المناسبة لعلاج مشكلة العنف :- ص ١٥٠

(لكل إجابة درجة واحدة) 3×1

- ١ - الإهتمام الجاد بالقرآن الكريم والسنة النبوية
- ٢ - الإهتمام بالقراءة والمطالعة بدلا من أصدقاء السوء
- ٣ - القدوة الحسنة وإتباع أساليب الحوار والتفاهم في علاج المشكلات والخلافات



مع تمنياتنا بالنجاح والتوفيق