

منطقة حولي التعليمية

اختبار نهاية الفترة الدراسية الثانية

العام الدراسي 2019/2018م

الصف السادس

نموذج إجابة اختبار مادة

الاجتماعيات

الاختبار الأساسي

العام الدراسي : ٢٠١٨/٢٠١٩م
الزمن : ساعة وخمس وأربعون
عدد الأوراق (٦)
نموذج الإجابة

امتحان نهاية الفترة الدراسية الثانية
لمقرر الكويت ودول الخليج العربية
للصف السادس المتوسط



السؤال الأول: موضوعي ويتكون من (أ - ب - ج - د - هـ - و)

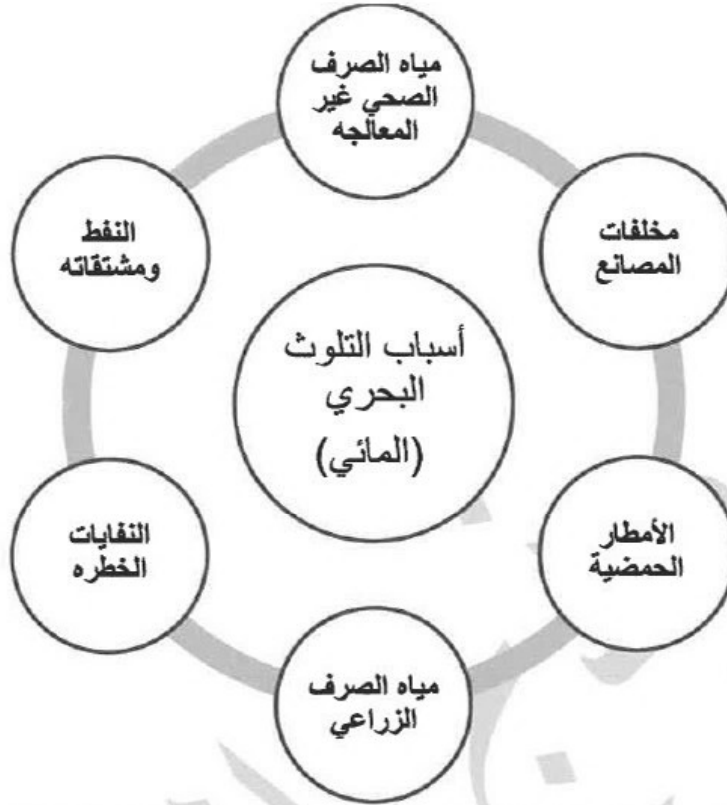
أ- أكمل العبارات التالية بما يناسبها :

- ١- الدولة الخليجية الأولى في إنتاج النفط عام ٢٠٠٨م اسمها السعودية ص ٨٨
- ٢- التغيير الذي يحدث لعدد السكان نتيجة للزيادة الطبيعية وغير الطبيعية يسمى النمو السكاني ص ١١١
- ٣- الدولة الخليجية التي ظهرت فيها حضارة "هيلي" اسمها الإمارات ص ١٠٥
- ٤- العام الذي قام النظام العراقي البائد بغزو دولة الكويت ١٩٩٠م ص ١٣٩
- ٥- العاصمة الخليجية التي أعلن فيها قيام السوق الخليجية المشترك تسمى الدوحة / قطر ص ١٣٠
- ٦- المنطقة الصناعية في مملكة البحرين اسمها شمال سترة ص ٩٦

ب - صنف مصادر تلوث الهواء حسب ما يناسبها في الجدول التالي: ص ١٣٤
(سيارات وطائرات - براكين - الصناعة - عواصف ترابيه - حرق النفايات - مييدات حشرية)

مصادر تلوث الهواء الطبيعية	مصادر تلوث الهواء غير الطبيعية
براكين / عواصف ترابية	سيارات وطائرات / الصناعة / حرق النفايات/ مييدات <u>حشرية</u>

ج- أكمل المخططات السهمية التي أمامك : ص ١٣٦



مجالات التعاون بين دول مجلس التعاون
الخليجي ص ١٢٩

ثقافي

اقتصادي

عسكري

سياسي

د- ظلل الخيار الصحيح من بين الخيارات التي تلي كل عبارة:

١- إعادة تصدير البضائع المستوردة : ص ٩٩

الصادرات	الواردات	<u>الترانزيت</u>	الموارد التجارية
----------	----------	------------------	------------------

٢- عدد الآبار النفطية الكويتية التي فجرها وأحرقها النظام العراقي البائد: ص ١٣٩

٤٣٤	٥٣٥	٦٣٦	<u>٧٣٧</u>
-----	-----	-----	------------

٣- تحويل المواد الخام إلى مواد يمكن الاستفادة منها : ص ٩٥

<u>الصناعة</u>	الدخل القومي	التعدين	تكرير النفط
----------------	--------------	---------	-------------

٤- الدولة الخليجية الأولى في الكثافة السكانية: ص ١١٤

الامارات	السعودية	<u>البحرين</u>	قطر
----------	----------	----------------	-----

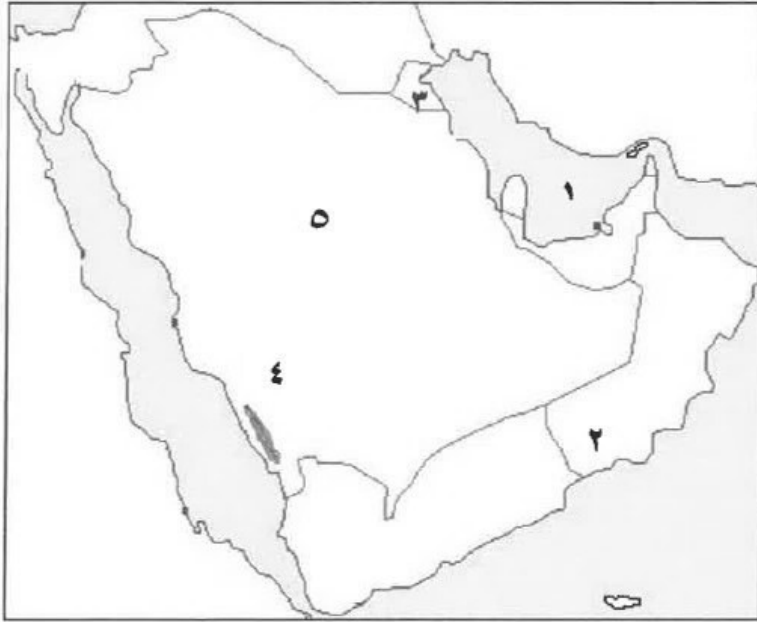
٥- مجموعة من العادات والتقاليد والقيم في مجتمع من المجتمعات: ص ١١٨

التاريخ	<u>الثقافة</u>	الدين	اللغة
---------	----------------	-------	-------

٦- السلوك العدواني الموجه ضد الغير والذي يتسم بالتخريب والتدمير سواء كان ذلك السلوك أقوالاً أو أفعالاً: ص ١٤٤

الإرهاب	الحروب	الشغب	<u>العنف</u>
---------	--------	-------	--------------

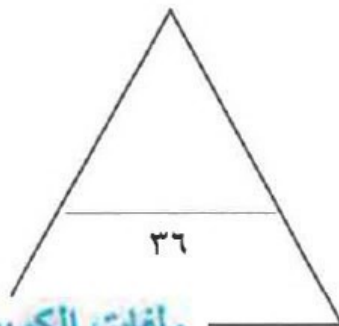
هـ- لاحظ خريطة شبه الجزيرة العربية التي امامك ثم أكتب مدلولات الأرقام التالية :



- سهل تهامة يمثل الرقم (٤) ص ٩٢
- منطقة الوفرة يمثلها الرقم (٣) ص ٩٧
- حضارة دبا يمثلها الرقم (٢) ص ١٠٥
- مسطح مائي يمثل الرقم (١) ص ٩١
- اعلى دولة خليجية في نسبة المواطنين يمثلها الرقم (٥) ص ١١٢ / ص ٩١

و- صوب ماتحته خط في العبارات التالية:

م	العبرة	التصويب
١	درع واقى للأحياء ضد خطر الأشعة فوق البنفسجية الضارة هي <u>التلوث</u> ص ١٣٥	الأوزون
٢	البعثة الأوروبية التي اكتشفت حضارة دول مجلس التعاون الخليجي هي <u>البعثة الألمانية</u> ص ١٠٥	الدنماركية
٣	تم تصدير أول شحنة من النفط الكويتي عام <u>١٩٥٦</u> م ص ٩١	١٩٤٦م
٤	تحويل المواد الخام إلي مواد يمكن الإستفاده منها يسمى <u>الزراعة</u> ص ٩٥	الصناعة
٥	يجتمع وزراء التربية والتعليم لدول مجلس التعاون الخليجي كل <u>عام</u> ص ١٣٠	عامين
٦	مجموعة الدخول التي تحصل عليها الدولة خلال عام تسمى <u>بالدخل الفردي</u> ص ٩٥	القومي



مجموع درجات السؤال الأول....

السؤال الثاني: ويتكون من (أ - ب - ج)

(أربع درجات لكل نقطة درجة)

أ- فرق بين كل من :

الزيادة الطبيعية للسكان	الزيادة الطبيعية للسكان ص ١١٠
- بسبب الهجرات	- عدد المواليد - عدد الوفيات
الواردات	الصادرات ص ٩٩
- البضائع والسلع التي تشتريها دولنا من الخارج	- السلع والمنتجات التي تبيعها دولنا للخارج

ب- أكتب عبارة شكر لله عز وجل على امتلاك دولتنا الكويت للثروة النفطية . ص ٨٩ (درجتين)

.....
حسب ما يراه المصحح من اجابه مطابقة لما هو مطلوب.....
.....

(لكل نقطة درجة)

ج- اجب عن الأسئلة التالية:

٢- اذكر أهم الروابط الثقافية بين سكان دول الخليج العربية. (يكتفي بنقطتين ص ١١٧-١٢٠)
- وحدة الأصل
- العادات والتقاليد
- الدين واللغة
- التاريخ المشترك

١- عدد أهم أنواع الصناعات في دول مجلس التعاون الخليجي . (يكتفي بنقطتين ص ٩٦)
- بتروكيماويات
- الغاز
- تكرير النفط
- النحاس

(يكتفي بنقطتين ص ١٢٩)

٣- عدد مظاهر التعاون العسكري بين دول الخليج العربية
- المناورات التدريبية العسكرية المختلفة
- إنشاء قوة مشتركة تضم جميع دول مجلس التعاون الخليجي (درع الجزيرة)
- قبول أبناء دول مجلس التعاون في الكليات العسكرية
- المشاركة الفعلية في حرب تحرير دولة الكويت من النظام العراقي البائد.

مجموع درجات السؤال الثاني....

١٢

السؤال الثالث: ويتكون من (أ - ب - ج)

(أربع درجات لكل نقطة درجة)

أ- فرق بين كل من :

احتياط النفط	انتاج النفط ص ٨٨
كميات النفط المخزونة في باطن الأرض	كميات النفط التي يتم استخراجها للاستفادة منها
بيوت بلاستيكية	الزراعة بدون تربة ص ٩٤
يزرع فيها الخضراوات في غير مواسمها (أوقاتها) وتقوم بحماية المحاصيل من تقلبات الطقس	هي الزراعة التي تتم في بيئة مائية أو رملية أو حصى أو نشارة خشب تضاف إليها المحاليل الغذائية

ب - علل لما يأتي : (درجتين)

(يكتفي بنقطة ص ٩٠)

١- ظهرت الحاجة الى إقامة العديد من المونئ النفطية .
لتزايد الإنتاج النفطي لدول مجلس التعاون / لتزايد الطلب العالمي

(يكتفي بنقطة ص ١٠٨)

٢- استقبلت منطقة الخليج العربية موجات سكانية من كل المناطق المجاورة.
بحكم موقعه الجغرافي المهم بين قارات العالم القديم

(ص ١٣٤ ست درجات)

ج - أقرأ الفقرة التالية ثم اجب عما يلي:

(يعتبر التلوث من المشكلات البيئية التي تصيب مكونات الأرض من ماء وهواء وتربة فتتحول الى
عناصر ضارة)

(لكل نقطة درجة يكتفي ثلاث نقاط)

١- عدد أنواع التلوث.

- مائي

- هوائي

- ارضي (تربة) / - الضوضائي

(لكل نقطة درجة يكتفي بنقطة)

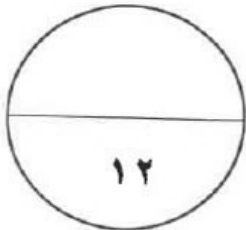
٢- عرف التلوث الأرضي .

- دخول مواد غريبه في التربة مما يلحق الضرر في خواصها ومكوناتها.

(درجتين)

٣- اكتب نصيحة لزملائك تحثهم بالمحافظة علي البيئة بشكل عام.

..... حسب ما يراه المصحح من اجابه مطابقة لما هو مطلوب.....



مجموع درجات السؤال الثالث....

انتهت الأسئلة...