

هنا جميع روابط وقنوات صفوف الكويت التعليمية المميزة
عشرات القنوات في خدمة التعليم واهله
وعشرات من الاعضاء والمشرفين
يعملون ليل نهار لمساعدتكم
مجموعات تطوعية تخدم العمليات التعليمية
جزى الله القائمين عليها خير الجزاء
وشكرا لكل من يساهم ويدعم باي جهد قل ام كثر
نرحب بكم في قروبناكم وقنواتكم

<https://t.me/joinchat/AAAAAE040LBCM5T06wNB2w>

إليكم التطبيق الرسمي لموقع المناهج الكويتية على متجر جوجل بلاي, حيث
يساعدكم في الحصول على مذكرات وكتب مدرسية وكل ما يهمل الامتحانات
..والاخبار التعليمية اول بأول

<https://play.google.com/store/apps/details?id=com.almanahj.myapplication>

مراجعات من الاذنبارات



@Exam8

رياضيات



@Exam8

الصف السادس
WWW.KweduFiles.Com

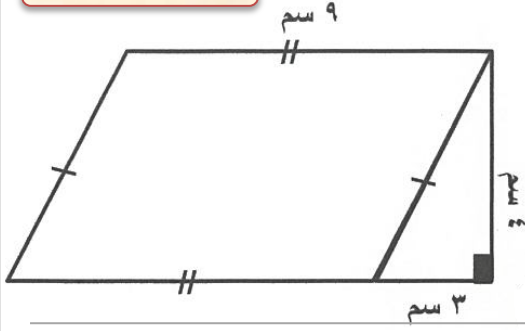
الفصل الدراسي الثاني الوحدة الثامنة

أسئلة اذنبارات الأعوام السابقة

رابط القناة @Exam8

التواصل والرد على استفساراتكم @AboMAged88

الأحمدي ٢٠١٧/٢٠١٨

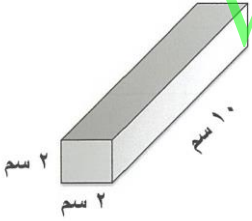


١- أوجد مساحة الشكل المدمج التالي :



الأحمدي ٢٠١٧/٢٠١٨

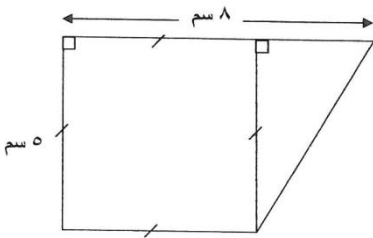
٢- أوجد حجم المنشور القائم الموضح في الرسم :



WWW.KweduFiles.Com

الجهراء ٢٠١٧/٢٠١٨


٣- أوجد مساحة الشكل المقابل :



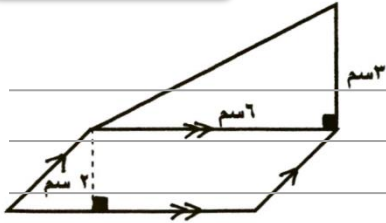
رابط القناة @Exam8

التواصل والرد على استفساراتكم @AboMaged88

٤- أوجد حجم شبه المكعب المقابل :



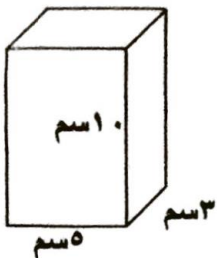
٥- أوجد مساحة الشكل المقابل :



WWW.KweduFiles.Com

@Exam8

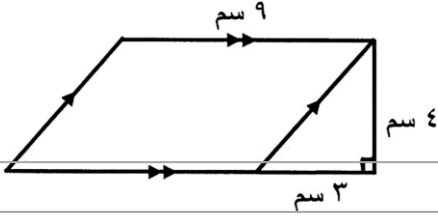
٦- أوجد حجم المنشور القائم موضحا خطوات الحل





حولي ٢٠١٧/٢٠١٨

٧- أوجد المساحة الكلية للشكل المقابل :



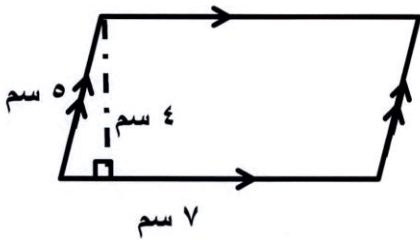
حولي ٢٠١٧/٢٠١٨

٨- أوجد حجم مكعب طول حرفه ٥ سم :

WWW.KweduFiles.Com

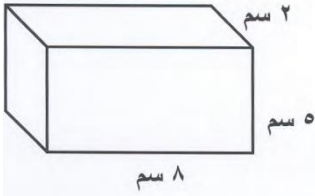
م.الكبير ٢٠١٧/٢٠١٨

٩- أوجد محيط ومساحة الشكل الرباعي التالي :

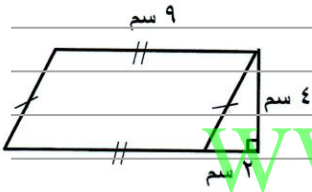


@Exam.S

١٠- أوجد حجم المنشور في الشكل المقابل :



١١- أوجد مساحة الشكل المدمج الذي أمامك :



١٢- أوجد المساحة الكلية لسطح الصندوق الذي أمامك :

