



أسئلة اختبار الرياضيات التحريري للصف الخامس للعام 1435-1436هـ


السؤال الأول : اختر الإجابة الصحيحة فيما يلي :- الاسم:

18


1 حجم سطح المنشور المجاور تساوي :			
			
(أ) 10 سم ³	(ب) 105 سم ³	(ج) 5 سم ³	(د) 15 سم ³


2 أوجد نوع الشكل التالي :-			
			
(أ) منشور ثلاثي	(ب) منشور رباعي	(ج) مخروط	(د) أسطوانة


3 أوجد مساحة الصف الخامس المربع شكل طول الضلع 15 م ؟			
(أ) 25 م ²	(ب) 220 م ²	(ج) 225 م ²	(د) 205 م ²

4 قدر مساحه شكل التالي :-			
			
(أ) 26	(ب) 30	(ج) 10	(د) 5

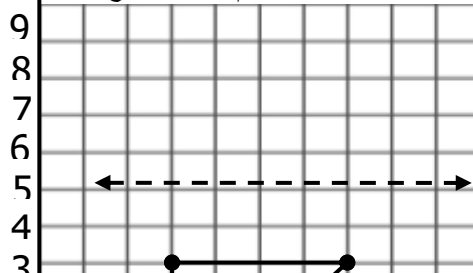
5 أوجد محيط المضلع التالي :-			
			
(أ) 6 ملم	(ب) 6 ملم	(ج) 64 ملم	(د) 46 ملم

6 تعرف الشكل، ثم سمه باستعمال الرموز :-			
			
(أ) $\overline{أب}$	(ب) أب	(ج) $\overleftarrow{أب}$	(د) $\overrightarrow{أب}$

7 حدد إذا كانت القطع المستقيمة متطابقة أم لا :-			
			
(أ) لا	(ب) متوازي	(ج) متعامد	(د) نعم

8 أوجد عدد الزوايا الحادة في شكل المجاور ؟			
			
(أ) 2	(ب) 3	(ج) 4	(د) 1

9/ ارسم صورة الشكل الرباعي بالانعكاس حول المحور، ثم اكتب الأزواج المرتبة للرؤوس الجديدة.




مراجعة للصف الخامس :-

1/ حجم سطح المنشور المجاور تساوي :



.....
.....

2/ أوجد نوع الشكل التالي:-

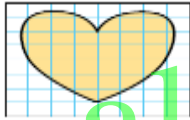


.....
.....

3/ أوجد مساحه الصف الخامس المربع شكل طول الضلع 15 م ؟

.....
.....

4/ قدر مساحه شكل التالي :-



almanahj.com/sa

5/ أوجد محيط المضلع التالي:-

.....
.....

6/ تعرف الشكل، ثم سمه باستعمال الرموز:-

.....
.....



7/ حدد إذا كانت القطع المستقيمة متطابقة أم لا:-

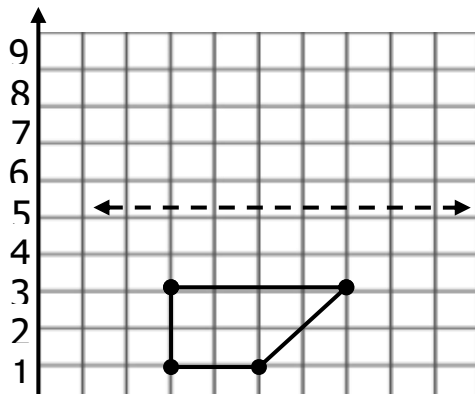
.....
.....

8/ أوجد عدد الرزوايا الحادة في شكل المجاور ؟



.....
.....

9/ ارسم صورة الشكل الرباعي بالانعكاس حول المحور، ثم اكتب الأزواج المرتبة للرؤوس الجديدة.



موقع المناهج السعودية www.alManahj.com/sa
almanahj.com/sa