

تم تحميل هذا الملف من موقع المناهج الإماراتية



*للحصول على أوراق عمل لجميع الصفوف وجميع المواد اضغط هنا

<https://almanahj.com/ae>

* للحصول على أوراق عمل لجميع مواد الصف التاسع اضغط هنا

<https://almanahj.com/ae/9>

* للحصول على جميع أوراق الصف التاسع في مادة اجتماعيات وجميع الفصول, اضغط هنا

<https://almanahj.com/ae/9>

* للحصول على أوراق عمل لجميع مواد الصف التاسع في مادة اجتماعيات الخاصة بـ اضغط هنا

<https://almanahj.com/ae/9>

* لتحميل كتب جميع المواد في جميع الفصول للـ الصف التاسع اضغط هنا

<https://almanahj.com/ae/grade9>

للتحدث إلى بوت المناهج على تلغرام: اضغط هنا

https://t.me/almanahj_bot

دولة الإمارات العربية المتحدة
وزارة التربية والتعليم
قطاع التسامح. نطاق: D:
مدرسة عاصم بن ثابت للتعليم الأساسي ٢ للبنين

مراجعة

الدراسات الاجتماعية

الصف : التاسع

القصل الأول

Social Studies



موقع الوطن العربي وأهميته

أولاً: اختر الإجابة الصحيحة من بين البدائل التي تلي وضع دائرة حولها.

- 1- يقع الوطن العربي في نصف الكرة الأرضية { أ- الجنوبي ب- الشمالي ج- الغربي }
- 2- يبلغ عدد خطوط الطول التي يمتد عليها الوطن العربي { أ- 67 ب- 57 ج- 77 }
- 3- يبلغ عدد دوائر العرض التي يمتد عليها الوطن العربي { أ- 34 ب- 35 ج- 39 }
- 4- يمتد الوطن العربي بين دائرتي عرض { أ- 2 ج و 37 شمالاً ب- 2 ج و 38 شمالاً ج- 2 ج و 39 شمالاً }
- 5- يمتد الوطن العربي بين خطي طول { أ- 17 غ و 77 شرقاً ب- 17 غ و 78 شرقاً ج- 17 غرباً و 60 شرقاً }
- 6- تقع دولة الإمارات العربية المتحدة بين دائرتي عرض { أ- 22 - 26.5 ب- 24-27 ج- 22-28 } درجة شمال خط الإستواء
- 7- تقع دولة الإمارات العربية المتحدة بين خطي طول { أ- 51 - 56.5 ب- 51-60 ج- 57 - 51 } درجة شرق خط جرينتش.
- 8- يبلغ عدد دوائر العرض التي تمتد عليها دولة الإمارات العربية المتحدة { أ- 4.5 ب- 5.5 ج- 6.4 }
- 9- تشكل الإمارات العربية المتحدة مع دول الخليج العربية البوابة { أ- الغربية ب- الشمالية ج- الشرقية } للوطن العربي
- 10- تبلغ مساحة الوطن العربي ما يزيد عن { أ- 12 ب- 13 ج- 14 } كم/م2
- 11- أكبر دولة عربية في الجناح الأفريقي هي دولة { أ- مصر ب- السعودية ج- السودان }
- 12- أكبر دولة عربية في الجناح الآسيوي هي دولة { أ- مصر ب- السعودية ج- السودان }
- 13- أصغر دولة عربية في الجناح الأفريقي هي دولة { أ- مصر ب- السعودية ج- جزر القمر }
- 12- أصغر دولة عربية في الجناح الآسيوي هي دولة { أ- مصر ب- السعودية ج- البحرين }
- 13- دائرة العرض الرئيسية التي تقطع أراضي الوطن العربي من الجنوب { أ- مدار ب- مدار السرطان ج- خط الاستواء }
- 14- صاحب هذه المقولة { إن بلادنا واحدة من الخليج العربي إلى المحيط، وإن بعد المسافة بين مغرب الأمة العربية ومشرقها، لن يقف حائلاً أمام اتصالنا بالقلوب والمشاعر } { أ- الشيخ راشد بن آل مكتوم ب- الشيخ محمد بن حمد الشرقي ج- الشيخ زايد بن سلطان آل نهيان رحمه الله.
- 15- تتسم الحدود الطبيعية البرية الخارجية للوطن العربي مثل الجناح الأفريقي { أ- الطول ب- الاستقامة ج- الطول والاستقامة }
- 16- حدود المائبة للوطن العربي تتفق مع ظواهر طبيعية واضحة تتضمن جزراً عربية عديدة يقع بعضها ضمن المياه الإقليمية لدولة الإمارات العربية المتحدة مثل: { أ- جزيرة فيلكا ب- جزيرة داس ج- جزر الإمارات الثلاث المحتلة من قبل إيران }
- 17- يمتد الوطن العربي من الرأس الأبيض في موريتانيا على المحيط الأطلسي غرباً إلى رأس الحد في: { أ- اليمن ب- المغرب ج- سلطنة عمان }
- 18- يحدّ الحدّ الشرقي للوطن العربي ظاهرات طبيعية تتمثل { أ- الخليج العربي وبحر عمان وجبال زاجروس ب- جبال طوروس والبحر المتوسط ج- البحر الأحمر }
- 19- يحدّ أرض الوطن العربي من جهة الشمال: { أ- الخليج العربي وبحر عمان وجبال زاجروس ب- جبال طوروس والبحر المتوسط ج- البحر الأحمر }
- 20- تتمثل الحدود الجنوبية للوطن العربي في الجناح الآسيوي { أ- بحر العرب والمحيط الهندي والصحراء الكبرى ب- جبال طوروس والبحر المتوسط ج- البحر الأحمر }
- 21- المسطح المائي الذي يصل جناحي الوطن العربي هو: { أ- البحر المتوسط ب- المحيط الأطلسي ج- البحر الأحمر }

22- تسمى الحدود التي تسير الظواهر الطبيعية حدود مثل: السلاسل الجبلية والأنهار والبحيرات والصحاري.

{ أ- السياسية ب- البشرية ج- الطبيعية }

23- الحدود التي تسير الظواهر البشرية: مثل: التركيب اللغوي والعرق.

{ أ- السياسية ب- البشرية ج- الطبيعية }

24- هي الحدود التي تسير خطوط الطول ودوائر العرض وهي حدود من صنع البشر يتم رسمها بشكل هندسي كخطوط متصلة أو مقطعة على الخرائط.

{ أ- السياسية ب- البشرية ج- الطبيعية }

25- أوضح أهمية الوطن العربي.

{ أ- يقع وسط العالم ب- يشرف على بحار ومحيطات ومضايق هامة ث- تنوع الثروات الطبيعية ح- مهد الديانات

السماوية خ- كل العبارات السابقة صحيحة }

26- أفسر غنى الوطن العربي بالثروات المعدنية.

{ أ- قلة المساحة ب- تنوع واختلاف الصخور فيه واتساع المساحة ج- كثرة الغابات }

27- أفسر تعدد أرض الوطن العربي وحدة واحدة لا انقطاع بينها.

{ أ- كثرة المسطحات المائية داخله ب- كثرة الأنهار ج- ندرة المسطحات المائية داخله }

28- أهمية الوطن العربي الاقتصادية.

{ أ- موقعه المتوسط ب- إشرافه على بحار وممرات مائية هامة ج- تنوع موارده الاقتصادية د- وجود البترول

والغاز الطبيعي على أرضه ذ- كل العبارات السابقة صحيحة }

29- هي المياه المجاورة للدولة وتخضع لسيادتها وتمتد إلى 12 ميل بحري

{ أ- المياه السطحية ب- المياه الدولية ج- المياه الإقليمية }

30- هو موقع تحدده بواسطة خطوط الطول ودوائر العرض.

{ أ- الموقع الدولي ب- الموقع النسبي ج- الموقع الجغرافي }

31- نسبة مساحة الوطن العربي من مساحة العالم. (بالاستعانة بالشكل المقابل)

{ أ- 9.2 ب- 10.2 ج- 11.2 }

32- يعد طريقاً هاماً للتجارة الدولية نتيجة إشرافه على مسطحات مائية وتحكم

بممرات مائية مثل:

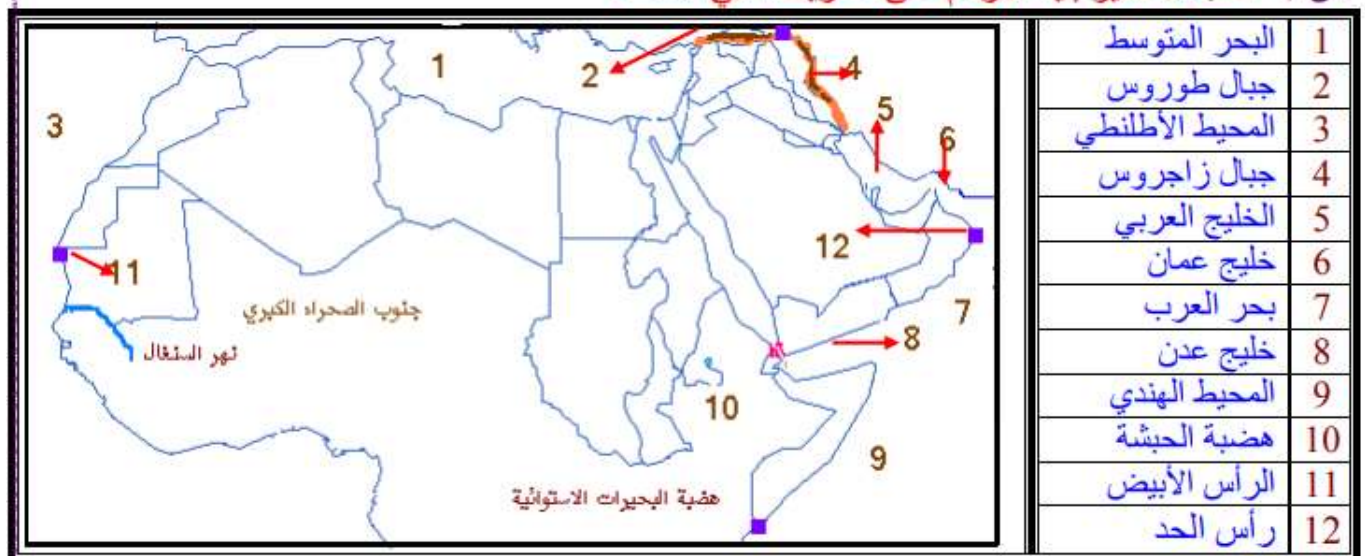
أ- مضيق هرمز

ب- مضيق باب المندب

ت- قناة السويس

ث- كل العبارات السابقة صحيحة.

س / أكتب ما تشير إليه الأرقام على الخريطة التي أمامك ؟



س- أكمل العبارات التالية بما يناسب:

- ✓ دائرة العرض الرئيسية التي تقطع أراضي الوطن العربي من الجنوب.....خط الاستواء
- ✓ يحدها الوطن العربي من الشمال جبال طوروس والبحر.....المتوسط
- ✓ المسطح المائي الذي يصل جناحي الوطن العربي هو:.....البحر الاحمر
- ✓ يجاور الوطن العربي دول مختلفة من مثل:.....اثيوبيا- السنغال- مالي
- ✓ تقع غالبية الدول العربية في الجناح العربي.....الاسيوي
- ✓ يعتبر جبل جيس أعلى قمة جبلية في.....الامارات.....
- ✓ أكبر دولة عربية في الجناح الافريقي هي دولة.....السودان....
- ✓ تبلغ مساحة الوطن العربي 14 مليون كم2
- ✓ يمتد بين دائرتي عرض 2 جنوباً و 37.5 شمالاً وبين خطي طول 60 شرقاً و 17 غرباً
- ✓ مجموع دوائر العرض 39.... دائرة .
- تتفق حدوده المائية مع ظواهر طبيعية مثل:.....جزر الإمارات الثلاث المحتلة

س- أوضح أهمية الوطن العربي.

- يقع وسط العالم
- يشرف على بحار ومحيطات ومضايق هامة
- تنوع الثروات الطبيعية
- مهد الديانات السماوية

س - أفسر الآتي:

س1- غنى الوطن العربي بالثروات المعدنية

- تنوع واختلاف الصخور فيه - اتساع المساحة

س 2- تعدد أرض الوطن العربي وحدة واحدة لا انقطاع بينها.
-ندرة المسطحات المائية داخله

س3- أهمية الوطن العربي الاقتصادية.

- موقعه المتوسط بين قارات العالم القديم
- ب- اشرافه على بحار وممرات مائية هامة
- ج- تنوع موارده الاقتصادية
- د- وجود البترول والغاز الطبيعي على ارضه

س- أصوغ تعريفاً مناسباً لكل من؟

- المياه الإقليمية: هي المياه المجاورة للدولة وتخضع لسيادتها وتمتد الى 12ميل بحري
- الموقع الجغرافي: هو موقع تحدده بوساطة خطوط الطول ودوائر العرض
- الحدود السياسية: هي حدود تساير خطوط الطول ودوائر العرض.

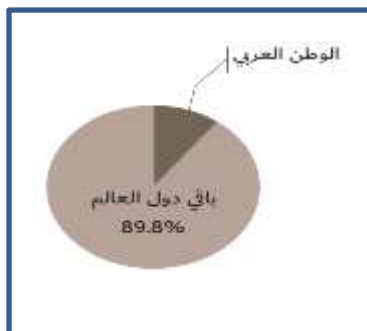
أوجد الآتي:

• عدد خطوط الطول التي يمتد عليها الوطن العربي {77}

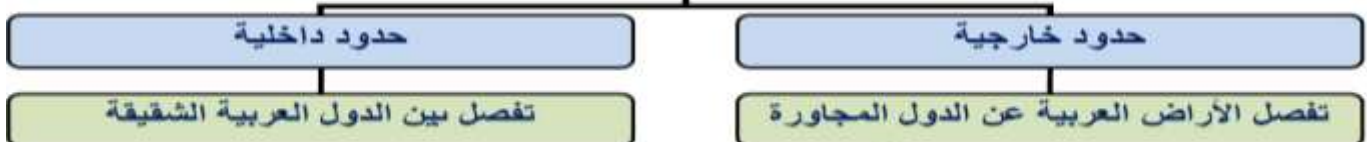
• عدد دوائر العرض التي تمتد عليها دولة الإمارات العربية المتحدة {4.5}

• نسبة مساحة الوطن العربي من مساحة العالم. (بالاستعانة بالشكل المقابل){11.2}

س- أصمم مخططاً ذهنياً يوضح أنواع الحدود في الوطن العربي.



أقسام الحدود السياسية للوطن العربي



س- أستنتج من الجدول أبرز الحقائق ذات العلاقة بمساحة الوطن العربي.

- تنوع الإنتاج الزراعي والحيواني والنباتي سمح بالتبادل التجاري.

- اختلاف أنواع الضخور أدى لتنوع الثروات المعدنية

س- أستخلص من خريطة الوطن العربي نتيجتين اثنتين ترتبنا على اتساع مساحة الوطن العربي.

- تنوع المناخ والإنتاج الزراعي والنباتي والحيواني.

- تنوع الثروة المعدنية ومصادر الطاقة

س- استخدم مهاراتك الإبداعية في تقديم حلول مناسبة للقضية العربية الآتية: استعادة دولة الإمارات العربية المتحدة لجزرها الثلاث المحتلة.

- عرض القضية على محكمة العدل الدولية.

- المفاوضات الثنائية والحل السلمي.

س / مثل بطريقة الأعمدة البيانات مساحة بعض الدول العربية الواردة أمامك ؟



الدرس الثاني: تضاريس الوطن العربي

1- من العوامل لباطنية التي أسهمت في تشكيل تضاريس الوطن العربي.

{ أ- التعرية ب- الترسيب ج- التواءات انكسارات زلزالية براكين }

2- من العوامل الخارجية التي أسهمت في تشكيل تضاريس الوطن العربي.

{ أ- التعرية ب- الترسيب ج- الرياح ودرجة الحرارة والمياه }

3- سمي اسم الشكل الذي أمامك في الوطن العربي.



{ أ- مقطع طبوغرافي ب- خطوط التسوية ج- مقطع تضاريسي }

4- عملية طبيعية تؤدي إلى انفصال الصخور أو التربة عن سطح الأرض في منطقة ما وانتقالها إلى منطقة

أخرى بتأثير العوامل الجوية. { أ- النحت ب- الترسيب ج- التعرية }

6- وهي جبال انكسارية تمتد بمحاذاة الساحل الشرقي للبحر المتوسط كسلسلتين متوازيتين

{ أ - جبال بلاد الشام ب - جبال كردستان ج - جبال زاغروس }

7- أكثر جهات الوطن العربي انخفاضاً -293 تحت سطح البحر هو البحر.

{ أ- المتوسط ب- الأحمر ج- الميت }

8- جبال كردستان وهي جبال إلتوانية تقع قرب الحدود مع تركيا وإيران وتوجد فيها أعلى قمم العراق حيث

يبلغ ارتفاعها 3067 م قمة. { أ- طوبقال ب- جيس ج- هكرد }

9- سلسلة جبال عمان وهي جبال { أ_ انكسارية ب- إلتوانية ج- بركانية }

10- سلسلة جبال عمان وهي جبال إلتوانية، تقع في جنوب شرق شبه الجزيرة العربية، وتشكل سلسلة

متصلة، لا يفصل بينها سوى وادي { أ- حام ب- الوريعة ج- سمائل }

11- أعلى قمة في سلسلة جبال عمان يصل ارتفاع بعض قممه إلى 3000م الجبل.

{ أ- طوبقال ب- جيس ج- الأخضر }

12- وهي جبال انكسارية نتجت عن حركات بطيئة أصابت الصخور الصلبة فأدت لارتفاع بعضها وانخفاض

البعض الآخر هي جبال . { أ- طوبقال ب- جيس ج- البحر الاحمر }

13- أعلى قمة في جبال اليمن ارتفاعها 3766م قمة . { أ- طوبقال ب- جيس ج- النبي شعيب }

13- أعلى قمة جبلية في الوطن العربي وهي قمة جبل (4165 م).

{ أ- طوبقال ب- جيس ج- النبي شعيب }

14- جبال أطلس وهي جبال التوائية، تتألف من مجموعة من السلاسل، تبدأ من الجنوب الغربي قرب ساحل

المحيط الأطلنطي، وتتجه نحو الشمال الشرقي بموازاة ساحل البحر المتوسط وهي جبال .

{ أ- انكسارية ب- التوائية ج- بركانية }

15- جبال دولة الإمارات العربية المتحدة جبال { أ- انكسارية ب- التوائية ج- بركانية }

16- تشكل جبال دولة الإمارات العربية المتحدة من مساحة الدولة بنسبة.

{ أ- 5% ب- 7% ج- 2.8% }

17- أعلى القمم الجبلية بدولة الإمارات العربية المتحدة في مرتفعات رؤوس الجبال قمة

{ أ- طوبقال ب- جيس ج- مسافي }

18- الهضاب تحتل مساحات واسعة من الوطن العربي تقدر بنحو

{ أ- 80% ب- 70% ج- 60% }

19- وهي هضبة متوسطة الارتفاع واسعة المساحة تمتد من الشرق إلى الغرب بطول خمسة آلاف كيلو متر

وتشكل الصحراء الكبرى وتسمى. { أ- نجد ب- حضرموت ج- هضبة أفريقيا الشمالية }

20- من المنخفضات والوحدات والأودية الجافة في هضبة أفريقيا الشمالية مثل:

{ أ- منخفض القطارة والفيوم وواحة الداخلة والخارجة في مصر والوادي الكبير في ليبيا- ب- جميع ما سبق }

21- توجد وجود بعض المرتفعات في هضبة أفريقيا الشمالية مثل:

{ أ- الحجاز ب- أطلس ج- تبيستي والحجار }

22- تكوينات كلسية صخرية صوانية التي تعرضت لعوامل النحت ويطلق عليها

{ أ- الرق ب- الحماد ج- العرق }

23- سهول صحراوية ترصفها فرشات سمكية من الحصى . { أ- الرق ب- الحماد ج- العرق }

24- وتشغل الجزء الأكبر من الجناح العربي الآسيوي، وهي تتكون من عدة هضاب مثل: هضبة نجد وهضبة

حضرموت { أ- نجد ب- هضبة شبه الجزيرة العربية ج- هضبة أفريقيا الشمالية }

25- تتخلل هضبة شبه الجزيرة العربية بعض الأودية الجافة مثل:

{ أ- حام ب- وادي الدواسر ج- سمائل }

26- تتخلل هضبة شبه الجزيرة العربية بعض الواحات مثل:

{ أ- منخفض القطارة ب- الوادي الكبير ج- العين والذيد }

27- يشمل الأجزاء الغربية من العراق وجنوب سوريا والأجزاء الشرقية من الأردن، وتقع إلى الشمال من

صحراء النفود. { أ- نجد ب- بلاد الشام ج- هضبة أفريقيا الشمالية }

28- هي السهول التي تكونت بفعل الإرسابات النهرية .

{ أ- الساحلية ب- الفيضية ج- الداخلية }

29- وهي الأراضي المنبسطة المظلة على المسطحات المائية.

{ أ- الساحلية ب- الفيضية ج- الداخلية }

30- من أمثلة السهول الساحلية في الوطن العربي سهول.

{أ- الخليج العربي ب- البحر المتوسط ج- تهامة د- كل العبارات صحيحة}

31- من أمثلة السهول الفيضية في الوطن العربي سهول.

{أ- النيل في مصر والسودان ب- دجلة والفرات في العراق ج- كل العبارات صحيحة}

32- هي مناطق مغطاة بالرمال على هيئة اشطرة رملية متعرجة من الكثبان الرملية تشبه العروق تسمى:

{ أ- الرق ب- الحماد ج- العرق }

س/- العوامل الرئيسية التي أسهمت في تشكيل تضاريس الوطن العربي

-عوامل باطنية مثال (التواءات انكسارات زلزلال براكين)

-عوامل خارجية مثال (رياح امطار مياه-)

س/- أوضح أبرز ملامح تضاريس الوطن العربي.

- تنوع أشكال التضاريس

- تشكل الجبال حدود طبيعية

- عامل ربط و اتصال بين الدول العربية

س / هات أدلة تبرهن من خالها أن التضاريس عامل إتصال في الوطن العربي ؟ - 1

-امتداد جبال أطلس من الغرب إلى الشرق .

-امتداد جبال الشام من الشمال إلى الجنوب .

س/- أحدد الفرق الرئيس بين البراكين والزلازل، وبين الالتواءات والانكسارات التي أثرت في تضاريس الوطن

العربي. {البراكين والزلازل هي حركات سريعة - الالتواءات والانكسارات هي حركات بطيئة }

س / عدد أنواع الجبال في الوطن العربي ؟

1-جبال التوائية) أطلس - زاجروس - عمان (2 - انكسارية) جبال البحر الأحمر - جبال الشام

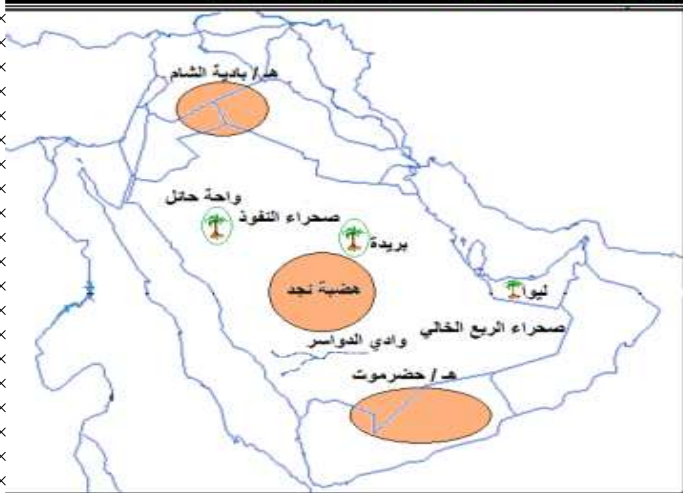
س / سجل الملامح الجغرافية التي تميز هضبة إفريقيا الشمالية ؟

- هضبة متوسطة الارتفاع .

- تنحدر من الجنوب تجاه الشمال

- تتخللها ظواهر تضاريسية متداخلة) واحات - منخفضات - مرتفعات قديمة - اودية جافة - الحماد

س / ما أبرز الملامح التي تميز الهضاب في الجناح الآسيوي ؟ انظر خريطة شبه الجزيرة العربية



1 ينقسم الجناح الآسيوي إلى ثلاثة هضاب :-

(أ) هضبة بلاد الشام // في الشمال تشمل أجزاء من العراق و سوريا و الأردن.

(ب) هضبة نجد // في الوسط .

(ج) هضبة حضرموت // في الجنوب .

2 منخفضات تغطيها الكثبان الرملية و تشمل :-

(أ) صحراء النفوذ // وتقع بين هضبة بلاد الشام في الشمال و هضبة نجد في الجنوب .

(ب) صحراء الربع الخالي // تقع بين هضبة نجد في الشمال و هضبة حضرموت في الجنوب .

3 واحات وتشمل :-

واحة حائل ، واحة بريدة في السعودية .

واحة ليوا في الإمارات العربية المتحدة

4 أودية جافة و تشمل :-

وادي الدواسر و وادي بيشه

س/- أصنّف الظواهرات الجغرافية الآتية وفق الجدول الآتي: (الكوس -بادية الشّام -الكوس -النّيل - طوبقال -
الذّيد - حضرموت - دجلة والفرات - الأخضر - ليوا - الخماسين

واحات	رياح محلية	سهول فيضيه	هضاب	جبال	انهار
ليوا- الذّيد	الخماسين	دجلة والفرات.	حضرموت بادية الشّام	الأخضر طوبقال	النّيل

س / ما الفرق بين مفهوم السهول الساحلية و السهول الفيضية ؟

السهول الساحلية : - هي السهول التي تكونت بفعل عمليات النحت والنقل والرساب البحري.

السهول الفيضية : - هي السهول التي تكونت بفعل عمليات النحت والنقل والرساب النهري

س/- أصوّب ما تحته خط في العبارات الآتية:

- تمتدّ هضبة نجد في اليمن.....السعودية
- يرتبط وجود السهول الفيضية بالبحار..... الأنهار
- تسمى التكوينات الحصوية في شرق ليبيا بالعرق..... الرق
- أعلى القمم الجبلية في الوطن العربي قمة جبل جيس..... جبل طوبقال
- أخفض نقطة عن مستوى البحر في الوطن العربي هو البحر الأحمر.....الميت
- الزلازل من العوامل الخارجية التي أثرت في تضاريس الوطن العربي.....الداخلية

س21- أفسّر ما يأتي:

س /- تنوع تضاريس الوطن العربي...

- بسبب العوامل الرئيسية التي أسهمت في تشكيل تضاريس الباطنية و الخارجية.

س/- تعدّ تضاريس الوطن العربي عاملاً من عوامل التّكامل الجغرافي في الوطن العربي.

- اتجاه الجبال من الشرق للغرب ساعد على استمرار الاتصال مثال جبال اطلس-

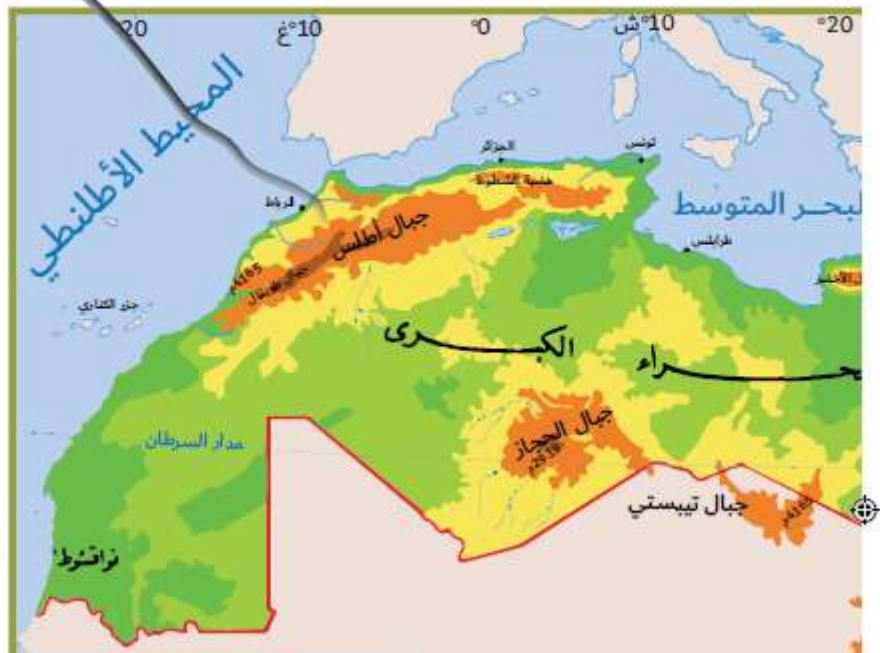
-توحد بوابات طبيعية ساعدت على الاتصال بين المناطق الساحلية والداخلية

س 22- ما المقصود بكلّ من؟

- السهول الفيضية: هي السهول التي تكوّنت بفعل الإرسابات النهريّة
- الجبال الانكسارية: حركات باطنية عنيفة وبطيئة تكونت في الزمن الجيولوجي الثالث
- الحماد: تكوينات كلسية صخرية تعرضت لعوامل النحت

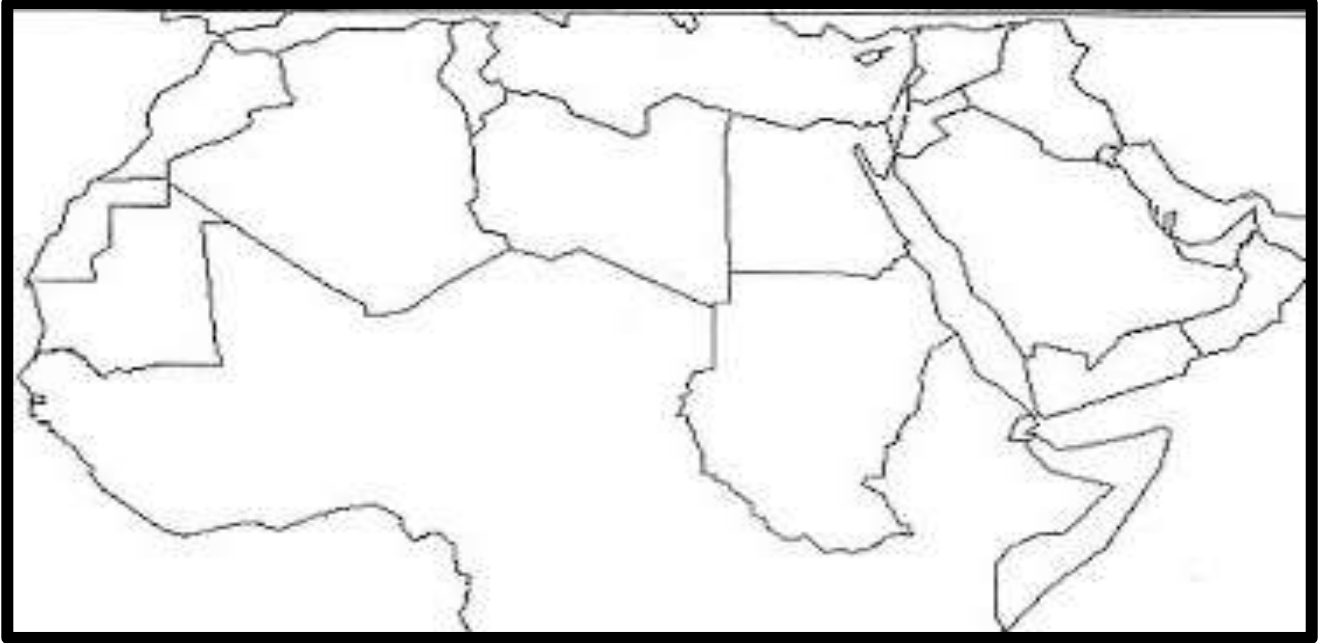
الرق: سهول صحراوية ترصفها فرشاة سمكية من الحصى

اكتب ما تدل عليه الأسهم عى خريطة تضاريس الوطن العربي



س/- أعدد على خريطة الوطن العربي الصماء الآتي، مع كتابة المسميات.

الإمارات العربية المتحدة، البحر المتوسط، مضيق باب المندب، المملكة العربية السعودية، المملكة المغربية، بحر عمان - خط الاستواء - قناة السويس - الجبل الاخضر).



الاستعمار الأوروبي في الوطن العربي

اختر الإجابة الصحيحة من بين البدائل التي تلي وضع دائرة حولها:

1س- السيطرة التي تفرضها دولة قوية على أخرى ضعيفة بهدف استغلال ثروتها

{أ- الاستعمار ب- الاستغفار ج- الاستمطار }

2- من امثلة الاستعمار الأوروبي {أ- اليابان ب- الصين ج- البريطاني}

3- تشجيع الدول الاستعمارية على الهجرة الى البلاد المحتلة وقتل ومصادرة اراضي السكان الأصليين.

{ أ- التمييز العنصري ب- القروض المالية ج- الاستيطاني}

4- من امثلة الاستعمار الاستيطاني في دول الوطن العربي {أ- فلسطين ب- مصر ج- لبنان}

5- اخضاع الدول الاستعمارية الشعوب الضعيفة باستخدام القوة العسكرية.

{أ- الانتداب ب- الوصاية ج- الاستعمار العسكري}

6- من امثلة الاستعمار الاستيطاني في دول الوطن العربي

{أ- القروض المالية ب- الغزو الثقافي ج- إسرائيل}

7- حرمان السكان الاصليين من جميع حقوقهم باعتبارهم ادنى مرتبة من المستعمرين

{أ- التمييز العنصري ب- القروض المالية ج- الغزو الثقافي }

8- من امثلة الاستعمار التمييز العنصري في دول الوطن العربي .

{ **العدو الصهيوني** ب- البريطاني ج - الفرنسي }

9- منح الدول الاستعمارية القروض بفوائد كبيرة لبعض الدول بحيث تعجز عن السداد ديوانها فتقوم باحتلالها .

{-أ- **القروض المالية** ب- الغزو الثقافي ج- الانتداب }

10- من امثلة الاستعمار **القروض المالية** في دول الوطن العربي { **أ- مصر** ب- سوريا ب- العراق }

11- فرض لغة المستعمر بدلا من لغة وثقافة السكان الأصليين { **أ- الانتداب** ب - الوصاية ج- **الغزو الثقافي** }

12- احتلال بلد معين واجبار حكامه على توقيع معاهدات حماية توضع بموجبها الشؤون الداخلية والخارجية والمالية تحت سيطرة المستعمر { **أ- الغزو الثقافي** ب- الانتداب ج - **الحماية** }

13- من امثلة الاستعمار **الوصاية** في دول الوطن العربي { **أ- دول الخليج** ب- السودان ج- ليبيا }

14- نظام ابتدعه الدول المنتصرة في الحرب العالمية الاولى لتقسيم ممتلكات الدول المهزومة بحجة النهوض بشعوبها في كافة المجالات { **أ. الحماية** ب - **الانتداب** ج- الوصاية }

15- من امثلة الاستعمار **الانتداب** في دول الوطن العربي { **أ- سوريا ولبنان** - السودان ج- تونس } .

16- نظام اقرته الامم المتحدة لادارة الشعوب التي كانت تقع تحت الانتداب بحجة ان هذه الشعوب لم تصل الى مستواها لادارة شؤونها بنفسها المجالات { **أ- الحماية** ب - الانتداب ج- **الوصاية** }

17- من امثلة الاستعمار **الوصاية** في دول الوطن العربي { **أ- ليبيا والصومال** - السودان ج- تونس } .

18- من الآثار التي ترتبت على الاحتلال البرتغالي لمنطقة الخليج العربي

أ- تحول طريق التجارة البحرية عن الخليج العربي والبحر الأحمر.

ب - تدهور الأحوال الاقتصادية بسبب احتكار البرتغاليين لتجارة الشرق ج- **كل ماسبق**

19- من دوافع الاستعمار البرتغالي لمنطقة الخليج العربي.

{ **أ/ - الدافع الاقتصادي** ب- تفكك العالم الإسلامي. ج- **كل ماسبق** }

20- قوى إسلامية كبرى استفاد البرتغاليون من الصراع القائم بينها وبين الدولة الصفوية ودولة المماليك، وقاموا باحتلال منطقة الخليج العربي: { **أ- الدولة العثمانية** ب- الدولة الصفوية ج -دولة المماليك }

21- إمام قاد أسرة اليعاربة للتخلص من النفوذ البرتغالي في الخليج العربي:

{ **أ- ناصر بن مرشد اليعربي** - ب - راشد بن مرشد اليعربي ج- هيثم بن مرشد اليعربي }

22- قائد ألباني تمكن من تحقيق نهضة مصر وسعى لقيام دولة عربية موحدة وحديثة:

{ **أ- محمد علي باشا** ب- إبراهيم محمد علي باشا ج- حمد محمد علي باشا }

س/- عرف مفهوم الاستعمار: السيطرة التي تفرضها دولة قوية على اخرى ضعيفة بهدف استغلال ثروتها

س/- مآشكال الاستعمار :

الاستيطان : تشجيع الدول الاستعمارية على الهجرة الى البلاد المحتلة وقتل ومصادرة اراضي السكان الاصليين

مثل: الاحتلال الإيطالي لليبيا والاحتلال الصهيوني لفلسطين.

الاحتلال العسكري : اخضاع الدول الاستعمارية الشعوب الضعيفة باستخدام القوة العسكرية
مثال: احتلال فرنسا للجزائر.

التمييز العنصري : حرمان السكان الاصليين من جميع حقوقهم باعتبارهم ادنى مرتبة من المستعمرين
مثال: جنوب أفريقيا وفلسطين

القروض المالية : منح الدول الاستعمارية القروض بفوائد كبيرة لبعض الدول بحيث تعجز عن السداد فتقوم باحتلالها مثال: احتلال فرنسا لتونس، واحتلال بريطانيا لمصر

الغزو الثقافي : فرض لغة المستعمر بدلا من لغة وثقافة السكان الاصليين

الحماية : احتلال بلد معين واجبار حكامه على توقيع معاهدات حماية توضع بموجبها الشؤون الداخلية والخارجية والمالية تحت سيطرة المستعمر مثال: معاهدات الحماية التي فرضتها بريطانيا على حكام الخليج العربي

الانتداب : نظام ابتدعه الدول المنتصرة في الحرب العالمية الاولى لتقسيم ممتلكات الدول المهزومة بحجة النهوض بشعوبها في كافة المجالات مثال: وضع سوريا ولبنان تحت الانتداب الفرنسي

الوصاية : نظام اقترته الامم المتحدة لادارة الشعوب التي كانت تقع تحت الانتداب بحجة ان هذه الشعوب لم تصل الى مستواها لادارة شؤونها بنفسها مثال: الوصاية الدولية على كل من ليبيا والصومال.

س/- اجيب عن الأسئلة التالية:

س/- أستخلص أسباب الاستعمار الأوروبي للوطن العربي.

ج/ الموقع الجغرافي المتميز للوطن العربي. - الوطن العربي مصدر للمواد الخام

- ضعف الدولة العثمانية - خوف اوربا من قيام دولة عربية موحدة - مكانة الوطن العربي الدينية.

س/- اجيب عن الأسئلة التالية:

س/- أحدد الآثار التي ترتبت على الاحتلال البرتغالي لمنطقة الخليج العربي.

ج/- انهيار النشاط البحري لدول الخليج.

- تحول طريق التجارة البحرية عن الخليج العربي والبحر الأحمر.

- تدهور الأحوال الاقتصادية بسبب احتكار البرتغاليين لتجارة الشرق

س/- ابيّن دوافع الاستعمار البرتغالي لمنطقة الخليج العربي.

ج/- الدافع الاقتصادي: السيطرة على طرق التجارة البحرية

- تفكك العالم الإسلامي: الصراع القائم بين القوى الإسلامية الكبرى .

س/- أكتب الاسم أو المفهوم أو المصطلح الدال على كل عبارة من العبارات التالية.

س/- قوى إسلامية كبرى استفاد البرتغاليون من الصراع القائم بينها وبين الدولة الصفوية ودولة المماليك،

وقاموا باحتلال منطقة الخليج العربي: (الدولة العثمانية)

س/- إمام قاد أسرة اليعاربة للتخلص من النفوذ البرتغالي في الخليج العربي: (ناصر بن مرشد)

س/- شكل استعماري، ويقصد بها احتلال بلد معين، واجبار حكامه على توقيع معاهدات يتم بموجبها وضع

الشؤون الخارجية والعسكرية والمالية تحت السيطرة المباشرة للدولة التي قامت الاحتلال: (الحماية)

س/- قائد ألباني تمكن من تحقيق نهضة مصر وسعى لقيام دولة عربية موحدة وحديثة: (محمد علي باشا)

س/- من أخطر أشكال الاستعمار، يسهم في إضعاف الشعوب المغلوبة على أمرها في معتقداتها، وثقافتها

وقيمها (الغزو الثقافي)

س/- من أشكال الاستعمار: .الاحتلال العسكري .الانتداب.في ضوء ذلك استكمل بيانات الجدول التالي:

م	المهمة	الإجابة
1	أكتب شكلاً ثالثاً من أشكال الاستعمار.	الغزو الثقافي
2	أي الأشكال السابقة يعدّ	الغزو الثقافي
3	الأكثر خطورة على الشعوب المستعمرة	يسهم في إضعاف الشعوب المغلوبة على أمرها في معتقداتها، وثقافتها وقيمها، عن طريق محاربة لغة السكان الأصليين، وإحلال لغة الدول الاستعمارية محلّها وكذلك اللجوء إلى طمس تاريخ هذه الشعوب أو تشويهه

س/- أحلّ النصّ، ثمّ أجب:

شهدت منطقة الخليج العربي وجنوب شبه الجزيرة العربيّة في مطلع القرن السّادس عشر الميلادي غزوًا استعماريًا تزعمته البرتغال، وكان له دوافعه واسالييه، ومنها:
الدّافع الصّليبي، والدّافع الاقتصادي، والتفكّك السياسيّ السّائد في العالم الإسلاميّ آنذاك، والصّراع الدائر بين القوى الإسلاميّة الكبرى (الدولة العثمانيّة والدولة الصّفويّة ودولة المماليك) واستطاع عرب الخليج بعد أن تحققت وحدتهم من التصدّي للغزو البرتغالي والتّخلص منه نهائيًا.

س/- حدّد الفكرة الرّئيسة في النصّ. ج/- الغزو البرتغالي

• ماذا كان يمكن أن يحدث لو:

س /- اتّحدت القوى الإسلاميّة الكبرى في مواجهة الغزو البرتغالي:

ج/- التصدّي للغزو البرتغالي والتّخلص منه نهائيًا

س/- اكتب أكبر عدد ممكن من القيم والدروس المستفادة من تصدّي عرب الخليج للاستعمار البرتغالي:

ج/- الوحدة – التّخلص من الغزو البرتغالي.

س/- أقرن بين أشكال الاستعمار الآتية وفق الجدول التّالي:

م	القروض الماليّة	التمييز العنصري
المفهوم	منح الدول الاستعمارية القروض بفوائد كبيرة لبعض الدول بحيث تعجز عن السداد فتقوم باحتلالها	حرمان السكان الاصليين من جميع حقوقهم باعتبارهم ادنى مرتبة من المستعمرين
مثالاً واحداً على كلّ منهما	احتلال فرنسا لتونس، واحتلال بريطانيا لمصر	جنوب أفريقيا وفلسطين

التجارة الدولية

اختر الإجابة الصحيحة من بين البدائل التي تلي وضع دائرة حولها:

- 1- والتي تعرف بأنها تبادل (انتقال) السلع والخدمات عبر الحدود الدولية، أي بين الدول المختلفة.
{ أ- التجارة الداخلية ب- التجارة الدولية ج- التجارة الإقليمية }
- 2- تبادل السلع والخدمات تبادلها في مدن وقرى الدولة الواحدة جميعها وهو ما يعرف بالتجارة الداخلية.
{ أ- التجارة الداخلية ب- التجارة الدولية ج- التجارة الإقليمية }
- 3- هي العملة الموحدة لدول الاتحاد الأوروبي
{ أ- الين ب- اليورو ج- الدولار }
- 4- تم بدء التعامل باليورو عام 1999 م على النطاق المصرفي، وابتداء من الأول من يناير عام
{ أ- 2002 ب- 2003 ج- 2004 }
- 5- فبعض الدول لا تحظى عملاتها بقبول عام لدى دول العالم مثل:
{ أ- الروبية الهندية ب- الليرة السورية و البيسو الفلبيني ج- كل ماسبق ذكره }
- 6- بعض الدول تحظى عملاتها بقبول عام لدى دول العالم جميعها مثل: (الين الياباني، الدولار الأمريكي).
{ أ- اليورو الأوروبي ب- الجنية الإسترليني والولار ج- كل ماسبق ذكره }
- 7- من مجالات التجارة الإلكترونية
{ أ- التجميل والسياحة ب- الفنادق والأنشطة الترفيهية ج- الإلكترونيات والكتب د- كل ماسبق ذكره }
- 8- من بضائع دولية مثل: { أ- النפט المعادن الأخشاب ب- السيارات المنسوجات والأثاث ج- الملابس الوطنية }
- 9- من بضائع شبه دولية . { أ- النפט المعادن الأخشاب ب- السيارات المنسوجات والأثاث ج- الملابس الوطنية }
- 10- من البضائع محلية مثل: { أ- النפט المعادن ب- السيارات المنسوجات والأثاث ج- الملابس الوطنية }
- 11- يتم تبادل الخدمات بين الدول مثل: الخدمات التعليمية والصحية والمصرفية والسياحية والإعلامية وغيرها
{ أ- الواردات غير المنظورة ب- الصّادرات غير المنظورة ج- التصدير }
- 12- الخدمات التي يتم تلقيها من الغير، فتسمى
{ أ- الواردات غير المنظورة ب- الصّادرات غير المنظورة ج- التصدير }
- 13- مزايا التجارة الداخلية.
{ أ- سهولة انتقال عناصر الإنتاج و تحديد الأسعار ج- وحدة النظام النقدي و القوانين التجارية ج- كل ماسبق ذكره }
- 14- من مزايا التجارة الدولية.

{أ- قدرة الدولة على تصريف منتجاتها الزائدة عن الحاجة ب- من أهم مصادر دخل الدولة ج- التقليل من تكاليف إنتاج السلع د- تشغيل الأيدي العاملة ه- كل ما سبق ذكره }

15- هي نوع من عمليات البيع والشراء ما بين المنتجين والمستهلكين أو بين المؤسسات التجارية من خلال استخدام شبكة الإنترنت. {أ- التجارة الإلكترونية ب- التجارة الدولية ج- التجارة الإقليمية }

16- من أهم سمات التجارة التجارية الإلكترونية.

{أ- سرعة إنجاز المعاملات ب- إنجاز عدة معاملات في وقت واحد ج- قلة التكاليف د- كل ما سبق ذكره }

17- من عوامل التخصص في الإنتاج.

{أ- اختلاف توزيع الموارد الطبيعية

ب- التفاوت في توزيع الأيدي العاملة

ج- توافر التكنولوجيا الحديثة.

د- كل ما سبق ذكره

س/- مزايا التجارة الداخلية.

ج/- سهولة انتقال عناصر الإنتاج - القدرة على تحديد الأسعار - وحدة النظام النقدي - وحدة القوانين التجارية. س/- من مزايا التجارة الدولية.

ج/- قدرة الدولة على تصريف منتجاتها الزائدة عن الحاجة.

- عائداتها المالية من أهم مصادر دخل الدولة.

- تساعد على التقليل من تكاليف إنتاج السلع والخدمات مرتفعة التكاليف

- تشغيل عدد كبير من الأيدي العاملة

س/- ومن أهم سمات التجارة التجارية الإلكترونية.

ج/- سرعة إنجاز المعاملات .

- إنجاز عدة معاملات في وقت واحد .

- قلة التكاليف

س/- عوامل التخصص في الإنتاج.

ج/- اختلاف توزيع الموارد الطبيعية .

- التفاوت في توزيع الأيدي العاملة.

- توافر التكنولوجيا الحديثة.

س/- أوضّح المقصود بالمفاهيم والمصطلحات الآتية:

س/- التجارة الدولية: تعرف بأنها تبادل (انتقال) السلع والخدمات عبر الحدود الدولية.

س/- التجارة الإلكترونية: وهي نوع من عمليات البيع والشراء ما بين المنتجين والمستهلكين أو بين المؤسسات التجارية من خلال استخدام شبكة الإنترنت.

س/- الصادرات غير المنظورة: الخدمات التي تؤدي للغير.

س/- أفسر ما يأتي:

س/- عدم قدرة الدولة بمفردها على تحقيق الاكتفاء الذاتي لاحتياجاتها كلها .

ج-/تمتلك بعض الدول العوامل التي تساعد على إنتاج بعض السلع، لكنها لا تمتلك عوامل أخرى تمكنها من تحقيق الاكتفاء الذاتي
س/-صعوبة انتقال عناصر الإنتاج بين الدول.

ج-/ القيود القانونية . - القيود الثقافية . - القيود الاقتصادية .

س/- أهمية التجارة الدولية.

ج/- مبدأ ندرة الموارد - مبدأ التخصصية

- تعزيز العلاقات الدولية - تدعيم القدرة التسويقية - بناء أنظمة اقتصادية قوية

س /- أصنف السلع التي بين القوسين وفقاً لما يناسبها في الجدول الآتي:

(الثلاجة - الملابس الوطنية - المطاط - النحاس - القوارب - الطائرة)

بضائع محلية	بضائع دولية	بضائع شبه دولية
- الثلاجة - الملابس الوطنية	- النحاس - المطاط	- القوارب - الطائرة

س/- أقدم مثالين لكل مما يأتي:

• عملات قابلة للتحويل ج/ - الدولار \ الين اليورو

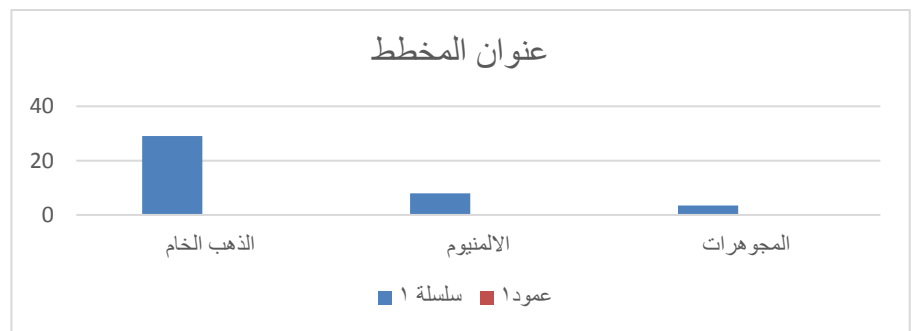
• عوامل التخصص في الإنتاج. ج/- توفر النفط يؤدي الى الصناعة البتروكيمياوية-

- وجود القطن يؤدي صناعة الملابس

• مجالات التجارة الإلكترونية: ج/- السياحة - الفنادق - الملابس - الكتب- الاكترونيات....الخ

س/- أمثل بيانياً بطريقة الأعمدة نسبة الصادرات الإجمالية غير النفطية لدولة الإمارات العربية المتحدة

(الذهب الخام - المجوهرات - الألمنيوم الخام).



س/- بالتعاون مع مجموعتي، أقدم مقترحات إبداعية لكل مما يأتي:

س/- تطوير التجارة الإلكترونية بين دول مجلس التعاون الخليجي.

ج/- توقيع اتفاقيات بين الدول - انشاء مواقع مشترك- اعفاء من الضرائب.

س/- تخصص دولة الإمارات العربية المتحدة في إنتاج سلعة محددة .

ج/- جودة المنتج -تدريب اليد العاملة - توفير التقنية - توفر رؤوس الأموال.

س/- أصمّم مخطّطاً ذهنياً يوضّح أشكال التّبادل التّجاري.



دستور دولة الإمارات العربيّة المتّحدة .

اختر الإجابة الصحيحة بين الاقواس فيما يلي:

- 1- نصّ الدّستور على أنّ دولة الإمارات العربيّة المتّحدة دولةٌ اتّحاديّةٌ { أ- مستقلّة ذات سيادة. ب- ذات سيادة فقط ج - مستقلّة فقط }
- 2- يمارسُ الاتّحاد السّيادة على جميع الأراضي والمياه الإقليميّة { أ- داخل حدود الدولة ب- خارج حدود الدولة ج - حدود الدولة }
- 3- أ كدّ الدّستور في نصوصه الانتماء العربيّ الإسلاميّ للاتّحاد أن الدين الرسميّ للاتّحاد. { أ- المسيحية ب- الإسلامي ج- اليهودية }
- 4- أ كدّ الدّستور في نصوصه الانتماء العربيّ الإسلاميّ للاتّحاد أن اللغة الرسميّة للاتّحاد. { أ- الألمانية ب- الهنديّة ج - العربيّة }
- 5- أ كدّ الدّستور في نصوصه ضرورة تأييد القضايا والمصالح العربيّة والاسلاميّة ومساندتها ومنها. { أ- أفغانستان اليمن - فلسطين - الصّومال ب- كل ما سبق }
- 6- تضمّن دستور دولة الإمارات العربيّة المتّحدة اتّجاهات اجتماعيّة واقتصاديّة عديدة لضمان استقرارها ومنها :
أ- المساواة وتوفير الأمن والطمأنينة ولا تكافؤ فرص العمل ب- المساواة وتوفير الأمن والطمأنينة وتكافؤ فرص العمل ج- المساواة ولا توفير الأمن والطمأنينة وتكافؤ فرص العمل د- كل ما سبق }
- 7- تضمّن دستور دولة الإمارات العربيّة المتّحدة اتّجاهات اجتماعيّة واقتصاديّة عديدة لضمان استقرارها ومنها :
{ أ- رعاية الطّفولة والأمومة فقط ب- رعاية الطّفولة والأمومة وحماية القصر وأصحاب الهمم ج - حماية القصر }
- 8- ضمان حقّ التعليم لكلّ مواطن حيث قرّرت المادّة (17) أن: "التّعليم عامل أساسيّ لتقدّم المجتمع" وأنّه { أ- إلزامي في مرحلته الابتدائيّة ب- إلزامي في مرحلته الإعداديّة ج- إلزامي في مرحلته الثانويّة }
- 9- ضمان حقّ التعليم لكلّ مواطن حيث قرّرت المادّة (17) أن: "التّعليم عامل أساسيّ لتقدّم المجتمع" وأنّه

- { **أ- مجاني في كلّ مراحل داخل الإتحاد** ب - مجاني في كلّ الابتدائية ج- مجاني في كلّ المرحلة لثانوية
10- أولى دستور دولة الإمارات العربية المتحدة أهمية واسعة لحرّيات المواطنين وحقوقهم ومنها . {
{ **أ- المساواة أمام القانون والتأكيد على استقلال القضاء**. ب - المساواة فقط ج- المسؤولية أمام المجتمع {
11- تعني حصول المواطن على حقوقه دون التّعدي على حقوق الآخرين.

{ **أ- كفالة الحرّية العامة ب-كفالة الحرّية دون الشّخصية ج-كفالة الحرّية الشّخصية** }

12-حرص الدستور على أن يضع في مقابل كلّ ما كفله من حقوقٍ واجباتٍ أساسيةٍ وهي:

{ **أ - أربع ب - خمس ج ثلاثة** }

13- حرص الدستور على أن يضع في مقابل كلّ ما كفله من حقوقٍ، ثلاثة واجباتٍ أساسيةٍ، هي:

{ **أ- احترام الدستور والأوامر والقوانين . ب- أداء الضّرائب ج- الدفاع عن الإتحاد د- كل ما سبق ذكره** }

س/- عرف الدستور: هو مجموعة القواعد والقوانين التي تحدّد نظام الحكم في الدولة، وتنظّم السلطات العامة في الدولة وتحدّد مهامها، وتبيّن ما للأفراد من حرّيات عامّة وحقوقٍ وواجباتٍ.

س/- أوضح أهمية وجود الدستور بالنسبة:

• للدولة : تنظيم السلطات في الدولة

• للمواطنين : تبين حقوقه واجباته

س/- أيهما يعتبر مصدرًا للأخر الدستور أم القوانين :

الدستور مصدر القوانين

س/- بم تفسّر اعتبار اللغة العربية اللغة الرسميّة للدولة :

عروبة شعب الإمارات وانتمائه إلى الأمة العربية

س /- أختار الإجابة الصحيحة من بين البدائل:

• صدر دستور دولة الإمارات العربية المتحدة في الثاني من ديسمبر عام:

(1971 م 1972 م 1973 م)

• أصبح دستور دولة الإمارات العربية المتحدة في عام 1996 م:

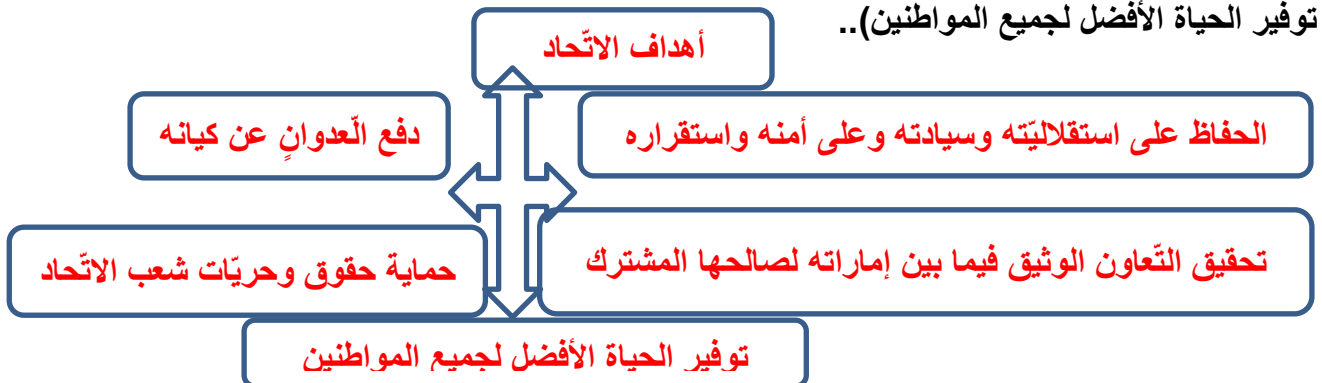
(دائمًا مؤقتًا يتغيّر كلّ سنة).

• يتكوّن الدستور من (152) مادة موزّعة على عدد من الأبواب تبلغ:

(20). 12 (10).

س/-اقرأ المادة العاشرة من الدستور وأصمّم مخطّطاً ذهنيّاً يوضّح أهداف الإتحاد.

أهداف الإتحاد هي: الحفاظ على استقلاليتّه وسيادته وعلى أمنه واستقراره ودفع كلّ عدوانٍ عن كيانه.. وحماية حقوق وحرّيات شعب الإتحاد وتحقيق التعاون الوثيق فيما بين إماراته لصالحها المشترك.. و توفير الحياة الأفضل لجميع المواطنين)..



س/- أضع أهدافاً مستقبلية خاصةً بي كمواطنٍ مشتقةً من الاتجاهات الاجتماعية والاقتصادية لدستور بلادي ؟

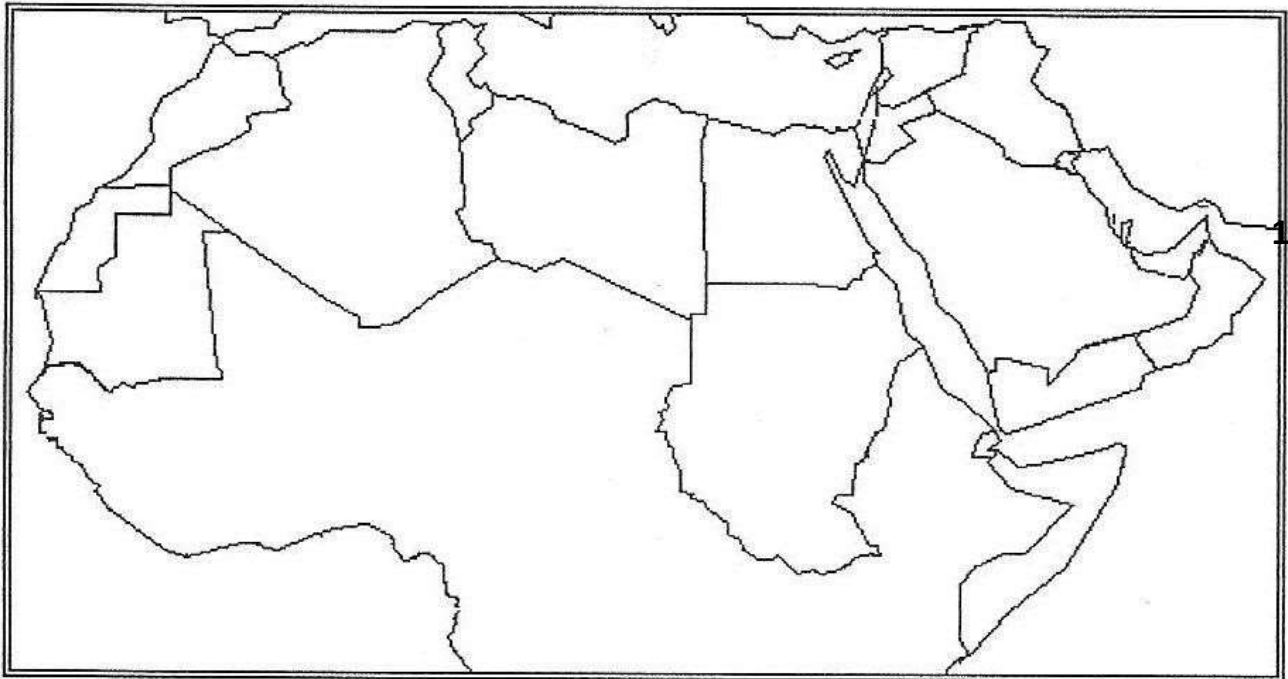
س/- أوضّح الأسباب التي تدفعني للقيام بواجباتي تجاه وطني؟

س/- أقرن بين الحقوق والواجبات التي أقرّها الدستور في الجدول التالي:

الحقوق	الواجبات
المساواة أمام القانون والتأكيد على استقلال القضاء	احترام الدستور والأوامر والقوانين.
كفالة الحرية الشخصية	أداء الضرائب -الدفاع عن الاتحاد.

س /- أحدّد على خريطة الوطن العربي الصّماء ما يأتي، مع كتابة التسميات.

- 1 • دولة الإمارات العربية المتّحدة.
- 2 • المملكة العربية السّعودية
- 3 • دولة الكويت.
- 4 • مملكة البحرين.
- 5 • الجمهورية اليمنية.
- 6 • جمهورية مصر العربية.



شراكة إماراتية - سعودية راسخة

إختار الإجابة الصحيحة من بين البدائل التي تلي كل عبارة:

- 1- ما الروابط المشتركة بين البلدين الشقيقين (دولة الامارات العربية المتحدة والمملكة العربية السعودية)
{أ- الدين الإسلامي - اللغة العربية - الوحدة الجغرافية -المصير المشترك - التاريخ المشترك ب - **جميع ما ذكر**}
- 2- صاحب المقولة {إن العلاقات الإماراتية - السعودية تجسد واضح لمعاني الأخوة والمحبة والروابط التاريخية}
صاحب السمو الشيخ {محمد بن راشد آل مكتوم -سلطان بن محمد القاسمي - **محمد بن زايد آل نهيان**}
- 3- وقّعت المملكة العربية السعودية ودولة الإمارات العربية المتحدة على إنشاء مجلس التنسيق الإماراتي السعودي في قصر السلام بمدينة { أ- مكة ب- الرياض ج - **جدة** }
- 4- تمّ تشكيل تجمع إماراتي سعودي لبناء مدينة الملك عبدالله الاقتصادية على ساحل البحر الأحمر بقيادة شركة { أ- إعمار الكويتية ب- إعمار السعودية ج- **إعمار الإماراتية** }
- 5- أفسر قيام الشراكة الاقتصادية الإماراتية السعودية .
{ أ - تعزيز القدرات الاقتصادية والتنمية ب- توفير الاستقرار الاجتماعي وتحقيق التنمية المستدامة ج- **جميع ما ذكر** }.
- 6- مقومات السياحة المشتركة بين دولة الإمارات العربية المتحدة والمملكة العربية السعودية:
{ أ- الأمن والاستقرار ب- الموقع الجغرافي ت- رأس المال ث- البنية التحتية خ- **جميع ما ذكر** }.
- 7- تمّ اطلاق مدينة الملك عبدالله الاقتصادية في: { أ- دبي ب- أبوظبي ج - **جدة** }
- 8- تحلية المياه والتقنيات النظيفة من مشاريع. { أ- التجارة ب - السياحة ج - **الطاقة** }
- 9- أستخلص أهداف الشراكة الأمنية بين دولة الإمارات العربية المتحدة والمملكة العربية السعودية:
{ أ_ نصره القضايا العربية والإسلامية ب- مجاربة الارهاب ت- تحقيق الامن والاستقرار ح- دعم مسيرة العمل الخليجي خ- الدفاع عن المصالح العربية ج- **جميع ما سبق** }
- 10- اختارت الدول المشاركة في القمة المملكة العربية السعودية لتكون مقرًا لمركز (اعتدال) في مدينة { أ- جدة ب- المدينة المنورة ج- **الرياض** }
- 11- إن التحالف العربي لدعم الشرعية في اليمن بقيادة السعودية والذراع الإماراتية القوية يهدف:
{ أ- عودة الشرعية ب - هزيمة المخطّط الخارجي ج- **جميع ما سبق صحيح** }
- 12- أقرن بين دولة الامارات العربية المتحدة والمملكة العربية السعودية من حيث حجم التبادل التجاري بين البلدين.

المملكة العربية السعودية	دولة الإمارات العربية المتحدة
16.5 مليار درهم الصادرات السعودية إلى الإمارات	33 مليار درهم واردات المملكة من الإمارات

س/- إختار الإجابة الصّحيحة من بين البدائل التي تلي كل عبارة:

• تمّ إطلاق مدينة الملك عبدالله الاقتصادية في: { دبي - أبوظبي - جدة }

• تحلية المياه والتّقنيات النّظيفة من مشاريع. { التجارة - السّياحة - الطّاقة }

• وقّعت دولة الإمارات العربيّة المتّحدة والمملكة العربيّة السّعوديّة على محضر المجلس التّنسيقي الإماراتي

السّعودي في مدينة. { جدة - الشّارقة - الرّياض }

س/- أسجّل درساً مستفاداً من الشّراكة الأمنيّة بين دولة الإمارات العربيّة المتّحدة والمملكة العربيّة السّعوديّة.

• تعزيز الأمن القومي للبلدين . • تعزيز التنمية الاقتصادية والرفاهية للشعبين.

س/- أستخلص أهداف الشّراكة الأمنيّة بين دولة الإمارات العربيّة المتّحدة والمملكة العربيّة السّعوديّة:

• - مجاربة الارهاب- تحقيق الامن والاستقرار • -نصرة القضايا العربية والإسلامية

• - دعم مسيرة العمل الخليجي • - الدفاع عن المصالح العربية

أضع أهدافاً مستقبليةً لتعميق الشّراكة بين دولة الإمارات العربيّة المتّحدة والمملكة العربيّة السّعوديّة.

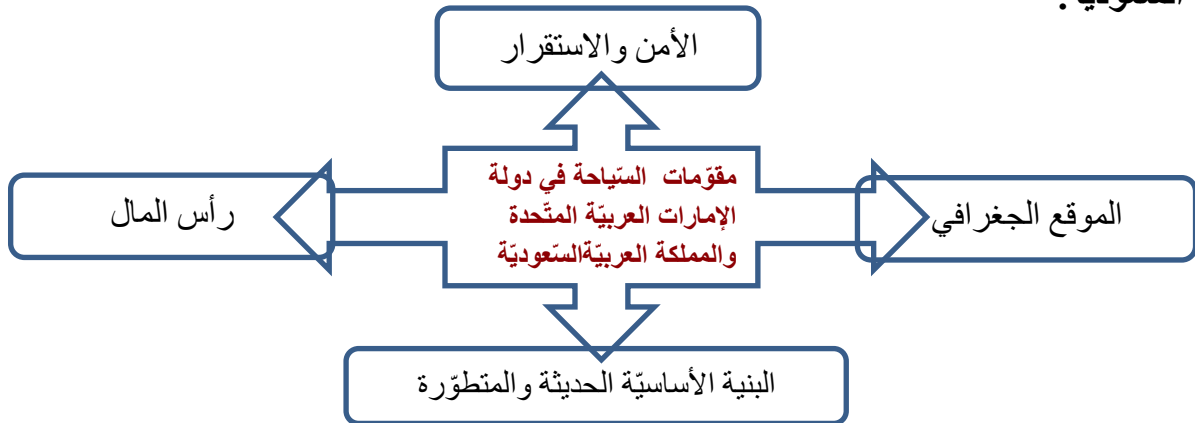
• - التعاون والمساهمة في اقتصاد المعرفة. • - إقامة مشاريع في مجال الطاقة الشمية.

أحدّد على خريطة الوطن العربي الصّماء ما يأتي:

دولة الإمارات العربيّة المتّحدة، المملكة العربيّة السّعوديّة، أبوظبي العاصمة، مدينة جدّة، مدينة الرّياض

س/-صمّم مخطّطاً ذهنيّاً يوضّح مقومات السّياحة المشتركة بين دولة الإمارات العربيّة المتّحدة والمملكة

العربيّة السّعوديّة:



أحدّدُ على خريطةِ دولةِ الإماراتِ العربيّةِ المتّحدةِ موقعَ كلِّ من: الخليجِ العربيّ. - بحرِ عمان. - العاصمةِ
أبوظبيي. السعودية - سلطنة عمان - مدينة الفجيرة - جزرِ طنّبِ الكبرى وطنّبِ الصغرى وأبوموسى

