

مراجعة الفيزياء الصف التاسع الفصل الثالث



الوحدة 8

الشغل والطاقة والآلات

الفكرة الرئيسية: يؤدي القيام بشغل على نظام ما إلى تغيير طاقته.

الأقسام

1 الشغل والطاقة

2 الآلات

almanahj.com/ae

الفكرة الرئيسية

الشغل هو انتقال للطاقة يحدث عند تطبيق قوة ما باتجاه إزاحة ما.

الأسئلة الرئيسية

- ما المقصود بالشغل؟
- ما المقصود بالطاقة؟
- كيف يرتبط الشغل بالطاقة؟
- ما المقصود بالقدرة وكيف ترتبط بالشغل والطاقة؟

مراجعة المفردات

قانون حفظ الزخم law of conservation of momentum
قانون حفظ الزخم conservation of momentum
على أن الزخم في أي نظام مغلق ومعزول لا يتغير

مفردات جديدة

الشغل work
الجول joule
الطاقة energy
نظرية الشغل - الطاقة work-energy theorem

الطاقة الحركية kinetic energy
الطاقة الحركية الانتقالية translational kinetic energy

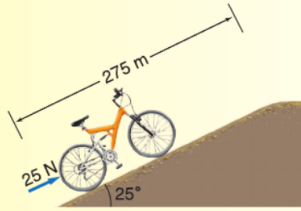
القدرة power
الواط watt

تطبيق

1. راجع المثال 1 لحل المسألة التالية.
 - a. إذا بذل لاعب الهوكي ضعف القوة (9.00 N) على قرص الهوكي خلال المسافة نفسها، فكيف ستتأثر كمية الشغل الذي بذلته العصا على قرص الهوكي؟
 - b. إذا بذل لاعب الهوكي قوة مقدارها 9.00 N ولكن بقيت العصا ملامسة للقرص لنصف المسافة فقط (0.075 m)، فما مقدار الشغل الذي تبذله العصا على القرص؟
2. يبذل طالبان مئلا قوة مقدارها 825 N لدفع سيارة مسافة 35 m.
 - a. ما مقدار الشغل الذي يبذله الطالبان على السيارة؟
 - b. إذا تضاعفت قوتيهما، فما مقدار الشغل الذي يجب أن يبذلاه على السيارة لدفعها للمسافة نفسها؟
3. تحمّل متسلقة صخور حقيبة ظهر كتلتها 7.5 kg أثناء تسلق منحدر صخري وبعد 30.0 min وصلت المتسلقة إلى ارتفاع 8.2 m فوق نقطة البداية.
 - a. ما مقدار الشغل الذي تبذله المتسلقة على حقيبة الظهر؟
 - b. إذا كان وزن المتسلقة 645 N، فما مقدار الشغل الذي بذلته لرفع نفسها وحقيبة الظهر؟
4. مسألة تحفيزية تدفع نوب صندوقاً كتلته 3.0 kg مسافة 7.0 m على الأرض بقوة مقدارها 12 N ثم ترفع الصندوق لتضعه فوق رف على ارتفاع 1 m فوق سطح الأرض. فما مقدار الشغل الذي تبذله نوب على الصندوق؟

تطبيق

5. إذا كان البحار في المثال 2 قد سحب القارب بقوة نفسها خلال الإزاحة نفسها ولكن بزاوية 30.0° ، فما مقدار الشغل الذي يبذله الحبل على القارب؟
6. يرفع شخصان صندوقاً بارتفاع 15 m ويستخدمان حبلين يصنع كل منهما زاوية 15° مع المحور الرأسي. يبذل كل من الشخصين قوة مقدارها 225 N، فما مقدار الشغل الذي يبذله الحبلان؟
7. يحمل راكب طائرة حقيبة سفر وزنها 210 N إلى أعلى السلم، وتبلغ الإزاحة 4.20 m رأسياً و 4.60 m أفقياً.
 - a. ما مقدار الشغل الذي يبذله الراكب على حقيبة السفر؟
 - b. حمل الراكب نفسه حقيبة السفر نفسها مرة أخرى من أعلى السلم إلى أسفل السلم، فما مقدار الشغل الذي يبذله الراكب على حقيبة السفر؟
8. يُستخدم حبل في سحب صندوق معدني مسافة 15.0 m على الأرض. فإذا كان الحبل مربوطاً بزاوية 46.0° على الأرض وتؤثر قوة مقدارها 8 N في الحبل، فما مقدار الشغل الذي يبذله الحبل على الصندوق؟
9. مسألة تحفيزية راكب دراجة يدفع دراجة كتلتها 13 kg إلى أعلى تلة بارتفاع 275 m. يبلغ الميل 25° وطول الطريق 275 m كما هو موضح في الشكل 5. ويدفع الراكب الدراجة في اتجاه مواز للطريق بقوة مقدارها 25 N.
 - a. ما مقدار الشغل الذي يبذله الراكب على الدراجة؟
 - b. ما مقدار الشغل الذي تبذله قوة الجاذبية على الدراجة؟



الشكل 5

تطبيق

10. يُرفع صندوق يزن 575 N رأسياً إلى أعلى مسافة 20.0 m بواسطة سلك موصل بمحرك. يتحرك الصندوق بسرعة متجهة ثابتة وتكتمل المهمة خلال 10.0 s. فما القدرة التي يولدها المحرك بوحدة W ووحدة kW؟
11. تدفع عربة يدوية مسافة 60.0 m وبسرعة ثابتة لمدة 25.0 s لبذل قوة مقدارها 145 N أفقياً.
 - a. ما مقدار القدرة التي تولدها؟
 - b. إذا كتبت تحرك العربة اليدوية بضعف السرعة، فما مقدار القدرة التي تولدها؟
12. ما مقدار القدرة التي تولدها مضخة لرفع 35 L من الماء كل دقيقة من عمق 110 m (كل 1 L من الماء تبلغ كتلته 1.00 kg)؟
13. يولد محرك كهربائي قدرة 65 kW أثناء رفع مصعد مكتمل الحمولة مسافة 17.5 m خلال 35 s. ما مقدار القوة التي يبذلها المحرك؟
14. مسألة تحفيزية يتم الإعلان عن رافعة صممت لتركبها على شاحنة، كما هو موضح في الشكل 8، ويزعمون أنها قادرة على بذل قوة مقدارها 6.8×10^3 N وتوليد قدرة مقدارها 0.30 kW. ما الزمن الذي تستغرقه الشاحنة والرافعة لسحب جسم ما مسافة 15 m؟

الشكل 8



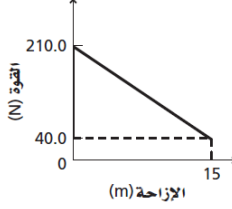
15. **الطاقة الحركية الرئيسية** إذا ضاعف الشغل المبذول على جسم ما من طاقته الحركية، فهل يضاعف سرعته؟ إذا لم يكن كذلك، فما نسبة تغييره للسرعة؟
16. **الشغل** يدفع سالم جسمًا كتلته 20 kg مسافة 10 m على أرضية بقوة أفقية مقدارها 80 N. احسب مقدار الشغل الذي يبذله سالم على الكتلة.
17. **الشغل** افترض أنك تدفع سيارة متوقفة، وأثناء حركة السيارة، تحتاج إلى قوة أقل وأقل كي تستمر في الحركة. خلال أول 15 m تناقصت قوتك بمعدل ثابت من 210.0 N إلى 40.0 N. فما مقدار الشغل الذي بذلته على السيارة؟ ارسم رسمًا بيانيًا للقوة - الإزاحة لتمثيل الشغل المبذول خلال هذه الفترة.
18. **الشغل** يحمل ناقل الأثاث ثلاجة كتلتها 185 kg إلى شاحنة نقل يدفع الثلاجة بسرعة ثابتة إلى أعلى منصة تحميل منحدره عديمة الاحتكاك طولها 10.0 m ويزاوية ميل قدرها 11°. ما مقدار الشغل الذي يبذله ناقل الأثاث على الثلاجة؟
19. **الشغل** تسقط كرة كتلتها 0.180 kg مسافة 2.5 m، فما مقدار الشغل الذي تبذله قوة الجاذبية على الكرة؟
20. **الشغل والقدرة** هل يعتمد الشغل اللازم لرفع كتاب إلى رف عالٍ على مقدار سرعة رفعه؟ وهل تعتمد القدرة اللازمة لرفع الكتاب على سرعة رفعه؟ اشرح.
21. **القدرة** يرفع مصعد كتلة إجمالية تبلغ 1.1×10^3 kg مسافة 40.0 m خلال 12.5 s. ما مقدار القدرة التي يولدها المصعد؟
22. **الكتلة** ترفع رافعة شوكية صندوقًا بمقدار 1.2 m وتبذل عليه شغلًا مقداره 7.0 kJ. ما كتلة الصندوق؟
23. **الشغل** تحمل أنت وصديقك صندوقين متماثلين من الطابق الأول في المبنى إلى غرفة تقع في الطابق الثاني عند نهاية الممر. واخترت أن تحمل الصندوق أولًا وتصعد به على السلالم ثم تسير عبر الممر إلى الغرفة. أما صديقك فقد حمل صندوقه من الممر في الطابق الأول ثم صعد سلمًا مختلفًا حتى وصل إلى الطابق الثاني. كيف تقارن بين كميتي الشغل الذي بذلتماه على الصندوقين؟
24. **التفكير الناقد** اشرح كيفية إيجاد التغير في طاقة نظام ما إذا أثرت فيه ثلاث قوى في آن واحد.

	الشغل
	الجول
	الطاقة
	نظرية الشغل-الطاقة
	الطاقة الحركية
	الطاقة الحركية الانتقالية
	القدرة
	الواط

1	<p>اعتمد على المثال 1 لحل المسألة التالية:</p> <p>a. إذا أثر لاعب الهوكي بضعف القوة، أي 9.00 N، في القرص، فكيف تتغير طاقة حركة القرص؟ لما كانت</p> <p>b. إذا أثر اللاعب بقوة مقدارها 9.00 N في القرص، ولكن بقيت العصا ملائمة للقرص لنصف المسافة فقط، أي 0.075 m، فما مقدار التغير في الطاقة الحركية؟ لما كانت</p> <p>$W = Fd$</p> <p>فإن تقليل المسافة إلى النصف سيقطل الشغل إلى النصف، ومن ثم يؤدي إلى تقليل التغير في الطاقة الحركية بمقدار النصف، فيصبح 1.35 J.</p> <p>$W = Fd$ و $\Delta KE = W$</p> <p>فإن مضاعفة القوة تؤدي إلى مضاعفة الشغل، ومن ثم يؤدي إلى مضاعفة التغير في الطاقة الحركية ليصبح 1.35 J.</p>
2	<p>يؤثر طالبان معاً بقوة مقدارها 825 N لدفع سيارة مسافة 35 m.</p> <p>a. ما مقدار الشغل الذي يبذله الطالبان على السيارة؟ $W = Fd = (825 \text{ N})(35 \text{ m})$ $= 2.9 \times 10^4 \text{ J}$</p> <p>b. إذا تضاعفت القوة المؤثرة، فما مقدار الشغل المبذول لدفع السيارة إلى المسافة نفسها؟ $W = Fd$ $= (2)(825 \text{ N})(35 \text{ m})$ $= 5.8 \times 10^4 \text{ J}$ أي أن الشغل قد تضاعف 5.8 × 10⁴ J</p>
3	<p>a. ما مقدار الشغل الذي بذله المتسلق على حقيبة الظهر؟ $W = Fd$ $= mgd$ $= (7.5 \text{ kg})(9.80 \text{ m/s}^2)(8.2 \text{ m})$ $= 6.0 \times 10^2 \text{ J}$</p> <p>b. إذا كان وزن المتسلق 645 N، فما مقدار الشغل الذي بذله لرفع الحقيبة هو وحقيبة الظهر؟ $W = Fd + 6.0 \times 10^2 \text{ J}$ $= (645 \text{ N})(8.2 \text{ m}) + 6.0 \times 10^2 \text{ J}$ $= 5.9 \times 10^3 \text{ J}$</p>
4	<p>1.1 × 10² J .4</p>
5	<p>٤. إذا كان البحّار في المثال 2 يسحب القارب بالقوة نفسها إلى المسافة نفسها ولكن بزاوية 50.0°، فما مقدار الشغل الذي يبذله؟</p> <p>$W = Fd \cos \theta$ $= (255 \text{ N})(30.0 \text{ m})(\cos 50.0^\circ)$ $= 4.92 \times 10^3 \text{ J}$</p>

6	<p>يرفع شخصان صندوقاً ثقيلاً مسافة 15 m بحبلين يصنع كل منها زاوية 15° مع الرأسى، ويؤثر كل من الشخصين بقوة مقدارها 225 N. ما مقدار الشغل الذي يبذلانه؟</p> $W = Fd \cos \theta$ $= (2)(225 \text{ N})(15 \text{ m})(\cos 15^\circ)$ $= 6.5 \times 10^3 \text{ J}$
7	<p>١. يحمل مسافر حقيبة سفر وزنها 215 N إلى أعلى سلم، بحيث يعمل إزاحة مقدارها 4.20 m في الاتجاه الرأسى، و 4.60 m في الاتجاه الأفقى. ما مقدار الشغل الذي بذله المسافر؟</p> <p>٢. إذا حمل المسافر نفسه حقيبة السفر نفسها إلى أسفل السلم نفسه، فما مقدار الشغل الذي يبذله؟ تكون القوة إلى أعلى، في حين تكون الإزاحة إلى أسفل؛ لذا فإن:</p> <p>٣. لما كانت الجاذبية تؤثر رأسياً، فإن الإزاحة الرأسية فقط هي التي تؤخذ في الاعتبار.</p> $W = Fd \cos \theta$ $= (215 \text{ N})(4.20 \text{ m})(\cos 180.0^\circ)$ $= -903 \text{ J}$ $W = Fd = (215 \text{ N})(4.20 \text{ m}) = 903 \text{ J}$
8	<p>يستخدم حبل لى سحب صندوق مسافة 15.0 m على سطح الأرض، فإذا كان الحبل مربوطاً بحيث يصنع زاوية مقدارها 46.0° فوق سطح الأرض وتؤثر قوة مقدارها 628 N في الحبل، فما مقدار الشغل الذي تبذله هذه القوة؟</p> $W = Fd \cos \theta$ $= (628 \text{ N})(15.0 \text{ m})(\cos 46.0^\circ)$ $= 6.54 \times 10^3 \text{ J}$
9	<p>٤. يبذله السائق على دراجته الهوائية؟</p> <p>٥. تبذله قوة الجاذبية الأرضية على الدراجة الهوائية؟</p> <p>القوة إلى أسفل (90°-)، وتكون الإزاحة بزاوية 25° فوق الأفقى أو بزاوية 115° عن اتجاه تأثير القوة.</p> $W = Fd$ $= (25 \text{ N})(275 \text{ m})$ $= 6.9 \times 10^3 \text{ J}$ $W = Fd \cos \theta$ $= mgd \cos \theta$ $= (13 \text{ kg})(9.80 \text{ m/s}^2)(275 \text{ m})(\cos 115^\circ)$ $= -1.5 \times 10^4 \text{ J}$
10	<p>٦. رُفِع صندوق يزن 575 N رأسياً إلى أعلى مسافة 20.0 m بحبل قوي موصول بمحرك. فإذا تم إنجاز العمل خلال 10.0 s، فما القدرة التي يولدها المحرك بوحدة W ووحدة kW؟</p> $P = \frac{W}{t} = \frac{Fd}{t} = \frac{(575 \text{ N})(20.0 \text{ m})}{10.0 \text{ s}}$ $= 1.15 \times 10^3 \text{ W} = 1.15 \text{ kW}$

11	<p>10. إذا كنت تدفع عربة يدوية مسافة 60.0 m وبسرعة ثابتة المقدار مدة 25.0 s، وذلك بالتأثير بقوة مقدارها 145 N .b. وإذا كنت تحرك عربة اليد بضعف مقدار السرعة، فما مقدار القدرة التي تولدها؟</p> <p>a. فما مقدار القدرة التي تولدها؟</p> $P = \frac{W}{t} = \frac{Fd}{t} = \frac{(145 \text{ N})(60.0 \text{ m})}{25.0 \text{ s}} = 348 \text{ W}$ <p>بمضاعفة السرعة يقل الزمن t إلى النصف، ومن ثم تتضاعف القدرة P فتصبح 696 W.</p>
12	<p>ما مقدار القدرة التي تولدها مضخة في رفع 35 L من الماء كل دقيقة من عمق 110 m؟ [كل 1 L من الماء كتلته 1.00 kg]</p> $P = \frac{W}{t} = \frac{mgd}{t} = \left(\frac{m}{t}\right)gd$ <p>ولما كانت:</p> $\frac{m}{t} = (35 \text{ L/min})(1.00 \text{ kg/L})$ <p>فإن:</p> $P = \left(\frac{m}{t}\right)gd$ $= (35 \text{ L/min})(1.00 \text{ kg/L})(9.80 \text{ m/s}^2)(110 \text{ m})(1 \text{ min}/60 \text{ s})$ $= 0.63 \text{ kW}$
13	<p>يولد محرك كهربائي قدرة 65 kW لرفع مصعد مكتمل الحمولة مسافة 17.5 m خلال 35 s. ما مقدار القوة التي يبذلها المحرك؟</p> $P = \frac{W}{t} = \frac{Fd}{t}$ $F = \frac{Pt}{d} = \frac{(65 \times 10^3 \text{ W})(35 \text{ s})}{17.5 \text{ m}}$ $= 1.3 \times 10^5 \text{ N}$
14	<p>صُممت رافعة ليطم تثبيتها على شاحنة كما في الشكل 3-7، ولدى اختبار قدراتها ربطت الرافعة بجسم وزنه يعادل أكبر قوة تستطيع الرافعة التأثير بها، ومقدارها $6.8 \times 10^3 \text{ N}$، فرفعت الجسم مسافة 15 m مولدة قدرة مقدارها 0.30 kW. ما الزمن الذي احتاجت إليه الرافعة لرفع الجسم؟</p> $P = \frac{W}{t} = \frac{Fd}{t}$ $t = \frac{Fd}{P}$ $= \frac{(6.8 \times 10^3 \text{ N})(15 \text{ m})}{(0.30 \times 10^3 \text{ W})} = 340 \text{ s}$ $= 5.7 \text{ min}$
15	<p>15. تتناسب الطاقة الحركية مع مربع السرعة المتجهة. لذلك فإن مضاعفة الطاقة تضاعف من مربع السرعة المتجهة. تزداد السرعة المتجهة بمعامل جذر تربيعي يبلغ 2 أو 1.4.</p>

16	<p>الشغل تدفع مريم جسمًا كتلته 20 kg مسافة 10 m على أرضية غرفة بقوة أفقية مقدارها 80 N. احسب مقدار الشغل الذي تبذله مريم.</p> $W = Fd = (80 \text{ N})(10 \text{ m}) = 8 \times 10^2 \text{ J}$ <p>الكتلة ليست مهمة في هذه المسألة.</p>
17	<p>الشغل المبذول يساوي مساحة شبه المنحرف أسفل الخط الغامق:</p> $W = \frac{1}{2} d(F_1 + F_2)$ $= \frac{1}{2} (15 \text{ m})(210.0 \text{ N} + 40.0 \text{ N})$ $= 1.9 \times 10^3 \text{ J}$ <p>توقفت سيارتك فجأة وقمت بدفعها، ولاحظت أن القوة اللازمة لجعلها تستمر في الحركة آخذة في التناقص مع استمرار حركة السيارة. افترض أنه خلال مسافة 15 m الأولى تناقصت قوتك بمعدل ثابت من 210.0 N إلى 40.0 N، فما مقدار الشغل الذي بذلته على السيارة؟ ارسم المنحنى البياني القوة - الإزاحة لتمثل الشغل المبذول خلال هذه الفترة.</p> 
18	<p>الشغل يدفع عامل ثلاجة كتلتها 185 kg بسرعة ثابتة إلى أعلى لوح مائل عديم الاحتكاك طوله 10.0 m ويميل بزاوية 11.0° على الأفقي؛ لتحميلها على سيارة نقل. ما مقدار الشغل الذي يبذله العامل؟</p> $y = (10.0 \text{ m})(\sin 11.0^\circ)$ $= 1.91 \text{ m}$ $W = Fd = mgd \sin \theta$ $= (185 \text{ kg})(9.80 \text{ m/s}^2)(10.0 \text{ m})(\sin 11.0^\circ)$ $= 3.46 \times 10^3 \text{ J}$
19	<p>الشغل تسقط كرة كتلتها 0.180 kg مسافة 2.5 m، فما مقدار الشغل الذي تبذله قوة الجاذبية الأرضية على الكرة؟</p> $W = F_g d = mgd$ $= (0.180 \text{ kg})(9.80 \text{ m/s}^2)(2.5 \text{ m})$ $= 4.4 \text{ J}$
20	<p>الشغل والقدرة هل يعتمد الشغل اللازم لرفع كتاب إلى رف عالٍ، على مقدار سرعة رفعه؟ وهل تعتمد القدرة على رفع الكتاب على مقدار سرعة رفعه؟ وضح إجابتك.</p> <p>لا، الشغل لا يعتمد على الزمن. في حين أن القدرة تعتمد على الزمن، حيث تعتمد القدرة المطلوبة على مقدار سرعة رفعك للكتاب.</p>

21	<p>القدرة يرفع مصعد جسمًا كتلته $1.1 \times 10^3 \text{ kg}$ مسافة 40.0 m خلال 12.5 s. ما القدرة التي يولدها المصعد؟</p> $P = \frac{W}{t} = \frac{Fd}{t} = \frac{mgd}{t}$ $= \frac{(1.1 \times 10^3 \text{ kg})(9.80 \text{ m/s}^2)(40.0 \text{ m})}{12.5 \text{ s}}$ $= 3.4 \times 10^4 \text{ W}$
22	<p>. الكتلة ترفع رافعة صندوقًا مسافة 1.2 m، وتبذل عليه شغلًا مقداره 7.0 kJ. ما مقدار كتلة الصندوق؟</p> <p>لذا فإن</p> $W = Fd = mgd$ $m = \frac{W}{gd} = \frac{7.0 \times 10^3 \text{ J}}{(9.80 \text{ m/s}^2)(1.2 \text{ m})}$ $= 6.0 \times 10^2 \text{ kg}$
23	<p>23. يبذل كلاهما كمية الشغل نفسها. نهتم فقط بالارتفاع الذي تم الرفع إلى والقوة الرأسية المبذولة.</p>
24	<p>24. بما أن الشغل هو التغير في الطاقة الحركية أحسب الشغل المبذول بواسطة كل قوة. يمكن أن يكون الشغل موجبًا أو سالبًا أو صفرًا استنادًا إلى الزوايا النسبية لقوة الجسم وإزاحته. مجموع قيم الشغل الثلاث هو التغير في طاقة النظام.</p>

التأكد من فهم النص والأشكال

التأكد من فهم الأشكال

إجابة نموذجية، عندما تدفع حاوية الملح فوق سطح المنضدة

التأكد من فهم النص

2 J

التأكد من فهم النص

أنت تقوم بشغل إيجابي لأنك تبذل قوتك في اتجاه الإزاحة ولكن صديقك يقوم بشغل سلبي لأن القوة المطبقة في الاتجاه المقابل للإزاحة.

التأكد من فهم النص

الإجابة النموذجية، افترض أنك تقوم بشد صنارة صيد أسماك بشكل مستقيم يوجد بها طعم وغطاس تم إرفاقه. إذا كانت كتلة الطعم وصنارة صيد الأسماك والغطاس تبلغ 0.15 N وتقوم بشدها بشكل مستقيم حتى 8.0 m فأنت تبذل شغلًا مقداره 1.2 J.

التأكد من فهم الأشكال

$W_{\text{total}} = W_{\text{friend}} - W_{\text{you}}$ ستكون الإشارة عددًا موجبًا.

مسائل تدريبية

1. a. لأن $W = Fd$ ، فإن مضاعفة القوة ستضاعف الشغل ليصل إلى 1.35 J.

b. لأن $W = Fd$ ، تنصيف المسافة سيقلل الشغل للنصف ليصل إلى 0.68 J.

2. a. 2.9×10^4 J

b. 5.8×10^4 J

3. a. 6.0×10^2 J

b. 5.9×10^3 J

4. 1.1×10^2 J

مسائل تدريبية

5. 4.92×10^3 J

6. 6.5×10^3 J

7. a. 903 J

b. -903 J

8. 6.54×10^3 J

9. a. 6.9×10^3 J

b. -1.5×10^4 J

مسائل تدريبية

10. 1.15×10^3 W; 1.15 kW

11. a. 348 W

b. 696 W

12. 0.63 kW

13. 1.3×10^5 N

14. 5.7 min

القسم 1 مراجعة

15. تتناسب الطاقة الحركية مع مربع السرعة المتجهة، لذلك فإن مضاعفة الطاقة تضاعف من مربع السرعة المتجهة، تزداد السرعة المتجهة بمعامل جذر تربيعي يبلغ 2 أو 1.4.

16. 8×10^2 J

17. 1.9×10^3 J، ارجع إلى دليل الحلول لإيجاد الرسم البياني للقوة - الإزاحة.

18. 3.46×10^3 J

19. 4.4 J

20. لا، الشغل ليس دالة للوقت، مع ذلك، الطاقة هي دالة للوقت، ولذلك فإن الطاقة اللازمة لرفع الكتاب تعتمد على مدى سرعة رفعك له.

21. 3.4×10^4 W

22. 6.0×10^2 J

23. يبلغان كلاهما كمية الشغل نفسها، نهتم فقط بالارتفاع الذي تم الرفع إليه والقوة الرأسية المبذولة.

24. بما أن الشغل هو التغير في الطاقة الحركية، احسب الشغل المبذول بواسطة كل قوة. يمكن أن يكون الشغل موجبًا أو سالبًا أو صفرًا استنادًا إلى الزوايا النسبية لقوة الجسم وإزاحته. مجموع قيم الشغل الثلاث هو التغير في طاقة النظام.

الفكرة الرئيسية

تؤدي الآلات إلى تسهيل إنجاز المهام عن طريق تغيير مقدار أو اتجاه القوة المبذولة.

الأسئلة الرئيسية

- ما الآلة وكيف تجعل المهام أسهل؟
- ما العلاقة بين الفائدة الميكانيكية وقوة الجهد وقوة المقاومة؟
- ما المعصود بالفائدة الميكانيكية المثالية للآلة؟
- ماذا يعني مصطلح الكفاءة؟

مفردات للمراجعة

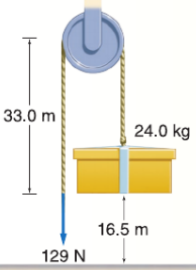
الشغل (work) قوة مبذولة عبر مسافة ما

مراجعة المفردات

الآلة	machine
قوة الجهد	effort force
قوة المقاومة	resistance force
الفائدة الميكانيكية	mechanical advantage
الفائدة الميكانيكية المثالية	ideal mechanical advantage
الكفاءة	efficiency
الآلة المركبة	compound machine

تطبيق

25. إذا تضاعف نصف قطر ناقل الحركة في الدراجة في المثال 4، في حين ظلت القوة المبذولة على السلسلة والمسافة التي تحركتها حافة العجلة دون تغيير، فما الكميات التي تتغير وما مقدار التغير؟
26. تستخدم مطرقة ثقيلة لدق وتد في قطعة خشب لتثبيتها. عندما يدخل الوتد مسافة 0.20 m في قطعة الخشب فإنها تنقسم بمسافة 5.0 cm ، حيث يتطلب الأمر قوة مقدارها $1.7 \times 10^4\text{ N}$ لتقسيم قطعة الخشب، وتبذل المطرقة الثقيلة قوة مقدارها $1.1 \times 10^4\text{ N}$.
- a. ما مقدار الفائدة الميكانيكية المثالية للوتد؟
b. ما مقدار الفائدة الميكانيكية للوتد؟
c. احسب كفاءة الوتد باعتباره آلة.
27. يستخدم عامل بكرة ما لرفع صندوق كرتون كتلته 24.0 kg مسافة 16.5 m كما يوضح الشكل 15. القوة المبذولة تبلغ 129 N وسحب الحبل مسافة 33.0 m .
- a. ما مقدار الفائدة الميكانيكية للبكرة؟
b. ما مقدار كفاءة البكرة؟
28. يحتوي ونش على ذراع تدوير نصف قطره 45 cm . ويلتف حبل حول أسطوانة نصف قطرها 7.5 cm . يؤدي دوران ذراع التدوير مرة واحدة إلى إدارة الأسطوانة دورة واحدة.
- a. ما مقدار الفائدة الميكانيكية المثالية لهذه الآلة؟
b. إذا كانت كفاءة الآلة 75% بالنتيجة فقط نتيجة لقوة الاحتكاك، فما مقدار القوة التي يجب بذلها عن طريق ذراع التدوير ليهبذل قوة مقدارها 750 N على الحبل؟
29. وسادة تحفيزية لفتراض أنك تبذل قوة مقدارها 225 N على رافعة لرفع صخرة وزنها $25 \times 10^3\text{ N}$ مسافة 13 cm . وإذا كانت كفاءة الرافعة 88.7% بالنتيجة، فما المسافة التي تحركت بها طرف الرافعة من حيثك؟



الشكل 15

القسم 2 مراجعة

33. الكفاءة افترض أنك تزيد من كفاءة آلة بسيطة. فهل تزداد الفائدة الميكانيكية (MA) والفائدة الميكانيكية المثالية (IMA) أم تنقص أم تبقى كما هي؟
34. التأكد من فهم النص تتغير الفائدة الميكانيكية لدراجة متعددة نواقل الحركة بتحريك السلسلة إلى ناقل حركة خلفي مناسب.
- a. للانطلاق بالدراجة، يجب عليك التسارع بها ومن ثم تحتاج إلى أن تجعل الدراجة تبذل أكبر قوة ممكنة. فهل ينبغي أن تختار ناقل حركة صغيراً أم كبيراً؟
- b. عندما تصل إلى سرعة الحركة المناسبة، فإنك تريد تدوير الدواسات أقل عدد ممكن من الدورات. فهل ينبغي أن تختار ناقل حركة صغيراً أم كبيراً؟
- c. تمنحك أيضًا العديد من الدراجات فرصة اختيار حجم ناقل الحركة الأمامي. فإذا كنت بحاجة إلى قوة أكبر لتحديث تسارُلها أثناء صعود تل، فهل تنتقل إلى ناقل حركة أمامي أكبر أم أصغر؟

30. الفكرة الرئيسية صنف كل أداة باعتبارها رافعة أو عجلة ومحورًا أو مستوى مائلًا أو وتدًا. صف كيف تغير تلك الأداة القوة لتجعل إنجاز المهام أسهل.

- a. مفك براغي
b. كمانشة
c. إزميل
d. كلابية سحب المسامير

31. الفائدة الميكانيكية المثالية (IMA) يعتبر عامل نظام بكرات متعددة لتقدير أثقل جسم يمكن رفعه. وأكبر قوة يمكن للعامل بذلها إلى أسفل تساوي وزنه وتبلغ 875 N . وعندما يحرك العامل الحبل مسافة 1.5 m ، يتحرك الجسم مسافة 0.25 m ، فما وزن أثقل جسم يمكنه رفعه؟

32. الآلات المركبة يحتوي الونش على ذراع تدوير مثبت على ذراع مقاس 45 cm يدور أسطوانة نصف قطرها 7.5 cm من خلال مجموعة من نواقل الحركة. يحتاج ذراع التدوير إلى ثلاث دورات لتدوير الأسطوانة دورة واحدة. فما مقدار الفائدة الميكانيكية المثالية (IMA) لهذه الآلة المركبة؟

	2	1
25	$MA = \frac{F_r}{F_e}$ $F_r = (MA)(F_e)$ $d_e = (IMA)(d_r)$ $= (0.225)(14.0 \text{ cm})$ $= 3.15 \text{ cm}$	$IMA = \frac{r_e}{r_r} = \frac{8.00 \text{ cm}}{35.6 \text{ cm}} = 0.225 \text{ (تضاعفت)}$ $MA = \left(\frac{e}{100}\right)IMA = \frac{95.0}{100}(0.225)$ $= 0.214 \text{ (تضاعفت)}$ $IMA = \frac{d_e}{d_r}$

26	<p>a. الفائدة الميكانيكية المثالية (IMA) للإسفين.</p> $IMA = \frac{d_e}{d_r} = \frac{(0.20 \text{ m})}{(8.050 \text{ m})} = 4.0$ <p>c. كفاءة الإسفين إذا اعتبرناه آلة.</p> $e = \frac{MA}{IMA} \times 100$ $= \frac{1.5}{4.0} \times 100 = 38\%$	<p>b. الفائدة الميكانيكية (MA) للإسفين.</p> $MA = \frac{F_r}{F_e}$ $= \frac{(1.7 \times 10^4 \text{ N})}{(1.1 \times 10^4 \text{ N})} = 1.5$
----	--	--

27	<p>a. فما مقدار الفائدة الميكانيكية (MA) لنظام البكرة؟</p> <p>b. وما مقدار كفاءة النظام؟</p> $e = \left(\frac{MA}{IMA}\right) \times 100$ $= \frac{(MA)(100)}{\frac{d_e}{d_r}}$ $= \frac{(MA)(d_r)(100)}{d_e}$ $= \frac{(1.82)(16.5 \text{ m})(100)}{33.0 \text{ m}}$ $= 91.0\%$	$MA = \frac{F_r}{F_e} = \frac{mg}{F_e}$ $= \frac{(24.0 \text{ kg})(9.80 \text{ m/s}^2)}{129 \text{ N}}$ $= 1.82$
----	--	--

. تتكون رافعة من ذراع نصف قطره 45 cm، يتصل الذراع بأسطوانة نصف قطرها 7.5 cm، ملفوف حولها حبل، ومن الطرف الثاني للحبل يتدلى الثقل المراد رفعه. عندما تدور الذراع دورة واحدة، تدور الأسطوانة دورة واحدة أيضًا.

a. ما مقدار الفائدة الميكانيكية المثالية (IMA) لهذه الآلة؟
قارن بين إزاحة القوة المسلطة وإزاحة المقاومة لدورة واحدة.

$$IMA = \frac{d_e}{d_r} = \frac{(2\pi)45 \text{ cm}}{(2\pi)7.5 \text{ cm}} = 6.0$$

b. إذا كانت فاعلية الآلة 75% فقط نتيجة تأثير قوة الاحتكاك، فما مقدار القوة التي يجب التأثير بها في مقبض الذراع ليؤثر بقوة مقدارها 750 N في الحبل؟

$$e = \left(\frac{MA}{IMA} \right) \times 100$$

$$= \frac{F_r}{(F_e)(IMA)} \times 100$$

لذا فإن

$$F_e = \frac{(F_r)(100)}{(IMA)e}$$

$$= \frac{(750 \text{ N})(100)}{(6.0)(75)}$$

$$= 1.7 \times 10^2 \text{ N}$$

28

. إذا أثرت بقوة مقدارها 225 N في رافعة لرفع صخرة وزنها $1.25 \times 10^3 \text{ N}$ مسافة 13 cm، وكانت كفاءة الرافعة 88.7% فما المسافة التي تحركتها نهاية الرافعة من جهتك؟

$$e = \frac{W_2}{W_1} \times 100$$

$$= \frac{F_r d_r}{F_e d_e} \times 100$$

لذا فإن

$$d_e = \frac{F_r d_r (100)}{e F_e}$$

$$= \frac{(1.25 \times 10^3 \text{ N})(0.13 \text{ m})(100)}{(88.7)(225 \text{ N})}$$

$$= 0.81 \text{ m}$$

29

30	<p>2. الآلات البسيطة صُنِّت الأدوات أدناه إلى رافعة، أو عجلة ومحور، أو مستوى مائل، أو إسفين، أو بكرة.</p> <p>a. مفك البراغي عجلة ومحور</p> <p>b. كِثَّاشَة رافعة</p> <p>c. إزميل إسفين</p> <p>d. نِزَاعَة الدبابيس رافعة</p>
31	<p>30. a. عجلة ومحور، يعملان على زيادة حجم القوة</p> <p>b. رافعة؛ تعمل على زيادة حجم القوة وتغيير اتجاهها</p> <p>c. وتد؛ يعمل على زيادة حجم القوة وتغيير اتجاهها</p> <p>d. رافعة؛ تعمل على زيادة حجم القوة وتغيير اتجاهها</p> <p>الفائدة الميكانيكية المثالية (IMA) يتمحصر عامل نظام بكرات متعددة؛ وذلك لتقدير أكبر جسم يمكن أن يرفعه. فإذا كانت أكبر قوة يمكن للعامل التأثير بها رأسيًا إلى أسفل مساوية لوزنه 875 N، وعندما يحرك العامل الجبل مسافة 1.5 m فإن الجسم يتحرك مسافة 0.25 m، فما وزن أثقل جسم يمكنه رفعه؟</p> $MA = \frac{F_r}{F_e}$ $F_r = (MA)(F_e)$ <p>افتراض أن الكفاءة تساوي 100%</p> $MA = IMA = \left(\frac{d_e}{d_r}\right)$ $F_r = \frac{(1.5 \text{ m})(875 \text{ N})}{(0.25 \text{ m})}$ $= 5.2 \times 10^3 \text{ N}$
32	<p>الآلات المُركَّبة للونش ذراع نصف قطر دورانه 45 cm، يُدور أسطوانة نصف قطرها 7.5 cm خلال مجموعة من نواقل الحركة، بحيث يدور الذراع ثلاث دورات لتدور الأسطوانة دورة واحدة. فما مقدار الفائدة الميكانيكية المثالية (IMA) لهذه الآلة المُركَّبة؟</p> <p>الفائدة الميكانيكية المثالية (IMA) لهذه الآلة المُركَّبة (النظام) تساوي حاصل ضرب الفائدة الميكانيكية المثالية (IMA) لكل آلة. إن نسبة الإزاحات لكل من الذراع والأسطوانة تساوي:</p> $\frac{2\pi(45 \text{ cm})}{2\pi(7.5 \text{ cm})} = 6.0$ $IMA = \frac{d_e}{d_r} = \frac{(3)(2\pi r)}{2\pi r}$ $= \frac{(3)(2\pi)(45 \text{ cm})}{(2\pi)(7.5 \text{ cm})}$ $= 18$
33	<p>33. إما أن تزداد MA بينما تبقى IMA كما هي أو تنخفض IMA بينما تبقى MA كما هي أو تزداد MA بينما تنخفض IMA.</p>
34	<p>34. a. كبيرة</p> <p>b. صغيرة. نظرًا لحركة الجزير بشكل أقل فسيطلب الأمر دورات قليلة للدواسة لكل دورة للعجلة.</p> <p>c. أصغر</p>

	الآلة
	قوة الجهد
	قوة المقاومة
	الفائدة الميكانيكية
	الفائدة الميكانيكية المثالية
	الكفاءة
	الآلة المركبة

مسألة تحفيزية في الفيزياء

1. الشغل المبذول في الرفع يساوي $F_{gd} = mgd$. لذلك فإن القدرة تساوي

$$P_{\text{lift}} = \frac{W}{t} = \frac{F_{gd}}{t} = \frac{mgd}{t} = \frac{(0.25 \text{ m}^3)(1.00 \times 10^3 \text{ kg/m}^3)(9.8 \text{ N/kg})(25 \text{ m})}{1.0 \text{ s}} = 6.1 \times 10^4 \text{ W} = 61 \text{ kW}$$

2. الشغل المبذول لزيادة الطاقة الحركية للمضخة يساوي $\frac{1}{2}mv^2$ لذلك فإن

$$P_{KE} = \frac{W}{t} = \frac{\Delta KE}{t} = \frac{\left(\frac{1}{2}mv^2\right)}{t} = \frac{mv^2}{2t} = \frac{(0.25 \text{ m}^3)(100 \times 10^3 \frac{\text{kg}}{\text{m}^3})(8.5 \frac{\text{m}}{\text{s}})^2}{(2)(1.0 \text{ s})} = 9.0 \times 10^3 \text{ W} = 9.0 \text{ kW}$$

$$e = \frac{W_o}{W_i} \times 100 = \frac{W_o}{\frac{W_o}{e}} \times 100$$

$$= \frac{P_o}{P_i} \times 100 \text{ لذا فإن } P_i = \frac{P_o}{e} \times 100 = \frac{(9.0 \text{ kW} + 61 \text{ kW})}{80} \times 100 = 8.8 \times 10^4 \text{ W} = 88 \text{ kW}$$

القسم 2 مراجعة

30. a. عجلة ومحور بيبلان على زيادة حجم القوة
b. رافعة؛ تعمل على زيادة حجم القوة وتغيير اتجاهها
c. وتد؛ يعمل على زيادة حجم القوة وتغيير اتجاهها
d. رافعة؛ تعمل على زيادة حجم القوة وتغيير اتجاهها
31. $5.2 \times 10^3 \text{ N}$
32. 18
33. إما أن تزداد MA بينما تبقى IMA كما هي أو تنخفض IMA بينما تبقى MA كما هي أو تزداد MA بينما تنخفض IMA .
34. a. كبيرة
b. صغيرة، نظرًا لحركة الجنزير بشكل أقل فسيطلب الأمر دورات قليلة للدواسة لكل دورة للعجلة.
c. أصغر

التأكد من فهم النص والأشكال

التأكد من فهم النص
N 6

التأكد من فهم النص
 $IMA = 6$

التأكد من فهم الأشكال

الإجابات النموذجية: رافعة؛ أرجوحة؛ بكرة؛ بكرة سارية العلم؛ عجلة ومحور، مقيض باب؛ سطح منحدر، منحدر للكراسي المتحركة؛ وتد، أسنان بشرية؛ برغي، غطاء لولبي لمشروب غازي

التأكد من فهم النص

كلاهما مصمم لتسهيل المهمة. تتكون الآلات المركبة من آلات بسيطة.

التأكد من فهم النص

قوة الجهد هي القوة التي تبذلها على الدواسة. قوة المقاومة هي التي يبذلها الترس على الجنزير.

التأكد من فهم النص

كل من MA و IMA كميات بلا أبعاد وليتمثلها وحدات.

التأكد من فهم النص

تحتاج التروس إلى تطبيق مقادير مختلفة من القوى لتحقيق متطلبات مختلفة.

مسائل تدريبية

$$IMA = 0.225$$

$$MA = 0.214$$

$$F_r = 33.2 \text{ N}$$

$$d_e = 3.15 \text{ cm}$$

$$4.0 \text{ a. } 26$$

$$1.5 \text{ b}$$

$$38\% \text{ c}$$

$$1.82 \text{ a. } 27$$

$$91.0\% \text{ b}$$

$$6.0 \text{ a. } 28$$

$$1.7 \times 10^2 \text{ N b}$$

$$0.81 \text{ m } 29$$

Adobe Acrobat Reader DC

File Edit View Window Help

pdf. فزياء

13 / 48 73.7%

الرصد 9 الإجابات

القسم 1
إنتان المتاهم

35. الجول
36. لا تنجح قوة الجاذبية بإعادة الأرض ولكن عمودية على اتجاه إزاحة ناع العنصر الصناعي.
37. مسار الجاذبية والقوة العمودية المساعدة فقط في الجهد لا يتم تبادل الشغل لأن الإزاحة عمودية على هذه القوى لا يوجد قوة في اتجاه الإزاحة لأن الجسم يتحرك بسرعة ثابتة.
38. الشغل هو ناتج القوة والمسافة التي يتحرك خلالها الجسم في اتجاه القوة المحركة هي العمل الزمني الذي يتم خلاله تبادل الشغل.
39. $kg \cdot m^2 / s^2$

إنتان حل المسائل

40. 1×10^4 ج
41. 59 ج
42. 2.75×10^4 ن
43. 8.87×10^7 ج
44. 126 و
45. 7.5 ج
46. 9.00 كج
47. 3.00 كج
48. 4.43×10^3 ج
49. 7.9×10^4 ج
50. 36.2°
51. 2.0 كج
52. 518 ج
53. 7.4×10^3 ج
54. 1.20×10^4 ج
55. 6.0×10^4 ج
56. 7.4×10^4 ج
57. 54.7 م

القسم 2
إنتان المتاهم

64. $\theta \leq 100\%$
65. تنمو الدواجات بتقل القوة من الرابك إلى الدراجة من خلال الصلابة والجر.

إنتان حل المسائل

66. 3.0×10^2 ن
67. 4.0×10^2 ن
68. 6.0×10^2 ج
69. 6.8×10^3 ج
70. 35 ج
71. 98 ج
72. 0.24 م
73. سنتون الإجابات ولكن الصياغة التالية من المتاهم الصحيحة للإجابة "تظهر قوة ثابتة تبلغ 12.5 ن في جسم تبلغ 6.00 كج مما يزيد من سرعته من 0.05 م/ث إلى 1.10 م/ث في المسافة التي يقطعها هذه القوة".

70. 4.00 ج
71. 3.59 ب
72. 89.8% ج
73. 3.5 أ
74. 4.00 ب
75. 88% ج

Adobe Acrobat Reader DC

File Edit View Window Help

pdf. فزياء

14 / 48 73.7%

76. سنتون الإجابات من الصياغات المحملة للإجابة الصحيحة ما يلي: إذا دفعه بندقية 20 ن لساعة 7.0 م خلال 14.0 س فما مقدار القدرة التي يولدها؟

77. $W_1 = W_2$
 $F_1 d_1 = F_2 d_2$
بالنسبة إلى الآلة المركبة
 $IMA = \frac{d_1}{d_2}$
 $IMA = \frac{d_1}{d_2}$
 $d_1 = d_2$
 $d_1 = d_2$
 $d_1 = IMA \cdot d_2$
 $d_1 = 1 \cdot d_2$
 $d_1 = d_2 = 30.0$

78. $W = Fd \cos \theta$ لكن $P = \frac{W}{t}$
فإن $P = \frac{Fd \cos \theta}{t}$
أو $\gamma = \frac{P}{F} = \frac{Fd \cos \theta}{t}$

84. زيادة نسبة $\frac{d_1}{d_2}$ تزيد نسبة IMA لأنك
85. على الفزاس وجود مدار دائري فإن القوة الجاذبة من الجاذبية تتناقص على اتجاه الحركة. هذا يعني أن الشغل المحول ضايعاً ومن ثَمَّ لا يوجد تغير في الطاقة الحركية للجسيم ومن ثَمَّ فإن سرعته لا تزيد أو تقل وهذا صحيح بالنسبة إلى المدار الدائري.
86. يجب أن تكون يدك بعيدة عن الرأس قدر الإمكان. جمل بك كسر قدر الإمكان بحيث أن يكون النظر فرماً من الرأس قدر الإمكان. جمل بك كسر قدر الإمكان.
87. تقلل الاحتكاك بأكثر قدر ممكن لزيادة قوة المقاومة.
88. كما، منحنى المسافة الرأسية فقط ضد الزمن لمدة 1 أ

Adobe Acrobat Reader DC

File Edit View Window Help

pdf. فزياء

15 / 48 73.7%

التكبير الناقد

95. 6.1×10^3 و
96. 1.5×10^3 و
97. من الرسم البياني نجد أن أقصى القدرة يبلغ 25 و عند 15 كج بقدر الوقت الجدولي 12 دقيقة.
98. $W_1 = W_2 < W_3 < W_4 = W_5$

Adobe Acrobat Reader DC

File Edit View Window Help

pdf. فزياء

16 / 48 73.7%

معايير رصد الدرجات

سليم النذير التالي نموذج أداء تسجيل النتائج لأسئلة الإجابة الحرة.

الوصف	النقاط
تظهر الطالب أن لديه فهماً شاملاً للمبادئ الفيزيائية المتضمنة، وقد تضمن الإجابة بعض الأخطاء الصغيرة، إلا أنها لا تؤثر في إظهار الاستيعاب الشامل.	4
يرهن الطالب على استيعابه للمبادئ الفيزيائية المتضمنة، والإجابة صحيحة بشكل أساسية وتحت أن الطالب لديه فهم أساسي للمفاهيم الفيزيائية المتضمنة. تشمل.	3
تظهر الطالب أن لديه فهماً جزئياً للمبادئ الفيزيائية المتضمنة، وربما استخدم الطالب الفهم الصحيح للعوامل إلى الحد أو ربما خرج بإجابة صحيحة، لكن عمله يتضح فهم أساسي للمفاهيم الفيزيائية المتضمنة.	2
تظهر الطالب أن فهمه للمفاهيم الفيزيائية المتضمنة شديد الضعيف، فالإجابة غير ناعمة وتظهر بها الكثير من الأخطاء.	1
قدم الطالب حلاً خاطئاً بالكلية أو لم يجب على الإغلاق.	0

تدريب على الاختبار المعياري

اختبار من متعدد

A. 1
B. 2
C. 3
D. 4
E. 5
F. 6
G. 7

إجابة حرة

8. $W_{\text{جول}} = Fd \cos(45^\circ) = (200.0 \text{ N})(5.0 \text{ m})(0.71) = 7.1 \times 10^2 \text{ J}$
 $P_{\text{جول}} = \frac{W_{\text{جول}}}{t} = \frac{7.1 \times 10^2 \text{ J}}{10 \text{ s}} = 71 \text{ W}$

الوحدة 9

الطاقة الحرارية

الفكرة الرئيسية ترتبط الطاقة الحرارية بحركة جسيمات الجسم ويُمكن نقلها وتحويلها.

الأقسام

- 1 درجة الحرارة والحرارة والطاقة الحرارية
- 2 تغيرات الحالة والديناميكا الحرارية

almanahj.com/sae

القسم 1 : درجة الحرارة والحرارة والطاقة الحرارية

الطاقة الحرارية

الفكرة الرئيسية

تنتقل الطاقة الحرارية تلقائيًا من الجسم الأعلى درجة حرارة إلى الجسم الأقل درجة حرارة ..

تطبيق

1. عندما تفتح الماء الساخن لغسل الأطباق، ترتفع درجة حرارة أنابيب المياه. كم مقدار الطاقة الحرارية التي يكتسبها أنبوب ماء نحاسي كتلته 2.3 kg عندما ترتفع درجة حرارته من 20.0°C إلى 80.0°C؟
2. تقدر شركة الكهرباء ثمن استهلاك الطاقة الكهربائية بوحدة الكيلو واط. ساعة، حيث إن $1 \text{ kWh} = 3.6 \times 10^6 \text{ J}$. افترض أن تكلفة الكيلو واط. ساعة هي 0.30 AED. كم تكلفة عملية تسخين 75 kg من الماء من 15°C إلى 43°C لتبلياً حوض الاستحمام؟
3. **تحدي** يحتوي نظام التبريد لمحرك سيارة على 20.0 L من الماء (تبلغ كتلة 1 L من الماء 1 kg).
 - a. ما التغير الذي يحدث لدرجة حرارة الماء إذا اكتسب 836.0 kJ من الطاقة الحرارية؟
 - b. افترض أن نظام التبريد في سيارة مملوء بالميثانول. كثافة الميثانول 0.80 g/cm^3 . ما الزيادة التي كانت ستحدث في درجة حرارة الميثانول إذا امتص 836.0 kJ من الطاقة الحرارية؟
 - c. أي السائلين أفضل للاستخدام في نظام التبريد الماء أم الميثانول؟ فسّر إجابتك.

الأسئلة الرئيسية

- ما العلاقة بين درجة الحرارة والطاقة الحرارية؟
- ما العلاقة بين الاتزان الحراري ودرجة الحرارة؟
- كيف تنتقل الطاقة الحرارية؟
- ما الحرارة النوعية؟

مراجعة المفردات

الطاقة الحرارية thermal energy

مجموع الطاقة الحركية والكامنة للجسيمات التي يتكون منها الجسم

المفردات الجديدة

التوصيل الحراري

thermal conduction

الاتزان الحراري

thermal equilibrium

الحرارة

heat

الحث الحراري

convection

الإشعاع

radiation

الحرارة النوعية

specific heat

تطبيق

4. توضع قطعة ألومنيوم كتلتها $1.00 \times 10^2 \text{ g}$ A درجة حرارتها 100.0°C في $1.00 \times 10^2 \text{ g}$ من الماء عند درجة حرارة 26.0°C. ما هي الحرارة النوعية للألمنيوم؟
5. ثلاثة أقداح فلزية، كتلة كل منها $1.00 \times 10^2 \text{ g}$ وعند درجة حرارة 100.0°C، تم وضعها في $1.00 \times 10^2 \text{ g}$ من الماء عند درجة حرارة 35.0°C. درجة الحرارة النهائي للخليط 45.0°C. ما الحرارة النوعية للفلز المستخدم في الأقداح.
6. يتم خلط عينه من الماء كتلتها $2.00 \times 10^2 \text{ g}$ عند 80.0°C مع $2.00 \times 10^2 \text{ g}$ من الماء عند 10.0°C في الكالوريمتر. ما درجة الحرارة النهائية للخليط؟
7. توضع قطعة من الزجاج كتلتها $1.50 \times 10^2 \text{ g}$ درجة حرارتها 70.0°C في وعاء مع $1.00 \times 10^2 \text{ g}$ من الماء عند درجة حرارة 16.0°C. ما درجة حرارة المزيج النهائية؟
8. **تحدي** $4.00 \times 10^2 \text{ g}$ من الماء عند 15.0°C تم خلطها مع $4.00 \times 10^2 \text{ g}$ من الماء درجة حرارتها 85.0°C. بعد وصول النظام إلى الاتزان الحراري، يتم إضافة $4.00 \times 10^2 \text{ g}$ من الميثانول درجة حرارتها 15.0°C. افترض عدم فقدان طاقة حرارية إلى البيئة المحيطة. ما درجة الحرارة النهائية للخليط؟

القسم 1 مراجعة

9. **الفكرة الرئيسية** تشعر دائماً ببرودة أرضية الحمام المغطاة بالبلاط عندما تقف حافي القدمين على الرغم من دفء باقي الحجرة. هل الأرضية أكثر برودة من باقي الحجرة؟
10. **درجة الحرارة** قم بإجراء التحويلات الآتية:
 - a. 5°C إلى كلفن
 - b. 34 K إلى درجات سيليزية
 - c. 212°C إلى كلفن
 - d. 316 K إلى درجات سيليزية
11. **الوحدات** هل الوحدات هي نفسها للطاقة الحرارية المنتقلة (Q) والحرارة النوعية (C)؟ فسّر.
12. **أنواع الطاقة** صف الطاقة الميكانيكية والطاقة الحرارية لكرة سلة متحركة.
13. **الطاقة الحرارية** هل يمكن أن تكون الطاقة الحرارية لكمية من الماء الساخن مساوية للطاقة الحرارية لكمية من الماء البارد؟ فسّر إجابتك.
14. **التبريد** في وجبة العشاء، تحتفظ البطاطا المطبوخة بحرارتها أكثر من أي طعام آخر. لماذا؟
15. **الحرارة والطعام** يستغرق طبخ البطاطا الكاملة مدة أطول مما تستغرقه عند تقطيعها. لماذا؟
16. **الطبخ** تُصنع الأواني التي تستخدم للطبخ على الموقد من الفلزات مثل النحاس، والحديد، والألمنيوم. لماذا تستخدم مثل هذه الفلزات
17. **الحرارة النوعية** إذا أخرجت ملعقة بلاستيكية من كوب من الكاكاو الساخن ووضعتها في فمك، قد لا تسع لسانك. ومع ذلك، يمكنك أن تحرق لسانك بسهولة جدًا إذا وضعت مشروب الكاكاو في فمك. لماذا؟
18. **التفكير الناقد** عندما يتم تسخين الماء في إناء على الموقد، قد تتكون غشاوة (ضباب) على سطح الماء قبل أن يبدأ الماء في الحركة والغليان. فما الذي يحدث؟

عندما تفتح صنبور الماء الساخن لغسل الأواني فإن أنابيب المياه تسخن. فما مقدار كمية الحرارة التي يمتصها أنبوب ماء نحاسي كتلته 2.3 kg عندما ترتفع درجة حرارته من 20.0°C إلى 80.0°C؟

1

$$Q = mC\Delta T$$

$$= (2.3 \text{ kg})(385 \text{ J/kg.K})(80.0^\circ\text{C} - 20.0^\circ\text{C})$$

$$= 5.3 \times 10^4 \text{ J}$$

ج . س .

١٠. تبيع شركات الكهرباء الطاقة الكهربائية بوحدة kWh، حيث إن $1 \text{ kWh} = 3.6 \times 10^6 \text{ J}$. افترض أن ثمن كل 1 kWh يساوي 0.15 ريال. فما تكلفة تسخين 75 kg من الماء من درجة حرارة 15°C إلى 43°C؟

2

$$Q = mC\Delta T$$

$$= (75 \text{ kg})(4180 \text{ J/kg.K})(43^\circ\text{C} - 15^\circ\text{C})$$

$$= 8.8 \times 10^6 \text{ J}$$

$$\frac{8.8 \times 10^6 \text{ J}}{3.6 \times 10^6 \text{ J/kWh}} = 2.4 \text{ kWh}$$

$$(2.4 \text{ kWh})(0.15 \text{ SR/kWh}) = 0.36 \text{ ريال}$$

١١. يحتوي نظام التبريد لسيارة على 20.0 L من الماء مملأً بأن كتلة لتر واحد من الماء تساوي 1 kg.

a. إذا اشتغل المحرك حتى حصل على 836.0 kJ من الحرارة، فما مقدار التغير في درجة حرارة الماء؟

$$Q = mC\Delta T$$

$$\Delta T = \frac{Q}{mC} = \frac{(8.36 \times 10^4 \text{ J})}{(20.0 \text{ kg})(4180 \text{ J/kg.K})}$$

$$= 10.0 \text{ K}$$

b. إذا كان الفصل شتاءً، ونظام التبريد في السيارة مملوءاً بالميثانول ذي الكثافة 0.80 g/cm^3 فما مقدار الزيادة في درجة حرارة الميثانول إذا امتص 836.0 kJ من الحرارة؟ كتلة الميثانول تساوي 0.80 مرة من كتلة 20.0 L من الماء، أي تساوي 16 kg.

$$Q = mC\Delta T$$

$$\Delta T = \frac{Q}{mC} = \frac{(8.36 \times 10^5 \text{ J})}{(16 \text{ kg})(2450 \text{ J/kg.K})}$$

$$= 21 \text{ K}$$

c. أيهما يعد مبردًا أفضل، الماء أم الميثانول؟ فسر إجابتك.

الماء هو المبرد الأفضل عند درجات حرارة أعلى من 0°C ؛ لأنه يستطيع أن يمتص الحرارة دون أن تتغير درجة حرارته كثيرًا كما يحدث عند استخدام الميثانول.

3

. وضع قالب فلزي في ماء كتلته $1.00 \times 10^2 \text{ g}$ ودرجة حرارته 10.0°C ، فإذا كانت كتلة القالب $1.00 \times 10^2 \text{ g}$ ودرجة حرارته 100.0°C ، وكانت درجة الحرارة النهائية للخليط 25.0°C . فما السعة الحرارية النوعية لمادة القالب؟ كمية الحرارة التي يكتسبها الماء

$$\begin{aligned} Q &= mC\Delta T \\ &= (0.100 \text{ kg})(4180 \text{ J/kg}\cdot^\circ\text{C})(15.0^\circ\text{C}) \\ &= 6.27 \text{ kJ} \end{aligned}$$

لذا فإن الحرارة المفقودة من القالب تساوي

$$-6.27 \text{ kJ} = m_{\text{القالب}} C_{\text{القالب}} \Delta T$$

لذا فإن

$$\begin{aligned} C_{\text{القالب}} &= \frac{Q}{m_{\text{القالب}} \Delta T} \\ &= \frac{-6.27 \text{ kJ}}{(0.100 \text{ kg})(-75.0^\circ\text{C})} \\ &= 8.36 \times 10^2 \text{ J/kg}\cdot^\circ\text{C} \end{aligned}$$

4

!. وضعت ثلاثة أوزان فلزية لصيد السمك في ماء كتلته $1.00 \times 10^2 \text{ g}$ ودرجة حرارته 35.0°C . فإذا كانت كتلة كل قطعة فلزية $1.00 \times 10^2 \text{ g}$ ودرجة حرارتها 100.0°C ، وكانت درجة حرارة الخليط النهائية 45.0°C ، فما السعة الحرارية النوعية للفلز في الأوزان؟ كمية الحرارة التي اكتسبها الماء

$$\begin{aligned} Q &= mC\Delta T \\ &= (0.100 \text{ kg})(4180 \text{ J/kg}\cdot^\circ\text{C})(10.0^\circ\text{C}) \\ &= 4.18 \text{ kJ} \end{aligned}$$

لذا، فإن الحرارة المفقودة من الأوزان تساوي

$$-4.18 \text{ kJ} = m_{\text{الأوزان}} C_{\text{الأوزان}} \Delta T$$

لذا، فإن

$$\begin{aligned} C_{\text{الأوزان}} &= \frac{(-4.18 \text{ kJ})(1000 \text{ J/kJ})}{(0.100 \text{ kg})(-55.0^\circ\text{C})} \\ &= 2.52 \times 10^2 \text{ J/kg}\cdot^\circ\text{C} \end{aligned}$$

5

. خلطت عينة ماء كتلتها $2.00 \times 10^2 \text{ g}$ ودرجة حرارتها 80.0°C مع عينة ماء أخرى كتلتها $2.00 \times 10^2 \text{ g}$ ودرجة حرارتها 10.0°C . مفترضاً عدم فقدان حرارة إلى المحيط الخارجي، ما درجة الحرارة النهائية للخليط؟

$$m_A C_A (T_f - T_{Ai}) + m_B C_B (T_f - T_{Bi}) = 0$$

ولما كانت

$$m_A = m_B$$

و

$$C_A = C_B$$

فإنه يمكن إجراء اختصارات للحصول على ما يلي:

$$T_f = \frac{T_{Ai} + T_{Bi}}{2} = \frac{80.0^\circ\text{C} + 10.0^\circ\text{C}}{2} = 45.0^\circ\text{C}$$

6

7

. خلطت عينة ميثانول كتلتها 4.00×10^2 g ودرجة حرارتها 16.0°C مع عينة ماء كتلتها 4.00×10^2 g ودرجة حرارتها 85.0°C .
مفترضاً عدم فقدان حرارة إلى المحيط الخارجي، ما درجة الحرارة النهائية للخليط؟

$$m_{\text{ميثانول}} C_{\text{ميثانول}} (T_f - T_{\text{ميثانول}}) + m_{\text{ماء}} C_{\text{ماء}} (T_f - T_{\text{ماء}}) = 0$$

لما كانت في هذه الحالة

$$m_{\text{ميثانول}} = m_{\text{ماء}}$$

فإن الكتلت ستغنى، لذا فإن

$$T_f = \frac{C_{\text{ميثانول}} T_{\text{ميثانول}} + C_{\text{ماء}} T_{\text{ماء}}}{C_{\text{ميثانول}} + C_{\text{ماء}}}$$

$$= \frac{(2450 \text{ J/kg.K})(16.0^\circ\text{C}) + (4180 \text{ J/kg.K})(85.0^\circ\text{C})}{2450 \text{ J/kg.K} + 4180 \text{ J/kg.K}}$$

$$= 59.5^\circ\text{C}$$

8

**9. كلاً شعورك بدرجة حرارة الأرض هو في الحديقة
انتقال الطاقة الحرارية من قدميك أو اليديا. بعد
توصيل الترميد الطاقة الحرارية من قدميك أكثر
كفاءة من المساجيد والهواء داخل المنزل.**

9

. درجات الحرارة حوّل درجات الحرارة الآتية لأنظمة القياس المشار إليها:

a. 5°C إلى كلفن. c. 212°C إلى كلفن.

485 K

278 K

d. 316 K إلى سلسيوس.

b. 34 K إلى سلسيوس.

43°C

-239°C

10

11	<p>11. كلا. تقاس الحرارة بوحدات الجول (J) وتقاس الحرارة النوعية بوحدات الجول لكل كيلوغرام كلفين (J/(kg·k)).</p>
12	<p>12. يكون لكرة السلة طاقة حركية حينما تتحرك وتتكون لها طاقة وضع الجاذبية الأرضية حينما تكون فوق الأرض. تتحول بعض الطاقة الحركية على طاقة حرارية وطاقة صوتية حينما ترتطم كرة السلة بالأرض. يعتمد إجمالي الطاقة الحرارية لكرة السلة على إجمالي طاقة جزيئاتها.</p>
13	<p>الطاقة الحرارية هل يمكن أن تكون الطاقة الحرارية لكمية من الماء الساخن مساوية للطاقة الحرارية لكمية أخرى من الماء البارد؟ فسر إجابتك.</p> <p>الطاقة الحرارية هي مقياس للطاقة الكلية لجزيئات الجسم جميعها. أما درجة الحرارة (ساخن أو بارد) فهي مقياس لكمية الطاقة لكل جزيء. إذا كانت كميتا الماء متماثلتين وتحتويان العدد نفسه من الجزيئات فإن لكمية الماء الساخن طاقة حرارية أكبر. ومع ذلك، إذا كانت كتلة الماء البارد أكبر قليلاً من كتلة الماء الساخن فعندئذ يمكن أن تكون كمية الطاقة في كل منهما متساوية.</p> <p>13. نعم؛ إذا كانت كتلة الماء البارد تفوق كتلة الماء الساخن، فقد تكون للماء البارد نفس الطاقة الحرارية؛ نظرًا لأنه يحتوي على عدد أكبر من الجسيمات في الوعاء.</p>
14	<p>14. الحرارة النوعية للبطاطس عالية وهي موصل رديء للطاقة الحرارية؛ لذا فهي تفقد طاقتها الحرارية ببطء.</p>
15	<p>15. البطاطس ليست موصلًا جيدًا للطاقة الحرارية. زيادة مساحة السطح من خلال تقطيع البطاطس إلى أجزاء صغيرة تزيد من معدل انتقال الطاقة الحرارية إلى البطاطس.</p>

16	<p>16. إنها موصلات جيدة للطاقة الحرارية وحرارتها النوعية منخفضة نسبيًا.</p>
17	<p>17. الملعقة البلاستيكية موصل رديء للطاقة الحرارية، لذا فهي لا تنقل الطاقة الحرارية إلى لسانك بصورة جيدة.</p>
18	<p>18. تتبخر بعض جزيئات الماء على سطح السائل. حينما تتصل الجسيمات الساخنة بالهواء البارد فوق الإناء، تتكثف مرة أخرى في الماء السائل. يُكوّن هذا الماء المكثف ضبابًا رقيقًا فوق الإناء.</p>

	التوصيل الحراري
	الامتزاز الحراري
	الحرارة
	الحمل الحراري
	الإشعاع
	الحرارة النوعية

almanahj.com/ae

التأكد من فهم النص والتحقق عبر الأشكال أو المخططات أو الرسوم البيانية

التأكد من فهم النص

سوف تختلف الإجابات. الإجابات المحتملة: لقد دخلت إلى منزلك في يوم كثير الثلوج ثم خلعت حذاءك المغطى بالثلوج داخل المنزل بجوار الباب تماماً. حينما دخلت إلى المنزل أولاً. لم يكن حذاؤك والثلوج التي تغطيه متوازنين حراريًا مع الهواء الموجود في المنزل. وفي الزمن الذي تذوب فيه الثلوج ويدفأ حذاؤك، يصل الماء والحذاء إلى الاتزان الحراري مع الهواء في المنزل.

التحقق عبر الأشكال

نظرًا لأن الطاقة الحرارية تنتقل من الجسم الأعلى حرارة إلى الجسم الأقل برودة، تنتقل الطاقة الحرارية من جيبتك إلى مقياس الحرارة. ما أن يتم الوصول إلى الاتزان الحراري، يقيس مقياس الحرارة درجة حرارتك بدقة.

التأكد من فهم النص

الصفر المطلق هو أقل درجة حرارة يمكن الوصول إليها. عند الصفر المطلق يتم التخلص من كل الطاقة الحرارية من الغاز المثالي.

التحقق عبر الأشكال

الإجابات المحتملة: إذا وقعت حافي القدمين على رصيف صلب في فصل الصيف، تنتقل الطاقة الحرارية من الرصيف إلى قدميك. حينما تفتح باب مبنى مكيف بالهواء في يوم حار، تنتقل الطاقة الحرارية من خارج المبنى إلى داخله من خلال الحمل الحراري. تتبعث الطاقة الحرارية من السخان الكهربائي.

التأكد من فهم النص

الحرارة النوعية للمادة هي قياس كمية الطاقة التي يلزم إضافتها إلى لوحدة الكتل من هذه المادة لرفع درجة حرارتها بمقدار درجة واحدة.

التحقق عبر الأشكال

الحرارة النوعية للنحاس منخفضة، لذا يحسن اختياره في صنع القواعد حيث إنه سيوصل الحرارة من الموقد إلى داخل المقلاة. الحرارة النوعية للفضة العالية للصداً عالية نوعاً ما. لذا فسوف ينقل الطاقة الحرارية إلى الطعام ولكنه لا يتأثر بتقلب درجة الحرارة. الحرارة النوعية للبيلاستيك عالية للغاية، مما يجعله عازلاً جيداً لصنع المقابض.

تطبيق

1. 5.3×10^4 J

2. 0.36 درهم

3. a. 10.0 K

b. 21 K

c. بالنسبة إلى درجة الحرارة الأعلى من صفر 0°C ، يعد الماء مبرّد أفضل، لأن بإمكانه امتصاص الطاقة الحرارية من دون أن تتغير درجة حرارته، تماماً كالميثانول.

تطبيق

4. 9.04×10^2 J/(kg·°C)

5. 2.53×10^2 J/(kg·°C)

6. 45.0°C

7. 28.5°C

8. 42.1°C

القسم 1 مراجعة

9. كلا، شعورك بدرجة حرارة الأرض هو في الحقيقة انتقال الطاقة الحرارية من قدميك أو إليها. يعد توصيل الترميد الطاقة الحرارية من قدميك أكثر كفاءة من السجاجيد والهواء داخل المنزل.

10. a. 278 K

b. -239°C

c. 485 K

d. 43°C

11. كلا، تقاس الحرارة بوحدات الجول (J) وتقاس الحرارة النوعية بوحدات الجول لكل كيلوغرام كلغين (J/(kg·K)).

12. يكون لكرة السلة طاقة حركية حينما تتحرك وتكون لها طاقة وضع الجاذبية الأرضية حينما تكون فوق الأرض. تتحول بعض الطاقة الحركية على طاقة حرارية وطاقة صوتية حينما ترتطم كرة السلة بالأرض. يعتمد إجمالي الطاقة الحرارية لكرة السلة على إجمالي طاقة جزيئاتها.

13. نعم، إذا كانت كتلة الماء البارد تفوق كتلة الماء الساخن، فقد تكون للماء البارد نفس الطاقة الحرارية تماماً لأنه يحتوي على عدد أكبر من الجسيمات في الزمء.

14. الحرارة النوعية للبطاطس عالية وهي موصل رديء للطاقة الحرارية؛ لذا فهي تفقد طاقتها الحرارية ببطء.

15. البطاطس ليست موصلًا جيدًا للطاقة الحرارية. زيادة مساحة السطح من خلال تقطيع البطاطس إلى أجزاء صغيرة تزيد من معدل انتقال الطاقة الحرارية إلى البطاطس.

16. إنها موصلات جيدة للطاقة الحرارية وحرارتها النوعية منخفضة نسبيًا.

17. الملعقة البلاستيكية موصل رديء للطاقة الحرارية، لذا فهي لا تنتقل الطاقة الحرارية إلى لسانك بصورة جيدة.

18. تتبخر بعض جزيئات الماء على سطح السائل. حينما تتصل الجسيمات الساخنة بالهواء البارد فوق الإناء، تتكثف مرة أخرى في الماء السائل. يُكوّن هذا الماء المكثف ضبابًا رقيقًا فوق الإناء.

العكرة الرئيسية

عند انتقال الطاقة الحرارية، تبقى الطاقة محفوظة وتزداد الإنتروبي (الفوضى)

الأسئلة الرئيسية

- كيف ترفبط حرارة الانصهار وحرارة التبخير بتغيرات الحالة؟
- ما القانون الأول للديناميكا الحرارية؟
- كيف تبرهن المحركات ومضخات الحرارة والثلاجات القانون الأول للديناميكا الحرارية؟
- ما القانون الثاني للديناميكا الحرارية؟

مراجعة المفردات

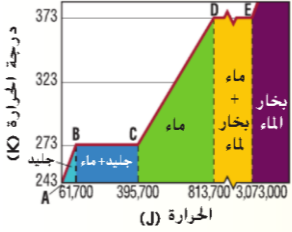
جول (J) وحدة قياس الشغل والطاقة، J هو مقدار الشغل المبذول عندما تؤثر قوة مقدارها 1 N في جسم لتحريكه مسافة 1 m

المفردات الجديدة

حرارة الانصهار heat of fusion
حرارة التبخير heat of vaporization
القانون الأول للديناميكا الحرارية first law of thermodynamics
المحرك الحراري heat engine
القانون الثاني للديناميكا الحرارية second law of thermodynamics
الإنتروبي entropy

تطبيق

19. ما كمية الطاقة التي يمكن امتصاصها من خلال $1.00 \times 10^2 \text{ g}$ من الجليد في -20.0°C لتتحول إلى ماء عند درجة حرارة 0.0°C ؟
20. عينة قدرها $2.00 \times 10^2 \text{ g}$ من الماء في درجة حرارة 60°C يتم تسخينها حتى تتبخر عند درجة حرارة 140°C فما مقدار الطاقة الحرارية التي يتم اكتسابها؟
21. استخدم الرسم البياني في الشكل 15 لحساب حرارة انصهار الجليد وحرارة تبخير الماء بالجلول لكل كيلو جرام.
22. يرغب مشغل مصنع للصلب أن يحول 100 kg من الحديد في درجة حرارة 25°C إلى حديد منصهر (درجة انصهار الحديد = 1538°C). فما مقدار الطاقة الحرارية اللازمة؟
23. مسألة تحفيزية ما مقدار الطاقة الحرارية اللازمة لتحويل $3.00 \times 10^2 \text{ g}$ من الجليد عند درجة حرارة -30.0°C إلى بخار ماء عند درجة حرارة 130.0°C ؟



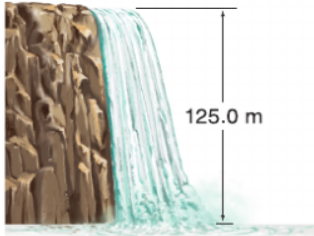
الشكل 15

تطبيق

24. يكتب بالإنجليزية 75 ل من النايلون من الطاقة الحرارية. يتبدد النايلون ولكن تظل درجة الحرارة كما هي. ما مقدار الشغل الذي يبذله النايلون عند التمدد؟
25. يعمل المضرب فئياً صديراً في كتلة من الألمنيوم مقدارها 0.40 kg ويُسكّن الألمنيوم بمقدار 5.0°C . فما مقدار الشغل المبذول من المضرب لكل وحدة كتلة؟
26. كم مرة يجب أن تقوم فيها بإسقاط حذاء من الرصاص كتلته 0.50 kg من ارتفاع 1.5 m لتسخين الرصاص بمقدار 1.0°C ؟
27. عندما تحرك كوباً من الشاي فإذك تبذل شغلاً مقداره 0.050 J في كل مرة تحرك فيها المعلقة حركة دائرية في الكوب. كم مرة يجب أن تُحرك فيها المعلقة لتسخين كوب من الشاي كتلته 0.15 kg بمقدار 2.0°C ؟
28. مسألة تحفيزية يتم بذل شغل على 100 g من الماء النظام معزول، ويستخدم جميع الشغل المبذول لتحويل الماء عند درجة حرارة 90°C إلى بخار ماء عند درجة 110°C . فما مقدار الشغل المبذول على الماء؟

القسم 2 مراجعة

35. الطاقة الميكانيكية والطاقة الحرارية بالنسبة لشلال الماء في الشكل 23، أحسب الفرق في درجة الحرارة بين سطح الشلال وقاع الشلال. وافترض أن الطاقة الكامنة للماء تتحول بالكامل إلى طاقة حرارية.



الشكل 23

36. الإنتروبي قيم لماذا تسبب تدهئة المنزل بالغاز الطبيعي زيادة في الإنتروبي.

37. التنكير الناقد الكثير من الحداثق والمنتزهات الرائعة بها أجهزة تقوم بنثر رذاذ دقيق من الماء، والذي يتبخّر بسرعة. فسّر لماذا تعمل هذه العملية على تبريد المنطقة المحيطة.

29. العكرة الرئيسية صف انتقال الطاقة وتحولاتها الناتجة عن المحركات الحرارية، وفسّر لماذا يسبب تشغيل المحركات الحرارية زيادة في الإنتروبي.

30. حرارة التبخير كانت أجهزة التسخين الشديدة تعتمد على دفع البخار داخل أنابيب توضع في كل غرف المنزل، يتكثف بخار الماء ويتحول إلى ماء داخل المبرد. حلل هذه العملية وأشرح كيف تؤدي إلى تدهئة الغرفة.

31. حرارة الانصهار ما مقدار الطاقة الحرارية اللازمة لتحويل 50.0 g من الجليد عند درجة -20.0°C إلى ماء عند درجة 10.0°C ؟

32. حرارة التبخير ما مقدار الطاقة الحرارية اللازمة لرفع درجة حرارة 1.0 kg من فلز الزئبق من درجة حرارة 10.0°C إلى درجة الغليان (357°C) وتبخيرها بالكامل؟ بالنسبة للزئبق $C = 140 \text{ J/kg}\cdot^\circ\text{C}$ و $H_v = 3.06 \times 10^5 \text{ J/kg}$.

33. الطاقة الميكانيكية والطاقة الحرارية رجل يستخدم مطرقة كتلتها 320 kg وتحرك بسرعة 5.0 m/s لتكسير كتلة من الرصاص كتلتها 3.0 kg على صخرة كتلتها 450 kg . وعندما قام بقياس درجة حرارة كتلة الرصاص وجد أنها زادت بمقدار 5.0°C . فسّر كيف حدث هذا.

34. الطاقة الميكانيكية والطاقة الحرارية قام جيمس جول (James Joule) بقياس الفرق في درجة حرارة الماء بين سطح شلال ماء وقاع الشلال بدقة. لماذا توقع أن يجد فرقاً؟

19	<p>ما مقدار كمية الحرارة اللازمة لتحويل كتلة من الجليد مقدارها $1.00 \times 10^2 \text{ g}$ ودرجة حرارتها 20.0°C إلى ماء درجة حرارته 0.0°C؟</p> $Q = mC\Delta T + mH_f$ $= (0.100 \text{ kg})(2060 \text{ J/kg}\cdot^\circ\text{C})(20.0^\circ\text{C}) + (0.100 \text{ kg})(3.34 \times 10^5 \text{ J/kg})$ $= 3.75 \times 10^4 \text{ J}$
20	<p>إذا سخنت عينة ماء كتلتها $2.00 \times 10^2 \text{ g}$ ودرجة حرارتها 60.0°C فأصبحت بخارًا درجة حرارته 140.0°C، فما مقدار كمية الحرارة الممتصة؟</p> $Q = mC_{\text{الماء}} \Delta T + mH_v + mC_{\text{البخار}} \Delta T$ $= (0.200 \text{ kg})(4180 \text{ J/kg}\cdot^\circ\text{C})(100.0^\circ\text{C} - 60.0^\circ\text{C}) + (0.200 \text{ kg})(2.26 \times 10^6 \text{ J/kg}) +$ $(0.200 \text{ kg})(2020 \text{ J/kg}\cdot^\circ\text{C})(140.0^\circ\text{C} - 100.0^\circ\text{C})$ $= 502 \text{ kJ}$
21	<p>21. $H_f = 3.34 \times 10^5 \text{ J/kg}$; $H_v = 2.259 \times 10^6 \text{ J/kg}$</p>
22	<p>22. $9.5 \times 10^7 \text{ J}$</p>
23	<p>احسب كمية الحرارة اللازمة لتحويل $3.00 \times 10^2 \text{ g}$ من جليد درجة حرارته 30.0°C إلى بخار ماء درجة حرارته 130.0°C؟</p> $Q = mC_{\text{الجليد}} \Delta T + mH_f + mC_{\text{الماء}} \Delta T + mH_v + mC_{\text{البخار}} \Delta T$ $= (0.300 \text{ kg})(2060 \text{ J/kg}\cdot^\circ\text{C})(0.0^\circ\text{C} - (-30.0^\circ\text{C})) + (0.300 \text{ kg})(3.34 \times 10^5 \text{ J/kg}) + (0.300 \text{ kg})(4180 \text{ J/kg}\cdot^\circ\text{C})$ $(100.0^\circ\text{C} - 0.0^\circ\text{C}) + (0.300 \text{ kg})(2.26 \times 10^6 \text{ J/kg}) + (0.300 \text{ kg})(2020 \text{ J/kg}\cdot^\circ\text{C})(130.0^\circ\text{C} - 100.0^\circ\text{C})$ $= 9.40 \times 10^2 \text{ kJ}$

24	<p>. يمتص بالون غاز J 75 من الحرارة. فإذا تمدد هذا البالون وبقي عند درجة الحرارة نفسها، فما مقدار الشغل الذي بذله البالون في أثناء تمدده؟</p> $\Delta U = Q - W$ <p>بما أن درجة حرارة البالون لم تتغير، فإن</p> $\Delta U = 0$ <p>لذا فإن</p> $Q = W$ <p>وهكذا يكون البالون قد بذل شغلاً مقداره J 75 في أثناء تمدده.</p>
25	<p>يثقب مثقب كهربائي فجوة صغيرة في قالب من الألمنيوم كتلته 0.40 kg فيسخن الألمنيوم بمقدار 5.0°C، ما مقدار الشغل الذي بذله المثقب؟</p> $\Delta U = Q - W_{\text{المثقب}}$ $W_{\text{المثقب}} = -W_{\text{القالب}}$ <p>وأفترض أنه لم تضاف حرارة إلى المثقب</p> $\Delta U = 0 + W_{\text{المثقب}}$ $= mC\Delta T$ $= (0.40 \text{ kg})(897 \text{ J/kg}\cdot^\circ\text{C})(5.0^\circ\text{C})$ $= 1.8 \times 10^3 \text{ J}$
26	<p>، كم مرة يتعين عليك إسقاط كيس من الرصاص كتلته 0.50 kg من ارتفاع 1.5 m؛ لتسخين الرصاص بمقدار 1.0°C؟</p> $\Delta U = mC\Delta T$ $= (0.50 \text{ kg})(130 \text{ J/kg}\cdot^\circ\text{C})(1.0^\circ\text{C})$ $= 65 \text{ J}$ <p>طاقة وضع الكيس في كل مرة يتم فيها رفعه تساوي</p> $PE = mgh$ $= (0.50 \text{ kg})(9.80 \text{ m/s}^2)(1.5 \text{ m})$ $= 7.4 \text{ J}$ <p>عندما يصطدم الكيس بسطح الأرض؛ تنتقل هذه الطاقة غالباً على شكل شغل مبذول على الرصاص. وعدد مرات الإسقاط يساوي:</p> $\frac{65 \text{ J}}{7.4 \text{ J}} = 9 \text{ مرة}$
27	<p>. عندما تحرك كوباً من الشاي، تبذل شغلاً مقداره J 0.05 في كل مرة تحرك فيها الملعقة بصورة دائرية. كم مرة يجب أن تحرك الملعقة لترفع درجة حرارة كوب الشاي الذي كتلته 0.15 kg بمقدار 2.0°C؟ (بإهمال زجاج الكوب)</p> $\Delta U = mC\Delta T$ $= (0.15 \text{ kg})(4180 \text{ J/kg}\cdot^\circ\text{C})(2.0^\circ\text{C})$ $= 1.3 \times 10^3 \text{ J}$ <p>عدد مرات التحريك تساوي</p> $\frac{1.3 \times 10^3 \text{ J}}{0.05 \text{ J}} = 2.6 \times 10^4 \text{ مرة}$

28 .200 kJ

28

29. تستخدم بعض الطاقة الحرارية من الخزان الساخن في بذل شغل (التحول إلى طاقة ميكانيكية) وبعضها ينتقل إلى الخزان البارد ويرفع درجة حرارته. فزداد الإنتروبي متى تدفقت الطاقة الحرارية من الجسم الأعلى حرارة إلى الجسم الأقل حرارة وترفع درجة حرارته.

29

الحرارة الكامنة للتبخير يرسل النظام القديم للتدفئة بخاراً يحمل الأنايب في كل غرفة من المنزل، ويتكثف هذا البخار في داخل المشعاع ليصبح ماءً. حلّل هذه العملية، وشرح كيف تعمل على تدفئة الغرفة؟
يحرر البخار المتكثف الحرارة الكامنة للتبخير في داخل الغرفة، ثم يكمل وورته راجعاً إلى المرجل لامتصاص الحرارة الكامنة للتبخير مرة أخرى.

30

$$Q = mC_{\text{الماء}} \Delta T + mH_v + mC_{\text{البخار}} \Delta T$$

31 .20.8 kJ

31

الحرارة الكامنة للتبخير ما مقدار الطاقة اللازمة لتسخين 1.0 kg من الزيت عند درجة حرارة 10.0 °C إلى درجة الغليان وتبخيره كاملاً؟ علماً بأن السعة الحرارية النوعية للزيت هي 140 J/kg.°C، والحرارة الكامنة لتبخيره هي 3.06×10⁵ J/kg، ودرجة غليان الزيت هي 357 °C.

32

$$\begin{aligned} Q &= mC_{\text{الزيت}} \Delta T + mH_v \\ &= (1.0 \text{ kg})(140 \text{ J/kg.}^\circ\text{C})(357^\circ\text{C} - 10.0^\circ\text{C}) + (1.0 \text{ kg})(3.06 \times 10^5 \text{ J/kg}) \\ &= 3.5 \times 10^5 \text{ J} \end{aligned}$$

الطاقة الميكانيكية والطاقة الحرارية يستخدم رجل مطرقة كتلتها 320 kg تتحرك بسرعة 5.0 m/s لتحطيم قالب رصاص كتلته 3.0 kg موضوع على صخرة كتلتها 450 kg. وعندما قاس درجة حرارة القالب وجد أنها زادت 5.0 °C. فسّر ذلك. يمتص قالب الرصاص جزءاً من طاقة المطرقة الحركية. مقدار طاقة المطرقة يساوي

$$\frac{1}{2}mv^2 = \frac{1}{2}(320 \text{ kg})(5.0 \text{ m/s})^2 = 4.0 \text{ kJ}$$

التغيير في الطاقة الحرارية للقالب يساوي

$$\begin{aligned}\Delta U &= mC\Delta T \\ &= (3.0 \text{ kg})(130 \text{ J/kg.K})(5.0^\circ\text{C}) \\ &= 2.0 \text{ kJ}\end{aligned}$$

أي أن نصف طاقة المطرقة انتقلت إلى قالب الرصاص.

33

الطاقة الميكانيكية والطاقة الحرارية قاس جيمس جول الفرق في درجة حرارة الماء عند قمة شلال ماء وعند قاعه بدقة. فلماذا توقع وجود فرق؟
للماء عند قمة الشلال طاقة وضع جاذبية، وتتحول بعض هذه الطاقة إلى طاقة حرارية عندما يصطدم الماء بالأرض عند قاع الشلال. ويجب أن يكون الماء أكثر سخونة عند قاع الشلال، ولكن ليس إلى درجة كبيرة.

34

الطاقة الميكانيكية والطاقة الحرارية تندفق مياه شلال يبلغ ارتفاعه 125.0 m كما في الشكل 17-5. احسب الفرق في درجة حرارة الماء بين قمة الشلال وقاعه إذا تحولت كل طاقة


$$PE_{\text{الجاذبية}} = Q_{\text{المتصصة بواسطة الماء}}$$

$$mgh = mC\Delta T$$

$$\Delta T = \frac{gh}{C}$$

$$= \frac{(9.80 \text{ m/s}^2)(125.0 \text{ m})}{4180 \text{ J/kg}\cdot^\circ\text{C}}$$

$$= 0.293^\circ\text{C}$$



35

يطلق الغاز طاقة حرارية في درجة حرارة اشتعاله. تتفكك جزيئات الغاز الطبيعي وتتحد مع الأكسجين. تُوزع الطاقة الحرارية بطرائق جديدة عديدة ولا يمكن إعادة تجميع جزيئات الغاز الطبيعي بسهولة.

36

حينما يتبخر الماء، فإنه يمتص الطاقة الحرارية من الهواء.

37

	حرارة الانصهار
	حرارة التبخر
	القانون الأول للديناميكا الحرارية
	المحرك الحراري
	القانون الثاني للديناميكا الحرارية
	الإنتروبي

almanahj.com/ae

مراجعة القسم 2

29. تستخدم بعض الطاقة الحرارية من الخزان الساخن في بذل شغل (التحول إلى طاقة ميكانيكية) وبعضها ينتقل إلى الخزان البارد ويرفع درجة حرارته. تزداد الإنتروبي متى تدفقت الطاقة الحرارية من الجسم الأعلى حرارة إلى الجسم الأقل حرارة وترفع درجة حرارته.
30. أطلق البخار المكثف حرارة تبخيره إلى الغرفة، ثم أعيد توزيعه مرة أخرى إلى المرجل حيث كانت إعادة تسخينه.
31. 20.8 kJ
32. 3.5×10^5 J
33. يمتص جزء من الطاقة الحركية للمطرقة باعتبارها طاقة حرارية بواسطة دليل ضبط الحركة. طاقة المطرقة هي 4.0 KJ والتغير في الطاقة الحرارية لدليل ضبط الحركة هو 2.0 kJ. انتقلت نصف طاقة المطرقة تقريباً إلى دليل ضبط الحركة.
34. يحتوي الماء الموجود على السطح على طاقة وضع جاذبية تتبدد إلى طاقة حرارية حينما يسقط الماء مصطدماً بالقاعدة.
35. 0.293°C
36. يطلق الغاز طاقة حرارية في درجة حرارة اشتعاله. تتفكك جزيئات الغاز الطبيعي وتتحد مع الأكسجين. تُوزَّع الطاقة الحرارية بطرائق جديدة عديدة ولا يمكن إعادة تجميع جزيئات الغاز الطبيعي بسهولة.
37. كليهما يتبخر الماء، فإنه يمتص الطاقة الحرارية من الهواء.

التأكد من فهم النص والتحقق عبر الأشكال والمخططات والرسوم البيانية

التأكد من فهم النص

يستخدم المحرك الأكثر كفاءة وقوداً أقل بالنسبة إلى كمية معينة من الشغل المبذول، لأن كمية أقل من الطاقة المنبعثة ستتحول إلى حرارة مهدرة وكمية أكبر من الطاقة ستستخدم في أداء الشغل النافع.

التأكد من فهم النص

في أي نظام مغلق (على سبيل المثال، الكون بأكمله)، لا يمكن أن تقل الكمية الإجمالية للإنتروبي أبداً.

تطبيق

19. 3.75×10^4 J
20. 502 kJ
21. $H_f = 3.34 \times 10^5$ J/kg; $H_v = 2.259 \times 10^6$ J/kg
22. 9.5×10^7 J
23. 9.40×10^2 kJ

تطبيق

24. 75 J
25. 1.8×10^3 J
26. 9 مرات
27. 2.6×10^4 تغليبة
28. 200 kJ

تحدي الفيزياء

1.
$$\Delta S = Q/T = \frac{mC\Delta T}{T}$$

$$= \frac{(1.0 \text{ kg})(4180 \text{ J/(kg}\cdot\text{K)})(274 \text{ K} - 273 \text{ K})}{273 \text{ K}}$$

$$= 15 \text{ J/K}$$
2.
$$\Delta S = Q/T = \frac{mC\Delta T}{T}$$

$$= \frac{(1.0 \text{ kg})(4180 \text{ J/(kg}\cdot\text{K)})(354 \text{ K} - 353 \text{ K})}{353 \text{ K}}$$

$$= 12 \text{ J/K}$$
3.
$$\Delta S = Q/T = \frac{mC\Delta T}{T}$$

$$= \frac{(1.0 \text{ kg})(130 \text{ J/(kg}\cdot\text{K)})(274 \text{ K} - 273 \text{ K})}{273 \text{ K}}$$

$$= 0.48 \text{ J/K}$$
4.
$$\Delta S = Q/T = \frac{mH_f}{T} = \frac{(1.0 \text{ kg})(3.34 \times 10^5 \text{ J/kg})}{273 \text{ K}}$$

$$= 1.2 \times 10^3 \text{ J/K}$$

بوجه عام، يؤدي استخدام كمية معينة من الحرارة إلى زيادة الإنتروبي بكمية كبيرة، حينما تكون الحرارة الأولية أقل. ذلك لأن الإنتروبي تقيس تشتت الطاقة وكمية معينة من الحرارة لن تنتشر بنفس القدر في مادة تكون بالفعل في درجة حرارة أعلى. وكذلك، يؤدي تغير حالة المادة بوجه عام إلى إحداث تغير في الإنتروبي أكبر من التغير الذي يحدثه التسخين إلى 1°C .

الوحدة 12 الإجابات

التقسيم 1

إنتان المخاهيم

38. بطاقة الحركة لكرة على كتلة وطاقته الوضع
الحرارية هي حاصل جمع طاقة الوضع بطاقة الحركة
لتحسينات القدرة التي تضاف كتلة الكرة درجة
الحرارة هي قياس متوسط طاقة الحركة جسيمات
الكرة.

39. كتلة ليست هناك أي جسيمات بها طاقة في العدم.
40. كتلة تزداد للسرعات الاقلامية للذرات
والجزيئات.

41. يفرقتا نفس الطاقة الحرارية المهدفة منها واليهما نفس
مخس الباب المقوي الطاقة الحرارية من جلوده يعمل
أسرع من الباب الخشبي اذا كان أكثر بروتد. حتى وان
كلى الباب والظنن انما نفس درجة الحرارة.

42. يستغرق درجة حرارة المصطنع حسب كتلتها
وحرارتها النوعية والمصطنع ان الحرارة التي تنقل
درجة الحرارة ليس بالضرورة ان تكون المتغيرات في
درجة الحرارة واحدة في كل منهما.

إنتان حل المسائل

43. $1.64 \times 10^4 \text{ J}$

44. $2.02 \times 10^4 \text{ J}$

45. $127 \text{ J/kg} \cdot \text{K}$

46. 63°C

47. $100 \times 10^3 \text{ J/(kg} \cdot \text{K)}$

48. 0.87 L

49. 3°C

إنتان حل المسائل

57. يجب الا يحدث ذلك فرق في كتلة الخالين. يكون
انما في نفس درجة الحرارة.

58. المتناول. نظرًا لأن حرارته النوعية أقل والنسبة إلى
كتلة معينة ومختار التناول معين للحرارة. فإنه يولد
درجة أكثر دفئًا. لأن $m \cdot c \cdot \Delta T = Q$

59. الحرارة النوعية للألومنيوم أكبر من الحرارة النوعية
للرصاص ولذلك فإنه يذوب كمية أكبر من الثلج.
60. في الزمن الذي يتغير فيه. فإنها تنقص حرارة شبرها
من الثلج.

61. لن يتحدد ذلك الفوض على أراء الشخص حتى
يتطوع لإطلاق حرارة التصوير. لكي هذه العملية
أرواح الشجر أرواح أوقات أطول. يُعطي النسبة الحرارية
للماء عملية التبريد تحت ضغط 10°C

62. كتلة الكوبالت التي يتغير على كتلة 1 kg سيكون أكثر
سحبًا لأن الكتلة (Δ) تحتوي على طاقة حرارية أكبر.

63. في النصف الشمالي من الكرة الأرضية. يأتي ضوء الشمس
من الجنوب في معظم الأماكن. يكون ضوء الشتاء في فصل
الشتاء أسهل من تبريده في فصل الصيف. لذلك فإن التوافق

Search tools

- Export PDF
- Create PDF
- Edit PDF
- Comment
- Combine Files
- Organize Pages
- Redact
- Protect

الوحدة 12 الإجابات

الكتابة في الشيزياء

33. تسمى الحرارة النوعية وحرارة الانصهار والتبريد
الحرارة. انما يكون الثلج والذوق بخلاف الثلج. تحزين
الكثير من الطاقة الحرارية من دون تغير درجات
حرارتها بخلاف كتلة عدة مولات كثيرة. تخفف
الطاقة والحرارة الكبيرة من تغيرات درجة
الحرارة في المناطق القطبية بحجمها ضخمه وجميعة.

بعد اختلاف درجة الحرارة من النهار إلى الليل
والغرب من إحدى التيارات أضعف منه في الصحراء.
تتمثل حرارة الانصهار المهدفة الثلج في شهر مارس
في النصف الشمالي والجنوبي انطلاق الطاقة بواسطة
التيار المتجمدة في المحيط وانصافها في فصل
الربيع. ينظم من تغيرات درجة الحرارة في الغلاف
الاقوي. يخفف الثلج ويوزن الكثير من الطاقة. سيما
يتغير على استخدام هذه الطاقة في تحريك أمينات
الأرصاد الجوية كالعواصف الرعدية والأمواج.

75. كتلة النحاس أكبر من كتلة الألومنيوم بخلاف
الاصناف.

76. 12 m/s

77. $2.0 \times 10^{-9} \text{ kg}$

تكميل الناقد

78. $4.8 \times 10^{-19} \text{ J/molecule}$

79. نصف الإجابات. أنواع إجابة كمية معينة
من الثلج المتجمدة من 250 K إلى 240 K واد
(الفرق بين 10 K ما هي كتلة الثلج)

80. $0.031 \text{ J/kg} \cdot \text{K}$

81. $0.003 \text{ J/kg} \cdot \text{K}$

82. 0.078 kg

83. سبب اننا نختار الجسيمات الصغيرة
لأنها تتحرك بسرعة أكبر من الجسيمات الأكبر
وأعلى التي تنقل الطاقة. ولذا فإن الجسيمات
المفردة. إلخ.

Search tools

- Export PDF
- Create PDF
- Edit PDF
- Comment
- Combine Files
- Organize Pages
- Redact
- Protect
- Optimize PDF
- Fill & Sign
- Send for Review
- More Tools

Convert and edit PDFs with Acrobat Pro DC
Start Free Trial

الوحدة 12 الإجابات

تبرين على الاختيار المعياري

الاختيار من متعدد

C.1
A.2
D.3
A.4
C.5
C.6
A.7
C.8
B.9

إجابة مختوحة

10. لينصهر 152 kg انماي 1030 يتطلب التحول
إلى بخار مريًا من الطاقة بخلاف 878 K وذلك
ليكون البخار $190 \times 10^3 \text{ J}$ اختلاف في الطاقة
من بين الحرارة الرتعة أكبر من الطاقة المطلوبة
لتدفئة الماء في حالته السائلة.

إرشادات

المباري التالي هي سيرة من أداء نوع الأسئلة ذات الإجابات
المرد.

الاختيار من متعدد

C.1
A.2
D.3
A.4
C.5
C.6
A.7
C.8
B.9

إجابة مختوحة

10. لينصهر 152 kg انماي 1030 يتطلب التحول
إلى بخار مريًا من الطاقة بخلاف 878 K وذلك
ليكون البخار $190 \times 10^3 \text{ J}$ اختلاف في الطاقة
من بين الحرارة الرتعة أكبر من الطاقة المطلوبة
لتدفئة الماء في حالته السائلة.

إرشادات

المباري التالي هي سيرة من أداء نوع الأسئلة ذات الإجابات
المرد.

Search tools

- Export PDF
- Create PDF
- Edit PDF
- Comment
- Combine Files
- Organize Pages
- Redact
- Protect
- Optimize PDF

الوحدة 10

حالات المادة

الفكرة الرئيسة الطاقة الحرارية لمادة ما والقوى بين جسيماتها تحدد خصائصها.

الأقسام

1 خصائص الموائع

2 القوى داخل السوائل

3 الموائع في حالات السكون والحركة

4 الأجسام الصلبة



almanahj.com/ae

الفكرة الرئيسية

المواع ليس لها شكل محدد وتتضمن السوائل والغازات والبلازما.

الأسئلة الرئيسية

- ما هو المائع؟
- ما العلاقات بين الضغط والحجم ودرجة الحرارة للغاز؟
- ما قانون الغاز المثالي؟
- ما هي البلازما؟

مراجعة المفردات

العلاقة الخطية

linear relationship

هي العلاقة التي يتغير فيها المتغير التابع بشكل خطي مع المتغير المستقل

المفردات الجديدة

المائع	fluid
الضغط	pressure
باسكال	pascal
القانون العام للغازات	combined gas law
قانون الغاز المثالي	ideal gas law
التمدد الحراري	thermal expansion
البلازما	plasma

تطبيق

4. افترض أنه أثناء مرور عاصفة، ينخفض الضغط الجوي بنسبة 15% في الخارج. ما هي محصلة القوى التي تتشكل على الباب الخارجي لمنزل ما ارتفاعه 195 cm وعرضه 91 cm؟ في أي اتجاه ستتشكل هذه القوى؟
5. **تحدي** تقوم قطع كبيرة من المعدات الصناعية موضوعة على صفائح فولاذية عريضة بتوزيع وزن المعدات على مساحات أكبر. في حال خطط المهندس لتثبيت جهاز كتلته 454 kg على الأرض التي يُفتر بأنها تتحمل ضغطاً إضافياً يبلغ 5.0×10^4 Pa، ما مساحة صفيحة الدعم الفولاذية؟

1. الضغط الجوي عند مستوى سطح البحر 1.0×10^5 Pa تقريباً. ما القوة التي يؤثر بها الهواء عند مستوى سطح البحر على سطح مكتب طوله 152 cm وعرضه 76 cm؟
2. بلامس إطار سيارة الأرض على مساحة مستطيلة تبلغ 12 cm عرضاً و 18 cm طولاً إذا كانت كتلة السيارة 925 kg ما مقدار الضغط الذي تؤثر به السيارة على الأرض عندما تستقر على أربعة إطارات؟
3. قالب من الرصاص أبعاده $5.0 \text{ cm} \times 10.0 \text{ cm} \times 20.0 \text{ cm}$ يستقر على الأرض على الجانب الأصغر. كثافة الرصاص تساوي 11.8 g/cm^3 . ما مقدار الضغط الذي يؤثر به القالب على الأرض؟

تطبيق

8. وعاء فيه 200.0 L من غاز الهيدروجين عند درجة حرارة 0.0°C وضغط 156 kPa. عند رفع درجة الحرارة إلى 95°C وخفض الحجم إلى 175 L، ما الضغط الجديد للغاز؟
9. **تحدي** متوسط الكتلة المولية ليكونات الهواء (غاز النيتروجين وغاز الأكسجين في الأساس) حوالي 29 g/mol. ما حجم 1.0 kg من الهواء عند ضغط يساوي الضغط الجوي ودرجة حرارة 20.0°C ؟

6. خزان من غاز الهيليوم يستخدم لنفخ بالونات اللعب ضغطه 155×10^7 Pa ودرجة حرارته 293 K. فإذا كان حجم الخزان 0.020 m^3 ، ما حجم البالون الذي قد نفله عند 1.00 ضغط جوي و 37°C ؟
7. ما كتلة غاز الهيليوم في المسألة السابقة؟ مع العلم أن الكتلة المولية لغاز الهيليوم 4.00 g/mol.

القسم 1 مراجعة

10. الفكرة الرئيسية قارن بين السوائل والغازات والبلازما.
11. **الضغط والقوة** صندوقان كل منهما معلق بخيوط رقيقة في الهواء. أحدهما يصل حجمه إلى $20 \text{ cm} \times 20 \text{ cm} \times 20 \text{ cm}$ والصندوق الآخر $20 \text{ cm} \times 20 \text{ cm} \times 40 \text{ cm}$.
- a. كيف يمكن المقارنة بين الصندوقين من حيث ضغط الهواء الواقع عليهما من الخارج؟
- b. قارن بين مقدار قوة الهواء الكلية المؤثرة على كل من الصندوقين؟
12. **علم الأرصاد الجوية** بالون الطقس الذي يستخدمه علماء الأرصاد الجوية مصنوع من كيس مرن يسمح للغاز بداخله أن يتمدد بحرية إذا كان بالون الطقس يحتوي على 25.0 m^3 من غاز الهيليوم وأطلق من مستوى سطح البحر، فما حجم الغاز عندما يصل البالون إلى ارتفاع 2100 m حيث يكون الضغط 8.2×10^4 Pa على فرض لم تتغير درجة الحرارة.
13. **الكثافة ودرجة الحرارة** إذا كانت درجة الحرارة الابتدائية 0°C ، كيف تتغير كثافة الماء عند تسخينها إلى 4°C إلى درجة 8°C ؟
14. **انضغاط الغاز** في محرك احتراق داخلي معين 0.0021 m^3 من الهواء عند ضغط يعادل الضغط الجوي ودرجة حرارة 303 K ينضغط الهواء بسرعة إلى ضغط مقداره 2.01×10^6 Pa وحجم مقداره 0.0003 m^3 . ما درجة الحرارة النهائية للغاز المضغوط؟
15. **الحجم المولي القياسي** ما حجم 1.00 mol من الغاز عند ضغط يعادل الضغط الجوي ودرجة حرارة 273 K؟
16. **الهواء في الثلجة** كم عدد مولات الهواء الموجودة في ثلجة حجمها 0.635 m^3 عند درجة حرارة 2.00°C ؟ في حال كانت الكتلة المولية المتوسطة للهواء 29 g/mol، ما كتلة الهواء في الثلجة؟
17. **التفكير الناقد** بالمقارنة مع الجسيمات التي تكون غاز ثاني أكسيد الكربون، فإن الجسيمات التي تكون غاز الهيليوم صغيرة جداً. ما الذي تستنتجه من عدد الجسيمات في عينة 2.0 L من غاز ثاني أكسيد الكربون مقارنة بعدد الجسيمات في عينة 2.0 L من الهيليوم إذا كانت كلتا العينتين في نفس درجة الحرارة والضغط؟

1	<p>إذا كان الضغط الجوي عند مستوى سطح البحر يساوي $1.0 \times 10^5 \text{ Pa}$ تقريبًا، فما مقدار القوة التي يؤثر بها الهواء عند مستوى سطح البحر في سطح مكتب طوله 152 cm وعرضه 76 cm؟</p> $F = PA$ $= Plw$ $= (1.0 \times 10^5 \text{ Pa})(1.52 \text{ m})(0.76 \text{ m})$ $= 1.2 \times 10^5 \text{ N}$
2	<p>يلامس إطار سيارة سطح الأرض بمساحة مستطيلة عرضها 12 cm وطولها 18 cm، فإذا كانت كتلة السيارة 925 kg، فما مقدار الضغط الذي تؤثر به السيارة في سطح الأرض إذا استقرت ساكنة على إطاراتها الأربعة؟</p> $P = \frac{F}{A} = \frac{F_{\text{سيارة}}}{A} = \frac{m_{\text{سيارة}} g}{4lw}$ $= \frac{(925 \text{ kg})(9.80 \text{ m/s}^2)}{(4)(0.12 \text{ m})(0.18 \text{ m})}$ $= 1.0 \times 10^2 \text{ kPa}$
3	<p>كتلة من الرصاص أبعادها $5.0 \text{ cm} \times 10.0 \text{ cm} \times 20.0 \text{ cm}$ تستقر على الأرض على أصغر وجه، فإذا علمت أن كثافة الرصاص 11.8 g/cm^3، فما مقدار الضغط الذي تؤثر به كتلة الرصاص في سطح الأرض؟</p> $m_{\text{الرصاص}} = \rho V = \rho lwh$ $= (11.8 \text{ g/cm}^3)(5.0 \text{ cm})(10.0 \text{ cm})(20.0 \text{ cm})$ $= 1.18 \times 10^4 \text{ g} = 11.8 \text{ kg}$ $P = \frac{F}{A} = \frac{m_{\text{الرصاص}} g}{lw}$ $= \frac{\rho Vg}{lw} = \frac{\rho lwhg}{lw} = \rho hg$ $= (11.8 \text{ g/cm}^3)(20.0 \text{ cm})(9.80 \text{ m/s}^2) \left(\frac{1 \text{ kg}}{1000 \text{ g}} \right) \left(\frac{(100 \text{ cm})^2}{(1 \text{ m})^2} \right)$ $= 23 \text{ kPa}$
4	<p>يمكن أن يصبح الضغط في أثناء الإعصار أقل 15% من الضغط الجوي المعياري، افترض أن الإعصار حدث خارج باب طوله 195 cm وعرضه 91 cm، فما مقدار القوة المحصلة التي تؤثر في الباب نتيجة هبوط مقدار 15% من الضغط الجوي المعياري؟ وفي أي اتجاه تؤثر القوة؟ الفرق في الضغط على جانبي الباب يساوي</p> $P_{\text{الفرق}} = (15\%)(P_{\text{الجوي المعياري}})$ $= (0.15)(1.0 \times 10^5 \text{ Pa}) = 1.5 \times 10^4 \text{ Pa}$ $F = P_{\text{الفرق}} A = P_{\text{الفرق}} lw$ $= (1.5 \times 10^4 \text{ Pa})(1.95 \text{ m})(0.91 \text{ m})$ $= 2.7 \times 10^4 \text{ N}$ <p>تتجه من داخل المنزل إلى خارجه</p>

5. يلجأ المهندسون في المباني الصناعية إلى وضع المعدات والآلات الثقيلة على ألواح فولاذية عريضة، بحيث يتوزع وزن هذه الآلات على مساحات أكبر. فإذا خطط مهندس لتركيب جهاز كتلته 454 kg على أرضية صُممت لتحمل ضغطاً إضافياً مقداره 5.0×10^4 Pa، فما مساحة صفيحة الفولاذ الداعمة؟
أقصى مقدار للضغط يساوي

5

$$P = \frac{F_g}{A} = \frac{mg}{A}$$

لذا فإن

$$\begin{aligned} A &= \frac{mg}{P} \\ &= \frac{(454 \text{ kg})(9.80 \text{ m/s}^2)}{5.0 \times 10^4 \text{ Pa}} \\ &= 8.9 \times 10^{-2} \text{ m}^2 \end{aligned}$$

يستخدم خزان من غاز الهيليوم ضغطه 15.5×10^6 Pa، ودرجة حرارته 293 K، لنفخ بالون على صورة دموية، فإذا كان حجم الخزان 0.020 m^3 ، فما حجم البالون إذا امتلأ عند 1.00 ضغط جوي، ودرجة حرارة 323 K؟

6

$$\frac{P_1 V_1}{T_1} = \frac{P_2 V_2}{T_2}$$

لذا فإن

$$V_2 = \frac{T_2 P_1 V_1}{P_2 T_1}$$

$$1.00 \text{ ضغط جوي} = 1.013 \times 10^5 \text{ Pa} = 1 \text{ atm}$$

$$\begin{aligned} V_2 &= \frac{(323 \text{ K})(15.5 \times 10^6 \text{ Pa})(0.020 \text{ m}^3)}{(1.013 \times 10^5 \text{ Pa})(293 \text{ K})} \\ &= 3.4 \text{ m}^3 \end{aligned}$$

ما مقدار كتلة غاز الهيليوم في المسألة السابقة إذا علمت أن الكتلة المولية لغاز الهيليوم 4.00 g/mol ؟

7

$$PV = nRT$$

$$\begin{aligned} n &= \frac{PV}{RT} \\ &= \frac{(15.5 \times 10^6 \text{ Pa})(0.020 \text{ m}^3)}{(8.31 \text{ Pa} \cdot \text{m}^3/\text{mol} \cdot \text{K})(293 \text{ K})} \\ &= 127.3 \text{ mol} \\ m &= (127.3 \text{ mol})(4.00 \text{ g/mol}) \\ &= 5.1 \times 10^2 \text{ g} \end{aligned}$$

يحتوي خزان على 200.0 L من غاز الهيدروجين درجة حرارته 0.0°C ومحفوظ عند ضغط مقداره 156 kPa ، فإذا ارتفعت درجة الحرارة إلى 95°C ، وانخفض الحجم ليصبح 175 L ، فما الضغط الجديد للغاز؟

8

$$\frac{P_1 V_1}{T_1} = \frac{P_2 V_2}{T_2}$$

$$T_1 = 273 \text{ K}$$

$$T_2 = 95^\circ \text{C} + 273^\circ \text{C}$$

$$= 368 \text{ K}$$

$$P_2 = \frac{T_2 P_1 V_1}{V_2 T_1}$$

$$= \frac{(368 \text{ K})(156 \text{ kPa})(200.0 \text{ L})}{(175 \text{ L})(273 \text{ K})}$$

$$= 2.4 \times 10^2 \text{ kPa}$$

<p>9</p>	<p>! إن معدل الكتلة المولية لمكونات الهواء (ذرات الأكسجين الثنائية وذرات غاز النتروجين الثنائية بشكل رئيس) 29 g/mol تقريباً. ما حجم 1.0 kg من الهواء عند ضغط يساوي الضغط الجوي ودرجة حرارة تساوي 20.0 °C؟</p> $PV = nRT$ $V = \frac{nRT}{P}$ $n = \frac{m}{M} = \frac{1.0 \times 10^3 \text{ g}}{29 \text{ g/mol}}$ $T = 20.0^\circ\text{C} + 273 = 293 \text{ K}$ $V = \frac{\left(\frac{1.0 \times 10^3 \text{ g}}{29 \text{ g/mol}}\right) (8.31 \text{ Pa}\cdot\text{m}^3/\text{mol}\cdot\text{K}) (293 \text{ K})}{(1.013 \times 10^5 \text{ Pa})}$ $= 0.83 \text{ m}^3$ <p>حيث إن</p> <p>و</p>
<p>10</p>	<p>1. الضغط والقوة افترض أن لديك صندوقين، أبعاد الأول 20 cm × 20 cm × 20 cm، وأبعاد الثاني 20 cm × 20 cm × 40 cm. قارن بين:</p> <p>a. ضغطي الهواء في المحيط الخارجي لكل من الصندوقين.</p> <p>b. مقداري القوة الكلية للهواء المؤثرة في كل من الصندوقين.</p> <p>لما كان $F = PA$؛ لذا فإن القوة الكلية للهواء أكبر على الصندوق ذي المساحة الكبرى. ولما كانت المساحة السطحية للصندوق الثاني ضعف المساحة السطحية للصندوق الأول، فإن القوة الكلية عليه تكون ضعف القوة الكلية على الصندوق الأول.</p>
<p>11</p>	<p>11. a. ضغط الهواء هو نفسه.</p> <p>b. نظرًا لأن $F = PA$، فإن القوة الكلية للهواء أكبر على الصندوق ذي المساحة الأكبر. الصندوق الثاني له ضعف المساحة السطحية، لذا له ضعف مجموع قوة الصندوق الأول.</p>
<p>12</p>	<p>علم الأرصاد الجوية يتكون منطاد الطقس الذي يستخدمه الراصد الجوي من كيس مرن يسمح للغاز في داخله بالتمدد بحرية. إذا كان المنطاد يحتوي على 25.0 m³ من غاز الهيليوم وأطلق من منطقة عند مستوى سطح البحر، فما حجم الغاز عندما يصل المنطاد ارتفاع 2100 m، حيث الضغط عند ذلك الارتفاع 0.82 × 10⁵ Pa؟ افترض أن درجة الحرارة ثابتة لا تتغير.</p> $P_1 V_1 = P_2 V_2$ $V_2 = \frac{P_1 V_1}{P_2}$ $= \frac{(1.013 \times 10^5 \text{ Pa}) (25.0 \text{ m}^3)}{0.82 \times 10^5 \text{ Pa}}$ $= 3.1 \times 10^1 \text{ m}^3$

13	<p>. الكثافة ودرجة الحرارة إذا كانت درجة الحرارة الابتدائية للماء 0°C، فكيف تتغير كثافة الماء إذا سُخِّنَ إلى 4°C، وإلى 8°C؟ عندما يسخن الماء من 0°C تزداد كثافته حتى تصل إلى قيمتها العظمى عند 4°C. وتتناقص كثافة الماء عند الاستمرار في التسخين حتى 8°C.</p>
14	<p>. انضغاط الغاز تحصر آلة احتراق داخلي في محرك كمية من الهواء حجمها 0.0021 m^3 عند ضغط يعادل الضغط الجوي ودرجة حرارة 303 K، ثم تضغط الهواء بسرعة ليصل إلى ضغط مقداره $20.1 \times 10^5\text{ Pa}$ وحجم 0.0003 m^3، ما درجة الحرارة النهائية للهواء المضغوط؟</p> $\frac{P_1 V_1}{T_1} = \frac{P_2 V_2}{T_2}$ $T_2 = \frac{T_1 P_2 V_2}{P_1 V_1}$ $= \frac{(303\text{ K})(20.1 \times 10^5\text{ Pa})(0.0003\text{ m}^3)}{(1.013 \times 10^5\text{ Pa})(0.0021\text{ m}^3)}$ $= 9 \times 10^2\text{ K}$
15	<p>. الكتلة المولية المعيارية ما حجم 1.00 mol من الغاز عند ضغط يعادل الضغط الجوي ودرجة حرارة تساوي 273 K؟</p> $V = \frac{nRT}{P}$ $= \frac{(1.00\text{ mol})(8.31\text{ Pa}\cdot\text{m}^3/\text{mol}\cdot\text{K})(273\text{ K})}{1.013 \times 10^5\text{ Pa}}$ $= 0.0224\text{ m}^3$
16	<p>. الهواء في الثلاجة ما عدد مولات الهواء الموجودة في ثلاجة سعتها 0.635 m^3 عند 2.00°C؟ وما مقدار كتلة الهواء في ثلاجة إذا كان متوسط الكتلة المولية للهواء 29 g/mol؟</p> $n = \frac{PV}{RT}$ $= \frac{(1.013 \times 10^5\text{ Pa})(0.635\text{ m}^3)}{(8.31\text{ Pa}\cdot\text{m}^3/\text{mol}\cdot\text{K})(275\text{ K})}$ $= 28.1\text{ mol}$ $m = nM$ $= (28.1\text{ mol})(29\text{ g/mol})$ $= 0.81\text{ kg}$
17	<p>. التفكير الناقد الجزيئات المكونة لغاز الهيليوم صغيرة جدًا مقارنة بالجزيئات المكونة لغاز ثاني أكسيد الكربون. ماذا يمكن أن تستنتج حول عدد الجزيئات في عينة من غاز ثاني أكسيد الكربون حجمها 2.0 L مقارنة بعدد الجزيئات في عينة من غاز الهيليوم حجمها 2.0 L إذا تساوت العينتان في درجة الحرارة والضغط؟ هناك عددان متساويان من الجسيمات في العينتين. وفي الغاز المثالي لا يؤثر حجم الجسيمات في حجم الغاز أو ضغطه.</p>

	المائع
	الضغط
	باسكال
	القانون العام للغازات
	قانون الغاز المثالي
	التمدد الحراري
	البلازما

almanahj.com/ae

مراجعة القسم 1

10. السوائل والغازات هي السوائل التي تتدفق وليس لها شكل محدد. ممارسة القوة على السوائل والغازات يمكن أن يغير حجم ودرجة حرارتهما. القانون العام للغازات يمثل العلاقة بين الضغط والغازات. البلازما هي حالة شبيهة بالغاز للإلكترونات السالبة الشحنة والأيونات الموجبة. البلازما أيضا سائل.
11. a. ضغط الهواء هو نفسه.
b. نظرًا لأن $F = PA$ ، فإن القوة الكلية للهواء أكبر على الصندوق ذي المساحة الأكبر. الصندوق الثاني له ضعف المساحة السطحية، لذا له ضعف مجموع قوة الصندوق الأول.
12. $3.1 \times 10^1 \text{ m}^3$
13. أثناء تسخين الماء من 0 درجة مئوية، سوف تزيد الكثافة حتى تصل إلى الحد الأقصى لها عند 4 درجات مئوية. وعند زيادة التسخين إلى 8 درجات مئوية، ستقل كثافة الماء.
14. $9 \times 10^2 \text{ K}$
15. 0.0224 m^3
16. 28.1 mol ; $8.1 \times 10^2 \text{ g}$
17. هناك كتلة متساوية من الجسيمات في العينتين. في الغاز المثالي، لا توجد علاقة بين حجم الجسيمات وحجم الغاز أو الضغوط التي يولدها الغاز.

التأكد من فهم النص والتحقق عبر الأشكال والمخططات والرسوم البيانية.

التحقق عبر الأشكال

الغازات في الغلاف الجوي، بما في ذلك بخار الماء والأكسجين وثنائي أكسيد الكربون

التحقق عبر الأشكال

$3.3 \times 10^4 \text{ Pa}$; حساب وزن رائد الفضاء على سطح القمر (حوالي سدس وزنه على الأرض) ومنطقة حذائه؛ باستخدام هذه القيم قم بحساب الضغوط التي يبذلها رائد الفضاء.

التحقق عبر الأشكال

إذا كان الحجم ثابت، تكون المعادلة كالتالي $\frac{P_1}{T_1} = \frac{P_2}{T_2}$

التأكد من فهم النص

مع تسخين السوائل، تتمدد. نتيجة لذلك يصبح الهواء الساخن أقل كثافة ولذلك يرتفع. عندما يزيد السائل الموجود في أسفل المقلاة الساخنة في درجة الحرارة، فإنه يصبح أقل كثافة ويرتفع.

تطبيق

- $1.2 \times 10^5 \text{ N}$
- $1.0 \times 10^2 \text{ kPa}$
- 23 kPa
- $2.7 \times 10^4 \text{ N}$ الموجه من داخل البيت نحو الخارج
- $8.9 \times 10^{-2} \text{ m}^2$

تطبيق

- 3.4 m^3
- $5.1 \times 10^2 \text{ g}$
- $2.40 \times 10^2 \text{ kPa}$
- 0.83 m^3

الفكرة الرئيسة

تحدث قوى التماسك بين جسيمات المادة الواحدة، بينما تحدث قوى التلاصق بين جسيمات المواد المختلفة.

الأسئلة الرئيسة

- ما التوتر السطحي؟
- ما قوى التلاصق؟
- كيف تتكون الغيوم؟

مراجعة المفردات

محصلة القوى net force هي مجموع جميع القوى على جسم ما

مفردات جديدة

قوى التماسك cohesive forces
قوى التلاصق adhesive forces

	قوى التماسك
	قوى التلاصق

almanahj.com/ae

القسم 2 مراجعة

18. الفكرة الرئيسة تتضمن اللغة العربية مصطلح شريط لاصق وعبارة تعمل كمجموعة متماسكة. في هذه الأمثلة هل يكون مصطلح لاصق ومتماسكة مستخدمة في نفس سياق معناها في الفيزياء؟ اشرح إجابتك.
19. التوتر السطحي مشبك الورق، لديه كثافة أكبر من كثافة الماء ومع ذلك يمكن أن يجعله يطفو على سطح الماء. ما هي الإجراءات التي يجب أن تتبع لحدوث ذلك؟ فسّر.
20. الطفو كيف يمكنك ان توضح بأن ما حصل للمشبك ليس طفوًا؟
21. التلاصق والتماسك باستخدام مصطلحي التلاصق والتماسك فسّر سبب التصاق الكحول على سطح الزجاج وعدم التصاق الزئبق.
22. التبخير والتبريد في الماضي عندما ترتفع درجة حرارة الطفل قد يقترح الطبيب بوضع أسفنجة مبللة بـسائل يتبخر بسهولة برفق على رأس الطفل. لماذا هذا يساعد؟
23. التفكير الناقد في يوم حار ذو رطوبة عالية، جلست رنا خارجًا ومعها كوب من الماء البارد. لاحظت صديقتها سالي بأن الجدار الخارجي للكأس كان مغطى بالماء فاقتربت بأن الماء قد تسرب عبر الزجاج. قم بعمل تجربة لرنا لتوضح لسالي من أين أتى الماء.

18	<p>. اللغة والفيزياء نستخدم في لغتنا العربية مصطلحات، منها «الشريط اللاصق» و «العمل مجموعة متماسكة»، فهل استخدام المفردتين (التلاصق والتماسك) في سياق كلامنا مطابق لمعانيهما في الفيزياء؟ نعم، يلتصق الشريط اللاصق بأشياء أخرى تختلف عنه؛ ليست من النوع نفسه. المجموعة المتماسكة مجموعة من الأشخاص الذين يعملون معاً.</p>
19	<p>. التوتر السطحي لمشبك الورق كثافته أكبر من كثافة الماء، ومع ذلك يمكن أن يطفو على سطح الماء. فما الخطوات التي يجب أن تتبعها لتحقيق ذلك؟ وضح إجابتك. ينبغي أن يوضع مشبك الورق بحذر وبشكل مستو على سطح الماء؛ فهذا من شأنه تقليل الوزن لكل وحدة مساحة على سطح الماء الذي سيستقر عليه مشبك الورق. ومن ثم سيكون التوتر السطحي للماء كافياً لدعم الوزن القليل لكل وحدة مساحة لمشبك الورق.</p>
20	<p>الطفو كيف يمكن لمشبك الورق في المسألة 19 ألا يطفو؟ إذا اخترق مشبك الورق سطح الماء فإنه يغطس. فالجسم العائم هو الجسم الذي يمكن أن يخرج ويظهر بسهولة مرة أخرى على السطح.</p>
21	<p>التلاصق والتماسك وضح لماذا يلتصق الكحول بسطح الأنبوب الزجاجي في حين لا يلتصق الزئبق. قوة تلاصق الكحول بالزجاج أكبر كثيراً من قوة تلاصق الزئبق بالزجاج. كما أن قوى التماسك للزئبق أقوى من قوة التصاقه بالزجاج.</p>
22	<p>التبخير والتبريد في الماضي، عندما يصاب طفل بالحمى كان الطبيب يقترح أن يُمسح الطفل بقطعة إسفنج مبللة بالكحول. كيف يمكن أن يُساعد هذا الإجراء؟ لما كان الكحول يتبخر بسهولة فإنه يوجد تأثير تبريد بالتبخير يمكن ملاحظته بسهولة.</p>
23	<p>التفكير الناقد تجلس فاطمة في يوم حار ورطب في باحة منزلها، وتحمل كأساً من الماء البارد، وكان السطح الخارجي للكأس مغطى بطبقة من الماء، فاعتقدت أختها أن الماء يتسرب من خلال الزجاج من الداخل إلى الخارج. اقترح تجربة يمكن لفاطمة أن تجربها لتوضح لأختها من أين يأتي الماء. قد تزن فاطمة الكأس قبل تبريدها في الثلاجة، ثم تخرجها من الثلاجة وتدع الرطوبة تتجمع على سطحها الخارجي، ثم تزنها مرة أخرى. فإذا كان الماء يتسرب بسهولة من الداخل إلى الخارج فإن مجموع كتلة الماء والكأس لن يتغير. أما إذا تكثفت الرطوبة على الكأس من الخارج فسيكون هناك زيادة في الكتلة.</p>

التأكد من فهم النص والتحقق عبر الأشكال والمخططات والرسوم البيانية.

التأكد من فهم النص

مع هروب الجسيمات التي لها طاقة حركية أعلى من المتوسط، يحدث انخفاض في متوسط الطاقة الحركية للجسيمات المتبقية.

مراجعة القسم 2

18. نعم؛ الشريط اللاصق يلتصق بشيء آخر غير الشريط. المجموعة المتماسكة من مجموعة من الناس يعملون معاً.
19. ينبغي أن توضع قصاصات الورق بعناية وبشكل مسطح على سطح الماء. فهذا سوف يظل من الوزن لكل وحدة مساحية على سطح المياه التي تستقر عليها القصاصات.
20. إذا حدثت وقطعت قصاصة الورق بسطح الماء، فسوف تفرق.
21. الكحول له جاذبية لاصقة أكبر مع الزجاج من الزئبق. قوة تماسك الزئبق قوية بما يكفي لتتغلب على قوى اللاصقة مع الزجاج.
22. لأن الكحول يتبخر بسهولة، فهناك تأثير تبريد بخري ملحوظ جداً. وهذا الإجراء يمكن أن يخفض درجة حرارة الجسم للطفل.
23. رانا قامت بوزن الزجاج قبل تبريده في الثلاجة. ثم يمكنها إخراجها من الثلاجة والسماح للرطوبة بالتجمع خارجه. وأخيراً، يمكنها أن تزن الزجاج مرة ثانية.

القسم 3 :
الموائع في حالات السكون والحركة

تطبيق

27. القرميد العادي أكتف ب 1.8 مرة من الماء ما مقدار محصلة القوى المؤثرة على قطعة من القرميد حجمها 0.20 m^3 تحت الماء
28. تطفو فتاة في بحيرة ماء عذب ورأسها فوق الماء. إن كانت تزن 610 N ما حجم الجزء المغمور من جسمها؟
29. ما مقدار قوة الشد في سلك مثبت بكاميرا تزن 1250 N مغمورة بالماء؟ حجم الكاميرا $1.65 \times 10^{-2} \text{ m}^3$.

30. لوح من البلاستيك الرغوي كثافته 0.10 كثافة الماء. ما أكبر وزن من الطوب يمكنك وضعه على اللوح الذي أبعاده $1.0 \text{ m} \times 1.0 \text{ m} \times 0.10 \text{ m}$ بحيث يطفو اللوح على الماء ويبقى الطوب جاف؟
31. تحدي نحوي الزوارق غالبًا على قوالب من الفلين (البلاستيك الرغوي) لا تنزول أسفل المقاعد لكي تطفو في حالة امتلاء الزورق بالمياه. ما أقل حجم تقريبي من القوالب نحتاجه لطفو زورق يزن 480 N ؟

الفكرة الرئيسية

المساعد الهيدروليكية والأجسام الطافية تعتمد على القوى المبذولة من الموائع.

الأسئلة الرئيسية

- ما مبدأ باسكال؟
- كيف يتم تطبيق مبدأ أرخميدس على الطفو؟
- ما مبدأ بيرنولي في تدفق الهواء؟

مراجعة المفردات

الضغط pressure هو القوة المؤثرة عموديًا على سطح ما مقسومًا على مساحة ذلك السطح

المفردات الجديدة

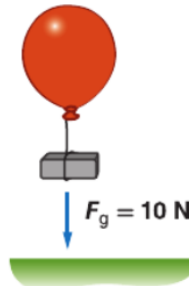
- مبدأ باسكال Pascal's principle
- قوة الطفو buoyant force
- مبدأ أرخميدس Archimedes' principle
- مبدأ بيرنولي Bernoulli's principle
- خطوط الجريان streamlines

القسم 3 مراجعة

35. الطفو والكثافة تزود صنارة الصيد بقطعة من الفلين تطفو بحيث يكون عشر حجمها مغمور في الماء. ما كثافة الفلين؟
36. الضغط والقوة سيارة تزن $2.3 \times 10^4 \text{ N}$ مرفوعة بواسطة أسطوانة هيدروليكية مساحتها 0.15 m^2 .
a. ما مقدار الضغط في الأسطوانة الهيدروليكية؟
b. ينتج الضغط في أسطوانة الرفع بواسطة الدفع على أسطوانة مساحتها 0.0082 m^2 . ما مقدار القوة التي يجب أن تمارس على الأسطوانة الصغيرة لرفع السيارة؟
37. أيهما يزيح كمية أكبر من الماء عند وضعهما في حوض؟
a. قالب كتلته 1.0 kg من الألمنيوم أو قالب كتلته 1.0 kg من الرصاص
b. قالب من الألمنيوم حجمه 10 cm^3 أو قالب من الرصاص حجمه 10 cm^3 .
38. التنكير الناقذ عندما يمر إعصار قوي على منزل أحيانًا ما يجعله يتضرر من الداخل إلى الخارج. كيف يمكن أن يشرح مبدأ بيرنولي هذه الظاهرة؟ ما الذي يمكن عمله لتقليل خطر اندفاع الباب أو الشباك إلى الخارج؟

32. الفكرة الرئيسية نحوي كل عبوات الصودا على نفس الحجم من السائل، 354 mL وتزيح نفس الحجم من الماء. ماذا يمكن أن يكون الاختلاف بين العبوة التي نفوس والعبوة التي تطفو؟ تلميح: ضع عبوة ممتلئة من الصودا العادية وعبوة ممتلئة من الصودا الخالية من السكر في الماء.

33. انتقال الضغط مطلق الصاروخ اللعبة مصمم بحيث يقوم الطفل بدعس أسطوانة مطاطية، مما يعمل على زيادة ضغط الهواء في أنبوب إطلاق ودفع صاروخ استنحجي في السماء. إذا قام الطفل بتوليد قوة من الدعس بمقدار 150 N على مكبس مساحته $2.5 \times 10^{-3} \text{ m}^2$ ، فما مقدار القوة الإضافية المنتقلة لمساحة مقدارها $4.0 \times 10^{-4} \text{ m}^2$ في أنبوب الإطلاق؟



الشكل 18

34. الطفو في الهواء يرتفع بالون الهيليوم لأن قوة الطفو للهواء ترفعه. كثافة الهيليوم هي 0.18 kg/m^3 وكثافة الهواء هي 1.3 kg/m^3 . فما مقدار الحجم الذي يحتاج إليه بالون الهيليوم لرفع قالب الرصاص الموضَّح في الشكل 18؟

إن كثافة القرميد الشائع الاستخدام أكبر 1.8 مرة من كثافة الماء. ما الوزن الظاهري لقالب من القرميد حجمه 0.20 m^3 مغمور تحت الماء؟

27

$$\begin{aligned} F_{\text{الظاهري}} &= F_g - F_{\text{الطفو}} \\ &= \rho_{\text{القرميد}} Vg - \rho_{\text{الماء}} Vg \\ &= (\rho_{\text{القرميد}} - \rho_{\text{الماء}}) Vg \\ &= (1.8 \times 10^3 \text{ kg/m}^3 - 1.00 \times 10^3 \text{ kg/m}^3)(0.20 \text{ m}^3)(9.80 \text{ m/s}^2) \\ &= 1.6 \times 10^3 \text{ N} \end{aligned}$$

يطفو سباح في بركة ماء، بحيث يعلو رأسه قليلاً فوق سطح الماء. فإذا كان وزنه 610 N فما حجم الجزء المغمور من جسمه؟
لما كان السباح طافياً، فإنه يزيح كمية من الماء وزنها يساوي وزن السباح.

28

$$\begin{aligned} F_g &= F_{\text{الطفو}} = \rho_{\text{الماء}} Vg \\ V &= \frac{F_g}{\rho_{\text{الماء}} g} \\ &= \frac{610 \text{ N}}{(1.00 \times 10^3 \text{ kg/m}^3)(9.80 \text{ m/s}^2)} \\ &= 6.2 \times 10^{-2} \text{ m}^3 \end{aligned}$$

ما مقدار قوة الشد في حبل يحمل كاميرا وزنها 1250 N مغمورة في الماء، إذا علمت أن حجم الكاميرا $16.5 \times 10^{-3} \text{ m}^3$ ؟
لحمل الكاميرا وهي مغمورة في الماء فإن قوة الشد في الحبل يجب أن تساوي الوزن الظاهري للكاميرا.

29

$$\begin{aligned} T &= F_{\text{الظاهري}} \\ &= F_g - F_{\text{الطفو}} \\ &= F_g - \rho_{\text{الماء}} Vg \\ &= 1250 \text{ N} - (1.00 \times 10^3 \text{ kg/m}^3)(16.5 \times 10^{-3} \text{ m}^3)(9.80 \text{ m/s}^2) \\ &= 1.09 \times 10^3 \text{ N} \end{aligned}$$

لوح من الفلين الصناعي كثافته تساوي 0.10 مرة من كثافة الماء تقريباً. ما أكبر وزن من قوالب القرميد تستطيع وضعها على لوح الفلين الصناعي الذي أبعاده $1.0 \text{ m} \times 1.0 \text{ m} \times 0.10 \text{ m}$ ، بحيث يطفو اللوح على سطح الماء، وتبقى قوالب القرميد جافة؟
سيزيح لوح الفلين حجماً مقداره

$$V = (1.0 \text{ m})(1.0 \text{ m})(0.10 \text{ m}) = 0.10 \text{ m}^3 \text{ من الماء}$$

وزن لوح الفلين يساوي

$$\begin{aligned} F_{\text{لوح الفلين}} &= \rho_{\text{الفلين}} Vg \\ &= (1.0 \times 10^2 \text{ kg/m}^3)(0.10 \text{ m}^3)(9.80 \text{ m/s}^2) \\ &= 98 \text{ N} \end{aligned}$$

قوة الطفو تساوي

$$F_{\text{الطفو}} = \rho_{\text{الماء}} Vg$$

$$\begin{aligned} F_{\text{الطفو}} &= (1.00 \times 10^3 \text{ kg/m}^3)(0.10 \text{ m}^3)(9.80 \text{ m/s}^2) \\ &= 980 \text{ N} \end{aligned}$$

وزن قوالب القرميد التي تستطيع وضعها على لوح الفلين

$$\begin{aligned} F_{\text{قوالب القرميد}} &= F_{\text{الطفو}} - F_{\text{لوح الفلين}} \\ &= 980 \text{ N} - 98 \text{ N} \\ &= 8.8 \times 10^2 \text{ N} \end{aligned}$$

30

31	<p>∴ يوجد عادة في الزوارق الصغيرة قوالب من الفلين الصناعي تحت المقاعد؛ لتساعد على الطفو في حال امتلأ الزورق بالماء. ما أقل حجم تقريبي من قوالب الفلين اللازمة ليطفو قارب وزنه 480 N؟ قوة الطفو على قوالب الفلين يجب أن تساوي 480 N. ونحن نفترض أن الزورق مصنوع من مادة كثيفة.</p> $F_{\text{الطفو}} = \rho_{\text{الماء}} V g$ $V = \frac{F_{\text{الطفو}}}{\rho_{\text{الماء}} g}$ $= \frac{480 \text{ N}}{(1.00 \times 10^3 \text{ kg/m}^3)(9.80 \text{ m/s}^2)}$ $= 4.9 \times 10^{-2} \text{ m}^3$
32	<p>الطفو والغطس هل تطفو علبة شراب الصودا في الماء أم تغوص فيه؟ جرّب ذلك. وهل يتأثر ذلك بكون الشراب خاليًا من السكر أم لا؟ تحتوي جميع علب شراب الصودا على الحجم نفسه من السائل 354 ml، وتزيح الحجم نفسه من الماء، فما الفرق بين العلبة التي تغوص والأخرى التي تطفو؟ يذوب $\frac{1}{4}$ كأس من السكر تقريبًا في كأس من شراب الصودا العادي، مما يجعله أكثر كثافة من الماء. أما شراب الصودا الخالي من السكر فيحتوي على كمية قليلة من المحليات الصناعية؛ لذا يكون شراب الصودا الخالي من السكر أقل كثافة من شراب الصودا العادي (المحلى).</p>
33	<p>انتقال الضغط صُممت لعبة قاذفة للصواريخ بحيث يدوس الطفل على أسطوانة من المطاط، مما يزيد من ضغط الهواء في أنبوب القاذف فيدفع صاروخًا خفيفًا من الرغاوي الصمغية في السماء، فإذا داس الطفل بقوة 150 N على مكبس مساحته $2.5 \times 10^{-3} \text{ m}^2$، فما القوة المنتقلة إلى أنبوب القذف الذي مساحته متطعة $4.0 \times 10^{-4} \text{ m}^2$؟</p> $F_2 = \frac{F_1 A_2}{A_1}$ $= \frac{(150 \text{ N})(4.0 \times 10^{-4} \text{ m}^2)}{2.5 \times 10^{-3} \text{ m}^2}$ $= 24 \text{ N}$
34	<p>∴ الطفو في الهواء يرتفع منطاد الهيليوم؛ لأن قوة طفو الهواء تحمله، فإذا كانت كثافة غاز الهيليوم 0.18 kg/m^3 وكثافة الهواء 1.3 kg/m^3، فما حجم منطاد الهيليوم اللازم لرفع قالب من الرصاص وزنه 10 N؟ القوة الظاهرية؛ $F_{\text{الظاهرة}} = 10 \text{ N}$ يجب أن تساوي -10 N حتى تعاكس وزن قالب الرصاص</p> $F_{\text{الظاهري}} = F_g - F_{\text{الطفو}}$ $= \rho_{\text{المنطاد}} V g - \rho_{\text{الهواء}} V g$ $= (\rho_{\text{المنطاد}} - \rho_{\text{الهواء}}) V g$ $V_{\text{المنطاد}} = \frac{F_{\text{الظاهري}}}{(\rho_{\text{المنطاد}} - \rho_{\text{الهواء}}) g}$ $= \frac{-10 \text{ N}}{(0.18 \text{ kg/m}^3 - 1.3 \text{ kg/m}^3)(9.80 \text{ m/s}^2)}$ $= 0.9 \text{ m}^3$
35	<p>∴ الطفو والكثافة تزداد صنارة الصيد بقطعة فلين تطفو بحيث يكون عشر حجمها تحت سطح الماء. ما كثافة الفلين؟ وزن الماء المزاح يساوي وزن قطعة الفلين.</p> <p>لذا فإن</p> $F_g = \rho_{\text{الماء}} V_{\text{الماء}} g = \rho_{\text{الفلين}} V_{\text{الفلين}} g$ $\frac{\rho_{\text{الفلين}}}{\rho_{\text{الماء}}} = \frac{V_{\text{الماء}}}{V_{\text{الفلين}}}$ $= \frac{1}{10}$ <p>كثافة الفلين عُشر كثافة الماء تقريبًا.</p>

الضغط والقوة رُفعت سيارة تزن $2.3 \times 10^4 \text{ N}$ عن طريق أسطوانة هيدروليكية مساحتها 0.15 m^2 .

a. ما مقدار الضغط في الأسطوانة الهيدروليكية؟

$$P = \frac{F}{A}$$
$$= \frac{2.3 \times 10^4 \text{ N}}{0.15 \text{ m}^2}$$
$$= 1.5 \times 10^5 \text{ Pa}$$

36

b. ينتج الضغط في أسطوانة الرفع عن طريق التأثير بقوة في أسطوانة مساحتها 0.0082 m^2 ، ما مقدار القوة التي يجب أن تؤثر في هذه الأسطوانة الصغيرة لرفع السيارة؟

$$F_2 = \frac{F_1 A_2}{A_1}$$
$$= \frac{(2.3 \times 10^4)(0.0082 \text{ m}^2)}{0.15 \text{ m}^2}$$
$$= 1.3 \times 10^3 \text{ N}$$

الإزاحة أيّ مما يلي يزيد ماءً أكثر عندما يوضع في حوض مائي؟

a. قالب ألومنيوم كتلته 1.0 kg ، أم قالب رصاص كتلته 1.0 kg ؟

سيغطس كل من قالب الألومنيوم وقالب الرصاص إلى قاع الحوض المائي. ولما كانت كثافة الألومنيوم أقل من كثافة الرصاص فإن قالب الألومنيوم الذي كتلته 1 kg له حجم أكبر من حجم قالب الرصاص الذي كتلته 1 kg . وعليه، سيزيح قالب الألومنيوم كمية أكبر من الماء.

b. قالب ألومنيوم حجمه 10 cm^3 ، أم قالب رصاص حجمه 10 cm^3 ؟

سيغطس كلا القالبين، وسيزيح كل منهما الحجم نفسه من الماء، 10 cm^3 .

37

التفكير الناقد اكتشفت في المسألة التدريبية رقم 4، أنه عندما يمر إعصار فوق منزل فإن المنزل ينهار أحياناً من الداخل إلى الخارج. فكيف يفسر مبدأ برنولي هذه الظاهرة؟ وماذا يمكن أن نفعل لتقليل خطر اندفاع الباب أو الشباك إلى الخارج وتحطمه؟ يكون ضغط هواء الإعصار السريع أقل من ضغط الهواء الساكن نسبياً داخل المنزل؛ مما يولد قوة هائلة على النوافذ والأبواب وجدران المنزل. ويمكن تقليل هذا الفرق في الضغط عن طريق فتح الأبواب والنوافذ؛ وذلك للسماح للهواء بالتدفق بحرية خارج المنزل.

38

	مبدأ باسكال
	قوة الطفو
	مبدأ أرخميدس
	مبدأ بيرنولي
	خطوط الجريان

almanahj.com/ae

مراجعة القسم 3

32. يذاب حوالي 1/4 كوب من السكر في الشراب العادي، مما يجعله أكثر كثافة من الماء. مشروب الحمية الغذائية به كمية صغيرة من مادة التحلية الاصطناعية. صودا الحمية الغذائية أقل كثافة من الصودا العادية المحملة بالسكر.

33. 24 N

34. 0.9 m^3

35. كثافة الفلين حوالي عُشر كثافة الماء.

36. a. $1.5 \times 10^5 \text{ Pa}$

b. $1.3 \times 10^3 \text{ N}$

37. a. كتلة الألمونيوم سوف تزيح المزيد من المياه.

b. كل منها سوف يزيح نفس كمية المياه.

38. الهواء المتحرك بسرعة في الإعصار له ضغط أقل من

الهواء الموجود داخل المنزل. ولذلك، فإن الهواء داخل

المنزل له ضغط أعلى وينتج قوة هائلة على النوافذ

والأبواب وجدران المنزل. يتم تقليل هذا الفرق في الضغط

بفتح الأبواب والنوافذ للسماح بتدفق الهواء بحرية إلى

الخارج.

التأكد من فهم النص والتحقق عبر الأشكال والمخططات والرسوم البيانية

التحقق عبر المخططات

F_2 قد تزداد بسبب انتقال القوة الزائدة في جميع أنحاء السائل.

التحقق عبر المخططات

سوف يطغو الجسم إذا كان وزن الجسم أقل من قوة الطفو.

التأكد من فهم النص

مع ازدياد سرعة السائل، يقل الضغط الذي يصدر من السائل.

تطبيق

24. $8.0 \times 10^1 \text{ N}$

25. $8.8 \times 10^3 \text{ N}$

26. 0.4:1

تطبيق

27. $1.6 \times 10^3 \text{ N}$

28. $6.2 \times 10^{-2} \text{ m}^3$

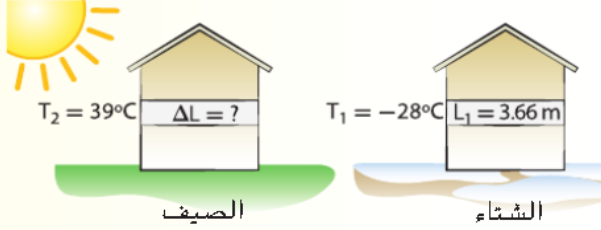
29. $1.09 \times 10^3 \text{ N}$

30. $8.8 \times 10^2 \text{ N}$

31. $4.9 \times 10^{-2} \text{ m}^3$

تطبيق

39. كساء خارجي من الألمنيوم لمنزل بطول 3.66 m في يوم شتوي بارد درجة الحرارة فيه -28°C كم سيزيد طوله في يوم صيفي حار الشكل 22؟



الشكل 22

40. قطعة من الفولاذ طولها 11.5 cm عند درجة حرارة 22°C . تسخن لدرجة قريبة من درجة انصهارها، 1221°C . كم سيصبح طولها؟ معامل التمدد الطولي للفولاذ $1.2 \times 10^{-5} \text{ }^{\circ}\text{C}^{-1}$

41. كأس من الزجاج سعته 400 mL في درجة حرارة الغرفة ملىء للحافنة بماء بارد درجة حرارته 4.4°C . عندما يدفأ الماء لدرجة 30.0°C ، ما كمية الماء المتسكبة من الكأس؟

42. شاحنة صهريج محملة بـ 45,725 L من الجازولين حيث تكون درجة الحرارة 28.0°C . ستوصل الشاحنة حمولتها إلى مدينة حيث تكبر درجة الحرارة فيها 12.0°C .

a. كم لتر من الجازولين ستوصل الشاحنة؟
b. ماذا حصل الجازولين؟

43. فتحة قطرها 1.75 cm تُثبت بلوح من الفولاذ. عند درجة حرارة 30.0°C تلاءمت الفتحة مع ساق من الألمنيوم له نفس القطر. ما مقدار المسافة بين اللوح والساق عندما يتم تبريدهما لدرجة حرارة 0.0°C ؟

44. تحدي مسطرة فولاذية مدرجة بالمليمترات تقيس المسطرة بدقة عند درجة حرارة 30.0°C . ما النسبة المئوية للخطأ في قراءتها عند درجة حرارة -30.0°C ؟

الأسئلة الرئيسية

- ما علاقة خصائص الجسم الصلب بينته التركيبية؟
- لماذا تتمدد الأجسام الصلبة وتتكسح عندما تتغير درجة الحرارة؟
- علل أهمية التمدد بالحرارة؟

مراجعة المفردات

قوة التماسك cohesive force هي قوة التجاذب بين ذرات المادة مع بعضها البعض

مفردات جديدة

شبكة بلورية crystal lattice

المواد الصلبة غير البلورية

amorphous solid

معامل التمدد الطولي

coefficient of linear expansion

معامل التمدد الحجمي

coefficient of volume expansion

القسم 4 مراجعة

49. المواد الصلبة والسائلة يمكن تعريف المادة الصلبة على أنها مادة يمكن ثنيها وهي تقاوم الثني. اشرح كيف أن هذه الخصائص ترتبط بالرابطة بين جسيمات المادة الصلبة ولا ينطبق ذلك على المادة السائلة.

50. التفكير الناقد الحلقة الحديدية في الشكل 23 كانت صنعت بقطع جزء منها، إذا سخنت الحلقة الصلبة في الشكل. هل ستكون الفجوة أكبر أم أصغر؟ فسر إجابتك.



الشكل 23

45. الفكرة الرئيسية في يوم حار، أنت تركب باب من الألمنيوم لباب إطاره من الحجر. تريد أن يكون الباب ملائمًا تمامًا ليوم شتوي بارد. هل ينبغي عليك أن تجعل الباب مناسبًا بشكل محكم أو ستترك فراغًا إضافيًا؟

46. أنواع المواد الصلبة ما وجه الاختلاف بين شمعة مصنوعة من مادة الشمع وأخرى من الجليد؟

47. التمدد الحراري هل يكفي أن تسخن قطعة من النحاس حتى يبلغ طولها الضعف؟

48. حالات المادة هل يزودنا الجدول 2 بطريقة للتمييز بين المواد الصلبة والسائلة؟

39	<p>قطعة من الألومنيوم طولها 3.66 m عند درجة حرارة -28°C. كم يزداد طول القطعة عندما تصبح درجة حرارتها 39°C؟</p> <p>لذا فإن:</p> $L_2 = L_1 + \alpha L_1 (T_2 - T_1)$ $\Delta L = \alpha L_1 (T_2 - T_1)$ $= (25 \times 10^{-6} \text{ }^{\circ}\text{C}^{-1})(3.66 \text{ m})(39^{\circ}\text{C} - (-28^{\circ}\text{C}))$ $= 6.1 \times 10^{-3} \text{ m} = 6.1 \text{ mm}$
40	<p>قطعة من الفولاذ طولها 11.5 cm عند 22°C، فإذا سُخِّنت حتى أصبحت درجة حرارتها 1221°C، وهي قريبة من درجة حرارة انصهارها، فكم يبلغ طولها بعد التسخين؟ (معامل التمدد الطولي للفولاذ $12 \times 10^{-6} \text{ }^{\circ}\text{C}^{-1}$).</p> $L_2 = L_1 + \alpha L_1 (T_2 - T_1)$ $= (0.115 \text{ m}) + (12 \times 10^{-6} \text{ }^{\circ}\text{C}^{-1})(0.115 \text{ m})(1221^{\circ}\text{C} - 22^{\circ}\text{C})$ $= 1.2 \times 10^{-1} \text{ m} = 12 \text{ cm}$
41	<p>مُلىء وعاء زجاجي سعته 400 ml عند درجة حرارة الغرفة بماء بارد درجة حرارته 4.4°C، ما مقدار الماء المسكوب من الوعاء عندما يسخن الماء إلى 30.0°C؟</p> <p>في البداية كان الوعاء الزجاجي يحوي ماءً حجمه 400 ml ودرجة حرارته 4.4°C، أوحد التغيير في الحجم عند 30.0°C.</p> $\Delta V = \beta V \Delta T$ $= (210 \times 10^{-6} \text{ }^{\circ}\text{C}^{-1})(400 \times 10^{-6} \text{ m}^3)(30.0^{\circ}\text{C} - 4.4^{\circ}\text{C})$ $= 2 \times 10^{-6} \text{ m}^3 = 2 \text{ ml}$
42	<p>مُلىء خزان شاحنة لنقل البنزين سعته 45725 L بالبنزين لنقله من مدينة الدمام نهاراً حيث كانت درجة الحرارة 38.0°C، إلى مدينة تبوك ليلاً حيث درجة الحرارة -2.0°C.</p> <p>a. كم لترًا من البنزين سيكون في خزان الشاحنة في تبوك؟</p> $\beta = \frac{\Delta V}{V_1 \Delta T} = \frac{V_2 - V_1}{V_1 \Delta T}$ $V_2 = \beta V_1 \Delta T + V_1$ $= (950 \times 10^{-6} \text{ }^{\circ}\text{C}^{-1})(45725 \text{ L})(-2.0^{\circ}\text{C} - 38.0^{\circ}\text{C}) + 45725 \text{ L}$ $= 4.4 \times 10^4 \text{ L}$

حُفِر ثقب قطره 0.85 cm في صفيحة من الفولاذ عند 30.0°C فكان الثقب يتسع بالضبط لقضيب من الألومنيوم له القطر نفسه. فما مقدار الفراغ بين الصفيحة والقضيب عندما يبردان لدرجة حرارة 0.0°C ؟ يتقلص الألومنيوم بدرجة أكبر من الفولاذ. افترض أن L تمثل قطر القضيب.

$$\begin{aligned}\Delta L_{\text{الألومنيوم}} &= \alpha L \Delta T \\ &= (25 \times 10^{-6} \text{ }^{\circ}\text{C}^{-1})(0.85 \text{ cm})(0.0^{\circ}\text{C} - 30.0^{\circ}\text{C}) \\ &= -6.38 \times 10^{-4} \text{ cm}\end{aligned}$$

بالنسبة إلى الفولاذ: يتقلص قطر الثقب في صفيحة الفولاذ وفق المعادلة التالية

$$\begin{aligned}\Delta L_{\text{الفولاذ}} &= \alpha L \Delta T \\ &= (12 \times 10^{-6} \text{ }^{\circ}\text{C}^{-1})(0.85 \text{ cm})(0.0^{\circ}\text{C} - 30.0^{\circ}\text{C}) \\ &= -3.06 \times 10^{-4} \text{ cm}\end{aligned}$$

مقدار الفراغ بين القضيب والصفيحة يساوي:

$$\frac{1}{2} (6.4 \times 10^{-4} \text{ cm} - 3.1 \times 10^{-4} \text{ cm}) = 1.6 \times 10^{-4} \text{ cm}$$

43

دُرِّجَت مسطرة من الفولاذ بوحدة الملمترات، بحيث تكون دقيقة بصورة مطلقة عند 30.0°C . فما النسبة المئوية التي تمثل عدم دقة المسطرة عند -30.0°C ؟ ستقل المسافات الفاصلة بين تدريجات الملمترات على المسطرة الفولاذية؛ بسبب أن الفولاذ يتقلص عند التبريد.

$$\begin{aligned}\% \text{ عدم الدقة} &= (100) \left(\frac{\Delta L}{L} \right) \\ &= (100) \alpha (T_f - T_i) \\ &= (100) (12 \times 10^{-6} \text{ }^{\circ}\text{C}^{-1}) (-30.0^{\circ}\text{C} - 30.0^{\circ}\text{C}) \\ &= -0.072\%\end{aligned}$$

44


التقلص الحراري النسبي إذا رُكِبَت بابًا من الألومنيوم في برحار على إطار باب من الأسمنت، وأردت أن يكون الباب محكم الإغلاق تمامًا في أيام الشتاء الباردة، فهل ينبغي أن تجعل الباب محكمًا في الإطار أم تترك فراغًا إضافيًا؟ أحكم إغلاق الباب؛ لأن الألومنيوم عند التبريد يتقلص أكثر من تقلص الأسمنت.

45

حالات المادة لماذا يعد الشمع مادة صلبة؟ ولماذا يعد أيضًا سائلًا لزجًا؟

يمكن أن يعد الشمع مادة صلبة لأن حجمه وشكله محددان. ويمكن اعتباره مانعًا لزجًا لأن جسيماته لا تشكل نمطًا بلوريًا ثابتًا.

46

47	<p>التمدد الحراري هل يمكنك تسخين قطعة من النحاس بحيث يتضاعف طولها؟</p> <p>معامل التمدد الطولي للنحاس يساوي $16 \times 10^{-6} / ^\circ\text{C}$. وعند مضاعفة طول قطعة النحاس تكون: $\Delta L = L = \alpha L \Delta T$، أي أن:</p> $\alpha \Delta T = 1$ $\Delta T = \frac{1}{\alpha}$ $= \frac{1}{16 \times 10^{-6} \text{ } ^\circ\text{C}^{-1}}$ $= 63000^\circ\text{C}$
48	<p>48. معاملات التمدد في الحجم أكبر بكثير في السوائل عن المواد الصلبة.</p>
49	<p>4. المواد الصلبة والسوائل يمكن تعريف المادة الصلبة على أنها تلك المادة التي يمكن ثنيها على الرغم من أنها تقاوم الانحناء. فسر كيف ترتبط هذه الخصائص مع ترابط الذرات في المواد الصلبة لكنها لا تنطبق على السوائل؟</p> <p>تكون جسيمات المادة الصلبة متقاربة وذلك تكون أكثر ارتباطاً، كما تهتز تلك الجسيمات حول موضع ثابت مما يسمح للمادة الصلبة بالانثناء على الرغم من أنها تقاوم الانحناء. وتكون جسيمات المادة السائلة متباعدة وأقل ارتباطاً. ولما كانت الجسيمات حرة التدفق بعضها فوق بعض فإن السوائل لا تتنهي.</p>
50	<p>التفكير الناقد قطع من الحلقة الحديدية الصلبة في الشكل 23-6 قطعة صغيرة. فإذا سُخِّنت الحلقة التي في الشكل، فهل تصبح الفجوة أكبر أم أصغر؟ وضح إجابتك.</p>  <p>ستصبح الفجوة أكثر اتساعاً. وستزيد أبعاد الحلقة جميعها عند تسخينها.</p>

	شبكة بلورية
	المواد الصلبة غير البلورية
	معامل التمدد الطولي
	معامل التمدد الحجمي

almanahj.com/ae

مراجعة القسم 4

45. تركيب وتثبيت الباب بإحكام.
46. يمكن اعتبار الشمع مادة صلبة لأن له حجم محدد وشكل. يمكن اعتباره سائل لزج لأن الجسيمات لا تشكل نمطاً بلوريًا ثابتاً.
47. لمضاعفة طوله، ينبغي أن يكون التغير في درجة الحرارة $6.3 \times 10^4 \text{C}$ سوف يتبخر النحاس في درجة الحرارة هذه.
48. معاملات التمدد في الحجم أكبر بكثير في السوائل عن المواد الصلبة.
49. الجزيئات في السائل متباعدة عن بعضها وأقل ارتباطاً ببعضها. نظراً لحرية الجسيمات في التدفق بجوار بعضها البعض، فلا يمكن ثني السائل.
50. لنجعل x هو عرض الثقب (بقياس طول القوس الدائري). و θ هو مقياس القوس (بالدرجات). و L هو طول الحلقة (أي أن محيط الدائرة أقل من عرض الثقب x). بعد ذلك: $\frac{\theta}{360} = \frac{x}{L+x}$ ومنها $x = L \frac{\theta}{360 - \theta}$. حيث أن الجسم يحتفظ بهندسته وشكله أثناء تسخينه، فالعلاقة المذكورة أعلاه بين عرض الفجوة وطول الحلقة تظل صحيحة:
- $$x + \Delta x = (L + \Delta L) \left(\frac{\theta}{360 - \theta} \right)$$
- استثناء أن تعريف معامل التمدد الحراري: $\Delta L = \alpha L \Delta T$ عوض في المعادلة أعلاه واطرح المعادلة الأصلية للحصول على:
- $$\Delta x = \alpha L \Delta T \left(\frac{\theta}{360 - \theta} \right)$$
- عرض الثقب يزداد بما يتناسب مع الزيادة في طول الحلقة.

التأكد من فهم النص والتحقق عبر الأشكال والمخططات والرسوم البيانية.

التحقق عبر الأشكال
قد تحدث تشققات في الرصيف.

تطبيق

39. 6.1 mm

40. 12 cm

41. 2 mL

42. a. $4.4 \times 10^4 \text{ L}$

b. انخفض حجم البنزين نظراً لانخفاض درجة الحرارة. كتلة البنزين ظلت كما هي.

43. $1.7 \times 10^{-4} \text{ cm}$

44. -0.072%

مسألة تحدي الفيزياء

$$L_{\text{النحاس}} = L_{\text{الألنيوم}} + L_{\text{الحديد}}$$

$$\Delta T (\alpha_{\text{الحديد}} L_{\text{الحديد}} + \alpha_{\text{الألنيوم}} L_{\text{الألنيوم}}) = \Delta T \alpha_{\text{النحاس}} L_{\text{النحاس}}$$

وهذا يعطي: $L_{\text{النحاس}} = L_{\text{الألنيوم}}$ استبدال

$$L_{\text{الحديد}} = \frac{(\alpha_{\text{النحاس}} - \alpha_{\text{الألنيوم}}) L_{\text{النحاس}}}{\alpha_{\text{الحديد}} - \alpha_{\text{الألنيوم}}}$$

$$L_{\text{الحديد}} = \frac{(1.00 \text{ m})(17 \times 10^{-6} \text{C}^{-1} - 23 \times 10^{-6} \text{C}^{-1})}{12 \times 10^{-6} \text{C}^{-1} - 23 \times 10^{-6} \text{C}^{-1}}$$

$$= 0.54 \text{ m}$$

$$L_{\text{الألنيوم}} = L_{\text{النحاس}} - L_{\text{الحديد}} = 1.00 \text{ m} - 0.54 \text{ m} = 0.46 \text{ m}$$