

تم تحميل هذا الملف من موقع ملفات الكويت التعليمية



[com.kwedufiles.www//:https](https://www.kwedufiles.com)

*للحصول على أوراق عمل لجميع الصفوف وجميع المواد اضغط هنا

* للحصول على أوراق عمل لجميع مواد الصف السادس اضغط هنا

<https://kwedufiles.com/6>

* للحصول على جميع أوراق الصف السادس في مادة اجتماعيات ولجميع الفصول, اضغط هنا

<https://kwedufiles.com/6social>

* للحصول على أوراق عمل لجميع مواد الصف السادس في مادة اجتماعيات الخاصة بـ الفصل الأول اضغط هنا

<https://www.kwedufiles.com/6social1>

* لتحميل كتب جميع المواد في جميع الفصول للـ الصف السادس اضغط هنا

<https://www.kwedufiles.com/grade6>

* لتحميل جميع ملفات المدرس ريم علي الهاجري اضغط هنا

[bot_kwlinks/me.t//:https](https://t.me/bot_kwlinks)

* للحصول على جميع روابط الصفوف على تلغرام وفيسبوك من قنوات وصفحات: اضغط هنا

الروابط التالية هي روابط الصف السادس على مواقع التواصل الاجتماعي

مجموعة الفيسبوك

صفحة الفيسبوك

مجموعة التلغرام

بوت التلغرام

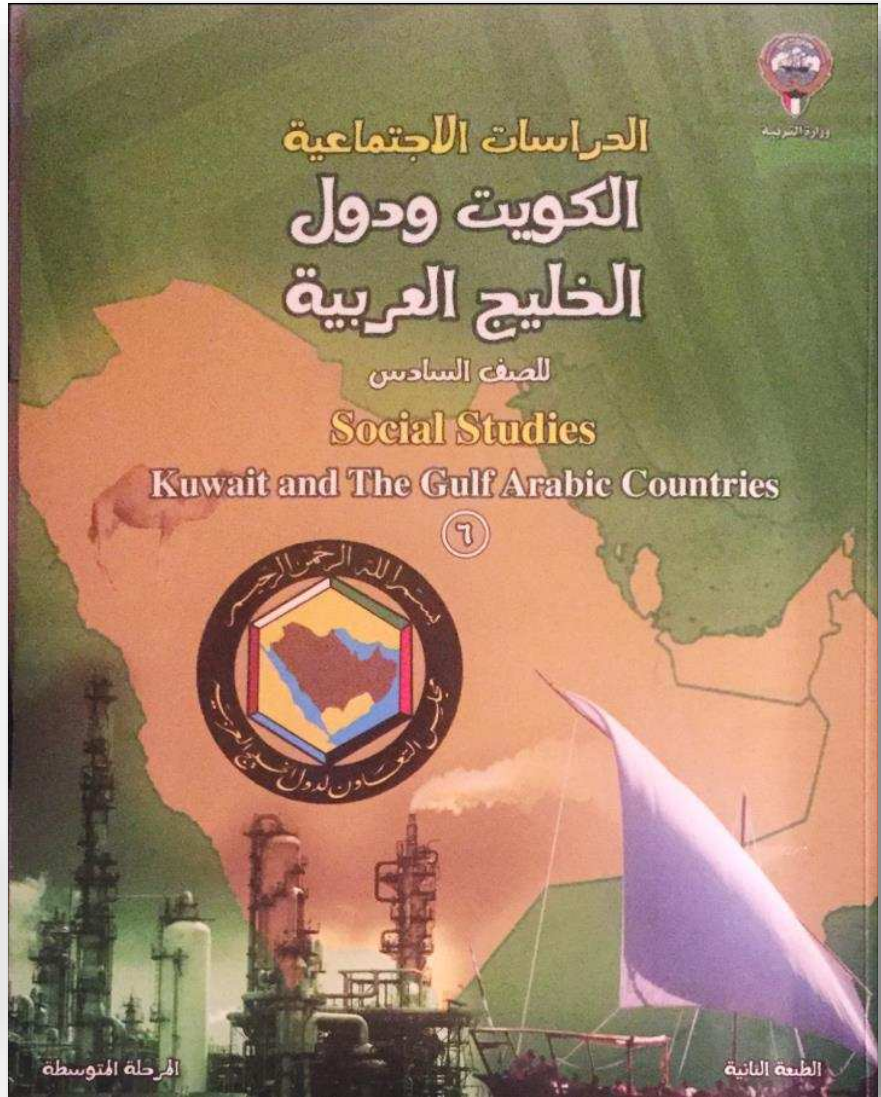
قناة التلغرام

رياضيات على التلغرام

اهراء

أنشطة وتطبيقات | للصف السادس الوحدة الدراسية الثانية ٢٠١٦م

المحاضر
أ.ريم علي الهاجري



اضغط
الأيقونة
للذهاب
لقناة
التلغرام



تجميع لأوراق العمل الخاصه - لطفاً يمنع القص و النسخ دون ذكر المصدر أو الإعداد
يمنع بيعها أو استخدامها لأغراض تجاريه

لعبة ٤ صور .. يحاول الطالب اكتشاف الكلمة التي تربط بين الصور من خلال الأحرف
المساعدة في خانات الأحرف تحت الصور .. مع وجود عنصر مساعده وهو عدد الأحرف التي
تتكون منها الكلمة المطلوبة

300



فسر الكلمة بعد اكتشافها

.....


.....

.....

.....

.....

.....



٥
حروف

ح




ض	خ	ر	ي	ا	م	تم
ت	آ	ح	ن	ك	ه	→

ساعدوني في إيجاد حل التساؤل التالي

كم يبلغ عدد السنوات في
القرن الواحد؟

.....



➤ صنف الحضارات التالية بمكانها المناسب في الجدول :

مجان - فيلكا - دلمون

الدولة	الكويت	بحرين	عمان
الحضارة			

➤ اكتب تعليقا مناسباً على الصور التالية



➤ أجب عن ما هو مطلوب منك

على الخريطة التالية :

- بحر شروق الشمس يمثله

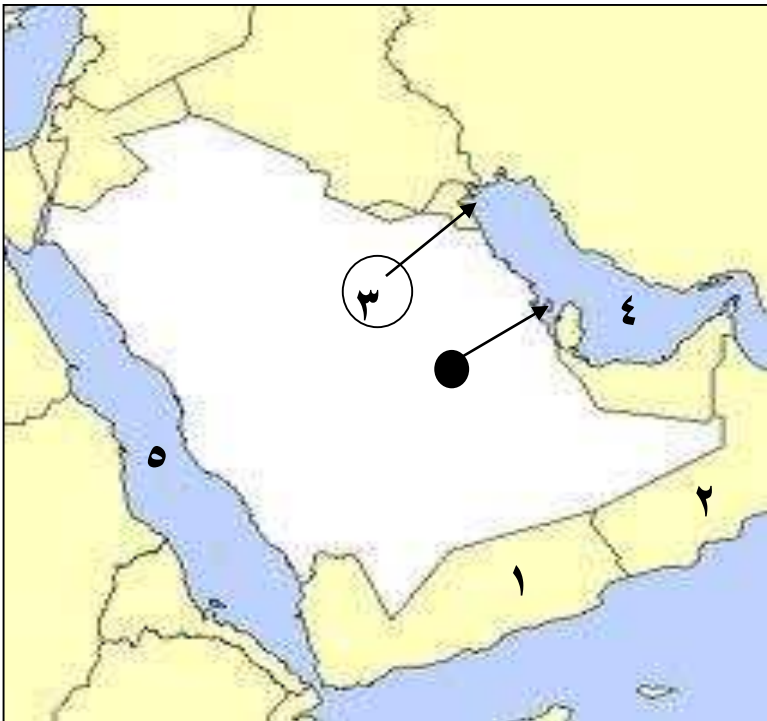
الرقم (.....)

- حضارة فيلكا يمثله الرقم (....)

- حضارة مجان يمثله الرقم (....)

- الرمز ● يمثل حضارة

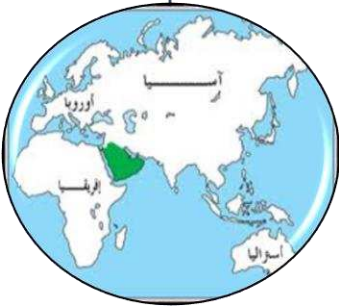
تسمى



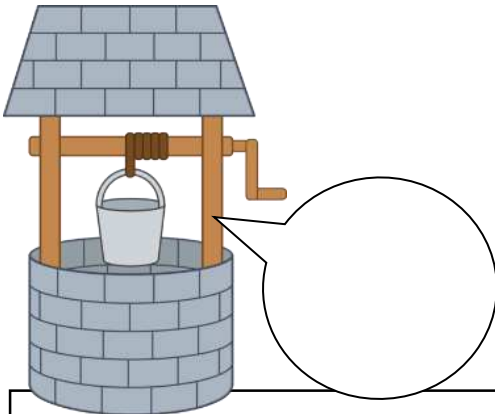
➤ أكمل الفراغات التالية بما هو مناسب :

- ١- يسمى بحر الخليج العربي قديماً باسم
- ٢- اشتهرت حضارة مجان بصهر معدن يسمى
- ٣- تقع حضارة دلمون في دولة خليجية تسمى

➤ علل قيام و نشأة الحضارات بمنطقة الخليج العربي (استعن بالمخطط السهمي للاجابة)



➤ اكتب مدلولات الصور التاليه عن مصادر المياه في منطقة الخليج العربي



ما هو مسمى مصدر هذه المياه عند سكان منطقة الخليج قديماً ؟





هيا تكمل مخطط
انتشار الإسلام في
منطقة الخليج العربية

٣- ماهي المناطق التي انتشرت
بها الحضارة والدين الإسلامي؟

.....
.....

معلومات أخرى

.....
.....
.....

الدين
الإسلامي

١- ما اسم المدينة التي انطلق
منها الدين الإسلامي؟

.....

٢- حددي المدينة على الخريطة
التي أمامك



➤ اقرأ الفقرة التالية عن ظهور الإسلام و الحضارة الإسلامية ثم أجب عن ما هو مطلوب

منك في البطاقات:

ظهر الإسلام في القرن السابع الميلادي ، وشارك سكان شبة الجزيرة العربية في نشر الإسلام و الحضارة الإسلامية في عدة مناطق. فازدهرت منطقة الخليج العربية و برزت كطريق رئيس للتجارة في الشرق و الغرب و لعب الخليج العربي دور الوسيط التجاري مما أدى الى ازدهار المدن.

○ متى ظهر الإسلام ؟

.....

❖ ماهي اسهامات سكان شبة الجزيرة العربية تجاه الدين الإسلامي ؟

أ-

ب-

□ علل : ازدهار مدن منطقة الخليج العربية

.....

مظاهر الحضارة الإسلامية

.....

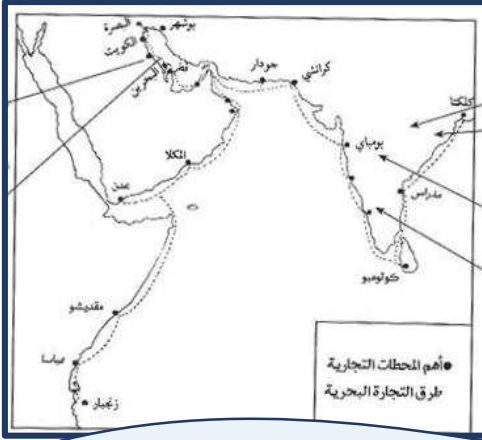
.....

الفن

ص ٥٧ - ٥٩

ج - تطور الحياة السياسية و ظهور الدولة الحديثة

➤ استعن بالصور التالية ثم أجب عن المطلوب منك :



١- علل : جذبت منطقة الخليج العربي العديد من الهجرات في أزمان مختلفة

- أ-
- ب-



٢- ماهي قارات العالم القديم ؟

.....

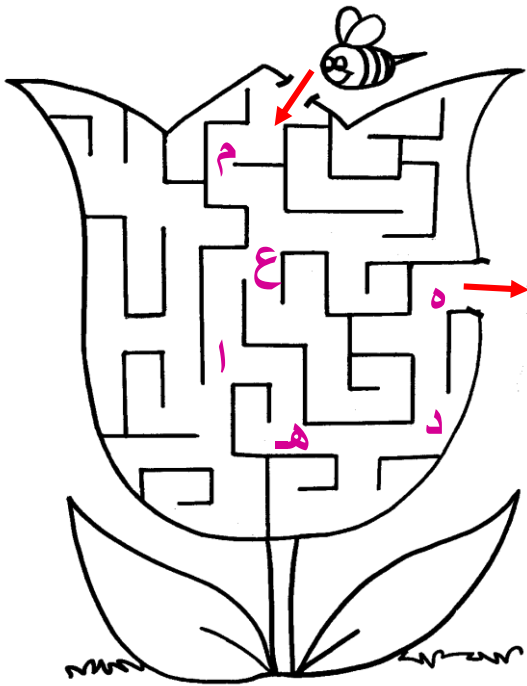
➤ طابق بين علم الدولة والهجرات :

آل خليفة – اليعاربة – يني ياس – آل صباح - المعاضيد



ص ٦٠ - ٦٢

المنافسة الاستعمارية الأوروبية على الخليج العربية



➤ ماهي أساليب الاستعمار ؟

اجمع الأحرف
لتكتشف أحد أساليب الاستعمار ثم اكتبها

أ-


ب-

➤ صح المعلومة الخاطئة الواردة في مفهوم الاستعمار

«هو أن تسيطر دولة ضعيفة على دولة قوية بهدف استغلال موقعها ومواردها»

التصحيح

➤ عدد دول الاستعمار الأوروبية:



➤ الشيخ مبارك الصباح واتفاقية الحماية - أكمل المخطط:

أطراف اتفاقية الحماية

.....

سنة الاتفاقية

.....

علل (اذكر السبب) توقيع
الشيخ مبارك الصباح اتفاقية
الحماية.

.....

.....



➤ رتب البطاقات التالية لاستنتاج مفهوم الاستقلال:

المستعمر
الأجنبي

وقيامها بمسؤولية

إدارة شؤونها
الداخلية
والخارجية

تحرر الدولة من

.....

➤ أكمل بما هو مطلوب منك عن اتفاقية الاستقلال :



تاريخ وسنة الاتفاقية

.....

وقعت في عهد أي شيخ؟

.....

اكتب عبارة شكر واعتزاز



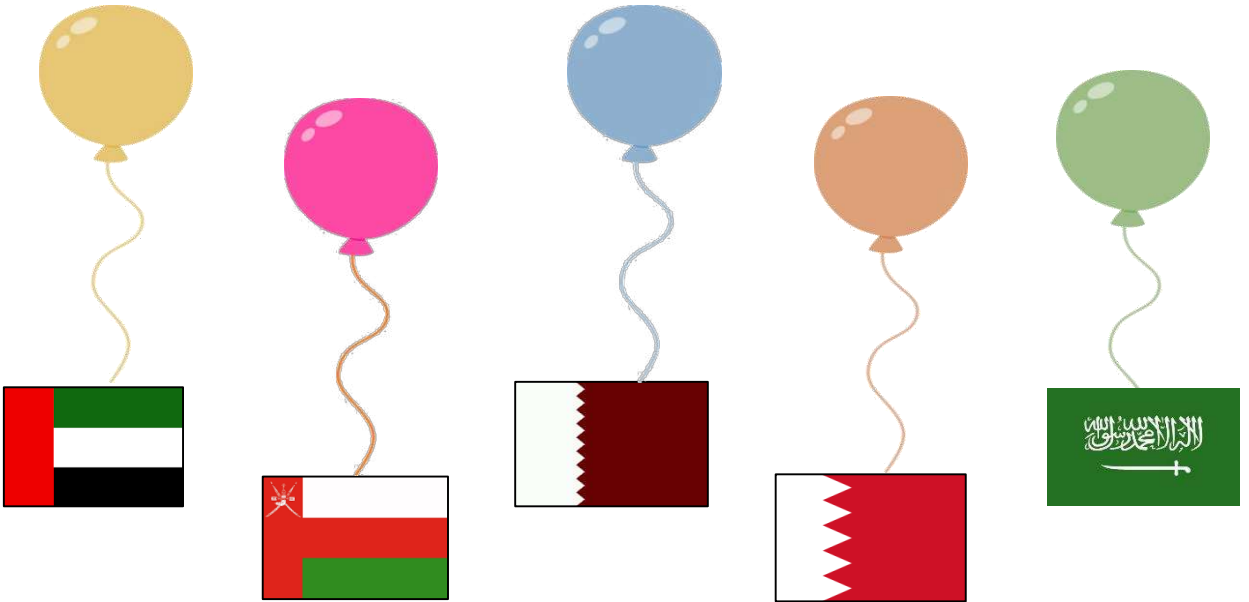
➤ اقرأ الفقرة التالية ثم أجب عن ما هو مطلوب منك :

" الكويت دولة خليجية عربية إسلامية ملتزمة بمبادئ حقوق الانسان ، وقد نظمت هذه الحقوق منذ الاستقلال بإصدار وثيقة الدستور الكويتية عام ١٩٦٢م التي تغرس مبادئ الديمقراطية وهي حكم الشعب لنفسه "

١- في أي عام تم اصدار وثيقة الدستور الكويتية ؟

٢- فسر ما تحته خط في العبارة السابقة :

➤ اكتب سنة قيام أو استقلال دول الخليج العربية :



اكتب عبارة شكر واعتزاز لقائد
الإنسانية



➤ أكمل الخريطة الذهنية عن مجلس التعاون لدول الخليج العربية :

مقر مجلس التعاون
.....

سنة الانشاء
.....

الهيكل التنظيمي لمجلس
التعاون

-١
.....

-٢
.....

-٣
.....



الأمين العام الحالي لمجلس
التعاون الخليجي
.....
.....

السمات المشتركة لدول مجلس
التعاون الخليجي

١- الدين .

-٢
.....

-٣
.....



كود موقع الأمانة العامة
لمجلس التعاون الخليجي

➤ اقرأ فقرة ك م ص ٧٤ ثم لخص أهم ثلاث معلومات عن الشيخ جابر الأحمد الصباح

رحمة الله أمير القلوب :



➤ أجب عن الأنشطة حسب ما هو مطلوب منك:



١- القمة الخليجية ٢٧

- اين عقدت ؟
- في أي عام كانت ؟
- لماذا سميت بقمة الشيخ جابر الأحمد؟



٢- متى انطلق السوق الخليجي
المشتركة ؟

.....

٣- قارن بين إنجازات وأهداف مجلس التعاون لدول الخليج العربية

الإنجازات	الأهداف
١- انطلاق السوق الخليجي المشترك	١- تحقيق التعاون بين الدول.