

تم تحميل هذا الملف من موقع ملفات الكويت التعليمية



[com.kwedufiles.www//:https](https://www.kwedufiles.com)

*للحصول على أوراق عمل لجميع الصفوف وجميع المواد اضغط هنا

* للحصول على أوراق عمل لجميع مواد الصف السادس اضغط هنا

<https://kwedufiles.com/6>

* للحصول على جميع أوراق الصف السادس في مادة اجتماعيات وجميع الفصول, اضغط هنا

<https://kwedufiles.com/6social>

* للحصول على أوراق عمل لجميع مواد الصف السادس في مادة اجتماعيات الخاصة بـ الفصل الأول اضغط هنا

<https://www.kwedufiles.com/6social1>

* لتحميل كتب جميع المواد في جميع الفصول للـ الصف السادس اضغط هنا

<https://www.kwedufiles.com/grade6>

[bot_kwlinks/me.t//:https](https://t.me/bot_kwlinks)

للحصول على جميع روابط الصفوف على تلغرام وفيسبوك من قنوات وصفحات: اضغط هنا

الروابط التالية هي روابط الصف السادس على مواقع التواصل الاجتماعي

مجموعة الفيسبوك

صفحة الفيسبوك

مجموعة التلغرام

بوت التلغرام

قناة التلغرام

رياضيات على التلغرام

العام الدراسي 2020/2019	وزارة التربية
الفصل الدراسي الأول	منطقة مبارك الكبير التعليمية
الزمن / ساعة و45 دقيقة	التوجيه الفني للاجتماعيات



اختبار مادة الكويت ودول الخليج العربية (الصف السادس)

أجب عن جميع الأسئلة التالية :

السؤال الأول :- (موضوعي) ويتكون من (أ - ب - ج)

(أ) أكمل العبارات التالية بما يناسبها : (لكل نقطة درجة واحدة)

1- الدولة العربية الخليجية الوحيدة التي لم تخضع للاستعمار الأوروبي تسمى المملكة العربية السعودية

(ص 65)

2- يطلق على الرياح الجنوبية الشرقية التي تهب على منطقة الخليج العربية اسم الكوس (ص 25)

3- ألغيت اتفاقية الحماية البريطانية مع دولة الكويت في عهد سمو الشيخ عبدالله السالم (ص 62)

4- الدولة العربية الخليجية التي ظهرت بها حضارة دلمون تسمى مملكة البحرين (ص 48)

(ص 45)


5- يطلق على كل مائة سنة اسم القرن

(ص 32)

6- نهاية موسم الفوص على اللؤلؤ تسمى القفال

(ب) أكمل المخطط السهمي التالي : 3 درجات (ص 28)

الأنشطة البرية التي مارسها سكان دول الخليج العربية قديما



(ج) اكتب المفاهيم أو المصطلحات الدالة على العبارات التالية :

1- (الهضبة) أرض مرتفعة ومسطحة مستوي وتمتد لمساحة كبيرة . (ص 23)

2- (الاستقلال) تحرر الدولة من المستعمر الأجنبي وقيامها بإدارة شؤونها الداخلية والخارجية . ص 63

3- (الواحة) منطقة تقع في الصحراء ، فيها مياه عذبة صالحة للزراعة . (ص 29)

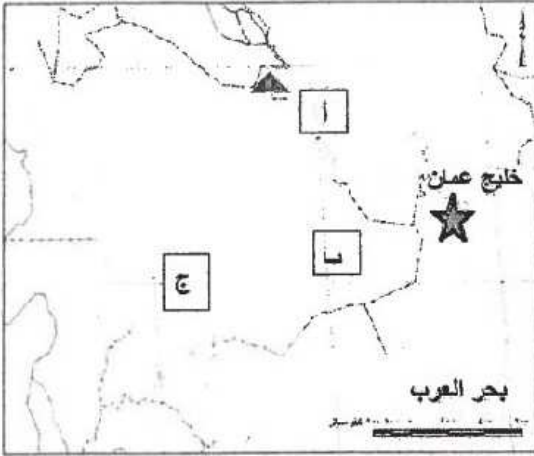
4- (المناخ) حالة الجو في مكان ما خلال فترات زمنية طويلة . (ص 25)

(ص 20)

5- (الموقع النسبي) الموقع بالنسبة للماء واليابس .

السؤال الثاني :- (موضوعي) ويتكون من (أ - ب - ج)

(أ) لاحظ خريطة دول مجلس التعاون الخليجي التالية ثم نفذ المطلوب فيما يلي : (ص 23)



1- الحرف (أ) يمثل مسطح مائي يسمى الخليج العربي

2- الحرف (ب) يمثل صحراء تسمى الربع الخالي

3- الحرف (ج) يمثل جبال تسمى جبال عسير

4- حدد على الخريطة دولة الكويت باستخدام الرمز (▲) ص 66

5- حدد على الخريطة الجبل الاخضر باستخدام الرمز (★)

(ب) اختر للمجموعة (أ) ما يرتبط بها من المجموعة (ب) بوضع الرقم في المكان المناسب :- (ص 32)

المجموعة (أ)	الرقم المناسب	المجموعة (ب)
1- النوخذة	(4)	- مطرب السفينة .
2- المجدمي	(.....)	- يغوص في أعماق البحر بحثاً عن اللؤلؤ .
3- السيب	(1)	- ربان السفينة .
4- النهام	(3)	- يسحب البحار من اعماق البحار .
5- الطواش	(5)	- تاجر اللؤلؤ .
	(6)	- رئيس البحرية .

(ج) صنف النباتات التالية حسب الجدول الذي يليها :- (ص 26)

(الخبيزة - الصبار - الثندا - الحويدان)

نباتات حولية	نباتات معمرة
- الخبيزة - الحويدان	- الصبار - الثندا



السؤال الثالث :- (موضوعي) ويتكون من (أ - ب)

(أ) ضع خط تحت العنصر المناسب من بين الخيارات التي تلي كل عبارة :-

1- تقع منطقة الخليج العربية بالنسبة لقارة آسيا في الجهة :

(الشمالية الشرقية - الشمالية الغربية - الجنوبية الشرقية - الجنوبية الغربية) (ص 19)

2- أول دولة أوروبية استعمارية وصلت للخليج العربي واحتلت أجزاء منها تسمى

(فرنسا - البرتغال - هولندا - إنجلترا) (ص 60)

3- المنطقة التي هاجرت إليها قبائل المعاضيد تسمى :

(عمان - قطر - رأس الخيمة - البحرين) (ص 57)

4- اشتهرت حضارة مجان (عمان) قديماً بصهر معدن يسمى :

(الحديد - الذهب - النحاس - الفضة) (ص 48)

5- حصلت الكويت على استقلالها عن بريطانيا في عام :

(1960 م - 1961 م - 1962 م - 1963 م) (ص 63)

(ب) انظر الى الصور التالية ثم اكتب التطبيق المناسب لكل صورة :-



1- خياطة البشوت (ص 29) 2- الحضارة الهلينستية جزيرة فيلكا (ص 47) 3- ابار مياه شرب (ص 51)



قناة أ. سعود المونس
WWW.Q84S.COM

مجموع درجات السؤال الأول

3



السؤال الرابع : (مقال) ويتكون من (أ - ب - ج - د)

(أ) لاحظ الشكل المقابل ثم أكمل البطاقة التعريفية التالية :



1- أسم المجلس : مجلس التعاون لدول الخليج العربية (ص 70) درجة

2- مقر المجلس : مدينة الرياض (السعودية) (ص 70) درجة

3- سنة التأسيس : 1981 م (ص 70) درجة

4- أهداف المجلس : (ص 76) درجة

- تحقيق التعاون بين الدول الأعضاء
- تحقيق الترابط والصلات بين دول المجلس
- العمل على تقدم دول المجلس في المجال العلمي

(ب) عرف ما يلي :- لكل سؤال درجة

1- الموقع القلبي :- الموقع بالنسبة لخطوط الطول ودوائر العرض . (ص 20)

2- الاستعمار :- سيطرة دولة قوية على دولة ضعيفة بهدف استغلال موقعها ومواردها (خيراتها) ص 61

3- الخليج العربي :- هو ذراع مائي لبحر العرب يمتد من خليج عمان جنوبا حتى شط العرب شمالا.

(ص 19)

(ج) ما العوامل التي ساعدت على قيام الحضارات بمنطقة الخليج العربية :

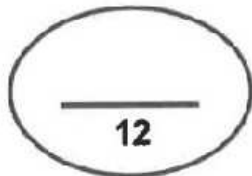
(د درجة ونصف لكل نقطة) (ص 51-52)

- موقع الخليج العربي المتميز
- توفر آبار مياه الشرب الناتجة عن الأمطار
- ملائمة البيئة الطبيعية لبعض مناطق الخليج العربية للاستقرار

(د) أذكر أهم صادرات وواردات منطقة الخليج العربية الى الهند واليمن وسواحل شرق افريقيا قديما :-

(درجتين (ص 34)

أهم الصادرات	أهم الواردات
❖ التمور	❖ الشاي - السكر - الأرز - التوابل يكتفى بوحدة



مجموع درجات السؤال الرابع



السؤال الخامس :- ويتكون من (أ - ب - ج)

(أ) علل لما يأتي :-

- 1- انصراف سكان دول الخليج العربية عن حرفة الغوص على اللؤلؤ. (درجتين ويكتفى بنقطتين) (ص 31)
- ظهور اللؤلؤ الصناعي
 - اكتشاف النفط

- 2- النباتات المعمرة متوفرة طوال العام .
- تتحمل الجفاف بسبب طول جنورها
 - كثرة الأشواك .
- (درجتين ويكتفى بنقطتين) (ص 26)
- * قلة أوراقها
 - * القدرة على تخزين المياه .

(ب) قارن بين كل من :- (4 درجات ويكتفى بنقطتين) (ص 21)

المعيار	خطوط الطول	دوائر العرض
التعريف	خطوط وهمية ترسم على الكرة الأرضية وتقسّم الكرة الأرضية إلى قسمين شرقي وغربي .	خطوط وهمية ترسم على الكرة الأرضية و تقسم الكرة الأرضية إلى قسمين شمالي وجنوبي .
العدد	360 خط	180 دائرة

(ج) اكتب فيما يلي :-

- 1- نصوص اتفاقية معاهدة الحماية البريطانية للكويت سنة 1899 . (درجتين ويكتفى بنقطتين) (ص 62)
- ألا يتنازل حاكم الكويت او يبيع او يؤجر أي جزء من اراضي الكويت دون موافقة بريطانيا
 - ألا يستقبل حاكم الكويت او خلفائه ممثلين عن أي دولة اجنبية دون موافقة بريطانيا
 - حماية بريطانيا للكويت من أي خطر خارجي .
- 2- سفينة البغلة من أفضل أنواع السفن المستعملة في رحلات السفر قديما . (ص 34)
- متانتها وقدرتها على نقل الحمولة الكبيرة .
 - قلة تعرضها للاخطار البحرية

مجموع درجات السؤال الخامس

12

انتهت الأسئلة مع تمنياتنا لكم بالتوفيق ..



5